

**Тема урока**  
**«Африка-самый**  
**жаркий материк»**

**7 класс**

**Цыренжапова Л.С.,  
учитель МБОУ «Усть-Кяхтинская СОШ»**

**Задание: назовите географические объекты, характеризующие ГП Африки**



## **Береговая линия** **Африки**

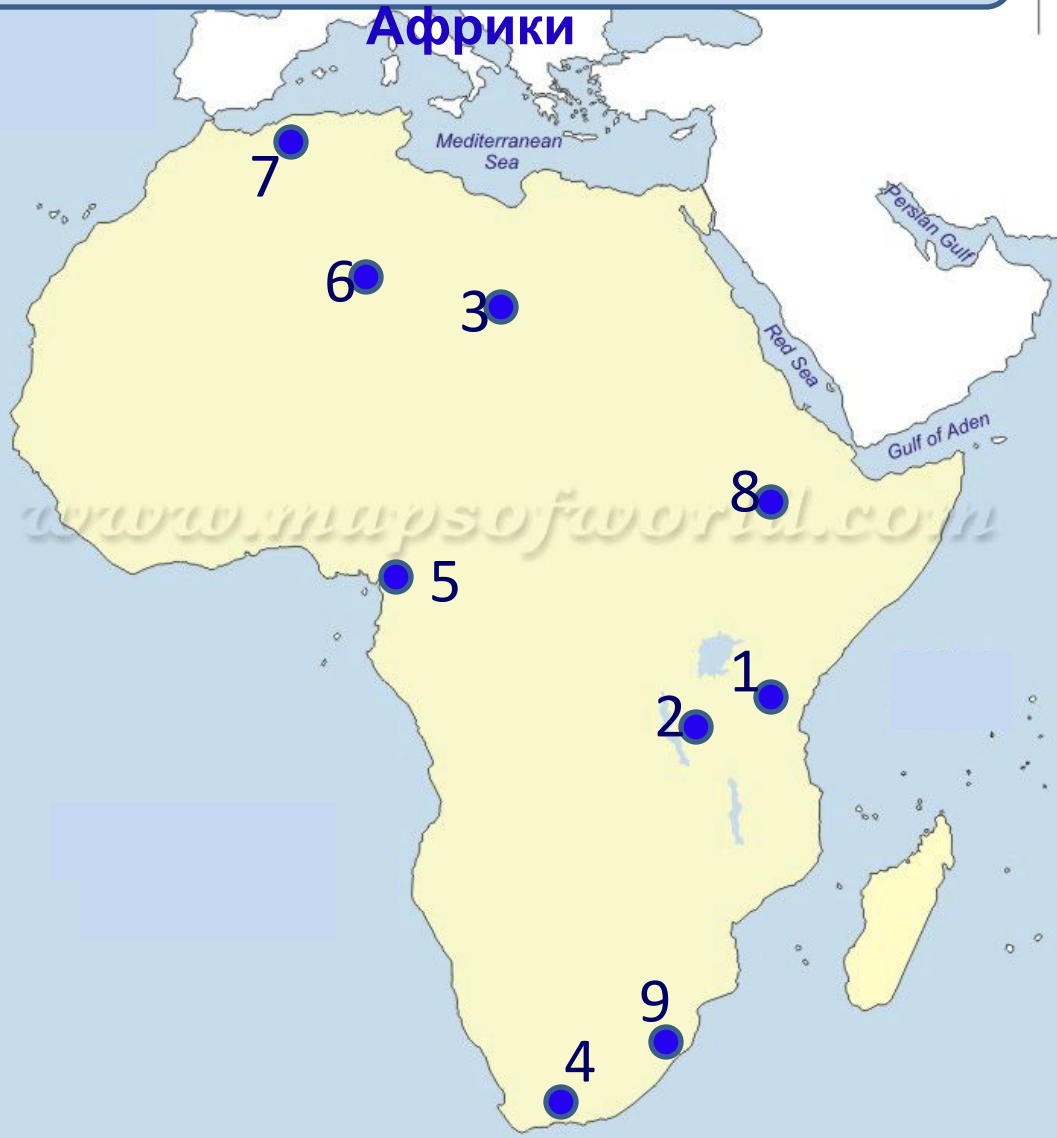
1. Гибралтарски
2. м. Альмади
3. Атлантический
4. Гвинейский
5. м. игольни
6. Мадагаскар
7. Мозамбикский
8. Индийский
9. Сомали
10. м. Рас-Хафун
11. Баб-эль-Мандебский
12. красное
13. Суэцкий
14. Средиземное
15. м. Бен-Секка

**Задание:** назовите географические объекты, характеризующие рельеф



# Рельеф Африки

**Африки**

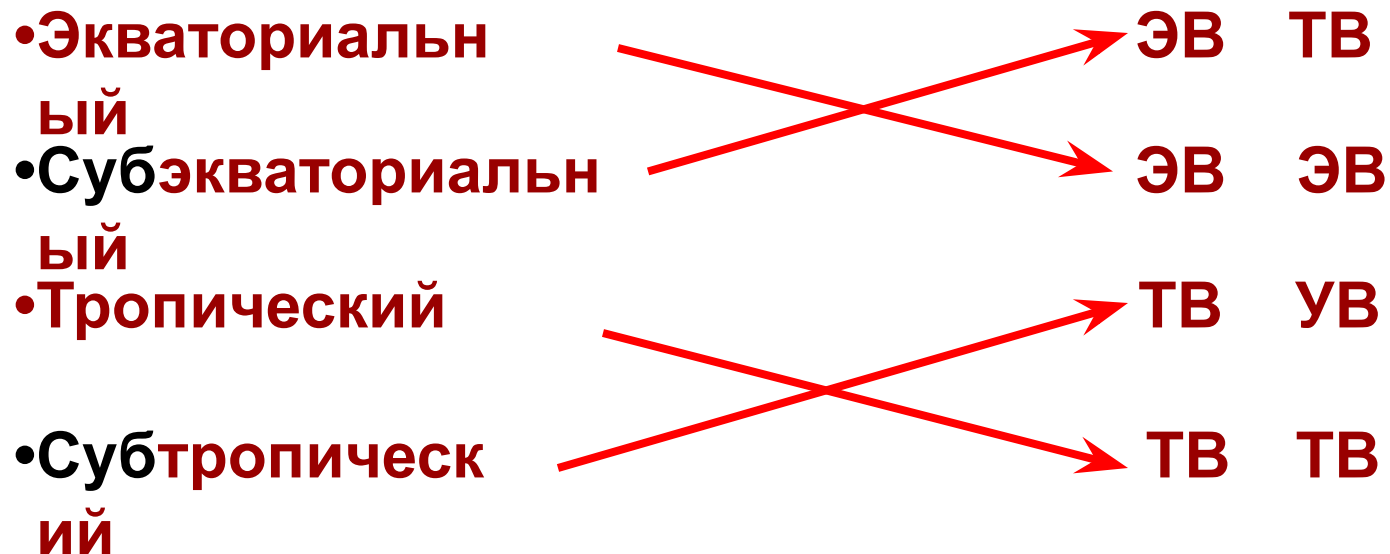


1. Килиманджаро
2. Восточно-Африканское  
Тибести
3. Капские горы
4. Камерун  
Ахаггар
5. Атлас
6. Эфиопское
7. Драконовы
8. Горы
- 9.


# Установите соответствие

Климатический  
пояс

Воздушные массы  
летозима



# Климатообразующие факторы

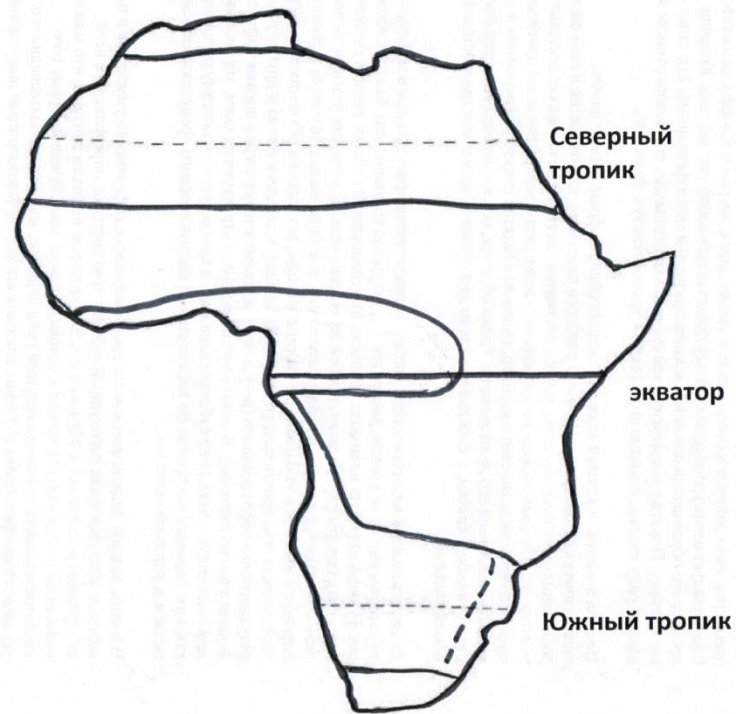


**Роль климатообразующих факторов в формировании климата Африки**

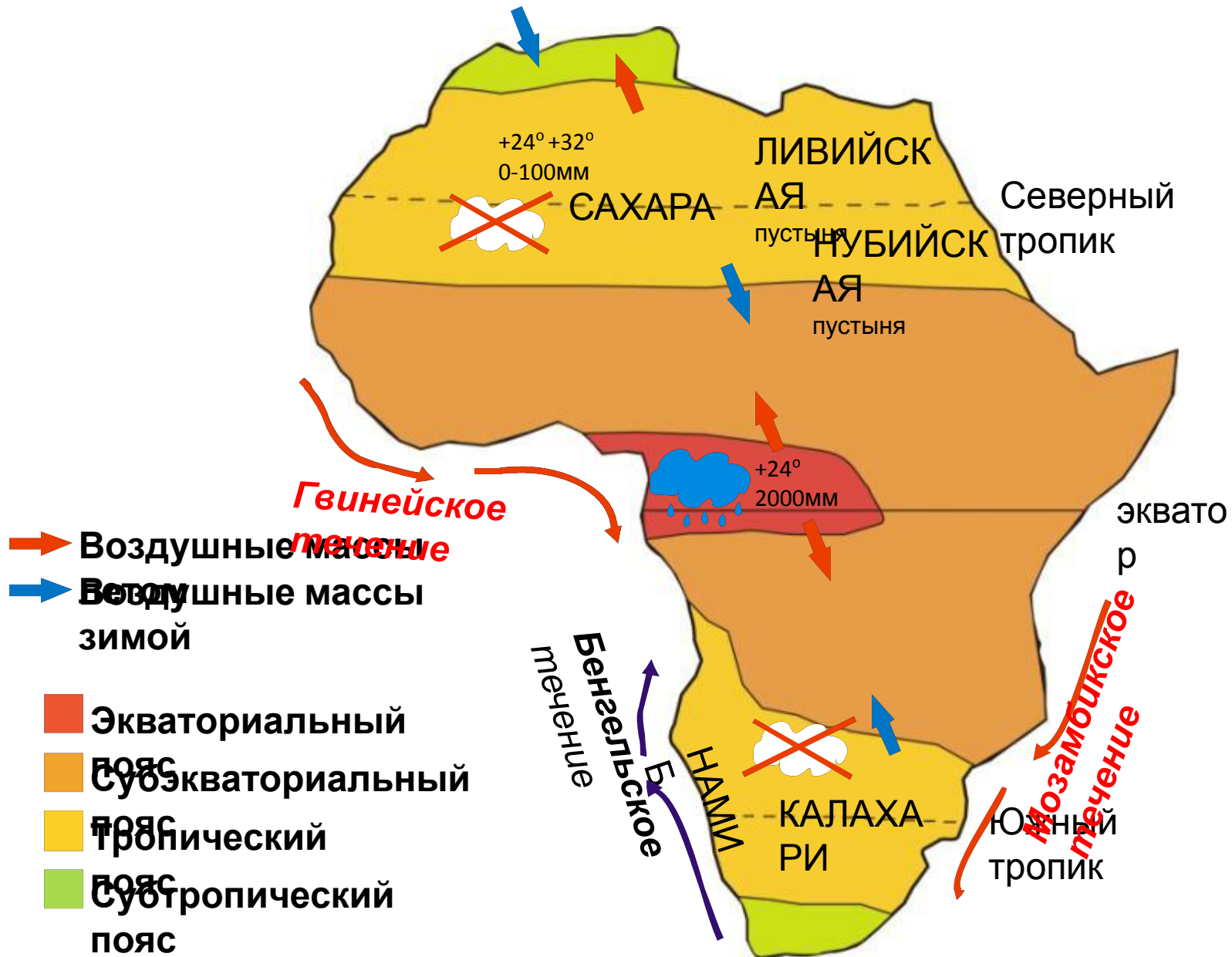
# КЛИМАТ АФРИКИ



# Климатические пояса и области Африки



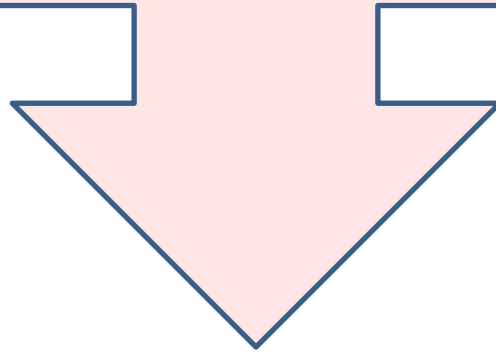
# КЛИМАТ АФРИКИ





Климатический пояс	Географическое положение	ВМ	Т°и	Т°я	Осадки за год (мм)	Режим осадков	Погода
Экваториальный	Бассейн реки Конго и побережье Гвинейского залива	ЭВ весь год	+24	+24	1000 – 2000 и более	Круглый год	Жарко, влажно круглый год
Субэкваториальный	До 15-20° с.ш. и ю.ш.	Л: ЭВ З: ТВ	+24	+24	500 - 1000	Летом	Л: -жарко, влажно З: – жарко, сухо
Тропический	До 30-33° с.ш. и ю.ш.	ТВ	+32	+16	0 - 250	Мало	Жарко, сухо круглый год
Субтропический	Крайний север и крайний юг материка	Л: ТВ З: УВ	+24	+8	500 - 1000	Зимой	Л: жарко –сухо З: тепло и влажно

- большая часть Африки расположена между тропиками, где солнце 2 раза в год стоит в зените;
- среднемесячная температура на материке не опускается ниже  $+8^{\circ}\text{C}$ ;
- в Африке нет холодных климатических поясов



**Африка – самый  
жаркий материк**



# ГЕОГРАФИЧЕСКИЙ ДИКТАНТ

1. Определите, к какому климатическому поясу относится следующее описание:

Высокая температура и большая влажность воздуха весь год;

2. С приходом экваториального воздуха в этом климатическом поясе начинается дождливое лето;

3. Какие воздушные массы не участвуют в формировании климата Африки?

4. Какой климатический фактор доказывает, что «Африка – самый жаркий материк»;

5. Причина образования пустыни Намиб;

6. Постоянные ветры, формирующие климат тропического пояса.

7. Пустыня, образовавшаяся в результате совместного действия всех климатообразующих факторов.

## Ответы

1. Экваториальный пояс

2. Субэкваториальный

3. Арктический (антарктический)

4. Географическая широта

5. Холодное течение

6. Пассаты

# Критерии оценок

**7 правильных ответов – «5»**

**5-6 правильных ответов – «4»**

**4 правильных ответа – «3»**

**3 правильных ответа – «2»**

- Я понял учебный материал, могу объяснить своим одноклассникам – **синий кружок**
- Я понял учебный материал, но объяснить смогу с помощью учителя – **желтый кружок**
- Я не понял, мне нужна помощь – **красный кружок**

**Спасибо за  
сотрудничество!**

# Домашнее задание

1. Параграф 26

2. Составить описание климата отдельных территорий материка по плану (учебник стр. 312)

1,2 группы – о. Мадагаскар;

3,4 группы – п-в Сомали