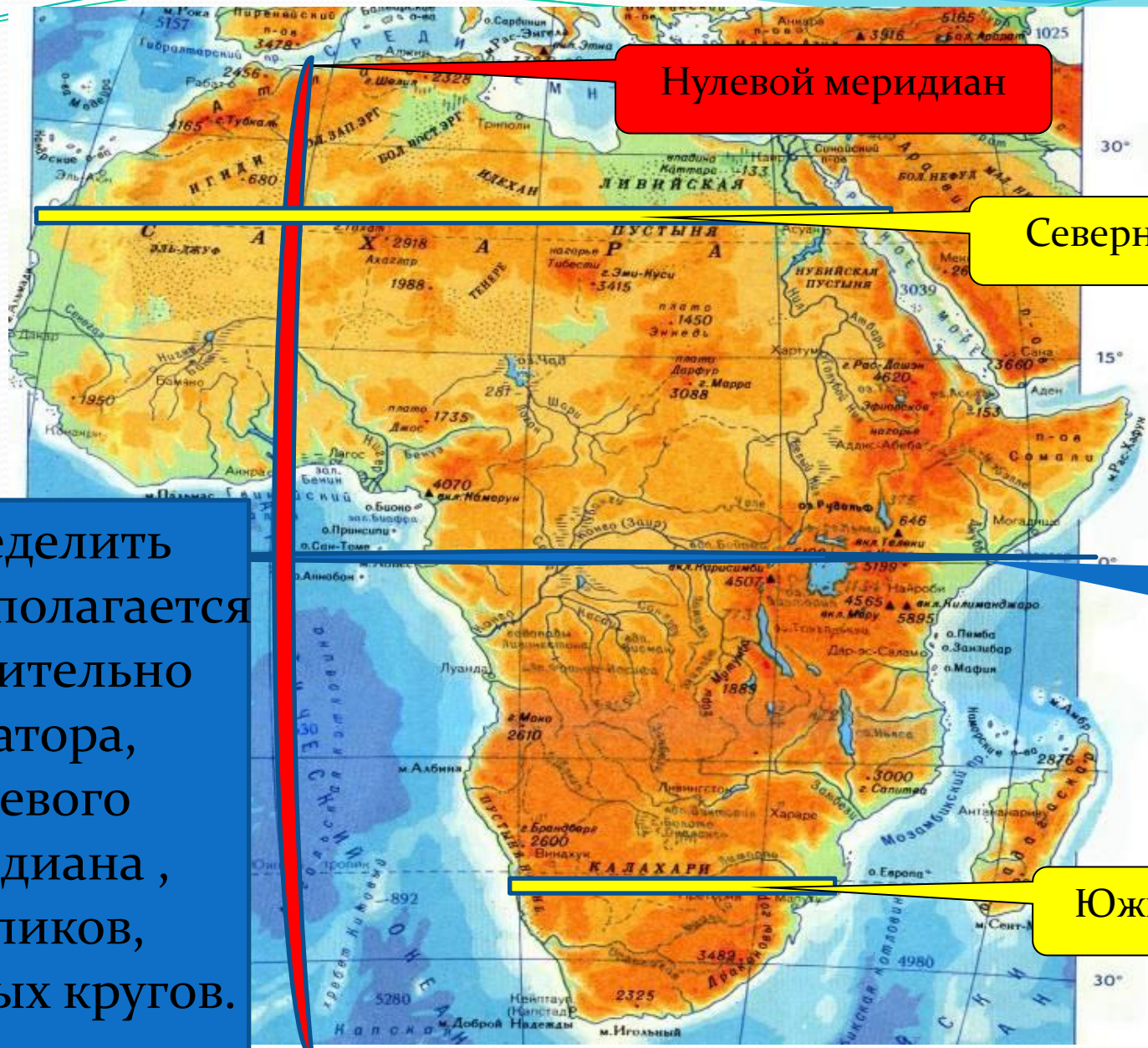


# Географическое положение Африки

Разработала учитель географии: Лапухина Л.Н.

Определить  
как располагается  
относительно  
экватора,  
нулевого  
меридиана,  
тропиков,  
полярных кругов.



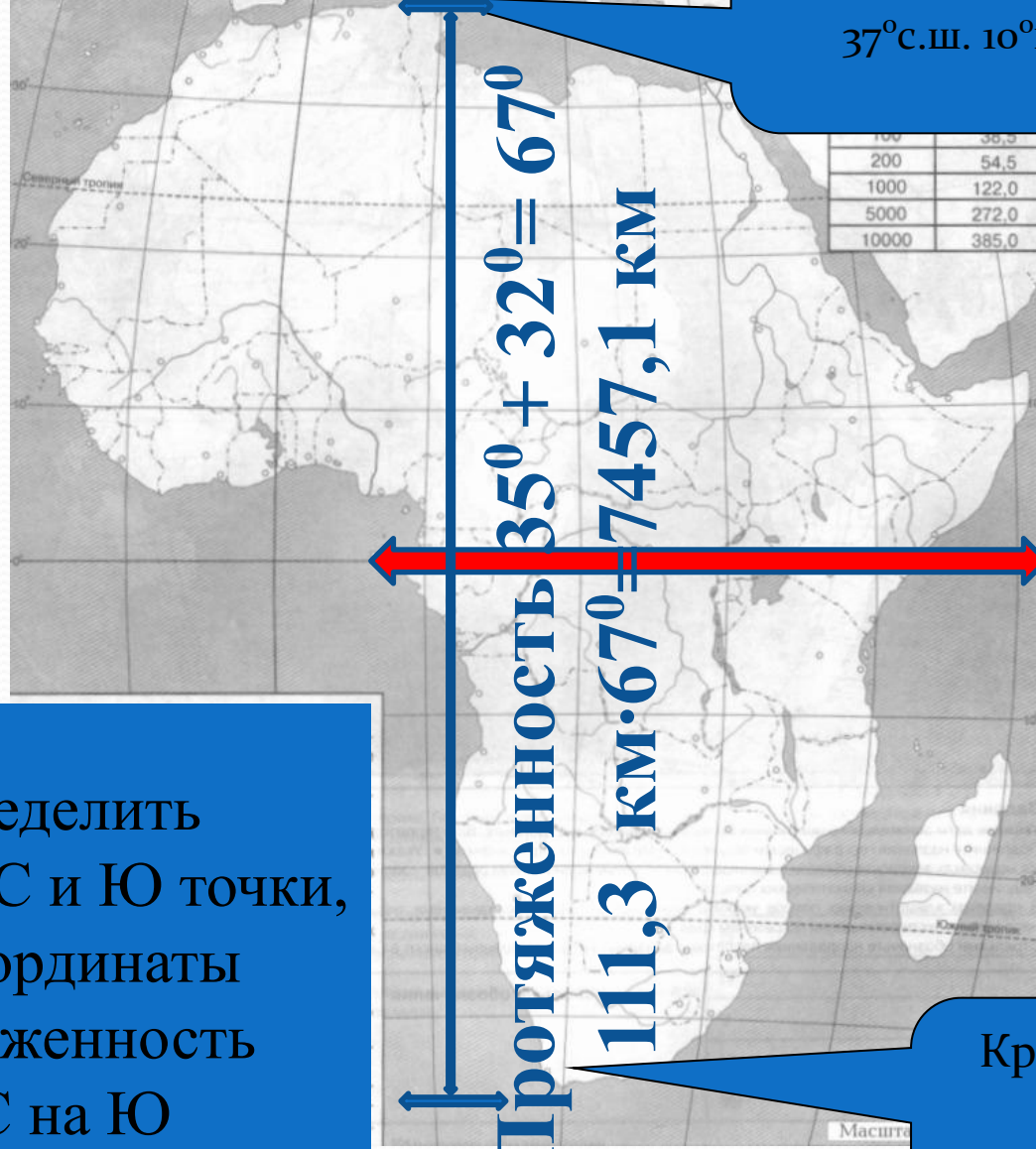
Нулевой меридиан

Северный тропик

экватор

Южный тропик

Определить  
-крайние С и Ю точки,  
их координаты  
-протяженность  
с С на Ю  
в градусах и  
километрах



Крайняя северная  
точка  
Мыс Бен-Секка  
 $37^{\circ}$ с.ш.  $10^{\circ}$ в.д.

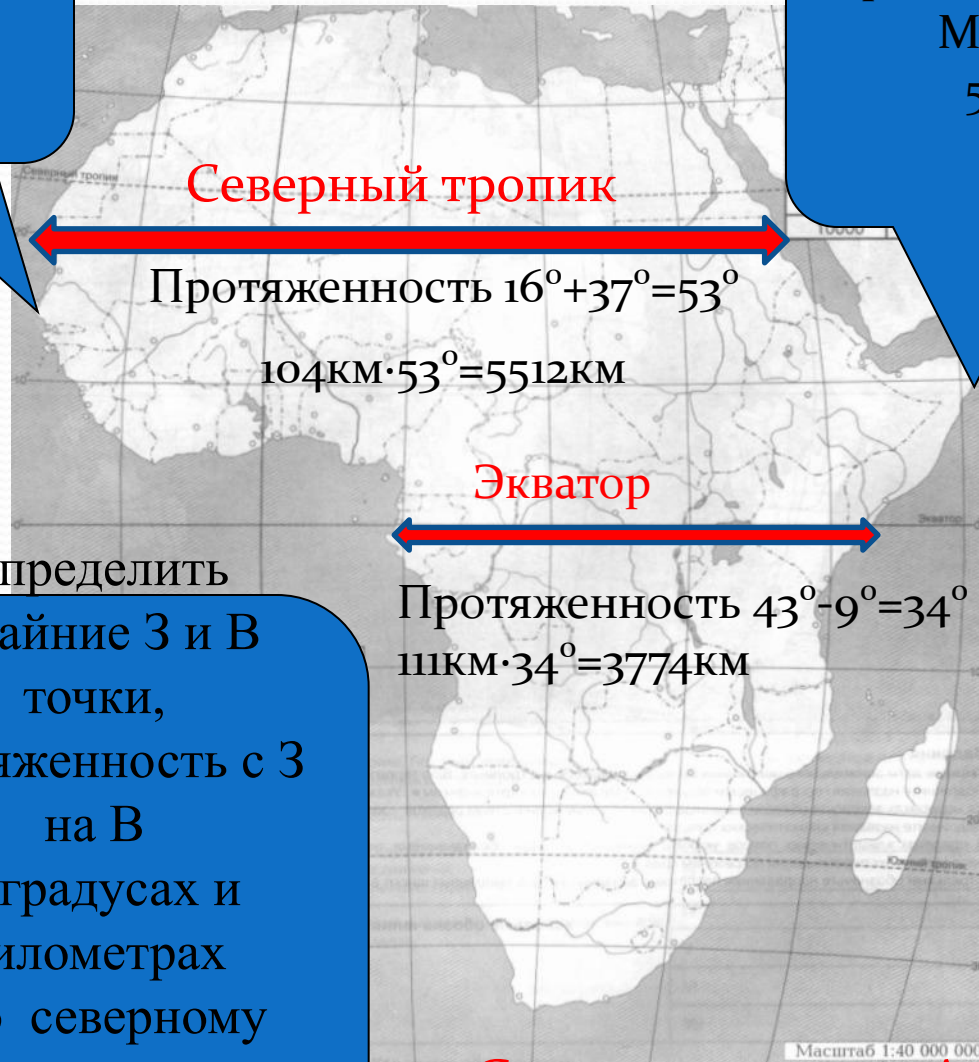
Протяженность  $35^{\circ} + 32^{\circ} = 67^{\circ}$   
 $111,3 \text{ км} \cdot 67^{\circ} = 7457,1 \text{ км}$

экватор

Крайняя южная  
точка  
мыс Игольный  
 $35^{\circ}$ ю.ш.  $20^{\circ}$ в.д.

Крайняя западная точка  
мыс Альмади  
 $17^{\circ}$ з.д.  $15^{\circ}$ с.ш.

Крайняя восточная точка  
Мыс Рас-Хафун  
 $51^{\circ}$ в.д.  $10^{\circ}$ с.ш.



Определить  
-крайние З и В  
точки,  
протяженность с З  
на В  
в градусах и  
километрах  
по северному  
тропику  
и экватору

Северная часть Африки гораздо  
шире южной

# Климатические пояса Африки



**Африка по климатическим особенностям жаркий материк т.к. расположена большей частью в тропическом и субэкваториальном климатических поясах. Исходя из этого растительность и животный мир будет состоять из теплолюбивых видов.**

Гибралтарский пролив

Суэцкий канал

Средиземное море

Баб-эль-Мандебский пролив

Атлантический океан

Красное море

Аденский залив

Гвинейский залив

П-ов Сомали

Индийский океан

Мозамбикский пролив

о. Мадагаскар

Определить географическое положение относительно других объектов:

- какие океаны омывают,
- какие крупные моря, заливы и проливы они образуют
- изрезанность береговой линии
- крупные острова и полуострова

Глубина (в м)	Видимость горизонта (в км)
2	5,4
10	12,2
100	38,5
200	54,5
1000	122,0
5000	272,0
10000	385,0

Масштаб 1:40 000 000



От С. Америки - Африка на Ю-В

От Евразии - Африка на Ю-З

От Ю. Америки - Африка на В

От Антарктиды - Африка на С

От Австралии - Африка на С-В

# Ответьте на вопросы

## 1. Крайняя северная точка Африки

- А) м. Игольный    Б) м. Бен-Секка    В) м. Рас-Хафун    Г) м. Альмади

## 2. Крайняя восточная точка Африки

- А) м. Игольный    Б) м. Бен-Секка    В) м. Рас-Хафун    Г) м. Альмади

## 3. Протяженность Африки с севера на юг более

- А) 6000 км    Б) 7000 км    В) 8000 км    Г) 9000 км

## 4. Африка отделяется от Европы проливом:

- А) Мозамбикским    Б) Магеллановым    В) Гибралтарским    Г) Баб-эль-Мандебским

## 5. Нулевой меридиан пересекает Африку:

- А) на западе    Б) на востоке    В) посередине    Г) не пересекает

## 6. Материк Африка большей частью расположен в полушарии:

- А) северном    Б) южном    В) западном    Г) восточном

## 7. Территория материка Африка расположена в экваториальном, \_\_\_\_\_, тропических и \_\_\_\_\_ климатических поясах Северного и Южного полушарий.

## 8. Благодаря своему географическому положению Африка:

- А) самый сухой материк    Б) самый жаркий материк  
В) самый влажный материк    Г) самый холодный материк