



**Географический диктант**

**ВОДА на ЗЕМЛЕ**

Задание:


Дополните предложения  
недостающими фразами

1. Вода на Земле встречается в  
трех состояниях: . . . , . . . , . . . .





## 2. При замерзании вода ...



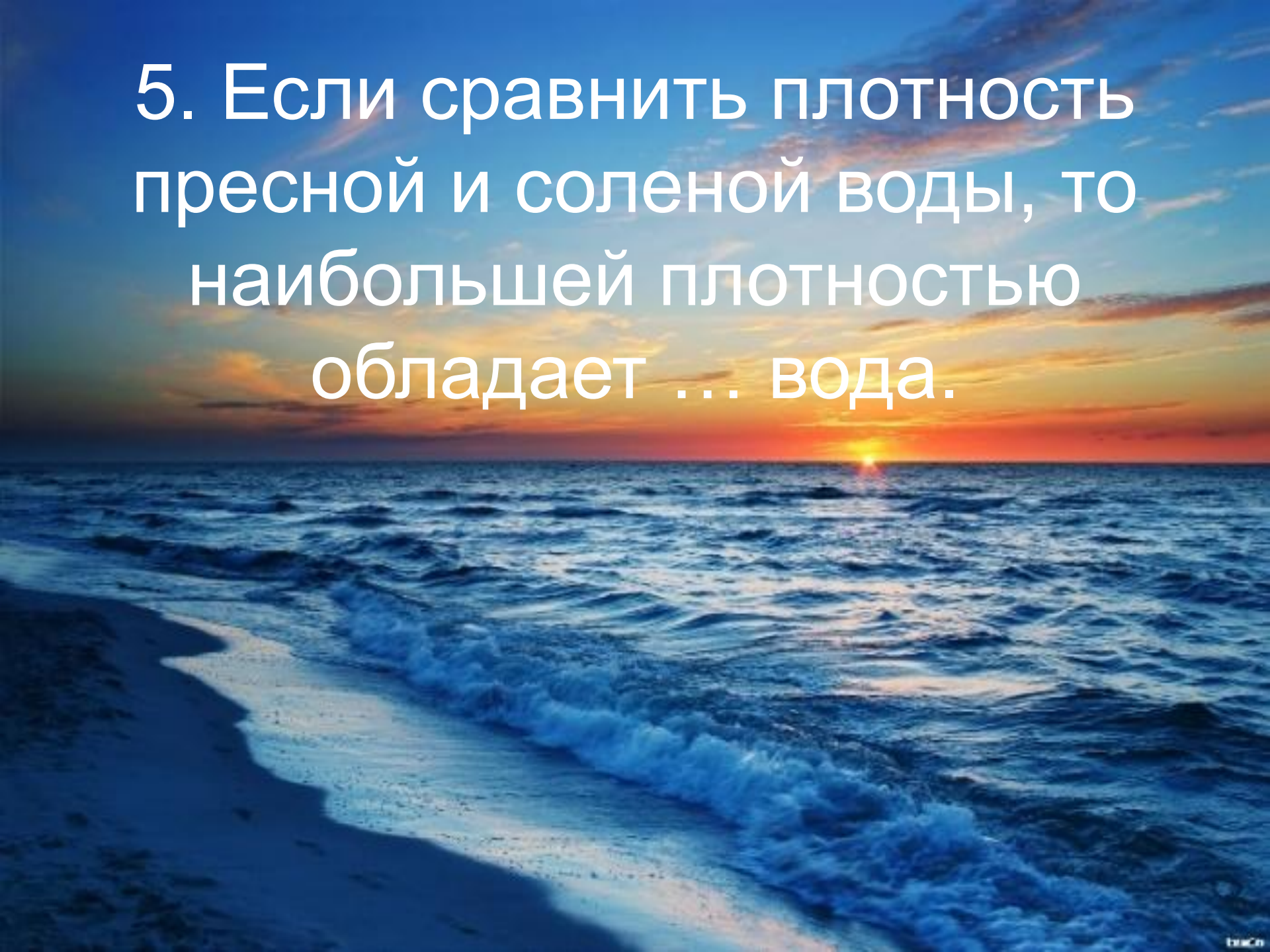
3. 96% Гидросферы Земли  
приходится на воды ...



4. Перенос водяного пара и облаков на сушу с последующим выпадением осадков и возврате воды посредством поверхностного или подземного стока называется ... круговоротом воды.



5. Если сравнить плотность пресной и соленой воды, то наибольшей плотностью обладает ... вода.



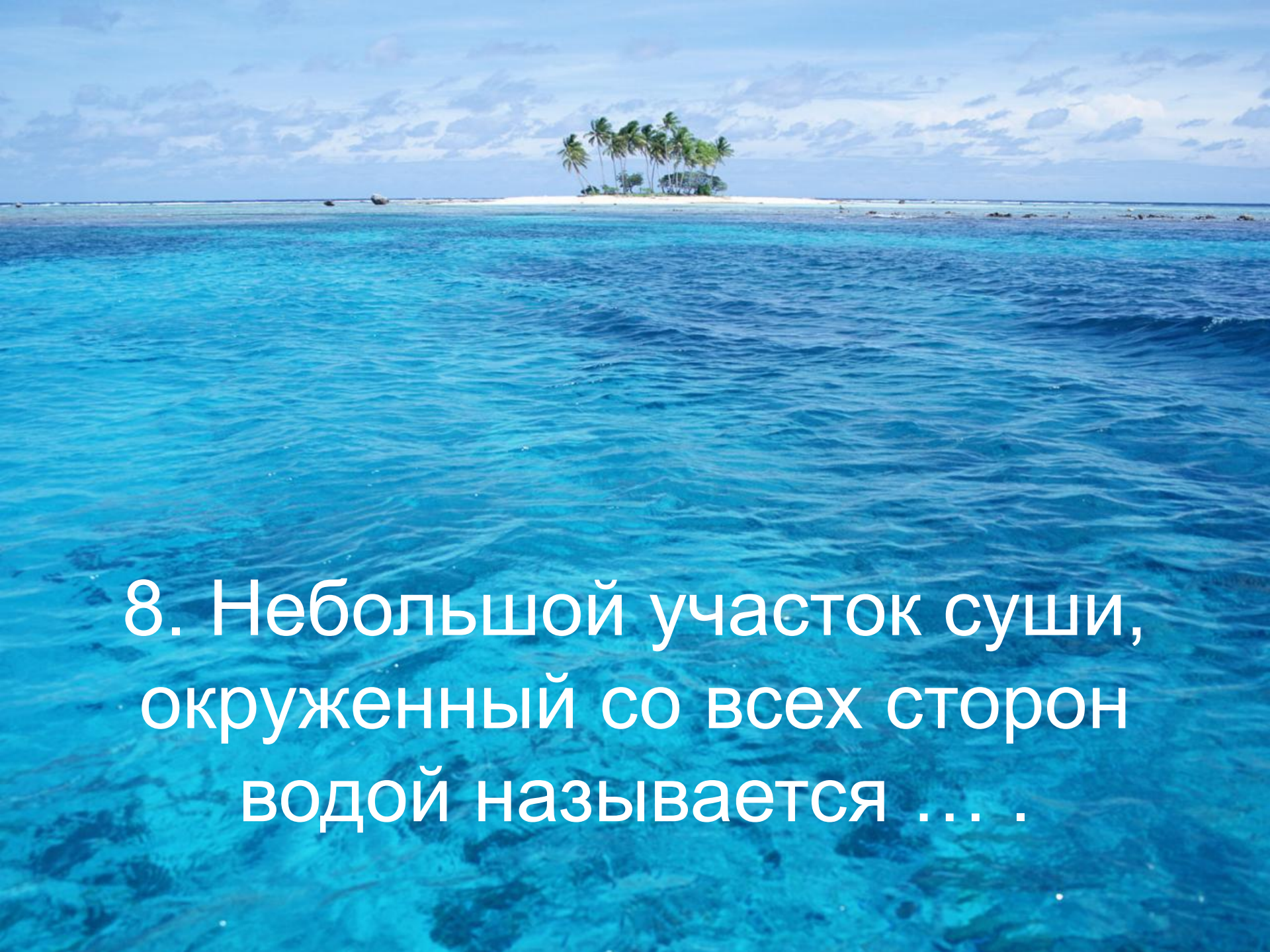
6. На нашей планете  
насчитывается ... океанов.



An aerial photograph of a vast, turbulent ocean. The water is a deep, dark blue, with numerous white-capped waves breaking across the surface. The perspective is from a high angle, looking down at the sea. The sky is a pale, overcast grey, suggesting a cloudy day. The overall scene conveys a sense of immense scale and natural power.

7. Самый большой из океанов — это ... океан.



A photograph of a small, isolated island in the middle of a vast, clear blue ocean. The island is covered in lush green vegetation, including several tall palm trees. The water is exceptionally clear, showing various shades of blue and turquoise, indicating a shallow reef flat or lagoon. The sky is bright blue with scattered white clouds. The overall scene is serene and idyllic.

8. Небольшой участок суши,  
окруженный со всех сторон  
водой называется . . . .



9. Острова, расположенные группой образуют ... .




10. Участок суши, окруженной с трех сторон водой, называют ...





11. На картинке изображение ... океана.



A white starfish is centered on a bed of smooth, dark blue stones. The stones vary in size and are scattered across the frame, creating a textured background. The starfish has five arms and is positioned slightly to the right of the center.

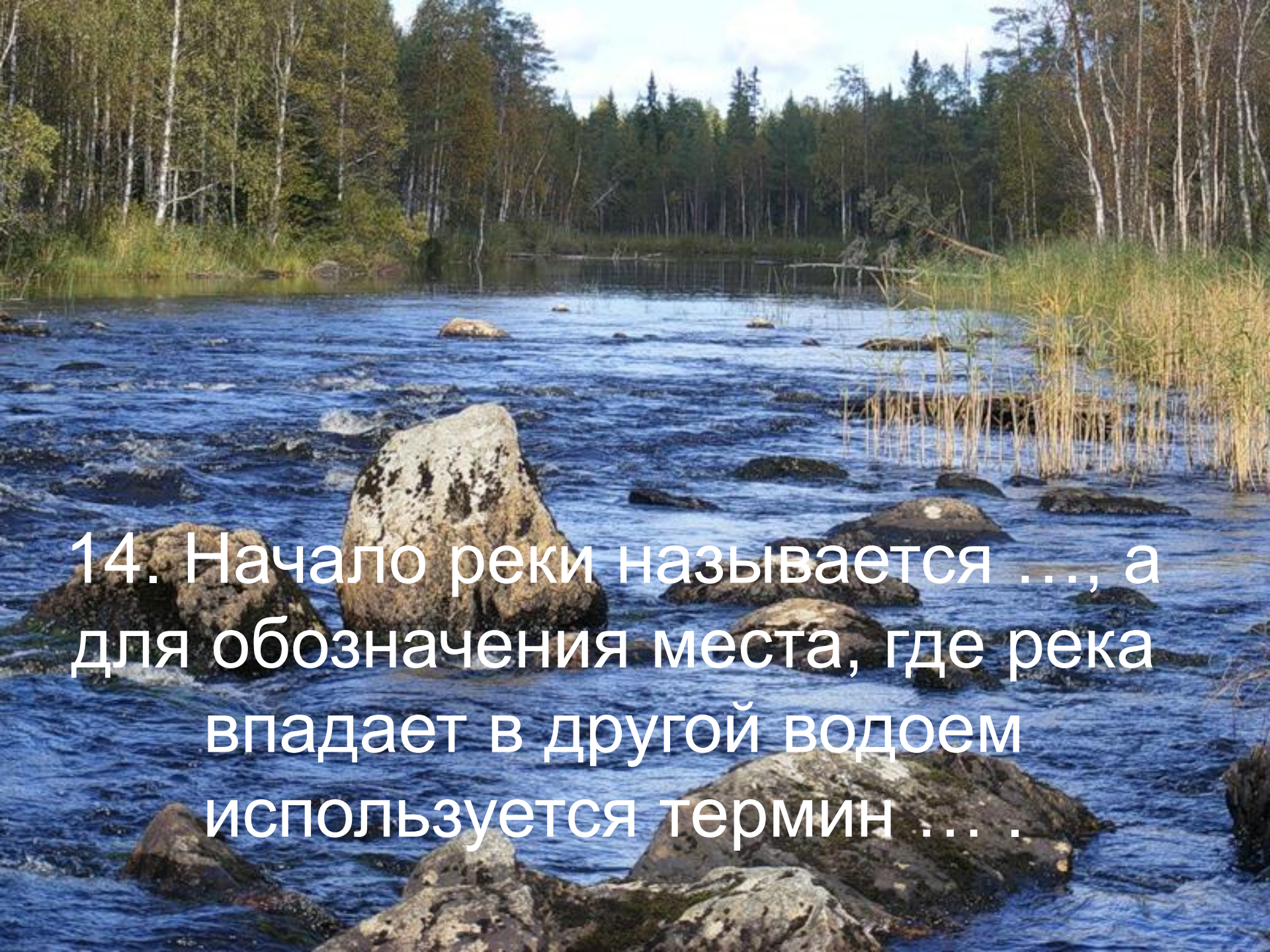
12. Черное и Балтийское моря  
относятся к бассейну ... океана.



13. Воды реки Таштып в  
конечном итоге попадают в ...  
океан.







14. Начало реки называется ..., а для обозначения места, где река впадает в другой водоем используется термин ... .



15. Буквой А на рисунке  
обозначены подземные ...  
ВОДЫ.





16. В Хакасии находится одна из крупнейших в мире ..... ГЭС.



# КОНЕЦ ДИКТАНТА

