

Урок-путешествие по Африке.

**Учитель высшей
квалификационной
категории В.Е.Ликучева**



ЦЕЛЬ:

Проверить и закрепить знания и умения по теме «Африка»



*Плывем к неведомому берегу,
Ах, как прекрасен этот материк.
Мы изучали долго Африку,
Пора увидеть нам ее без книг.*

Географический пролив



О.Номенклатурный



***В географии чертеж
На ковер большой похож.
Параллели и меридианы
Пересекают разные страны.
Чтобы карту Африки создать.
Географическое положение нужно описать.***

Задание 1: нанести объекты, характеризующие географическое положение материка.

**Атлантический
океан**

Индийский океан

Северный тропик

Южный тропик

Экватор

**Начальный
меридиан**

Средиземное море

Красное море

Гвинейский залив

Остров Мадагаскар

**Мозамбикский
пролив**

Мыс Бен - Секка

Мыс Рас - Хафун

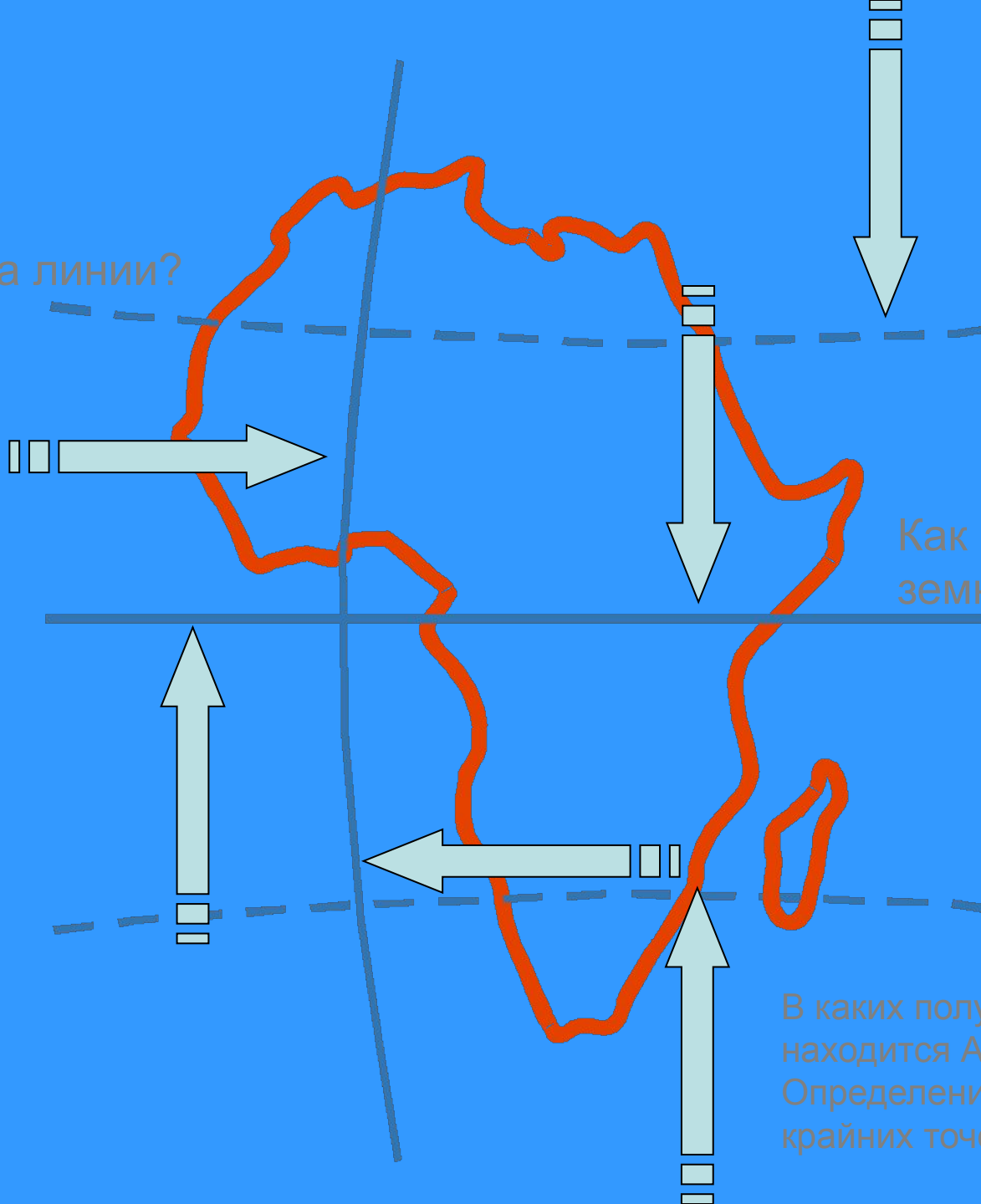
Мыс Альмади

Мыс Игольный



**Что ж, вышли вы из положенья,
Карту создали в одно мгновенье.
А теперь без промедленья,
Опишите устно Африки географическое
положение.**

Что это за линии?



Как они делят земной шар?

В каких полушариях находится Африка?
Определение координат крайних точек материка

Крайние точки




Географическое положение Африки



Вставьте пропущенные слова

- Африку почти посередине пересекает и поэтому она находится вИ..... полушариях
- Африку нулевой меридиан пересекает вчасти и она расположена в и полушариях. .
- Африку омывают и океаны
- Африка удалена от всех материков, кроме



***Пусть сопутствует удача нам в пути,
Нелегкий путь , ребята, предстоит пройти.
А вот и остров Успеха впереди,
Нам его необходимо обойти.***

Географический пролив

О. Номенклатурный

О. Успеха





Задание 2: Найдите лишний объект в рельефе Африки.

- 1. Низкая Африка, Средняя Африка, Высокая Африка.**
- 2. Капские горы, Драконовы горы, Альпийские горы.**
- 3. Бразильское плоскогорье, Эфиопское нагорье, Нагорье Тибести.**
- 4. Атлас, нагорье Ахаггар, Мадагаскар.**
- 5. Везувий, Килиманджаро, Камерун.**
- 6. Восточно-Африканское плоскогорье, Эфиопское нагорье, Атлас**


Рельеф Африки

- | | | |
|-------------------------------------|-------------------|-----------------|
| 1. Низкая Африка | Средняя Африка | Высокая Африка |
| 2. Капские горы | Драконовы горы | Альпийские горы |
| 3. Бразильское плоскогорье | Эфиопское нагорье | |
| Нагорье Тибести | | |
| 4. Атлас | Нагорье Ахаггар | Мадагаскар |
| 5. Везувий | Килиманджаро | Камерун |
| 6. Восточно-Африканское плоскогорье | | |
| Эфиопское нагорье | Атлас | |

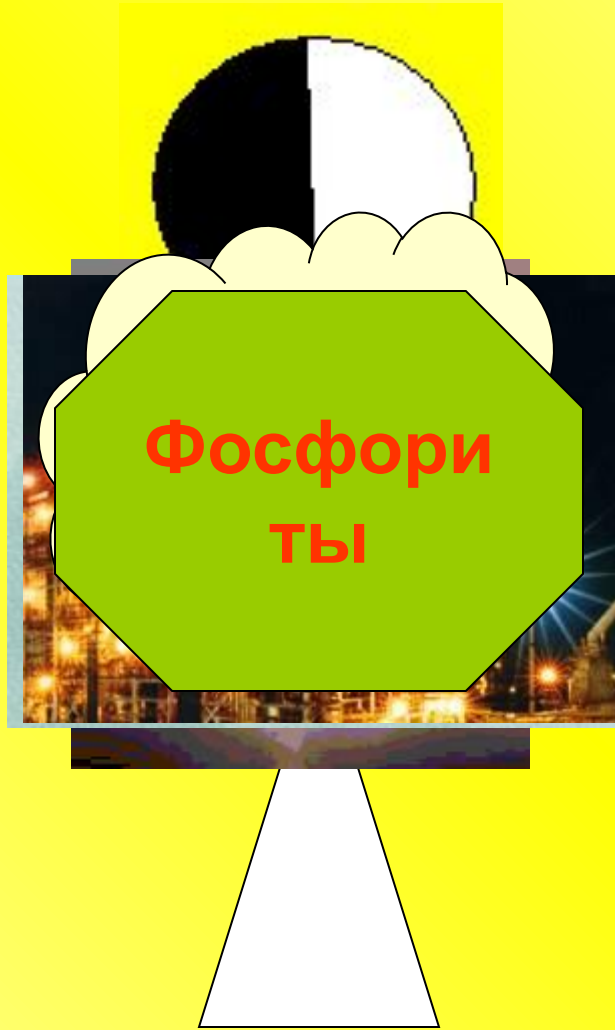


**Внимание, в иллюминаторе виднеются
необычные фигуры. Африка страна
сокровищ. О чем идет речь?**


1




2




3




4



5



6




**Путешествие свое мы продолжаем,
К Солнечному острову подплываем.
Метеорологи Африки здесь работают и
живут.
Прогноз погоды в разные точки Земли
передают.**

Географический пролив

О. Номенклатурный



О. Успеха



О. Солнечный



1. Занимает полосу между 20 с.ш. и 20 ю.ш.
2. Расположен в районе тропиков
3. Занимает бассейн р.Конго и побережье Гвинейского залива
4. Лежит на самом севере и юге материка
5. Только одно время года - лето
6. Погода круглый год жаркая и сухая
7. Лето жаркое и сухое, зима тёплая и влажная
8. Два сезона – влажный и сухой
9. Весь год господствуют пассаты
10. После полудня почти всегда идёт ливень
11. Весь год мало осадков
12. Осадки в основном выпадают летом

экваториальный субэкваториальный тропический субтропический

***Мы берега Пиратов огибаем,
Но в душе совсем не унываем.
Вот пираты появились на пути,
Нам их нужно как-то обойти.
Чтобы клад продолжить нам искать,
Перестрелки нам не избежать.***

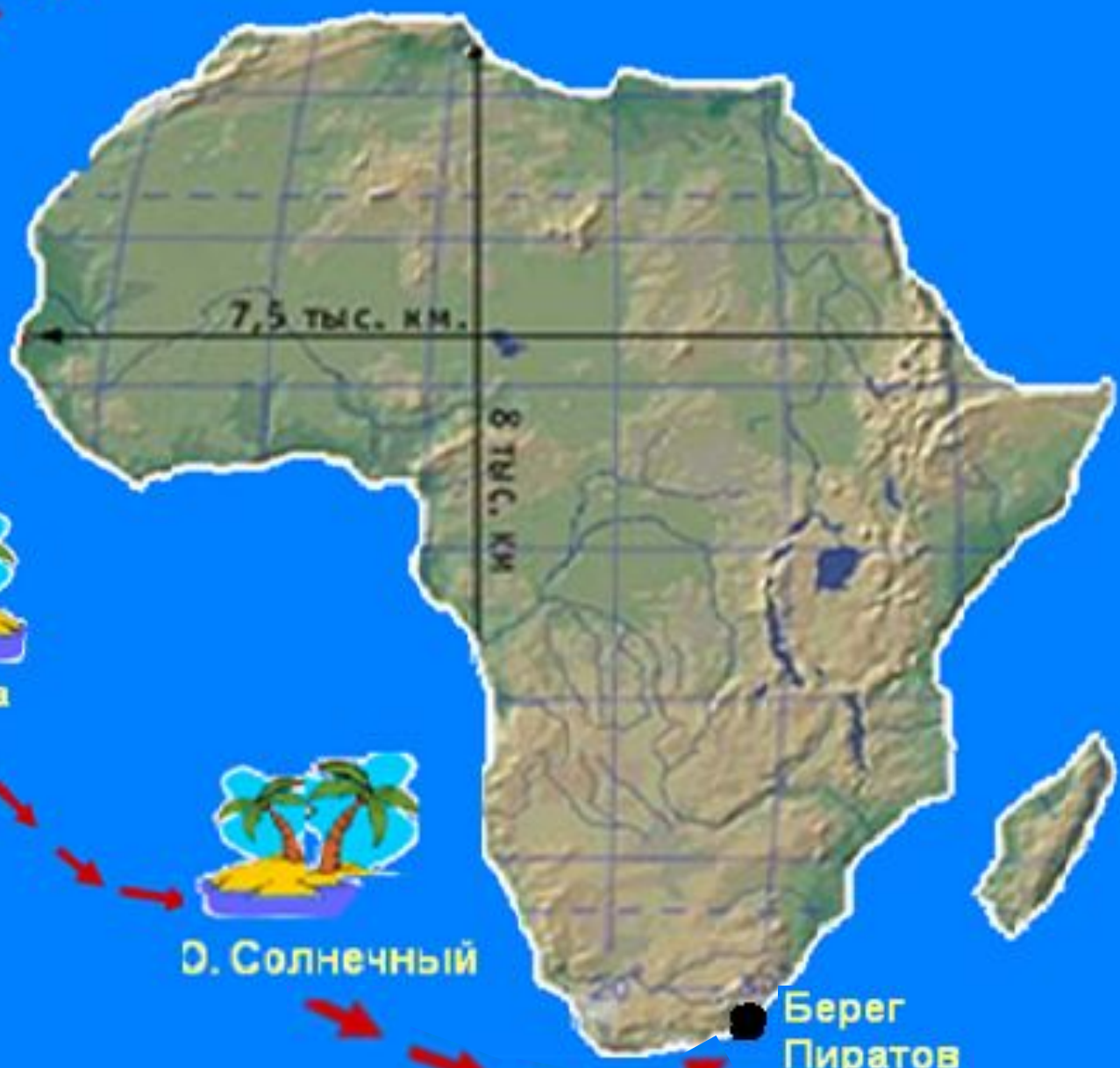
Географический пролив

О. Номенклатурный

О. Успеха

О. Солнечный

Берег Пиратов



Задание 4: Ответить на вопросы о внутренних водах Африки.

- 1. Самая длинная река мира?**
- 2. Самое длинное пресное озеро мира?**
- 3. Самая полноводная река Африки? Почему?**
- 4. Третья по длине и площади бассейна река Африки?**
- 5. Какое озеро в Африке самое глубокое? Почему?**
- 6. Назовите мелководное озеро Африки? От чего меняется ее площадь?**
- 7. Самое большое озеро Африки?**
- 8. Какая река Африки имеет цветные притоки?**
- 9. Назовите крупнейший водопад Африки? Какова его высота?**
- 10. Почему река Нил, хотя и протекает через пустыню, не пересыхает в течение года?**
- 11. Самая крупная из рек Африки, текущая в Индийский океан?**
- 12. Крупное озеро в Мозамбике, Танзании и Малави?**

***Островок Туристов в океане есть,
Отдыхающих на нем не перечесть.
Если нам на бережок его сойти,
Сувениры с собою сможем увести.***

Географический пролив

О. Номенклатурный

О. Успеха

О. Солнечный

О. Туристов

Берег Пиратов



Природные зоны Африки.

Определите природные зоны

I



II



Экваториальные леса



Саванны



Пустыни



На корабле опять проблемы. Корабельный повар сообщил, что на борту кончились запасы воды и продовольствия. Придется причалить к берегу острова Трудяг. Местное население очень много работает и обеспечивает продуктами многие страны материка. Они помогут нам, если мы поможем им рассортировать груз, предназначенный для пяти регионов Африки.

Географический пролив

О. Номенклатурный

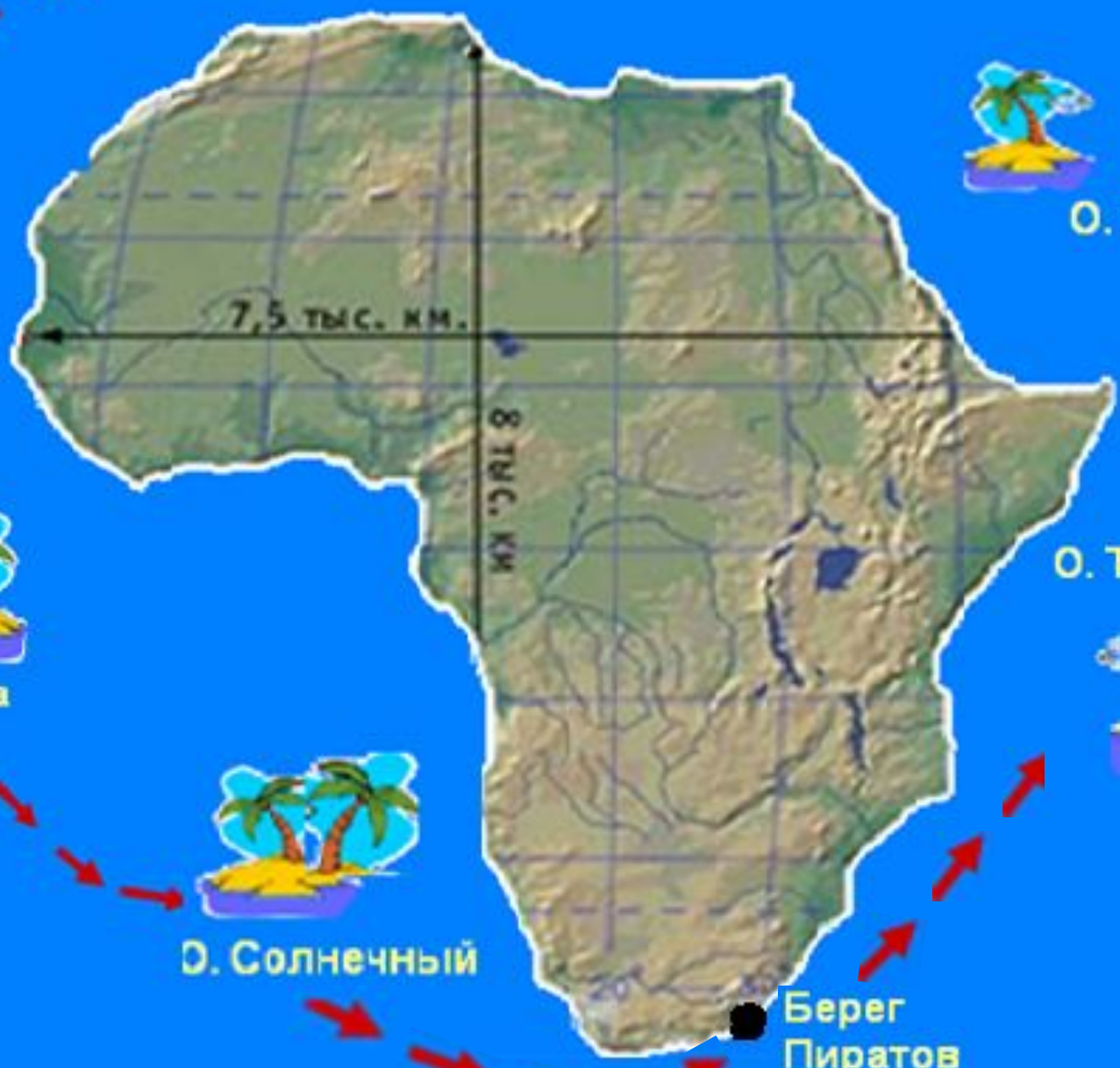
О. Трудяг

О. Туристов

О. Успеха

О. Солнечный

Берег Пиратов



Регионы Африки

Соотнеси страны с регионами Африки

Северная
Африка

Западная
Африка

Центральна
я
Африка

Восточная
Африка

Южная
Африка

Страны

Египет
Чад
ЮАР
Судан
Эфиопия
Танзания
Алжир
Мали
Ангола
Мадагаскар
Нигер
Конго
Марокко
Нигерия
Мозамбик

О какой стране идет речь?

- Государство в Северной Африке. На арабском языке звучит как аль-Джезаир ("острова"); это название своим возникновением обязано небольшим островам вблизи столицы, портового города, который назван также как и страна. Около 4/5 территории страны занимает пустыня Сахара..



Алжир

О какой стране идет речь?


- Страна в Восточной Африке, не имеющая выхода к морю.
- Старейшая христианская страна в Африке и одно из старейших государств в мире. В отличие от других африканских стран, никогда не была колонизирована.
- Родина кофе.



Эфиопия

*Да пришлось нам постараться,
Чтобы с грузом разобраться.
Теперь, чтоб сокровища отыскать,
Нужно название острова отгадать.
Разгадав кроссворд о населении материка,
Узнаете, где спрятан клад тогда.*

Разгадай кроссворд



1. Народы, населяющие Эфиопское нагорье.
2. Страны, лишённые политической и хозяйственной самостоятельности, находящиеся в зависимости от других более развитых стран.
3. Представители европеоидной расы живут в основном на севере материка.
4. Народы экваториальных лесов, малорослы (ниже 150 см), темнокожи, коренасты.
5. Темнокожая раса.
6. Жители острова Мадагаскар.

Кроссворд «Население Африки»

¹э ф и о п ы

²к о л о н и я

³а р а б ы

⁴п и г м е и

⁵н е г р о и д ы

⁶м а л а г а с и й ц ы

***Название острова отгадали,
Так клад вы свой завоевали.
Нет ценнее сокровищ на свете,
Чем знания о нашей планете***





**Сегодня знания свои вы нам раскрыли,
Пятерки и четверки получили.**

**Стремитесь мир и дальше познавать,
И в жизни новое открывать.**

Путешествие наше состоялось.

Настало время подвести итог.

Об Африке вам многое узналось,

Надеюсь, даром не прошел урок.