

Тема: Путешествие по Евразии

Омельченко Т.А., учитель географии МБОУ «Ровеньская ООШ»

Цель: *Формирование представлений о*

...



СЕВ.АМЕРИКА

24,2 МЛН.КВ.КМ

ЕВРАЗИЯ

54 МЛН.КВ.КМ

АФРИКА

30,3 МЛН.КМ. КВ

ЮЖ.АМЕРИКА


17,8 МЛН.КВ.КМ

АВСТРАЛИЯ

9 МЛН.КВ.КМ

АНТАРКТИДА

14 МЛН.КВ.КМ



**Цель: Формирование представлений о
материке Евразия**

Задачи

***определить**

географическое положение

***выяснить**

материка

особенности природы

***научиться находить**

*географические объекты на
карте*

План действий

1. Поработаем с картой.
2. Найдем и классифицируем информацию о материке.
3. Нанесем основные географические объекты на контурную карту.

Географическое положение Евразии



Инструктивная карточка

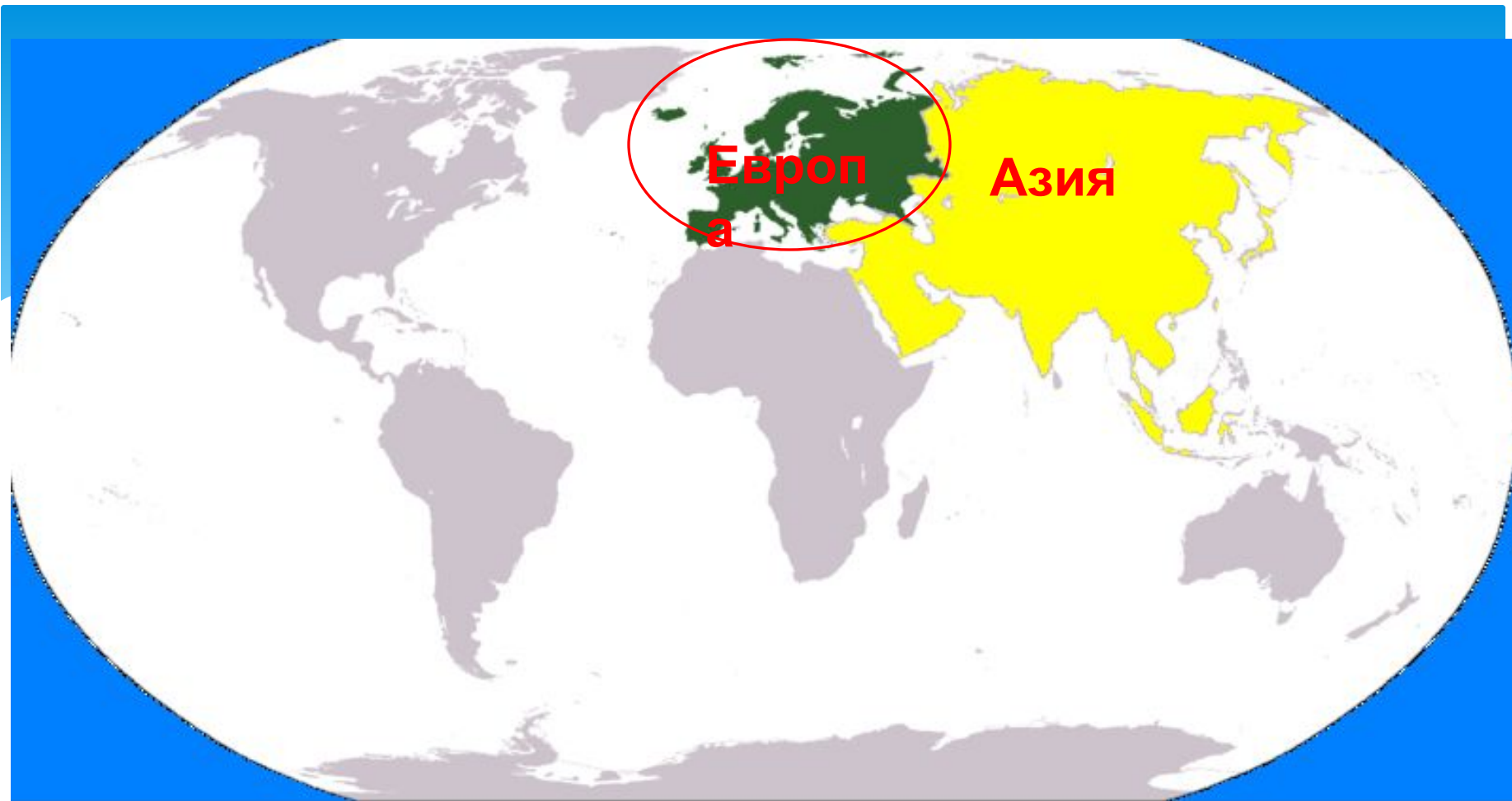
1. В каких полушариях находится?
А) относительно экватора
Б) относительно нулевого меридиана
2. Пересекается ли материк тропиками, полярными кругами
3. Какими океанами омывается?



Континент расположен в Северном полушарии. Часть островов Евразии находится в Южном полушарии.




Большая часть континентальной Евразии лежит в Восточном полушарии, хотя крайние западная и восточная оконечности материка находятся в Западном полушарии.



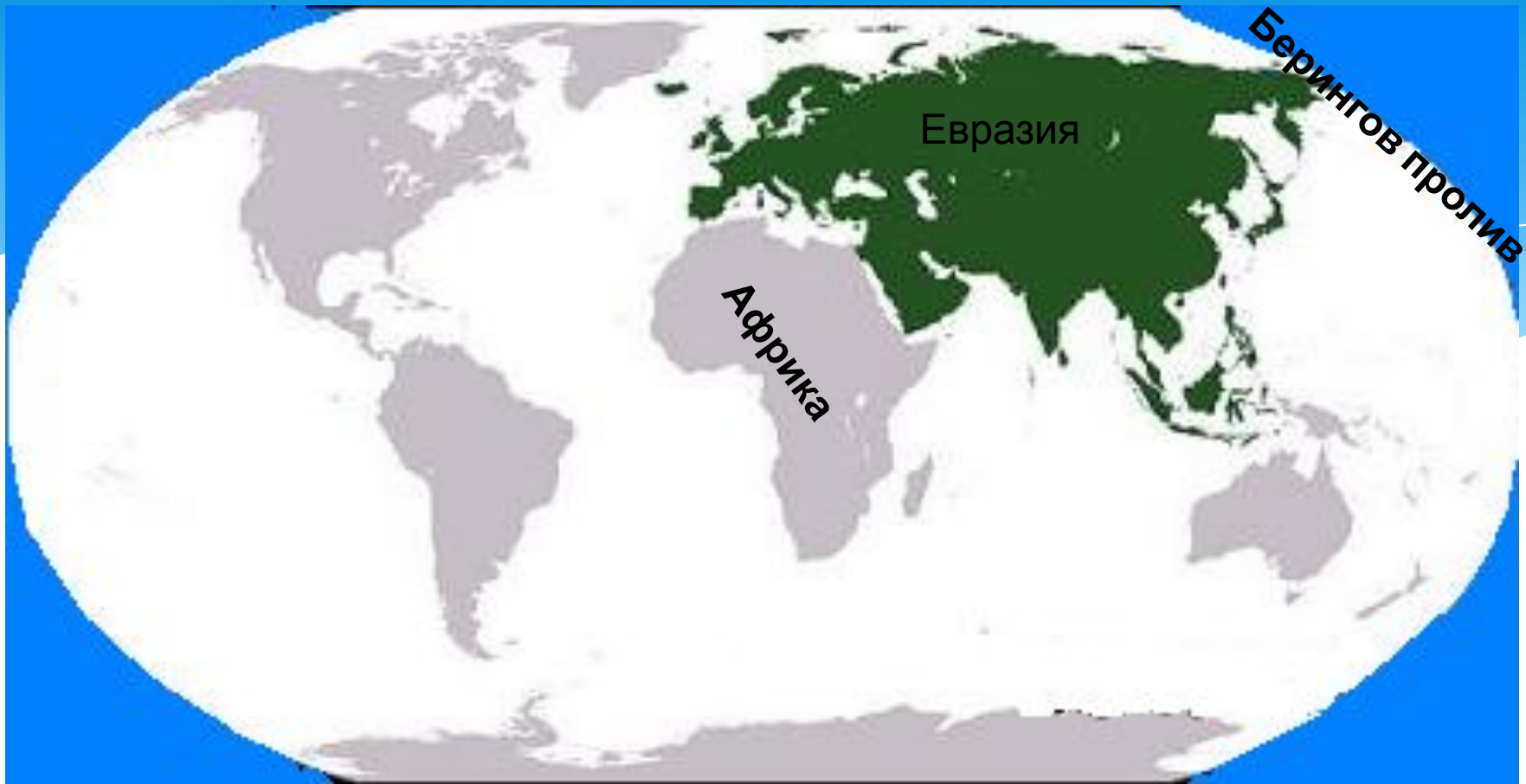
Содержит две части света: Европу и Азию.



Название «Европа» пришло из легенды о том, что у финикийского царя Агенора была дочь Европа. Всемогущий Зевс полюбил ее, превратился в быка и похитил. Он отвез ее на остров Крит. Там Европа впервые ступила на землю той части света, которая с тех пор носит ее имя.



Азия — обозначение одной из провинций к востоку от Эгейского моря, так назывались скифские племена до Каспия (азии, азианы).



Имеет сухопутную связь с материком Африка, через Суэцкий перешеек.

Расположение Евразии по отношению к другим материкам




Берингов пролив

Суэцкий канал



Виртуальная экскурсия



**Цель: Формирование представлений о
материке Евразия**

Задачи

***определить**

географическое положение

***выяснить**

материка

особенности природы

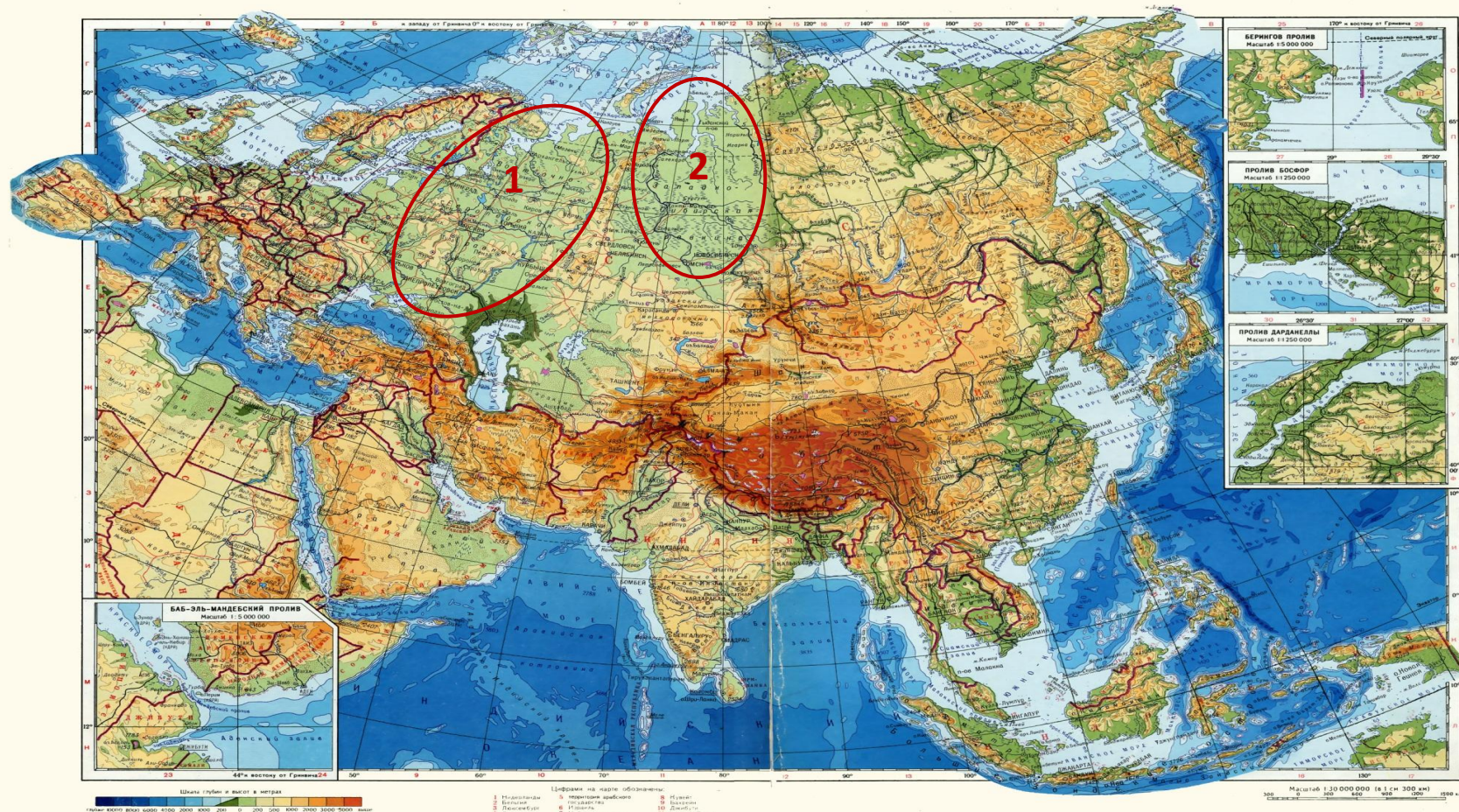
***научиться находить**

*географические объекты на
карте*

Равнины и горы

Большую часть Европы занимают равнины. Самая большая равнина здесь - **Восточно-Европейская, или Русская**

Равнины, по площади занимающие 2 и 3 место в мире: Восточно-Европейская(1) и Западно-Сибирская(2)




Горы в Европе не очень высоки, они редко превышают 3000 м. Самые высокие находятся в центре Европы-это **Альпы**. Высота наивысшей точки Альп (**гора Монблан**) составляет 4807м



В Евразии находятся высочайшие горы Земли-Гималаи. Самая высокая точка мира- гора Джомолунгма (Эверест)- 8848 м.



Здесь же, в Азии, находится жемчужина нашей страны - озеро Байкал - самое глубокое озеро в мире. Его глубина составляет 1637м



В Азии находится самое большое по размерам озеро нашей планеты - **Каспийское море**, его площадь составляет около 396 тыс. км².




Самое холодное место северного полушария - поселок Оймякон (Якутия, Россия)



Самое влажное место на Земле- город Черапунджи (Индия)





На территории Евразии встречаются все природные зоны нашей планеты: от ледяных (арктических пустынь) на севере до влажных экваториальных лесов на юге. Растительный и животный мир этого материка очень богат.


Здесь находятся **крупнейшие** страны мира по площади: Россия, Китай и по численности населения : Китай, Индия




Домашнее задание

Прочитать П.21.

Отметить на контурной карте географические объекты.





* сегодня я узнал...
было интересно...
было трудно...
я приобрел...
я научился...
урок дал мне для жизни...
мне захотелось...