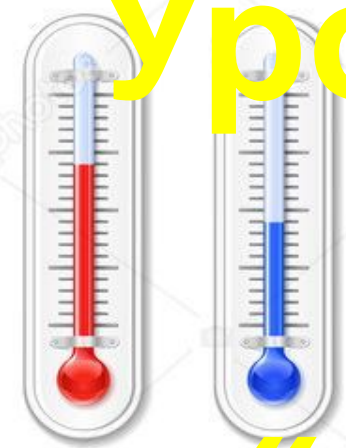




# Урок-обобщение по теме «Атмосфера»



# Воздушный бой



<u>1</u>	<u>2</u>	<u>3</u>	<u>1</u>	<u>2</u>	<u>3</u>	<u>1</u>	<u>2</u>	<u>3</u>
<u>4</u>	<u>5</u>	<u>6</u>	<u>4</u>	<u>5</u>	<u>6</u>	<u>4</u>	<u>5</u>	<u>6</u>
<u>1</u>	<u>2</u>	<u>3</u>	<u>1</u>	<u>2</u>	<u>3</u>	<u>1</u>	<u>2</u>	<u>3</u>
<u>4</u>	<u>5</u>	<u>6</u>	<u>4</u>	<u>5</u>	<u>6</u>	<u>4</u>	<u>5</u>	<u>6</u>

1

Вопрос на 1 балл



Дайте определение

«ВЕТЕР»



2

**Вопрос на 2 балла**



**Для измерения каких  
элементов погоды  
используются следующие  
приборы:**

***барометр, осадкомер?***



3

## Вопрос на 3 балла



Определите в каком направлении дует ветер

759 мм рт. ст.		753 мм рт. ст.
740 мм рт. ст.		760 мм рт. ст.
780 мм рт. ст.		729 мм рт. ст.

4

**Вопрос на 1 балл**



**Где содержится  
основная масса  
атмосферного  
воздуха?**

5

## Вопрос на 2 балла



Вспомните, что происходит, когда в теплую кухню или комнату вносят, например, хранящуюся на холоде банку или кастрюлю с квашеной капустой.

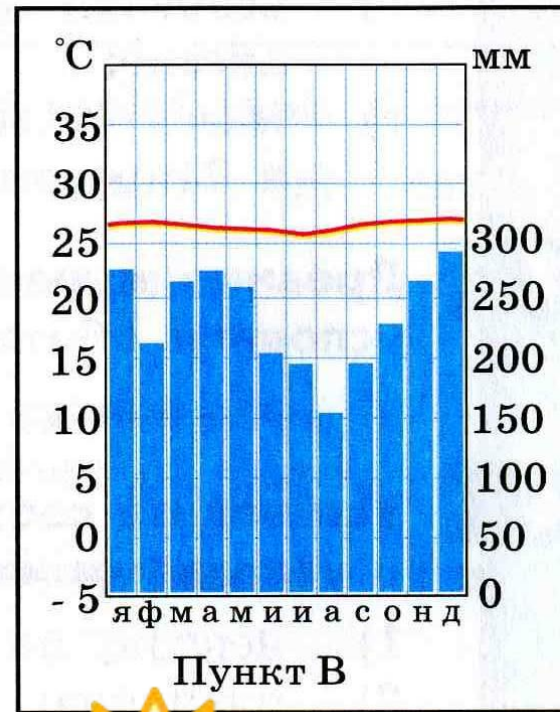
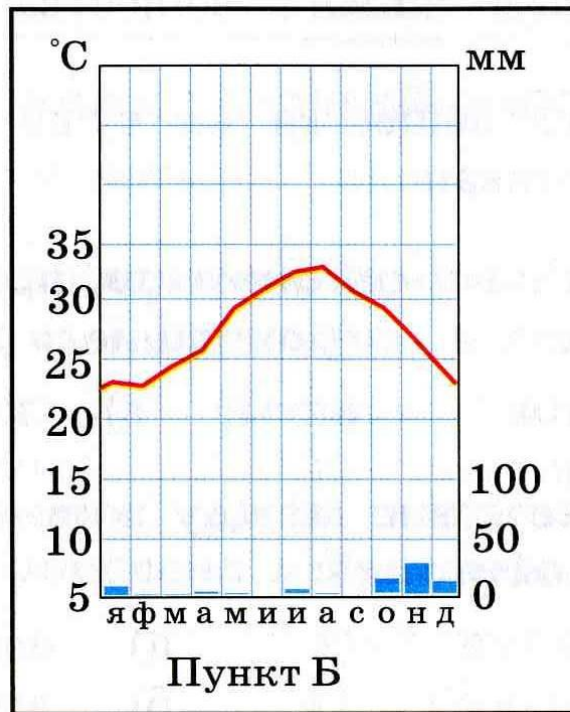
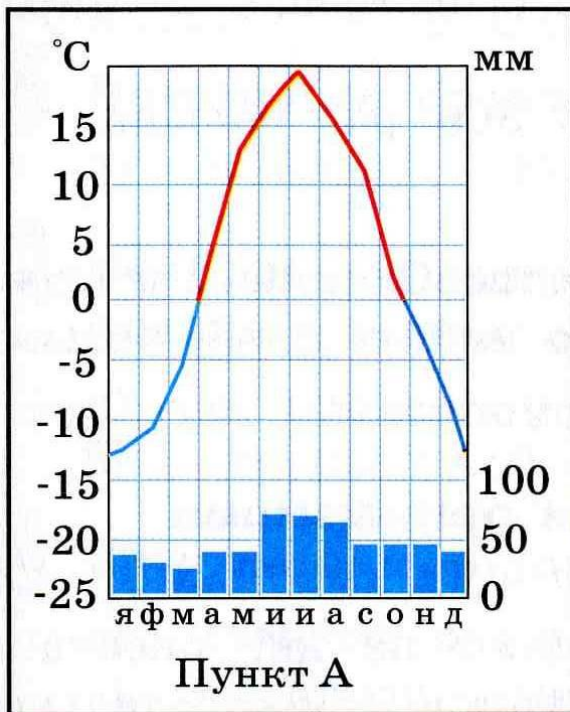
Опишите наблюдаемое явление и объясните его.

6

# Вопрос на 3 балла



## Проанализируйте диаграммы.





1

Вопрос на 2 балла



**Назовите  
основные слои  
атмосферы**



2

Вопрос на 1 балл



Дайте определение  
**«АТМОСФЕРНЫЕ  
ОСАДКИ»**



# 3

## Вопрос на 3 балла



**Определите в каком направлении дует ветер**

<b>759 мм рт. ст.</b>		<b>753 мм рт. ст.</b>
<b>740 мм рт. ст.</b>		<b>760 мм рт. ст.</b>
<b>780 мм рт. ст.</b>		<b>729 мм рт. ст.</b>

4

Вопрос на 1 балл



**Дайте определения  
термина «КЛИМАТ»**



5

## Вопрос на 2 балла



Вычислите среднегодовую температуру воздуха по данным средних месячных температур:

я	ф	м	а	м	и	и	а	с	о	н	д
-13	-11	-5	+4	+12	+16	+20	+18	+11	+4	-4	-10



6

**Вопрос на 3 балла**



**Определите примерную  
высоту горы, если у ее  
подножия температура  
воздуха составила  $+16^{\circ}$   
С, а на вершине  $-8^{\circ}$ С**



1

Вопрос на 2 балла



Чем отличается  
морской климат от  
континентального?



2

## Вопрос на 3 балла



Определите в каком направлении дует ветер

759 мм рт. ст.		753 мм рт. ст.
740 мм рт. ст.		760 мм рт. ст.
780 мм рт. ст.		729 мм рт. ст.



3

Вопрос на 1 балл



Назовите явления  
погоды



4

Вопрос на 1 балл



Дайте определение  
«ОБЛАЧНОСТЬ»



5

Вопрос на 2 балл



Что называется  
насыщенным  
воздухом?



6

Вопрос на 3 балла



На каких территориях  
погода не меняется.  
Какой тип климата  
там преобладает?



1

Вопрос на 3 балла



**Облака исчезают.  
Как и куда?**



2

Вопрос на 1 балл



**Каков состав  
воздуха  
атмосферы?**



3

**Вопрос на 1 балл**



**Закончите предложение.**

**Для образования  
облаков необходимо,  
чтобы воздух...**



4

Вопрос на 2 балла



**Докажите что все  
элементы погоды  
взаимосвязаны**





5

## Вопрос на 3 балла



**Определите в каком направлении дует ветер**

760 мм рт. ст.		758 мм рт. ст.
765 мм рт. ст.		760 мм рт. ст.
720 мм рт. ст.		772 мм рт. ст.

6

**Вопрос на 2 балла**



**Для измерения каких  
элементов погоды  
используют следующие  
приборы:**

*термометр, флюгер?*



1

Вопрос на 2 балла



**Что такое  
климатический  
пояс?**



2

Вопрос на 1 балл



**Назовите элементы  
погоды?**



3

Вопрос на 1 балл



Дайте определение  
**«АТМОСФЕРА»**



4

**Вопрос на 3 балла**



**Определите в каком направлении дует ветер**

729 мм рт. ст.		750 мм рт. ст.
746 мм рт. ст.		759 мм рт. ст.
761 мм рт. ст.		761 мм рт. ст.

5

Вопрос на 3 балла



**Приведите примеры  
того, что климат  
оказывает влияние на  
жилище человека.**

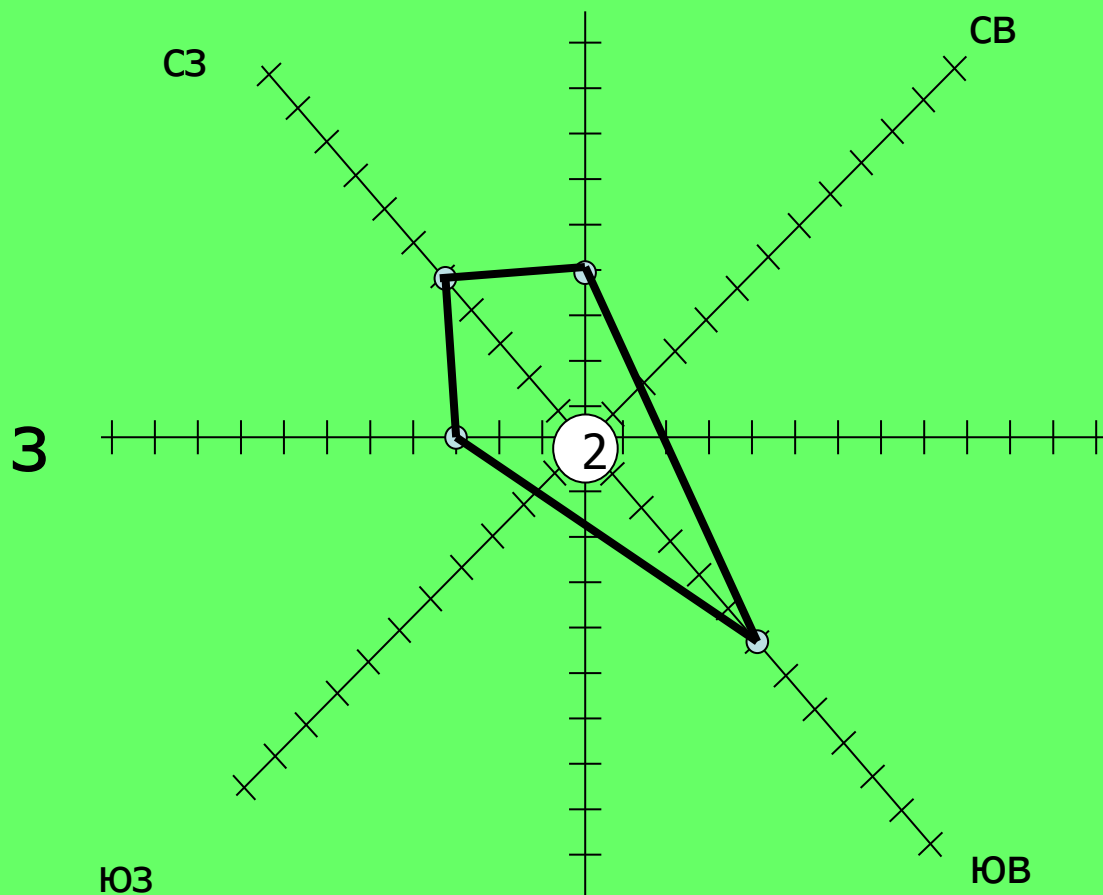


6

# Вопрос на 2 балла



- Проанализируйте розу ветров





# 1

## Вопрос на 3 балла



### Определите в каком направлении дует ветер

767 мм рт. ст.		720 мм рт. ст.
760 мм рт. ст.		720 мм рт. ст.
740 мм рт. ст.		752 мм рт. ст.

2

Вопрос на 2 балла



Назовите признаки  
ШТИЛЯ



3

**Вопрос на 3 балла**



**При ветрах какого  
направления чаще всего  
выпадают осадки в  
вашей местности?**



4

**Вопрос на 1 балл**



**Как называется слой  
атмосферы, где  
формируется  
погода?**



5

**Вопрос на 2 балла**



**Перечислите  
климатообразующие  
факторы?**



6

Вопрос на 1 балл




Дайте определение  
«**БАРОМЕТР**»





# Домашнее задание



- Повторить §26-31.



**Хороших вам каникул,  
ребята!**