

# № 1. Переведите именованный масштаб в численный

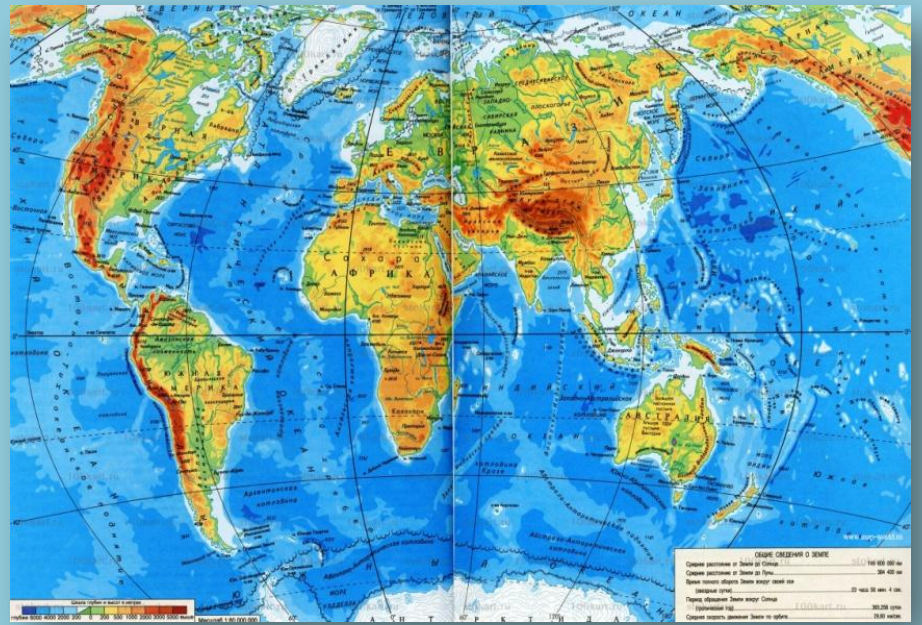
- 1) В 1 см 8 км
- 2) В 1 см 50 км
- 3) В 1 см 200 м
- 4) В 1 см 10 м

## № 2. Переведите численный масштаб в именованный

- 1) 1: 800 000
- 2) 1: 50 000
- 3) 1: 200 000 000
- 4) 1 : 250 000

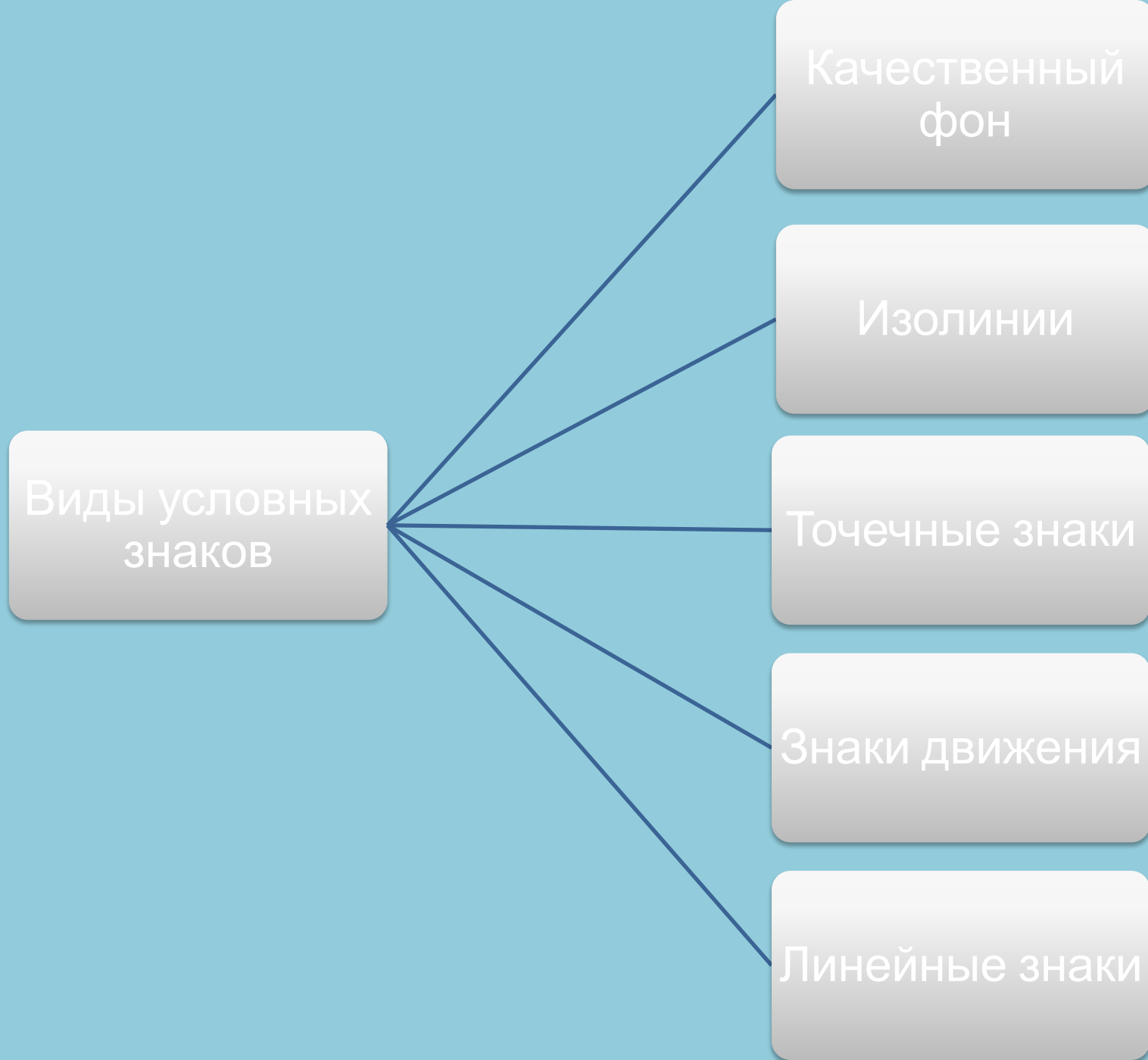
## № 3. Решите задачу

Расстояние между двумя точками на карте масштаба 1: 10 000 составляет 5 см. Чему равно расстояние между этими точками на местности?



# Виды условных знаков





| <b>Виды условных знаков</b>                            | <b>Что изображается</b> |
|--|-------------------------|
| <i>Качественный фон</i>                                |                         |
| <i>Изолинии (изогипсы, изобаты, изотермы, изобары)</i> |                         |
| <i>Точечные знаки</i>                                  |                         |
| <i>Линейные знаки</i>                                  |                         |
| <i>Знаки движения</i>                                  |                         |

1. Для изображения чего применяются перечисленные в таблице виды условных знаков? Проставьте соответствующие цифры.

| Вид условных знаков |  |
|---------------------|--|
| Качественный фон    |  |
| Изолинии            |  |
| Ареалы              |  |
| Значки              |  |
| Линии движения      |  |

1. Водопад.
2. Холм.
3. Район выращивания кукурузы.
4. Равнина.
5. Маршрут путешествия Магеллана.
6. Направление ветра.
7. Город Москва.
8. Месторождение золота.
9. Перемещение айсберга в океане.
10. Страна Бразилия.




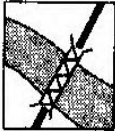







1. Для изображения чего применяются перечисленные в таблице виды условных знаков? Проставьте соответствующие цифры.

| Вид условных знаков |       |
|---------------------|-------|
| Качественный фон    | 10, 4 |
| Изолинии            | 2     |
| Ареалы              | 3     |
| Значки              | 1,7,8 |
| Линии движения      | 5,6,9 |

1. Водопад.
2. Холм.
3. Район выращивания кукурузы.
4. Равнина.
5. Маршрут путешествия Магеллана.
6. Направление ветра.
7. Город Москва.
8. Месторождение золота.
9. Перемещение айсберга в океане.
10. Страна Бразилия.

2. На топографических картах применяются самые разнообразные условные знаки. Используя их (см. форзац в начале учебника или атлас), прочитайте описание маршрута.

«Начав свой путь от , мы пересекли  и спустились к . Воспользовавшись , мы переправились на другой берег и двинулись дальше по . Мы углубились в , пересекли .

Наконец мы прошли мимо старой  и оказались на краю глубокого . Каково же было наше изумление, когда...» (На этом запись обрывается.)