

Ресурсы растительного и животного мира

Цели урока: формирование представлений о ресурсах растительного и животного мира России

Определите природную зону по предложенному описанию

- **Формирование растительности происходит в условиях недостатка тепла и при избыточном увлажнении. Характерно преобладание мхов, лишайников и небольших кустарничков. Практически отсутствуют однолетние растения, что обуславливается коротким летним сезоном. Типичными представителями животного мира являются северный олень, лемминг, песец.**

**Используя карты атласа (стр. 28),
заполните предложенную таблицу**

Природные районы	Преобладающая древесная порода
Полуостров Камчатка	
Север Восточно- Европейской равнины	
Среднее течение Оби и Иртыша	
Забайкалье	


- **Что такое природные ресурсы?**
- **Какие существуют виды особо охраняемых природных территорий?**
- **Как вы думаете, почему в России больше заповедников, а не национальных парков?**

Прочитайте пункт «Лесные ресурсы»,


- Значение леса для человека? (в тетради)
- Карта стр. 35

Обеспеченность лесом	Где расположены?
Лесоизбыточные районы	
Лесообеспеченные районы	
Лесодефицитные районы	


Промыслово-охотничьи ресурсы



Промыслово-охотничьи ресурсы

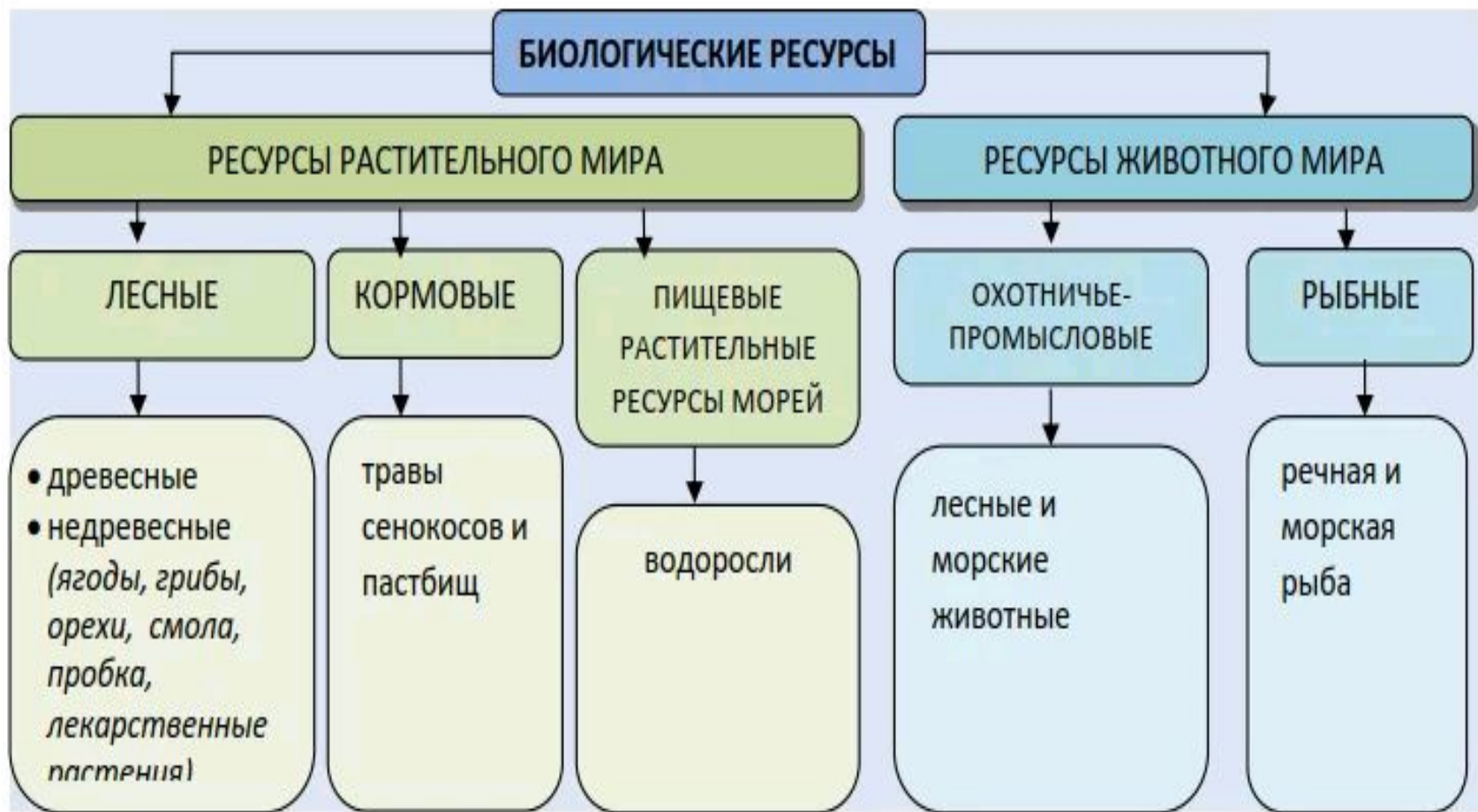


Промыслово-охотничьи ресурсы



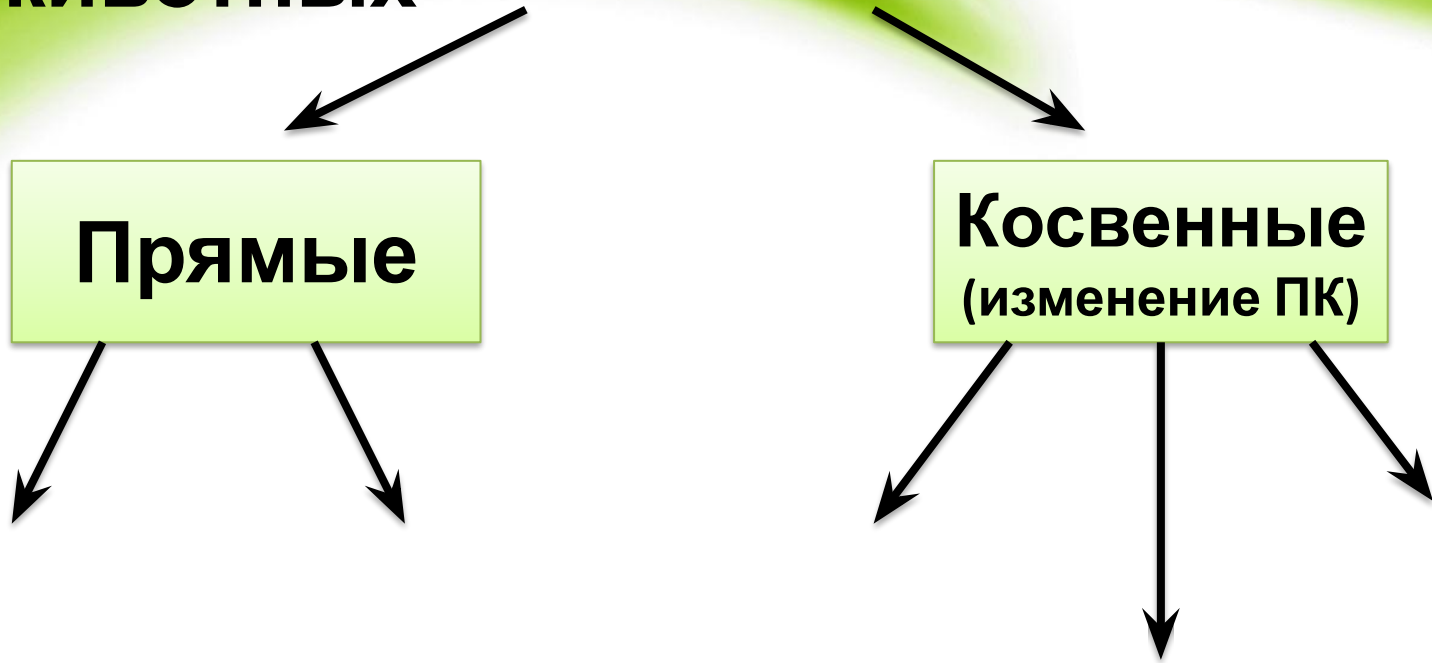
Копытные звери





**Обеспечена ли Россия биологическими ресурсами?
Какими ресурсами обеспечена больше всего?**

Причины сокращения численности и исчезновения видов растений и животных



Причины сокращения численности и исчезновения видов растений и животных

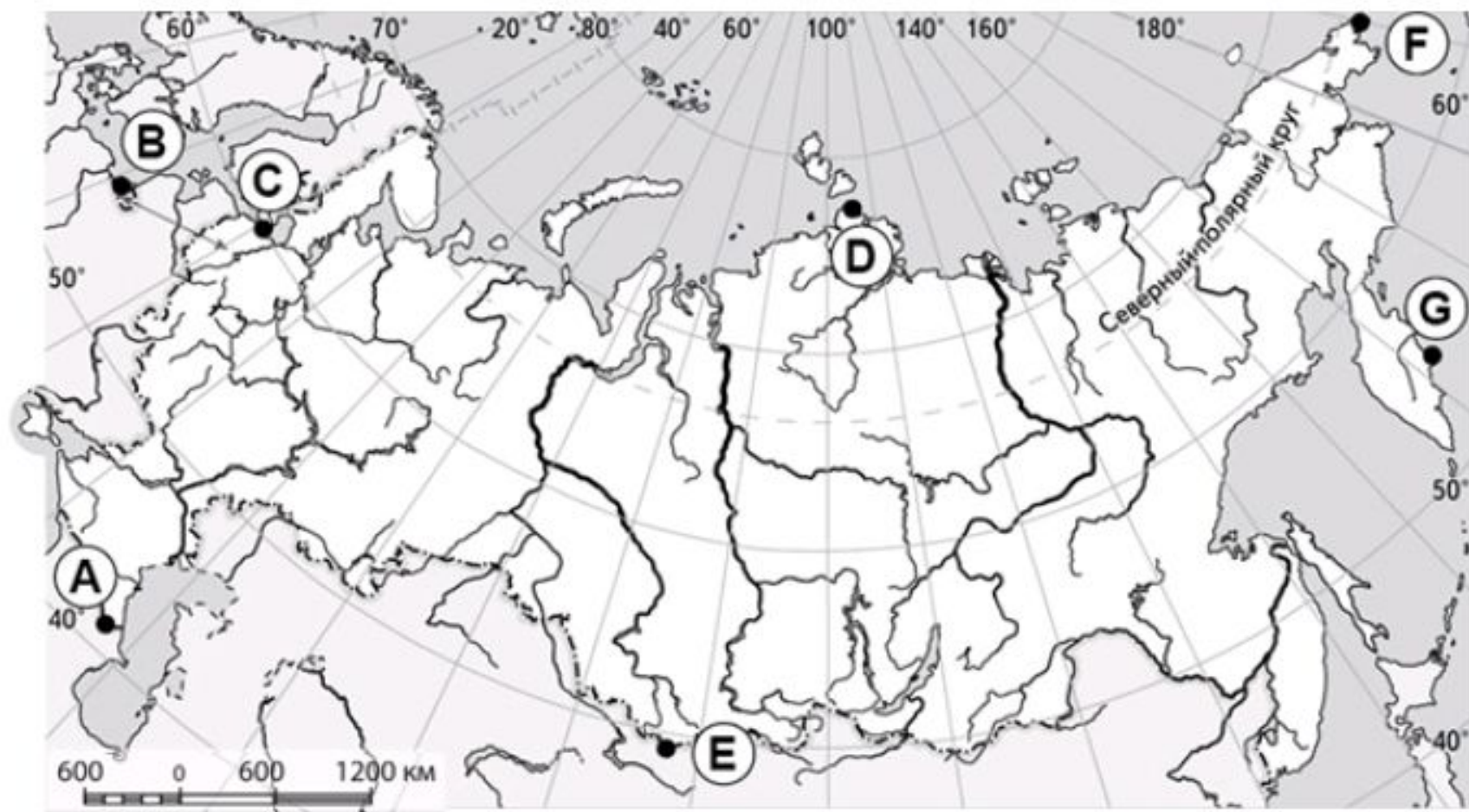


Используя карту особо охраняемых природных территорий в атласе (стр.40-41), назовите по три любых заповедника, расположенных в каждой из частей России.

Европейская территория России	Азиатская территория России

Используя карту, определите, где находится крайняя западная материковая точка России, и укажите её географические координаты.

Запишите в ответе букву, которая соответствует крайней западной материковой точке России, и значения её географических координат.



Ответ:

Точка	Широта	Долгота

- **Домашнее задание**
- **Параграф 31**