The background features a collage of autumn-themed elements. At the top, there are branches with vibrant orange, red, and yellow leaves. On the right side, a stack of several books is visible, with a small globe resting on top. The bottom edge shows more foliage and a small decorative object. The text is centered on a white background within this frame.

Мақсаты: Оқушыларға Еуразия материгінің ішкі сулары немесе құрылық суларына нелер жататынын және мұхиттық ішкі тұйық алаптарына қандай өзендер мен өзен торлары жатаынын сыни ойлау арқылы көлдері мен өзендеріне ,көп жылдық тоңдарына жалпы сипаттама бердірте отырып топтық,жұптық,жеке тапсырмаларды орындатуға баулу,бағалау критерилерін жүзеге асырту.

Күтілетін нәтиже: Оқушылар Еуразия материгінің ішкі су алаптарына нелер жататынын теңіздері мен өзендеріне ,көлдеріне картаға қарап сыни ойлау арқылы картамен толық жұмыс жасай алады.

# Психологиялық тренинг



# *Топқа бөлу «Ортада қаламсап» стратегиясы*



*Үй тапсырмасын тексеру  
«Эстафеталық жарыс»*



# *«Есте қалар бір сөз» ойыны*

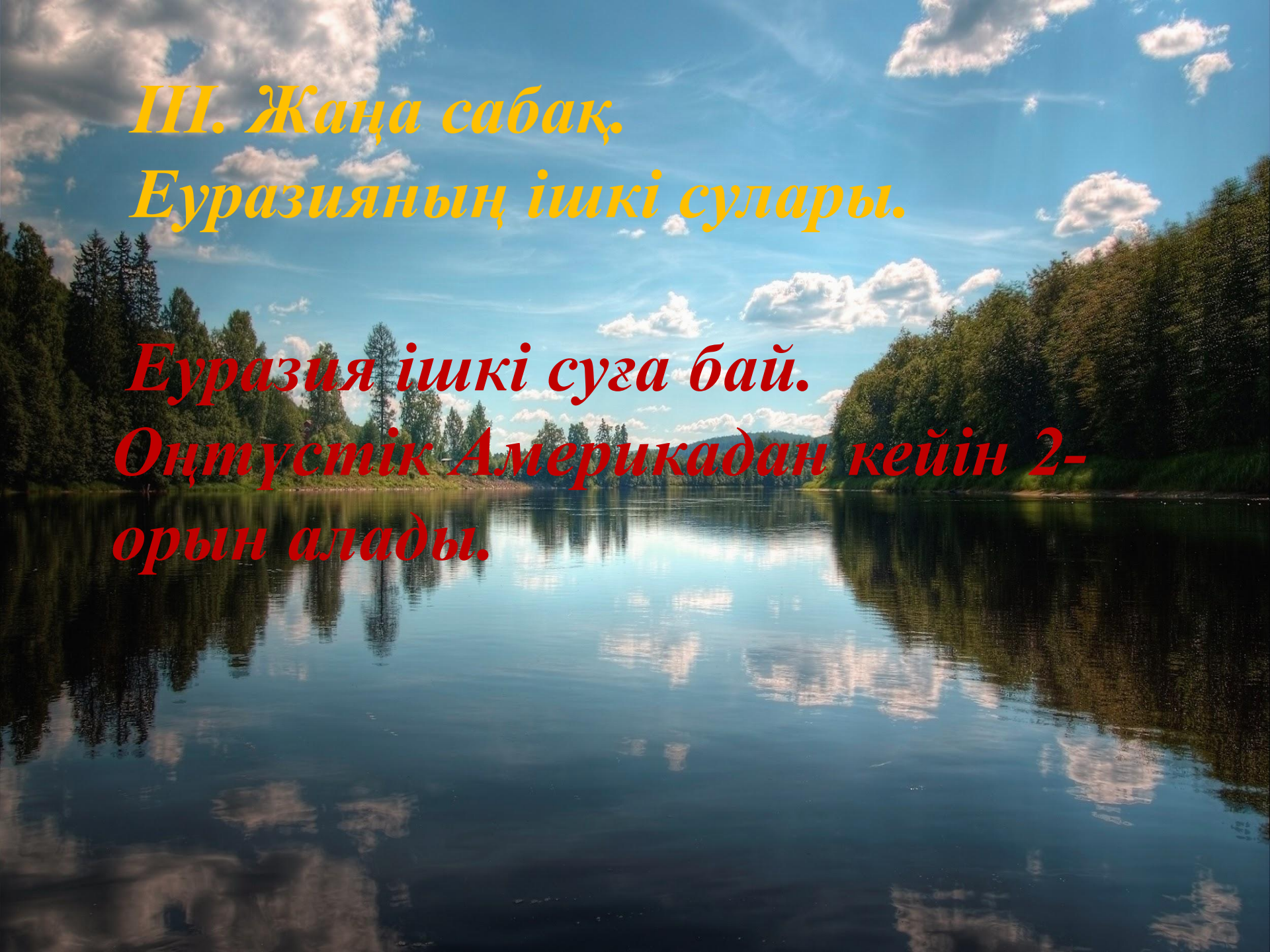


illustrations of.com #85621

# Сабақтың тақырыбы: Еуразияның ішкі сулары







*III. Жаңа сабақ,  
Еуразияның ішкі сулары.*

*Еуразия ішкі суға бай.  
Оңтүстік Америкадан кейін 2-  
орын алады.*



**өзендер  
сулар**

**көлдер**

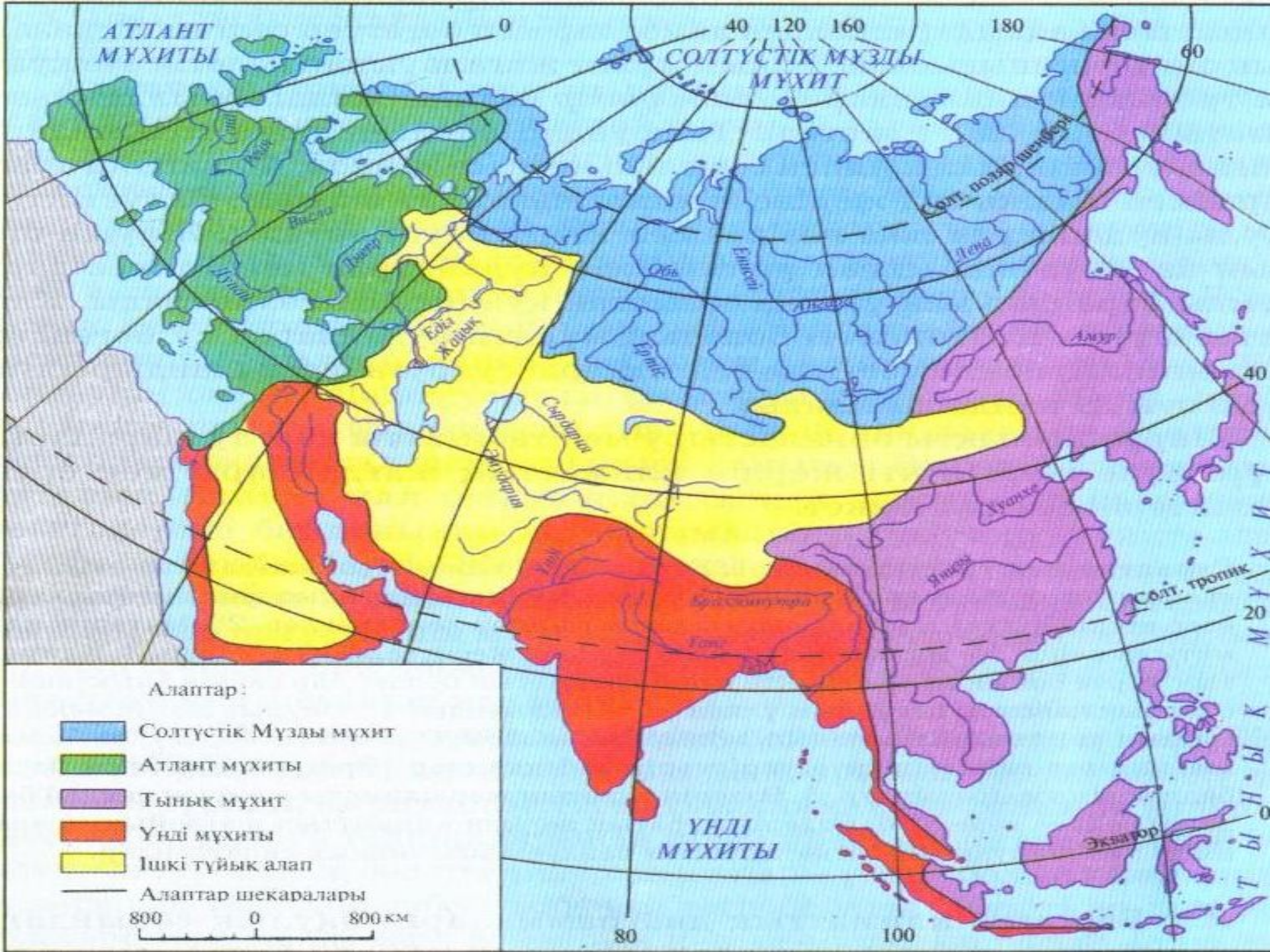
**жер асты**



**батпақтар**

**мұздықтар**

**тоңдар**



# *Жайық өзені .Сіз білесіз бе?*

Бұл қасиетті Жайық өзені! Осы өзеннің жағасында [Қыз Жібек балғын](#) шағын өткізген. Осы өзенді өтіп Төлеген Қыз Жібекке келген.

Осы өзеннің суына [Махамбет](#) пен [Исатай](#) әскері аттарын суарған. Осы өзенді қорек еткен. Осы өзен үшін алысып, жан беріскен. Ел азаттығы үшін осы өзенді талай малтып кешіп жүріп соғысқан.

Осы өзенді өтіп әйгілі [Бөкей хан](#) "Ішкі Орда" атты Еділ-Жайық арасына қоныс тепкен "қой үстіне бозторғай жұмыртқалаған" хандықтың негізін салған.

Осы өзеннің жағасында Алашорда үкіметінің негізін салушылардың бірі [Халел](#) мен [Жаһанша Досмұхамедовтар](#) дүниеге келген. Осы өзенді малтып жүріп балалық шақтарын өткізген!


- Осы өзеннің суымен [Александр Македонский де](#) ауқат алған. Осы өзеннің жерінен өзімен-өзі шығып жатқан қара майды көріп [Аристотель](#) де таң қалған. Осы өзенді өтіп [Батый Хан](#) қыпшақ халқынын рухымен Русь әлемінің "ел боламыз" деген үмітін жүздеген жылдарға кейін шегеріп, отар қылып, Еуропаның жартысын жаулап алған.
- Осы өзенді өтіп әйгілі [Марко Поло](#) Еуропаға Азия әлемін ашқан.
- Осы өзеннің жағасында адамзат тарихындағы ең дарынды қолбасшылардың бірі [Сұлтан Бейбарыс](#) дүниеге келген. Осы өзеннің бойға сіңген нәрімен Сұлтан Бейбарыс бүкіл Ислам әлемін Моңғол және Крест шапқыншылығынан сақтап қалған. Байтал түгіл бас қайғы заманда [Мұстафа Шоқай](#) да осы өзеннің бойымен шетел асқан.
- Осы өзеннің бойында толғауын шегіне жеткізіп [Құрманғазы](#) құдіретті күйлерін шығарған! Осы өзенді қазақтың маңдайына біткен ұлы [Әлкей Марғұлан](#) да малтып жүріп

# «Карусель» ойыны



# «Кім жүйрік» кезеңі

Өзеннің атауы	Қай мұхит алабына жатады	Қайдан бастау алады	Қайда құяды	Бастауының координатас	Қай елде орналасқан



# «Есен білген ұтылмас» кезеңі

1. Хуанхэ өзенінің жағалауында тамыз айындағы орташа тәуліктік температурасын тап.

Сағ 10.00	Сағ 13.00	Сағ 15.00	Сағ 19.00	Орташа температурасы
12	25	35	18	

2. Егер туристер тәулігіне 42 км/сағ жаяу жүретін болса, онда Каспий теңізінен Зайсан көлі қарай қанша күн жүреді ?

3. Арал теңізі маңында буланушылық мөлшері 1800 мм, жауын-шашын 150 мм болса, ылғалдану коэффициенті қаншаға тең болады ?

# Есептер жауабы:

1.  $12+25+35+18= 100$

$100/4=$ **25**

2. Каспий мен Зайсан көлінің арақашықтығы шамамен 3000 км.  $3000/42 =$

**71**

3. Б-1800

Ж-150





*Жеңіс күні!*

Ұлы  
Жеңіске  
71 жыл

9

мамыр!





**12 сәуір  
Ғарышкерлер  
күні**

*Handwritten signature*

## «Өз тілің бірлік үшін, өзге тіл тірлік үшін» кезеңі


- 1. В какой части Евразийского материка расположена река Янцзы?
- 2. В каком озере заливается Едильская река?
- 3. С каким океаном граничит река Амур?
- 4. В каком озере заливается река Сырдария?

- Specify on the map of the Eurasian continent?
- Where is the located river Zhaiyk?
- Where is the located Yellow River?(Huanhe)
- Where is the located Mekong river?

# *Жайық өзені*

- *1 топ: географиялық жағдайы*
- *2 топ: Жайық өзенінің атауының шығу тарихы*

# Рефлексия



# Сабағымызды «Еділ мен Жайық әнімен аяқтаймыз»

- Құлпырады дала, гүлдейді орман,  
Емізеді егіз Еділ мен Жайық.  
Ақ шағала айдын, ақталған арман,  
Тербетеді кеме, ойнайды қайық.  
А-а-а!  
Ағады шалқып,  
Аққулары қалқып,  
Еділ мен Жайық!

Шырқалады әндер, жан жүрек іңкәр,  
Сырқылдайды сұлу Еділ мен Жайық.  
Әуелейді адам, самғайды сұңқар,  
Шығандарға, шыңға қанатын жайып.

А-а-а!  
Ағады шалқып,  
Аққулары қалқып,  
Еділ мен Жайық!



# Үйге тапсырма:

- Тақырыпты түсініп оқып келу
- Хуанхэ өзені туралы мәліметер жинау
- Еділ мен Жайық –эпостық жыры туралы мәліметтер жинау



Сабак аяқталды  
тыңдағандарыңызға  
рахмет!

