

# Приёмы изучения географической номенклатуры на уроках географии



# Географическая номенклатура

*список необходимых для  
изучения географических  
объектов на карте*



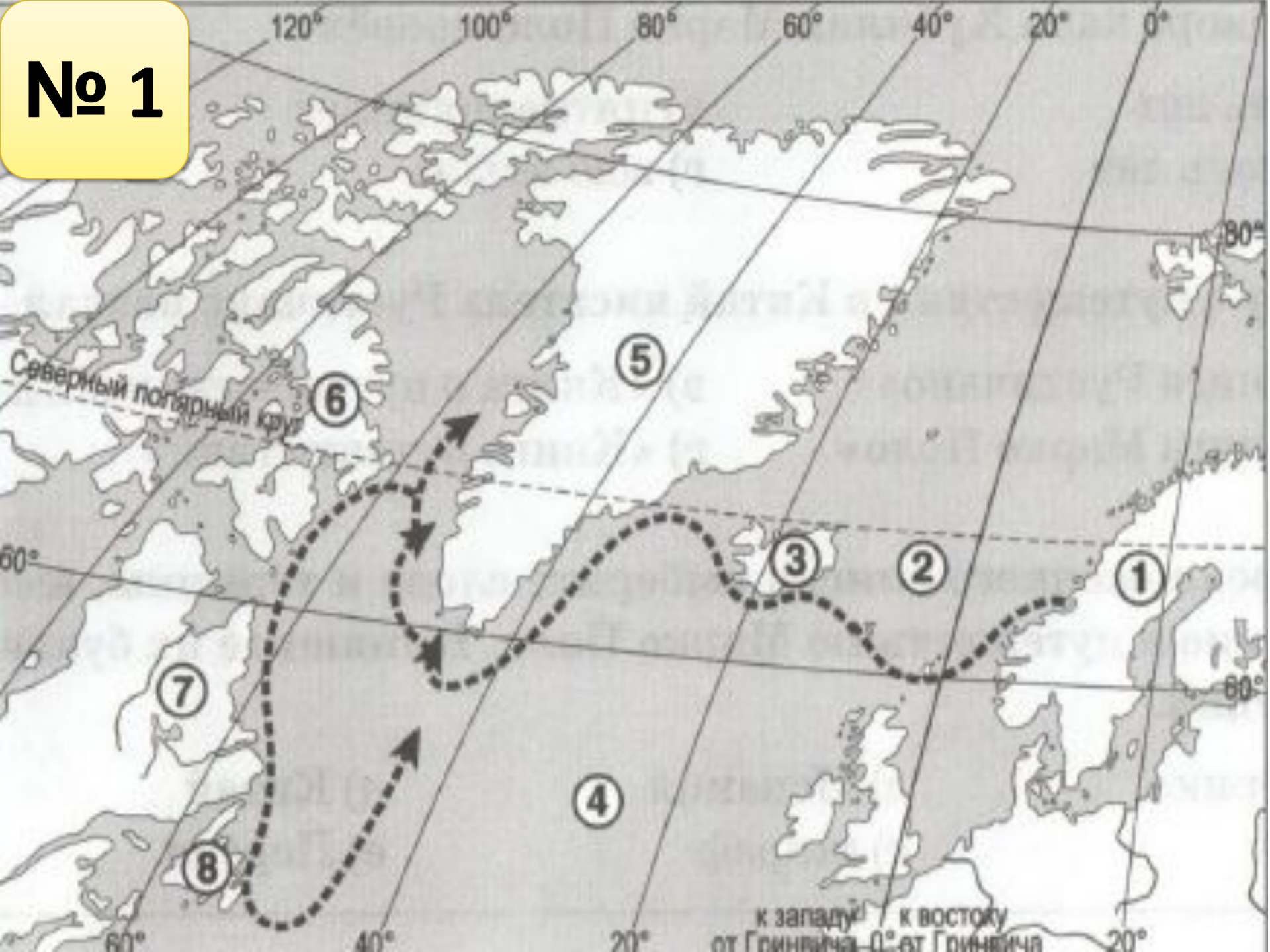
📌 Карта есть «альфа и омега» 📌  
географии

*Баранский Н.*

*Н.*



№ 1





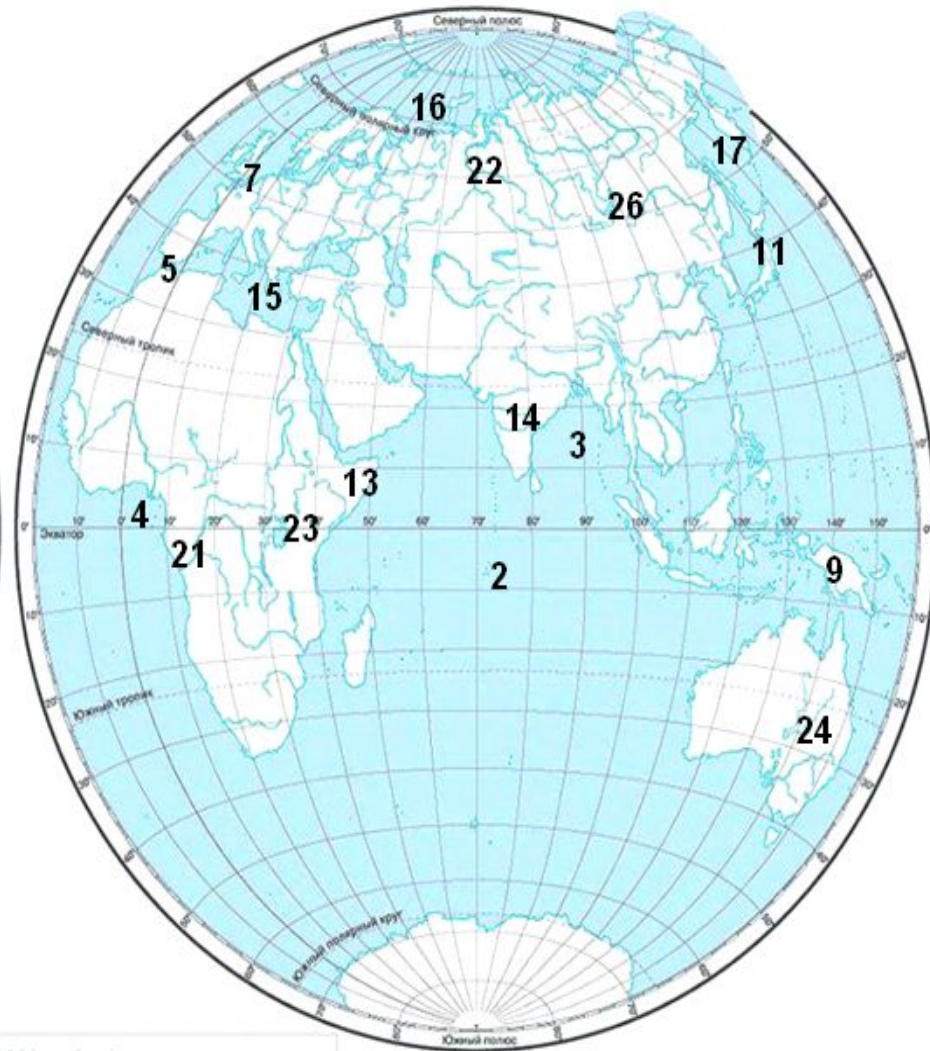
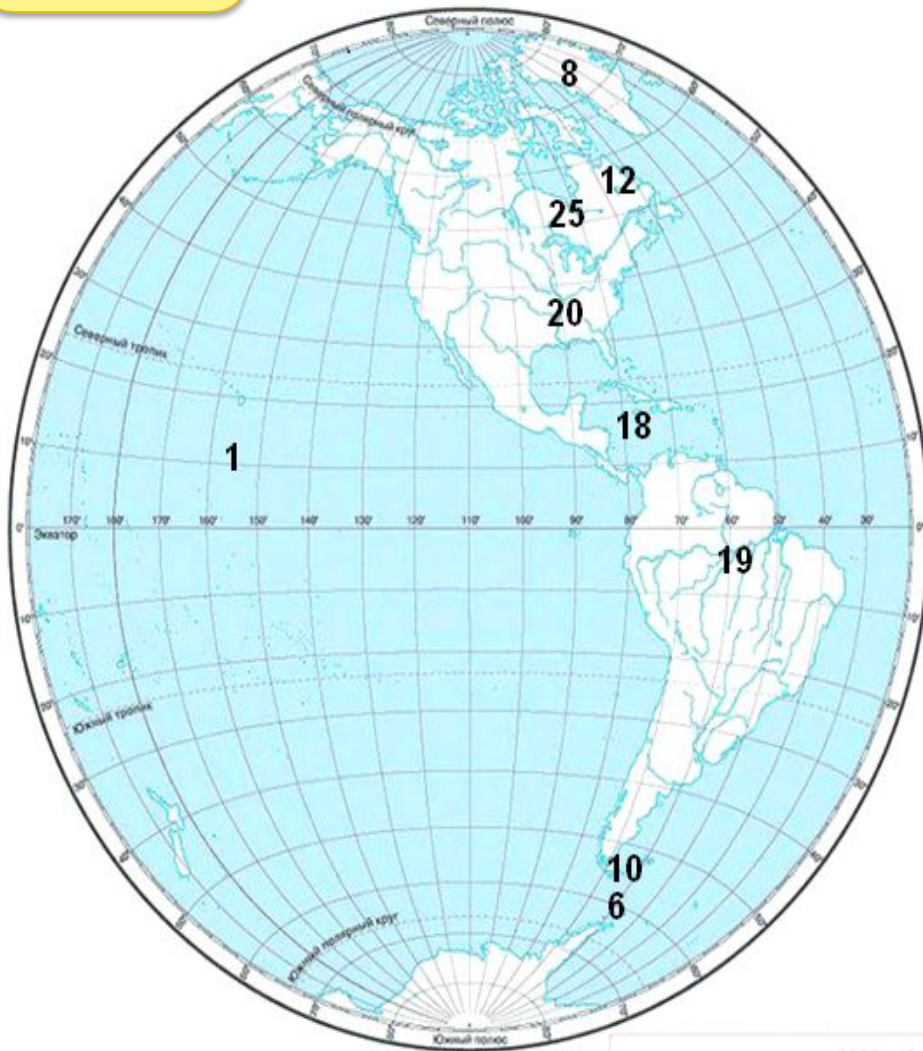
## ФИЗИЧЕСКАЯ КАРТА ПОЛУШАРИЙ (контурная карта)

Для общеобразовательных учреждений

### ЗАПАДНОЕ ПОЛУШАРИЕ

### 1 вариант

### ВОСТОЧНОЕ ПОЛУШАРИЕ



УСЛОВНЫЕ ОБОЗНАЧЕНИЯ


# № 3. С помощью атласа назовите 10 морей Тихого океана

1.

2.

3.

...












# № 4. Заполните таблицу

Евразия	
Горы	
Равнины	
Реки	
Озёра	
Животные	
Страны	
Народы	

# № 5. Используя условные знаки из атласа прочитайте

## маршрут

«Начав свой путь от , мы пересекли  и спустились к . Воспользовавшись , мы переправились на другой берег и двинулись дальше по . Мы углубились в , пересекли . Наконец мы прошли мимо старой  и оказались на краю глубокого . Каково же было наше изумление, когда...» (На этом запись обрывается.)



# № 6. «Цепочка»



Иран

↓  
Теге  
ран

↓  
Ндж  
амен  
а

# 7. «Песочные часы»



# 8. Географический диктант

- 1) Тянь-Шань
- 2) П-ов Флорида
- 3) Море Лаптевых
- 4) Балтийское море
- 5) Пролив Дрейка
- 6) О-ва Зеленого мыса
- 7) Мадагаскар
- 8) Гудзонов залив
- 9) Водопад Анхель
- 10) Новая Гвинея

С



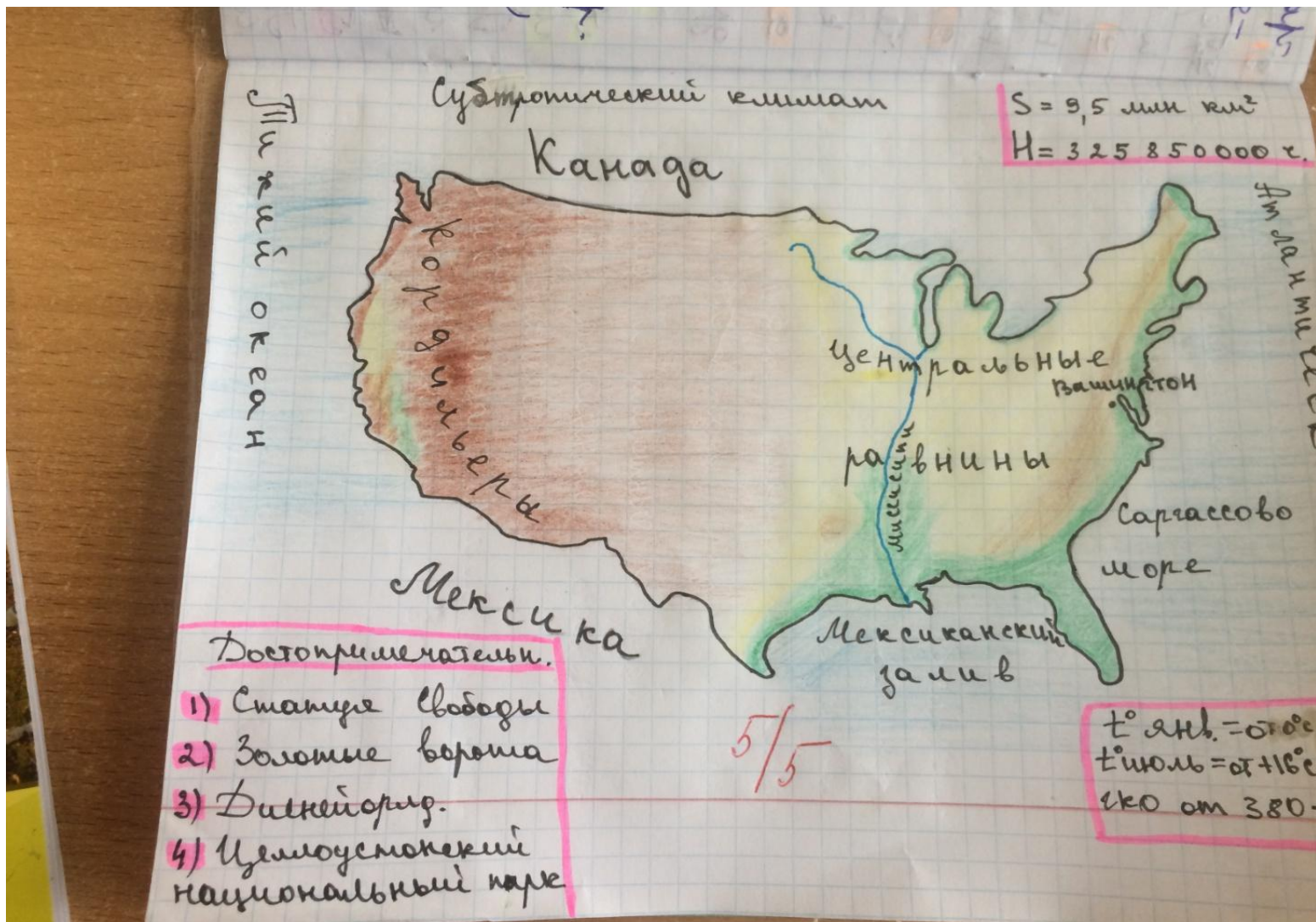
Ю

# 9. «Собери карту»





# №10. Образная карта





$$S = 9.629.091 \text{ км}^2$$

Т И Х И Й  
О К Е А Н



А Т Л А Н Т И Ч Е С К И Й  
О К Е А Н

Численность населения - 325 млн. чел.

t июля - от +56,7 - до +16

t января - от -8 - до +24

ГКО - от 3000 - до менее 100 мм

Достопримечат.

- Долина Смерти
- Гофа Рашмор
- Статуя Свободы
- Ниагарский водопад
- Знак Голливуда
- Капитолий
- Башня Ворленклиф

Цимбалюк Катя 7В

# №11. Кластер

- Северная Америка
  - Равнины
  - Реки
  - Озера
  - Горы
  - Крайние точки
  - Моря
  - Заливы

# № 12. «Бой с тенью»

№ п/п	Вопрос	Как вы думаете?	А как на самом деле?
1	Какие горы расположены в Южной Америке — Анды (1) или Аппалачи (2)?		
2	Что расположено южнее — пролив Дрейка (1) или Магелланов пролив (2)?		
3	Чтобы добраться от Скандинавского полуострова до берегов Гренландии, нужно плыть на восток (1) или на запад (2)?		



**Спасибо за внимание**

