

Муниципальное автономное общеобразовательное учреждение
средняя общеобразовательная школа №2 г. Покачи


Мультимедийная разработка урока географии

Тема: **Обобщение по теме «Южная Америка».**

Класс: **7** (общеобразовательный).

Автор: **Кудря Наталья Васильевна**
учитель географии и биологии


2016 г.



Тема: Обобщение по теме «Южная Америка».

План урока

1. Организационный момент. (1 мин)
2. Подготовка к основному этапу урока. (5 мин)
3. Обобщение, систематизация, контроль и самопроверка знаний. (30 мин)
4. Подведение итогов. (3 мин)
5. Домашнее задание. (1 мин)






Да осенит вас южный крест
Названия – почти как
музыка
Хибарки посредине мусора,
Да осенит вас южный крест
Стада, уставшие пастись,
Голодно-царственные
гаучо,
И птицы крохотнее бабочек,
И бабочки – с размахом
птиц...

(Р.Рождественский)

Обобщение, систематизация, контроль и самопроверка знаний.

Задание 1. Установите соответствие

- | | |
|-------------------------------|---|
| 1. 1500 – 1502 гг. А Веспуччи | А. Третья экспедиция. Открытие северного побережья Южной Америки. |
| 2. 1520г. Ф.Магеллан | Б. Первая экспедиция. Открытие Америки. |
| 3. 1498 г. Х.Колумб | В. Открытие восточного и юго-восточного побережья Южной Америки, Магелланова пролива. |
| 4. 1492-1493 гг. Х.Колумб | Г. Вторая экспедиция. Открытие островов Карибского моря. |
| 5. 1493-1494 г.г. Х.Колумб | Д. Открытие побережья Бразилии, устья Амазонки. |



1	2	3	4	5
Д	В	А	Б	Г



Задание 2.

Напишите названия географических объектов материка.

1-

2 –

3 –

4 –

5 –

6 –

7 –

8 –

9 –

10 –

11 –

12 –

13 –

14 –

15 –

Карту мы повторили, а теперь давайте посмотрим профиль рельефа Южной Америки по линии Южного тропика.

Задание 3.

- Какие географические объекты пересекает линия профиля?
- Через какой климатический пояс проходит линия построения профиля?



Давайте проследим, как изменяются климатические условия Южной Америки вдоль Южного тропика.

Для этого заполним таблицу, используя климатические карты материка. Данные таблицы по вариантам. Учащиеся записывают в тетради, проверка на доске.

1,2 ряд – изменение средней температуры января с запада на восток;

3,4 ряд – изменение средней температуры июня с запада на восток;

5 ряд – изменение среднегодового количества осадков с запада на восток;

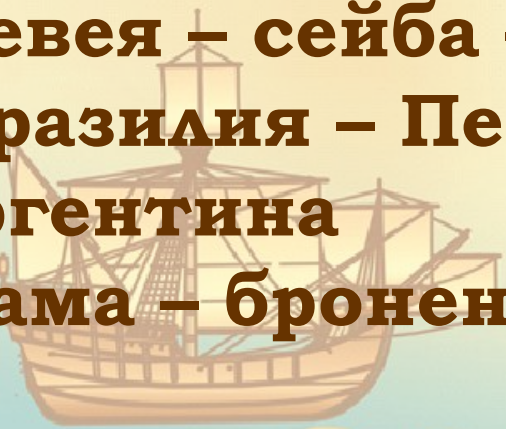
В чём причина различий в климате территорий?

Географические области	Атакама	Анды	Ла-Платская низменность	Бразильское плоскогорье
Средние температуры января, С	+16	+8	+24	+24
Средние температуры июня, С	+8	+8	+16	+16
Годовое количество осадков, мм	<100	100-500	500-2000	2000-3000
Климатическая область	Пустынная область	Высокогорная область	Переменно-влажная область	Переменно-влажная область

Задание 3.

Найдите лишнее слово

1. Амазонская – Ла-Платская – Оринокская – Гвианское
2. Аргентина – Уругвай – Алжир – Боливия
3. Саванны – тайга – пампа – сельва
4. Парана – Маракайбо – Ориноко – Амазонка
5. Гевея – сейба – хинное дерево – анаконда
6. Бразилия – Перу – Чили – Каракас – Аргентина
7. Лама – броненосец – утконос – ягуар



Задание 4.

Что такое? Кто такой?



**Водосв
инка
капибар**

Самый крупный в мире грызун. Тело его покрыто жесткой щетиной. На пальцах — плавательные перепонки: отлично плавает и ныряет. Живет по берегам рек, там, где высокая трава. Ест водные растения.

Грызун с мягкой, густой и прочной шерстью. Это небольшой зверек с повадками кролика. Живет на границе Перу и Чили, на высоте 3—6 км, в расщелинах скал.

Кто такой?

Шиншилл

а



**Бесценный млечный сок этого
дерева – основной источник
получения натурального каучука.
Не будь его, учёные ещё долго бы
искали пути изготовления такого
незаменимого ныне материал, как
резина .**

Что такое?



**Бразильска
я
гевея**

Что такое?



Это дерево характерно для тропических редколесий на северо-востоке Бразильского плоскогорья.

Стволы некоторых из них имеют несколько метров в поперечнике.

**Бутылочное
дерево**

**Лист этого удивительного цветка Амазонки
может выдержать ребёнка весом до 35 кг.**

Что такое?

**Виктория
регия**



Задание 5.

Определите, о какой стране Южной Америки идёт речь. Покажите её на карте Южной Америки.

А) Испанские завоеватели назвали эту страну латинского слова, означающего «хороший». В этой стране много драгоценных металлов. Главная река Ла-Плата соединяется с ней в сказочную дельту. Это граничит с Чили и Бразилией. Как называется это государство?

Аргентина



Б) Эта страна – пятое по числу жителей государство в мире, седьмое по числу жителей по территории. История страны насчитывает более 500 лет. Площадь страны составляет около 8,5 млн кв. км. В Бразилии много тропических фруктов, кофе, какао, сахар. В Бразилии много пальм, бразильские деревья, бразильский орех. Назовите государственную столицу.

Бразилия



В) Эта страна расположена на экваторе.
Занимает 1-е место в мире по запасам нефти в
Латинской Америке и Южной Америке.
«Бриллианты в облаках» — так образно
называют нефть в этой стране. Название
страны происходит от латинского слова
«уравнивать». В какой стране идёт речь?

Эквадор



Г) Это государство имеет самую длинную и узкую территорию в мире — 4300 км в длину и 15-355 км в ширину. О какой стране идёт речь? В переводе с индейского название страны означает «снег», «ХОЛОДНО».

Чили



Д) Страна Латинской Америки, славится своими запасами нефти. Она производит и экспортирует энергетический ресурс. Эта страна является обладателем огромных запасов «чёрного золота»; зато в стране не хватает воды. Зачастую её ресурсы продают за границу. Почему это за страна?

Венесуэла



Задание 6.

Т Е С Т

1. Крайняя точка Южной Америки на севере:

- а) м.Горн; б) Париньяс; в) м.Гальинас.

2. Южная Америка самый:

- а) жаркий материк; б) влажный материк; в) сухой материк

3. К южной Америке ближе всего расположен материк:

- а) Антарктида; б) Северная Америка; в) Австралия

4. Восточную часть Южной Америки омывает океан:

- а) Индийский; б) Атлантический; в) Тихий

5. Высшей точкой гор Анд является:

- а) г.Чимборасо; б) г.Аконкагуа; в) г.Ильямпу

6. Южная Америка располагается во всех климатических поясах кроме:

- а) антарктического; б) умеренного; в) субэкваториального

7. Наибольшее количество осадков выпадает на:

- а) Амазонской низменности; б) Бразильском плоскогорье;
в) Ла-Платской низменности

8. В Южной Америке находится самый высокий водопад мира:

- а) Игуасу; б) Виктория; в) Анхель

9. Самое большое высокогорное озеро мира:

- а) Маракайбо; б) Виктория; в) Титикака

10. Самое маленькое государство на материке Южная Америка:

- а) Эквадор; б) Чили; в) Суринам

Домашнее задание.

Выберите себе домашнее задание по желанию.

- 1. Составить кроссворд (до 10 слов)
- «Страны Южной Америки»
- «Растения и животные Южной Америки».**
- 2. Составить туристический маршрут по самым известным местам Южной Америки.**



Подведение итогов.

Закончи предложение...

- Я узнал...
- Было интересно...
- Было трудно...
- Я понял, что...
- Я научился...
- У меня получилось...
- Мне понравилось...
- Я расскажу дома родителям...

