


Проверочная работа

по теме
**«На какой Земле мы живем. История
познания Земли»**



10-15 тыс. лет назад



Самая древняя карта

Способы изображения земной поверхности

The background of the slide is a green map with white contour lines. In the bottom-left corner, there is a compass rose with a brown arrow pointing towards the top-left. The compass rose has labels for 'NW', 'N', 'NE', 'E', and 'S'. The text 'Способы изображения земной поверхности' is written in large, bold, yellow letters with a red outline, centered on the map.

Заполнить таблицу

**Способ
изображения**

Основные особенности

положительные

отрицательные



Рисунок

«МОСКОВСКИЙ
ДВОРИК»
художник В.Д.
ПОЛЕНОВ



Запомните

Положительные

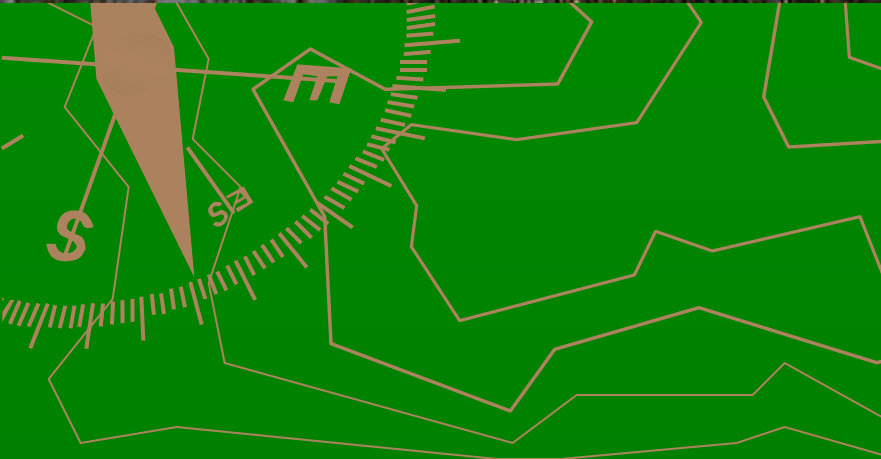
1. Выполняется с поверхности Земли

Отрицательные

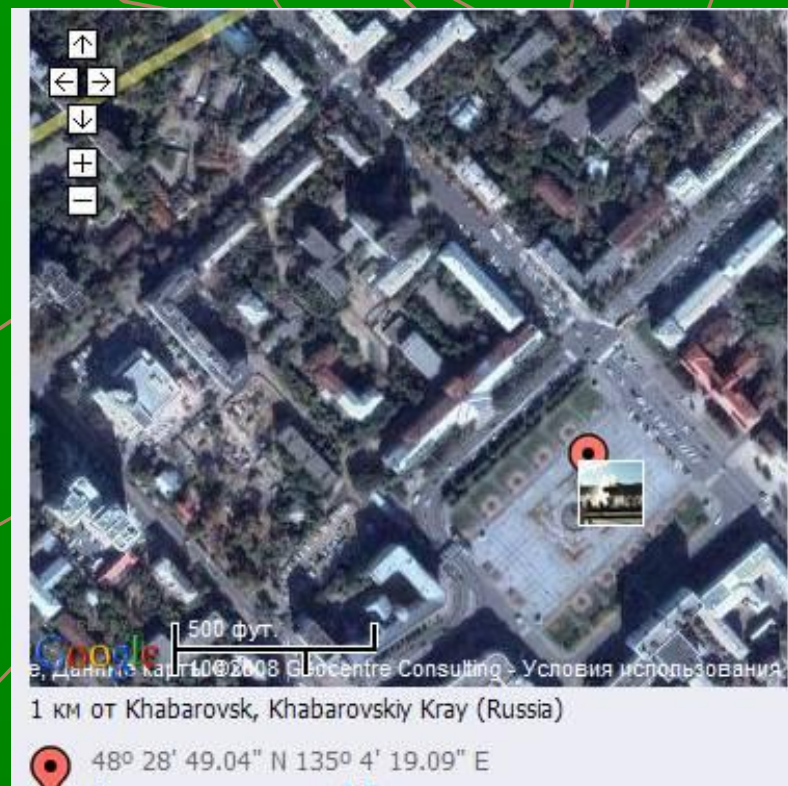
**Не видно форму и размеры участка
Ближние предметы заслоняют дальние
Обзор ограничен
Не сохраняются размеры предметов**



Фотография



Фотография и аэрофотоснимок



Запомните

Положительные

Выполняется
с самолета

Показывает местность
сверху

Можно определить
расположение объек-
тов, их форму и раз-
меры

Отрицательные


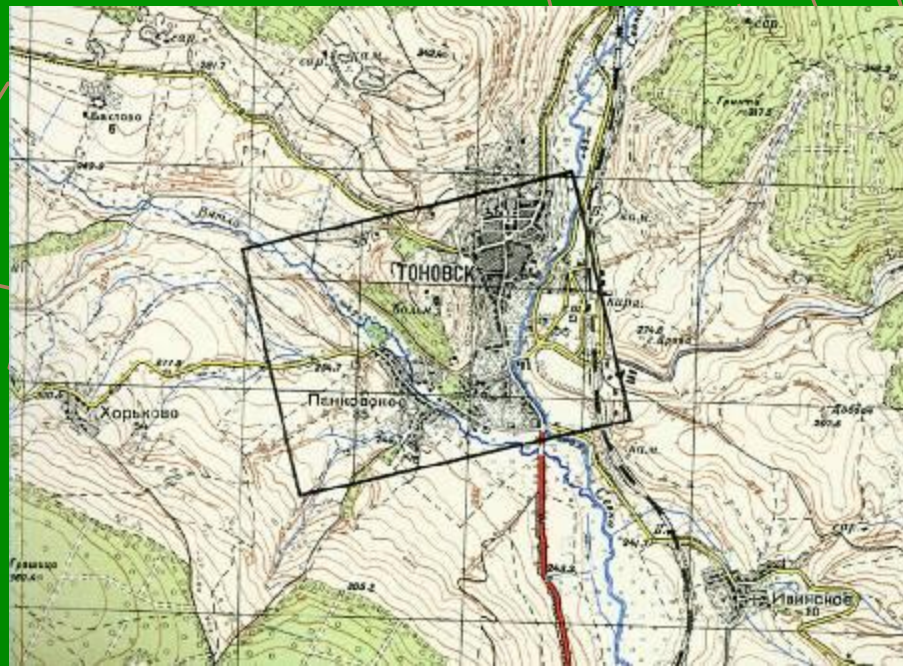
Подробность изо-
бражения невелика



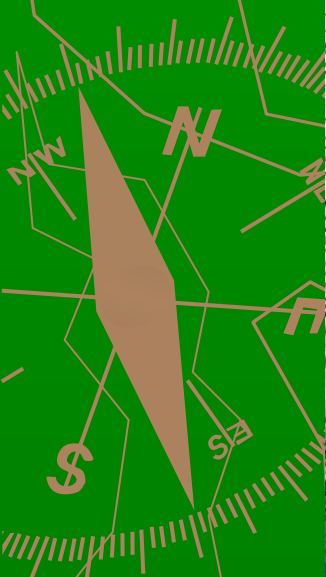
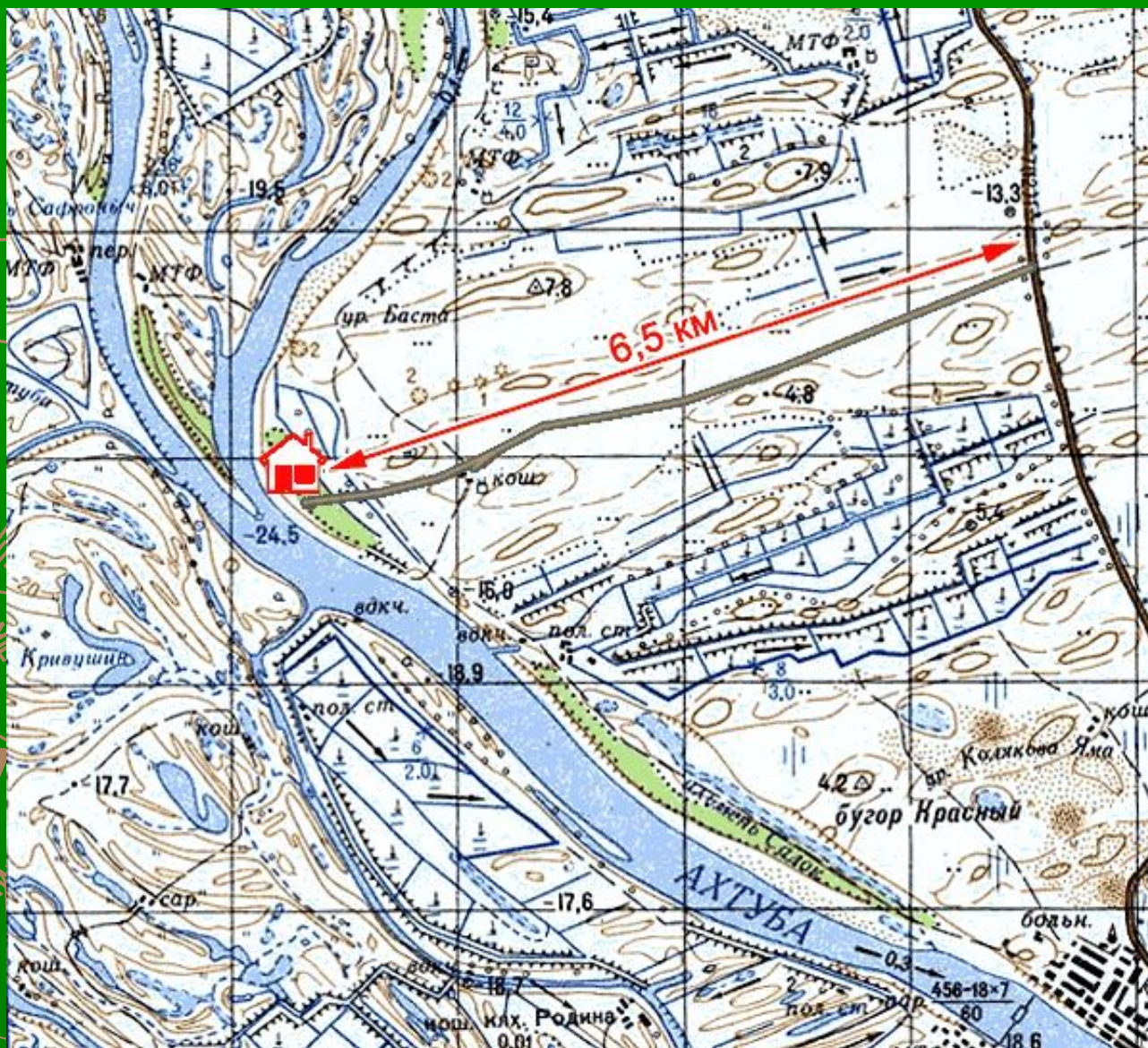
Аэрофотоснимок, КОСМИЧЕСКИЙ СНИМОК



Аэрофотоснимок и план местности



План местности



Запомните

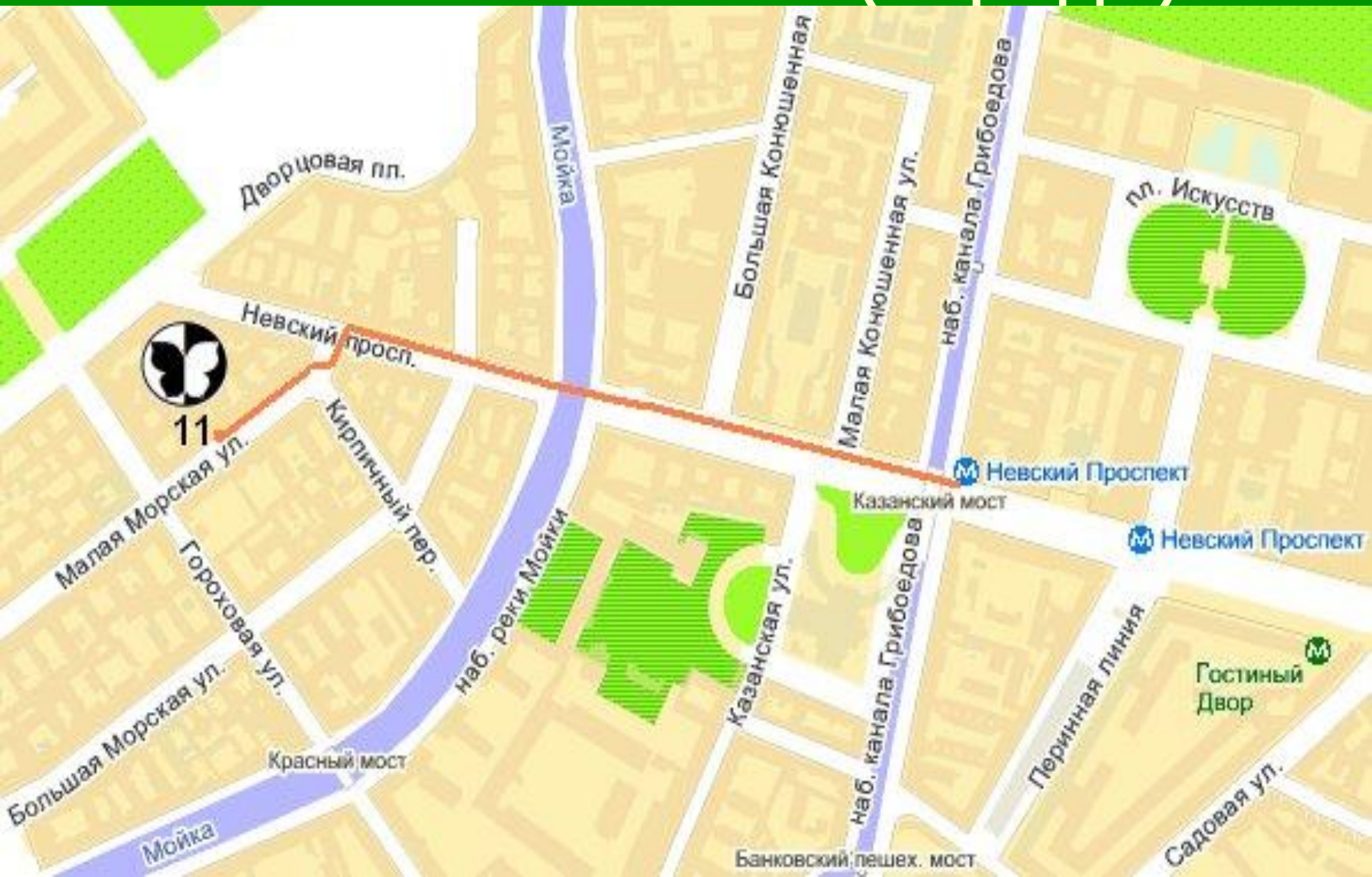
Положительные

Показывает местность сверху
Все предметы изображены с помощью условных знаков с пояснениями
Дает много информации, по нему удобно изучать территорию

Отрицательные

Размеры изображаемой территории невелики

План местности (города)



Географическая карта



Физическая карта России

ЗАПАДНОЕ
ПОЛУШАРИЕ



ВОСТОЧНОЕ
ПОЛУШАРИЕ



Карта полушарий

Запомните


Положительные

Показывает всю по-
верхность Земли или
ее большие части
Все объекты изобра-
жены с помощью ус-
ловных знаков


Отрицательные

Изображены только
самые большие объ-
екты
Есть искажения

Глобус



Изображение древнего глобуса



Запомните

Положительные

**Модель Земли
Точно передает форму
и расположение объ-
ектов**

**Не имеет искажений
Объекты показаны с
помощью условных
знаков**

Отрицательные

**Изображены только
крупные объекты
Мало информации**

Глобус



Отличия основных видов изображений

Признаки	Аэро- фотоснимок	План	Карта	Глобус
1. Охватывает небольшие или обширные участки земной поверхности				
2. Отражены реальные или уменьшенные размеры объектов				
3. Объекты похожи на их реальный вид на местности или изображены с помощью условных знаков.				
4. Изображены все объекты, видимые сверху, или только важные.				

Отличия основных видов изображений

Признаки	Аэро-фотоснимок	План	Карта	Глобус
1. Охватывает небольшие или обширные участки земной поверхности	Небольшие	Небольшие	Обширные	Обширные
2. Отражены реальные или уменьшенные размеры объектов	Уменьш.	Уменьш.	Уменьш.	Уменьш.
3. Объекты похожи на их реальный вид на местности или изображены с помощью условных знаков.	Реальный вид	Условные знаки	Условные знаки	Условные знаки
4. Изображены все объекты, видимые сверху, или только важные.	Все объекты	Только важные	Только важные	Только важные

Какое утверждение верно для всех видов изображений земной поверхности:

- А) Объекты похожи на их реальный вид на местности;
- Б) Отражены уменьшенные размеры объектов;
- В) Изображены все объекты, видимые сверху;
- Г) Охватывают небольшие участки земной поверхности

Домашнее задание

1. Выучить конспект

