

# Стороны горизонта.





# Стороны горизонта.





# Стороны горизонта.



1. Что случилось в лесу?
2. Почему девочка плакала?
3. Кто ей помог?
4. Почему Эхо так поступило?
5. Что могло бы произойти, если бы помощь не подоспела?
6. Что нужно знать, чтобы избежать подобной ситуации?
7. Почему девочка не видела





# Горизонт.

- Наша планета очень большая, поэтому мы всегда видим лишь её малую часть.
- На открытых пространствах — в поле, на берегу моря — видно, что где-то далеко небо сходится с землёй. В городе наш взгляд всегда упирается в какие-то предметы.
- Видимое глазом пространство называют горизонтом (от греческого слова «горизон» — ограничивающий), а воображаемую
- линию, его ограничивающую, — линией горизонта





# Горизонт.

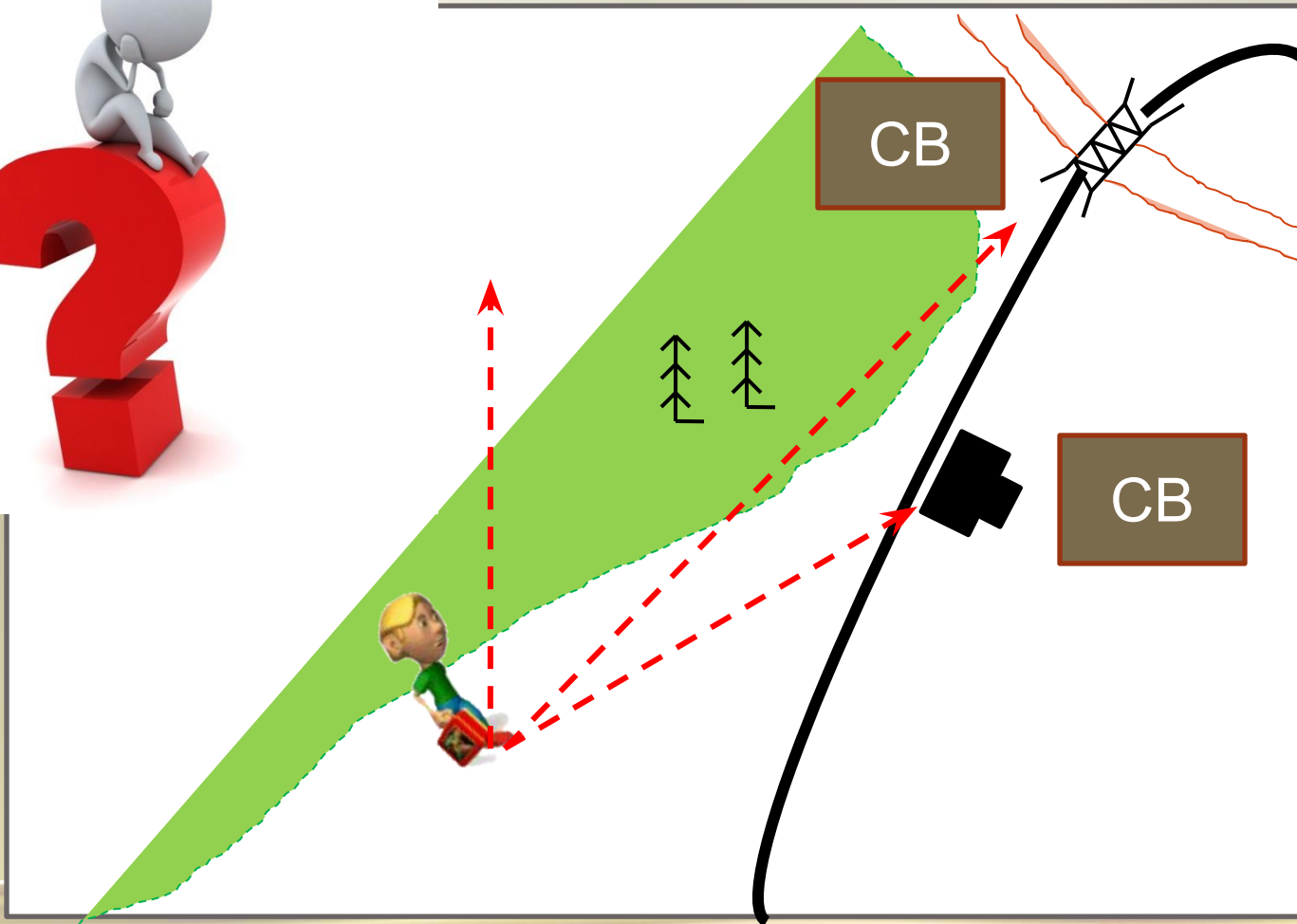


Стр. 78 учебника. Выпишите  
определение.



Вам предстоит дойти до ж/д станции. В каком направлении вы пойдете?

В каком направлении находится ж/д мост?



Как узнать, куда вам идти?






# ! Стороны горизонта.

- Прежде всего, важно запомнить, что существуют четыре **основные стороны горизонта**: север, юг, восток и запад.
- Сокращённо стороны горизонта обозначают заглавными буквами:
- север — **С**, юг — **Ю**, восток — **В**, запад — **З**
- Между основными сторонами горизонта находятся **промежуточные**:
- северо-запад (**СЗ**), северо-восток (**СВ**), юго-восток (**ЮВ**), юго-запад (**ЮЗ**).





# Стороны горизонта.



Стр. 79 учебника. Нарисуйте в тетради стороны горизонта.



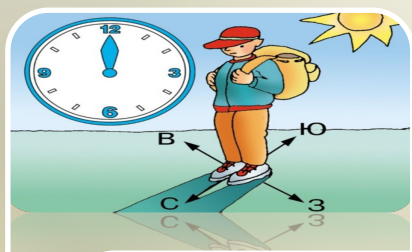


# Ориентирование.

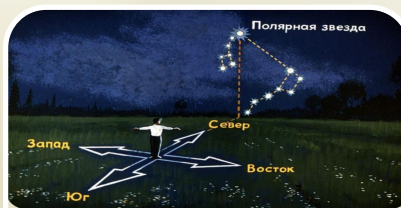
- Зная стороны горизонта, можно определить своё местоположение.
- Умение определять своё местоположение относительно сторон горизонта и отдельных объектов называют ориентированием.
- Ориентироваться на местности можно разными способами: с помощью приборов, например компаса, по звёздам, а также по местным признакам.



# Ориентирование.



Солнце



Звёзды




Местны  
е  
признак  
и





# Ориентирование.

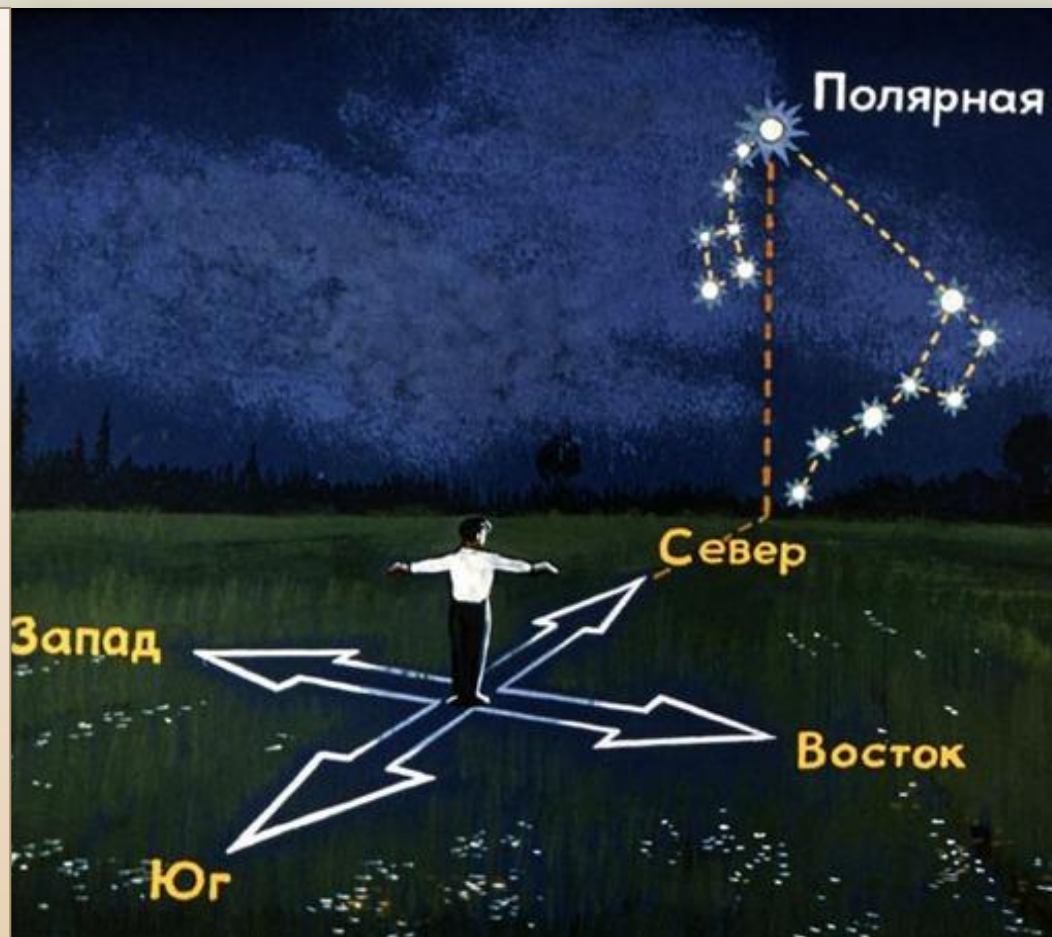
- Если в полдень встать спиной к Солнцу и развести руки, то падающая от вас тень будет указывать Север, позади вас будет Юг, справа – Восток, слева – Запад



# Ориентирование.

- Если встать лицом к Полярной звезде и развести руки, то перед нами будет Север, позади нас будет Юг, справа – Восток, слева –

Запад.





# Ориентирование.



Ю муравейник



Ю

трава гуще



С

камни-валуны,  
мох, лишайник



Ю

кора у берёзы  
чище и белее

## Устройство компыа



Ю

лунка в снегу

1. предохранитель
2. корпус
3. стрелка (сине-красная)



Ю

крона у сосны  
гуще



Ю

снег тает быстрее



Ю

смола





# Рефлексия

- Я узнал
- Я не по
- Мне бы



# Задание на дом.

- 1. п 16 прочитать, кратко пересказать.
- 2. с. 80 Проверь свои знания.

