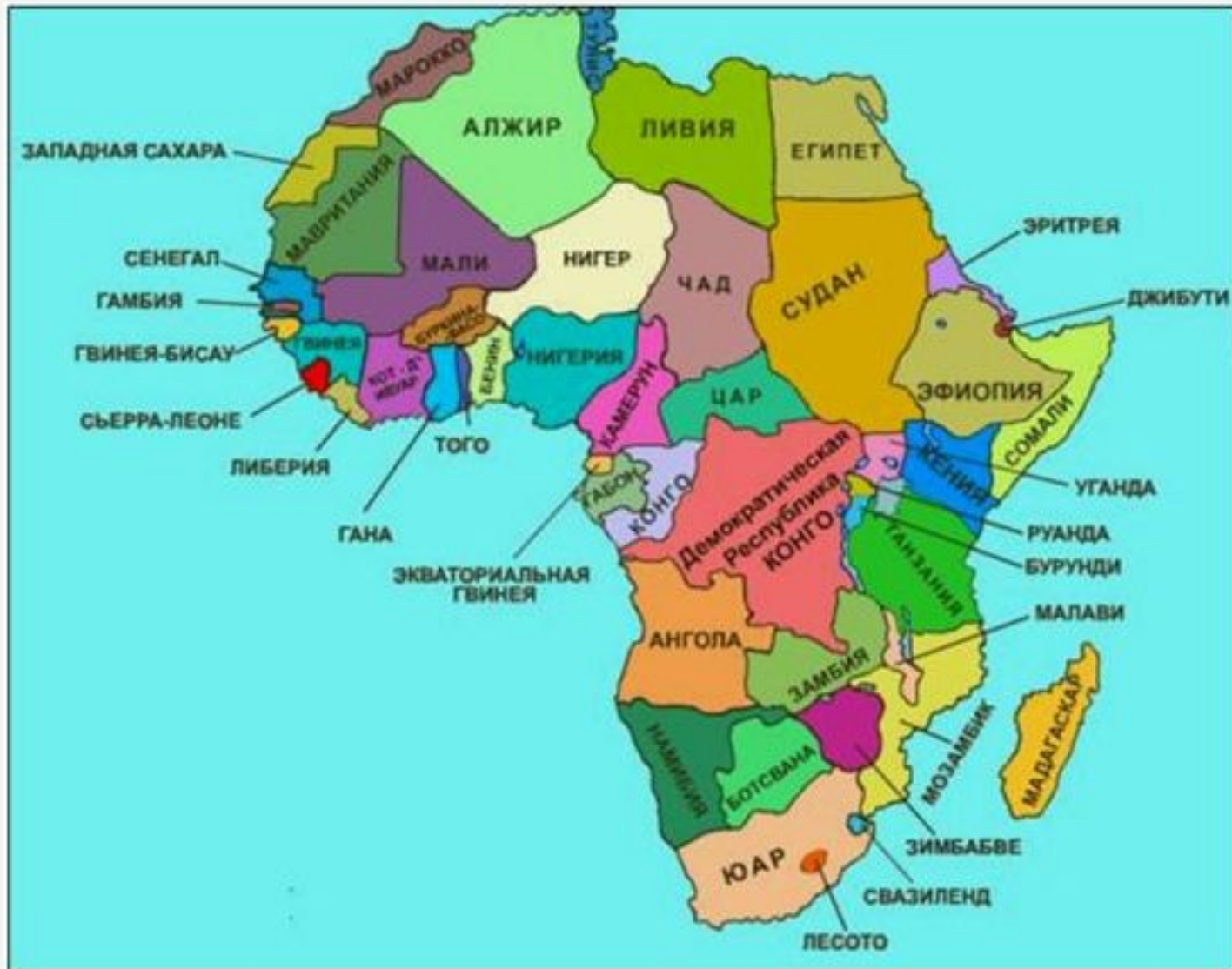


II  
КЛАСС

# АФРИКА

ЩЕЛОЧКОВА Н.С

# АФРИКА



# СУБРЕГИОНЫ АФРИКИ



# Природные ресурсы Африки.

Африка обладает исключительно разнообразными природными ресурсами. Минеральное сырье отличается высоким качеством и добывается часто открытым способом.

Добыча минерального сырья в основном ведется в пределах семи горнодобывающих районов:

1. Алжиро-Ливийский;
2. Атласский;
3. Египетский;
4. Западно-Гвинейский;
5. Восточно-Гвинейский;
6. Медный пояс;
7. Южно-Африканский.

## МИНЕРАЛЬНЫЕ РЕСУРСЫ

Условные обозначения:

Полезные ископаемые:

- - энергетические
- - металлические
- - неметаллические
- ▨ - важнейшие горно-промышленные районы
- - каменный уголь
- ▲ - нефть
- ▲ - природный газ
- ▲ - железные руды
- ▲ - марганцевые руды
- ▲ - хромовые руды
- ▲ - кобальтовые руды
- - бокситы
- - медные руды
- ⊕ - полиметаллические руды
- - оловянные руды
- ▽ - никелевые руды
- - золото
- - платиноиды
- - урановые руды
- +
- - фосфориты
- \* - алмазы
- - каменная соль
- Φ - флюорит


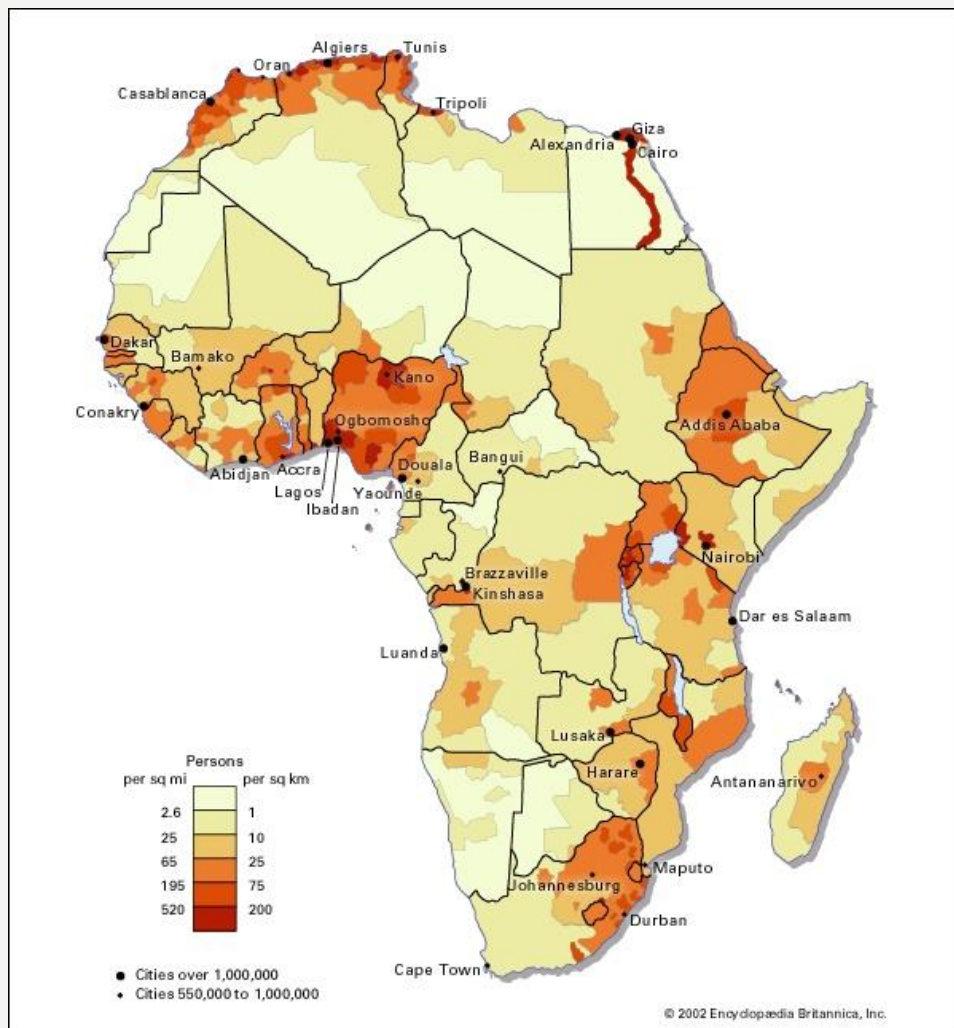


## ЗАДАНИЕ.

Используя карты атласа, проведите классификацию стран Африки по степени их богатства полезными ископаемыми. Составьте таблицу по следующей форме:

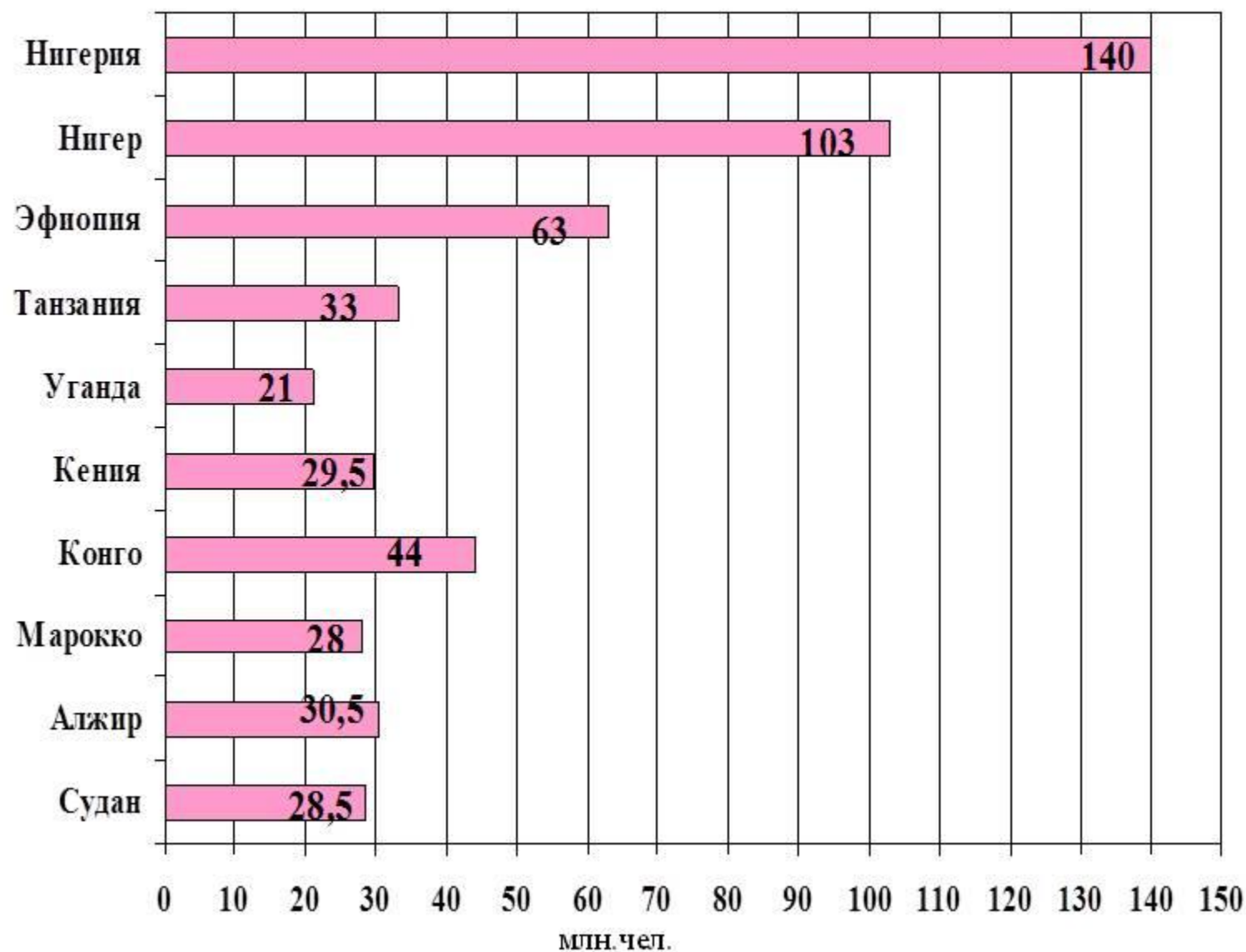
Страны, богатые ресурсами разнообразного минерального сырья.	Страны, богатые одним-двумя видами минерального сырья.	Страны, бедные минеральным сырьем.

# НАСЕЛЕНИЕ АФРИКИ



# Численность населения в некоторых странах Африки.

Диаграмма «Страны Африки с численностью населения более 20 млн. чел.».



Используя «визитную карточку» на форзаце учебника В.П. Максакковского:

1 - найдите страны Африки с населением более 10 млн. чел.;

2 - рассчитайте среднюю плотность населения Нигерии.

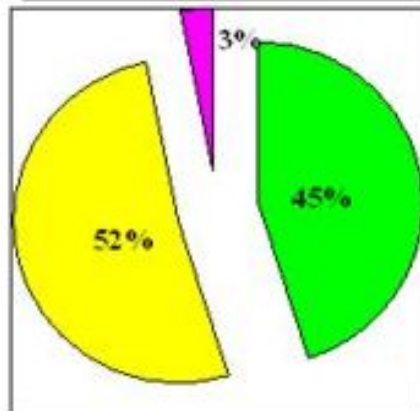
**Плотность населения**

=

$\frac{\text{численность (млн. чел.)}}{\text{площадь страны (млн. км}^2\text{)}}$

# Половозрастной состав населения Африки

Возрастной состав населения.



■ дети (0 - 14 лет)  
■ взрослые (15 - 59 лет)  
■ пожилые (старше 59)

Высокая доля детских возрастов, приведет в дальнейшем к обострению проблем занятости, образования, здравоохранения. Качество населения в Африке самое низкое, более половины взрослых неграмотны. Средняя продолжительность жизни 50 лет.



Рассмотрите карту «Соотношение мужчин и женщин».

1. Что характерно для полового состава населения в целом для региона?
2. Перечислите страны Африки, в которых преобладают женщины.
3. Перечислите страны Африки, в которых преобладают мужчины.

QuickTime™ and a TIFF (Uncompressed) decompressor are needed to see this picture.



# АФРИКА





# Расовый и этнический состав населения Африки.

РАСЫ АФРИКИ



- Негроидные расы**
- Негры
  - Негрилли (Пигмеи)
  - Бушмены и готтентоты
- Переходные группы между экваториальными и европеоидными расами**
- Переходные группы Западного Судана
  - Эфиопская раса
  - Смешанные группы Судана
  - Южноафриканские цветные
- Европеоидные (Евразийские) расы**
- Переходные
  - Южные
- Переходные группы между монголоидными и экваториальными расами**
- Малагасийцы
  - Незаселенные территории

На континенте выделяют более 400 этносов. В Северной Африке сложились крупные нации, но большинство населения находится на уровне народностей. Сохраняются пережитки родоплеменного строя (рисунки внизу).

Народы Северной и Северо-Восточной Африки говорят на языках хамито-семитской семьи (арабы, берберы). Районы Экваториальной, Восточной и Южной Африки заселены народами банту (язык – суахили). Большинство стран южнее Сахары сохраняют языки бывших метрополий – английский, французский, португальский. В ЮАР кроме английского государственным является язык африкаанс (сильно измененный голландский). На континенте нет однонациональных государств.

НАРОДЫ АФРИКИ



- Народы:**
- Семитская группа**
- Арабская подгруппа
  - Эфиопская подгруппа
  - Кушитская группа
  - Берберская группа
  - Чадская группа
- Группа Нигер-Конго**
- Западноатлантическая подгруппа
  - Подгруппа монде
  - Вольтийская подгруппа
  - Подгруппа ква
  - Адамауа-восточная подгруппа
  - Подгруппа бенуэ-конго
- Группа Сонги
  - Сахарская группа
- Шари-нильская группа**
- Восточносуданская подгруппа
  - Центральносуданская подгруппа
  - Подгруппа верта
- Южно-Африканская консанская группа
  - Австронезийская семья
  - Индоевропейская семья
  - территории, не имеющие постоянного населения






# Религиозный состав населения.

## РЕЛИГИИ АФРИКИ







Конфессиональный состав населения Африки в 2000г.

### Христиане

-  - Римско-католики
-  - Монофизиты
-  - Англикане, Лютеране, Кальвинисты, Методисты, Баптисты, Адвентисты, Пятидесятники

### Мусульмане

-  - Сунниты
-  - Бахаисты
-  - Приверженцы традиционных верований
-  - Незаселенные территории

Проанализируйте карту. Какие религии получили распространение в различных регионах Африки?

# Общая характеристика хозяйства стран Африки.

После завоевания независимости страны Африки начали предпринимать усилия по преодолению вековой отсталости. Была осуществлена национализация природных ресурсов, проводится аграрная реформа, готовятся национальные кадры. Началась перестройка отраслевой структуры, которая носила колониальный характер, то есть преобладающее значение имела горнодобывающая промышленность и основной доход страны получали от экспорта минерального сырья.

В настоящее время сохраняется колониальный тип отраслевой структуры экономики – преобладает сельскохозяйственное производство и горнодобывающая промышленность, в то время как отрасли обрабатывающей промышленности находятся на стадии зарождения. Характерна так же однобокость развития экономики – узкая ( монотоварная) специализация хозяйства страны на производстве одного товара, предназначенного для экспорта.



# Сельское хозяйство Африки.

? Вспомните, чем отличается товарное сельское хозяйство от потребительского?

**Товарное сельское хозяйство** – преобладает в развитых странах. Представлено крупными хорошо организованными фермами и плантациями с широким использованием наёмной рабочей силы. Т.е.х. ориентировано прежде всего на рынок, в особенности на экспорт с.х. продукции.

**и** **увеличить**

**Потребительское сельское хозяйство** – остаточный тип с.хоз-ва, распространённый в развивающихся странах, представленный мелкими хозяйствами. Техническая вооружённость низкая, урожайность низкая. Продукция идет главным образом на удовлетворение нужд самих работающих.

## СЕЛЬСКОЕ ХОЗЯЙСТВО

- 1 - Саута и Масиля (Исп.)
- 2 - Гамбия
- 3 - Гвинея-Бисау
- 4 - Кото-Д'Ивуар
- 5 - Сьерра-Леоне
- 6 - Либерия
- 7 - Того
- 8 - Бенин
- 9 - Экваториальная Гвинея
- 10 - Сан-Томе и Принсипи
- 11 - Лесото
- 12 - Свазиленд
- 13 - Малави
- 14 - Мозамбик
- 15 - Бурунди
- 16 - Руанда
- 17 - Джибути
- 18 - Эритрея



### Специализация сельского хозяйства:

- Потребительское хозяйство
- Неиспользуемые и малоиспользуемые земли
- Товарное земледелие и скотоводство
- Товарное земледелие
- Товарное скотоводство

На карте видно, что на большей части Африки распространён потребительский тип сельского хозяйства.

Основная сфера материального производства африканских стран – сельское хозяйство. В некоторых из них (Чад, Мали, Руанда, ЦАР) в нём занято более 80% населения. Главное значение в большинстве стран Африки имеет земледелие. В структуре земледелия различают экспортные и потребительские культуры. Доля Африки в продукции сельского хозяйства мира.

Продукция	Доля в %	Продукция	Доля в %
Какао-бобы	54	Арахис	20
Маньока	42	Кофе	21
Сизаль	27	Просо и сорго	20



Сбор урожая.

# Промышленность Африки

Основы национальной промышленности закладываются лишь в наши дни. Континент по-прежнему остается наименее индустриальной частью мира. Иностраный капитал был заинтересован лишь в минеральном сырье и поэтому энергично развивал здесь горнодобывающую промышленность.

В структуре обрабатывающей промышленности ведущее место занимает легкая и пищевая промышленность. В последнее время наметилась тенденция

к повышению роли металлургии, нефтепереработки. Промышленные районы размещены в местах добычи и производства сырья и на побережье.

? Проанализируйте карту «Промышленность Африки».

Выделите страны с наибольшим набором отраслей обрабатывающей промышленности.

## ПРОМЫШЛЕННОСТЬ АФРИКИ

- 1 - Сеута и Мелилья (Исп.)
- 2 - Гамбия
- 3 - Гвинея-Бисау
- 4 - Кото-д'Ивуар
- 5 - Сьерра-Леоне
- 6 - Либерия
- 7 - Того
- 8 - Бенин
- 9 - Экваториальная Гвинея
- 10 - Сан-Томе и Принсипи
- 11 - Лесото
- 12 - Свазиленд
- 13 - Малави
- 14 - Маврикий
- 15 - Бурунди
- 16 - Руанда
- 17 - Джибути
- 18 - Эритрея

Доля промышленности в ВВП:

- Красный цвет - свыше 40%
- Синий цвет - от 25 до 40%
- Зеленый цвет - от 15 до 25%
- Желтый цвет - менее 15%

Обрабатывающая промышленность:

- Черная металлургия
- Цветная металлургия
- Нефтеперерабатывающая
- Химическая
- Машиностроение и металлообработка
- Строительных материалов
- Текстильная
- Пищевая



# Транспорт

Средняя густота транспортной сети:

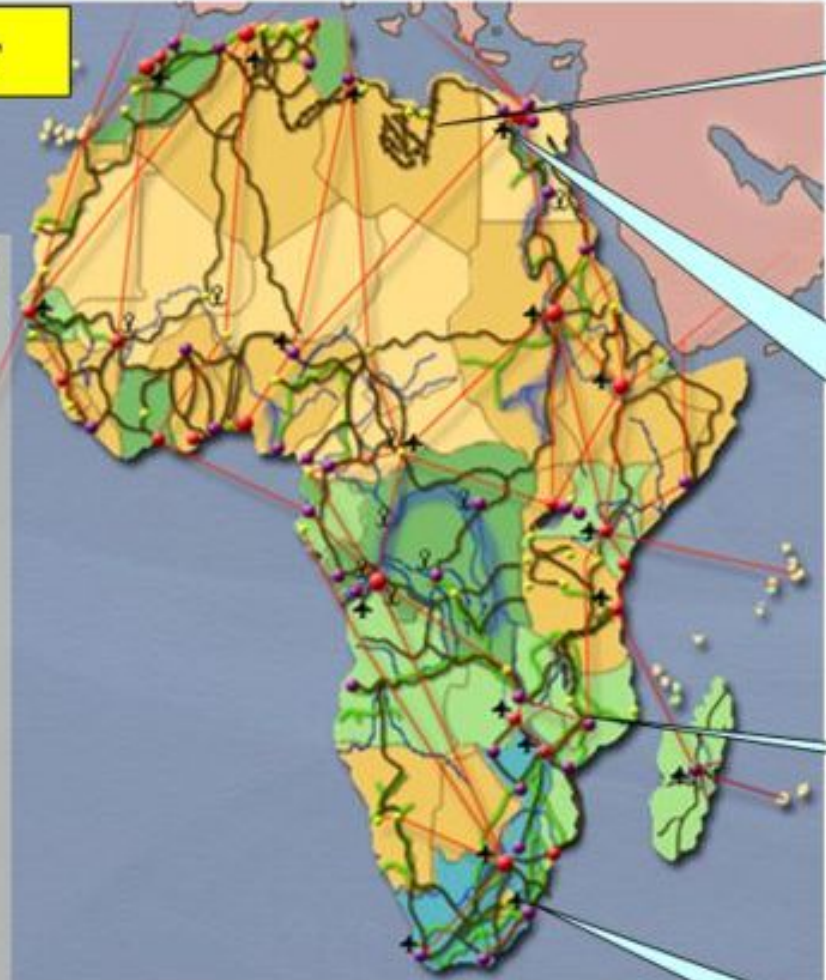
- Свыше 50
- От 31 до 50
- От 21 до 30
- От 11 до 20
- До 10

Крупнейшие транспортные узлы:

- Международные комплексные функциональные
- Прочие многофункциональные
- Монофункциональные

Транспортная сеть:

- Важнейшие авиалинии
- Автодороги
- Железные дороги
- Нефтегазопроводы
- Важнейшие судоходные участки рек
- Крупные аэропорты
- Речные порты и пристани



Газопровод



Крупнейший в Африке аэропорт Каир



Пассажирский поезд на паровой тяге



Пригородный поезд на электрической тяге.



Важной задачей для развития экономики является формирование современной транспортной сети и удобной её конфигурации. Долгое время транспортная система Африканских стран выполняла роль перевозчика сырья от места добычи до порта. Поэтому наибольшее развитие получили железнодорожный и морской транспорт. За годы независимости получили развитие и другие виды транспорта.