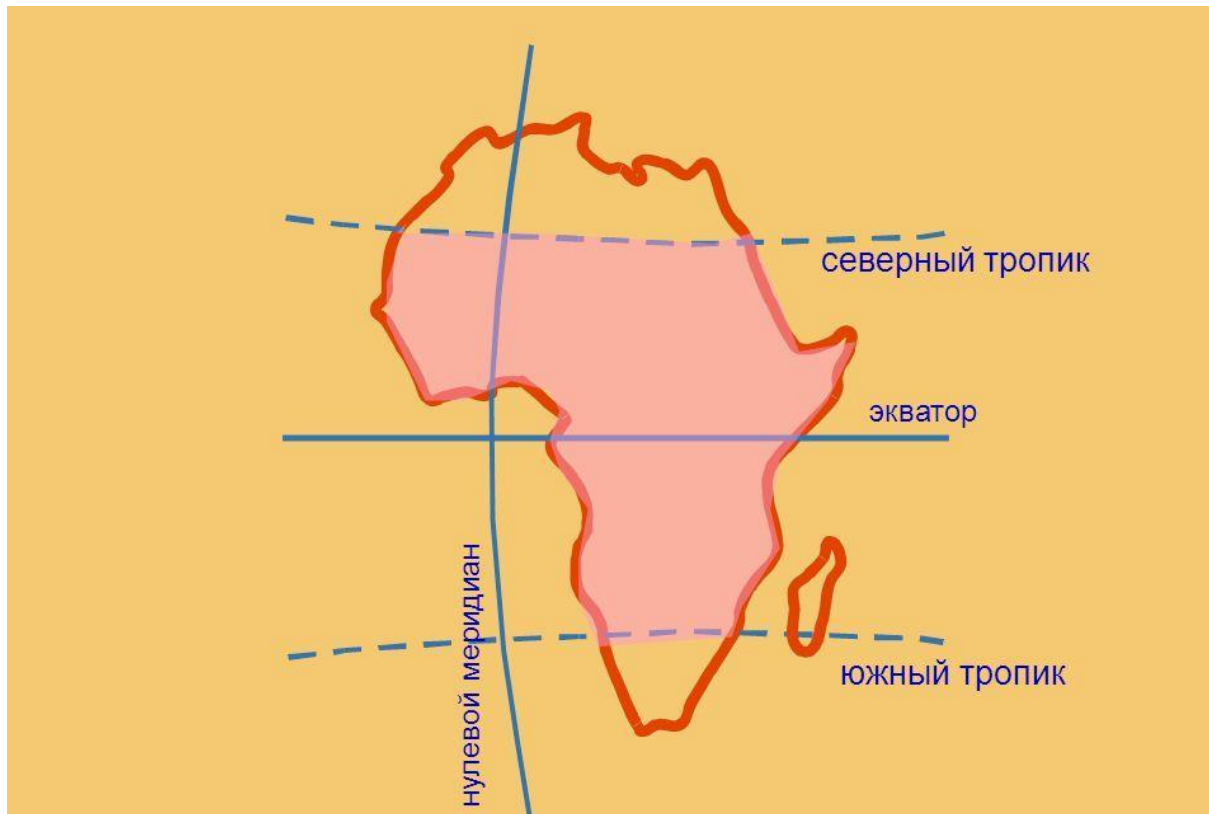


Географическое положение Африки



1) Определите как расположен материк относительно экватора, тропиков (полярных кругов) и нулевого меридиана?



Внимательно посмотри на карту и ответь на вопрос письменно.

!!!Подсказка

В ответе используй следующие слова: «пересекает», «не пересекает».

Уточняй, где пересекает: «на западе», «на юге» и т.д

2) Найдите крайние точки материка, определите их координаты.



Внимательно посмотри на карту и определи:

южная крайняя точка: _____

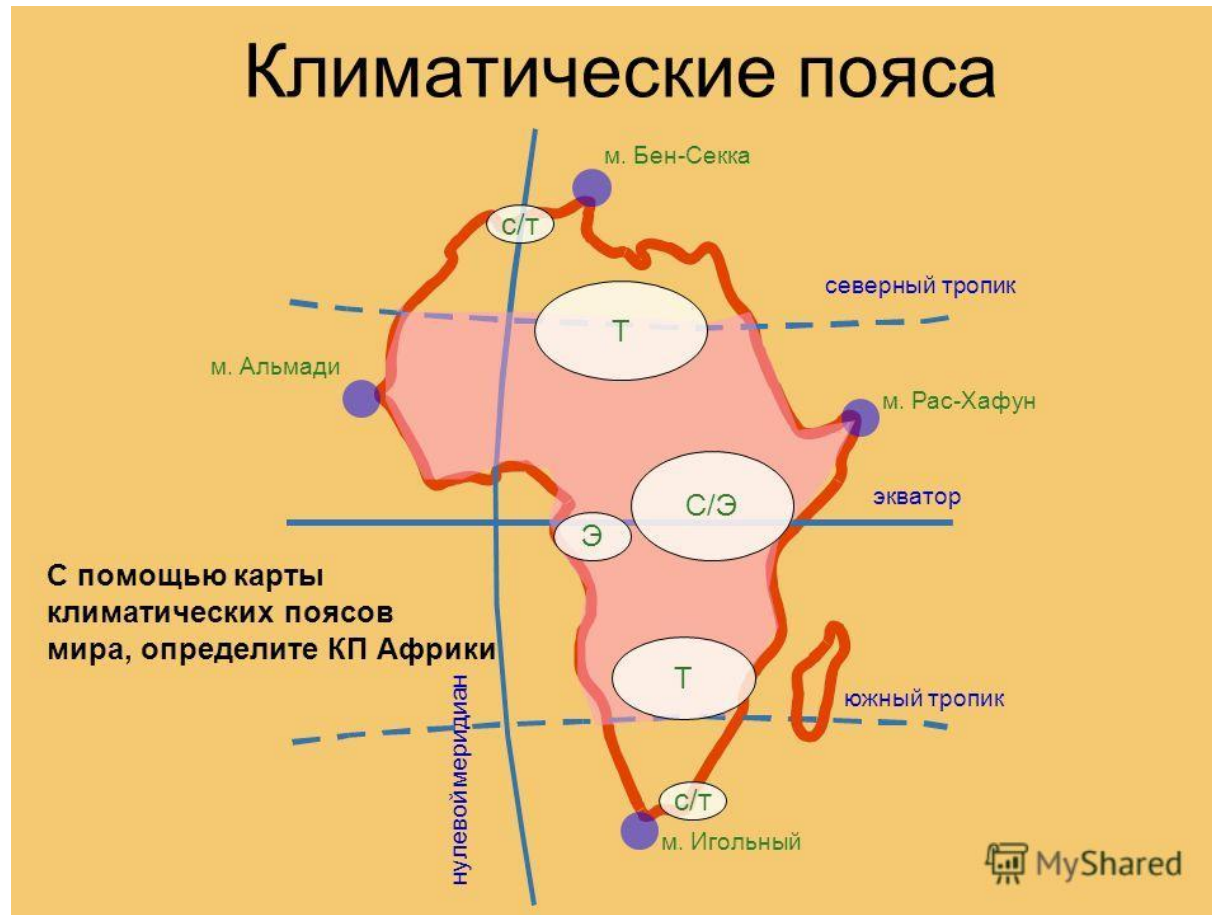
северная крайняя точка: _____

восточная крайняя точка: _____

западная крайняя точка: _____

Рядом с названием укажи координаты крайних точек. Для этого используй карту атласа: «Африка. Физическая карта».

3) В каких климатических поясах расположен материк?



Используй карту атласа
«Климатические пояса и области мира»
или
«Природные зоны Африки»
ответь на вопрос письменно.

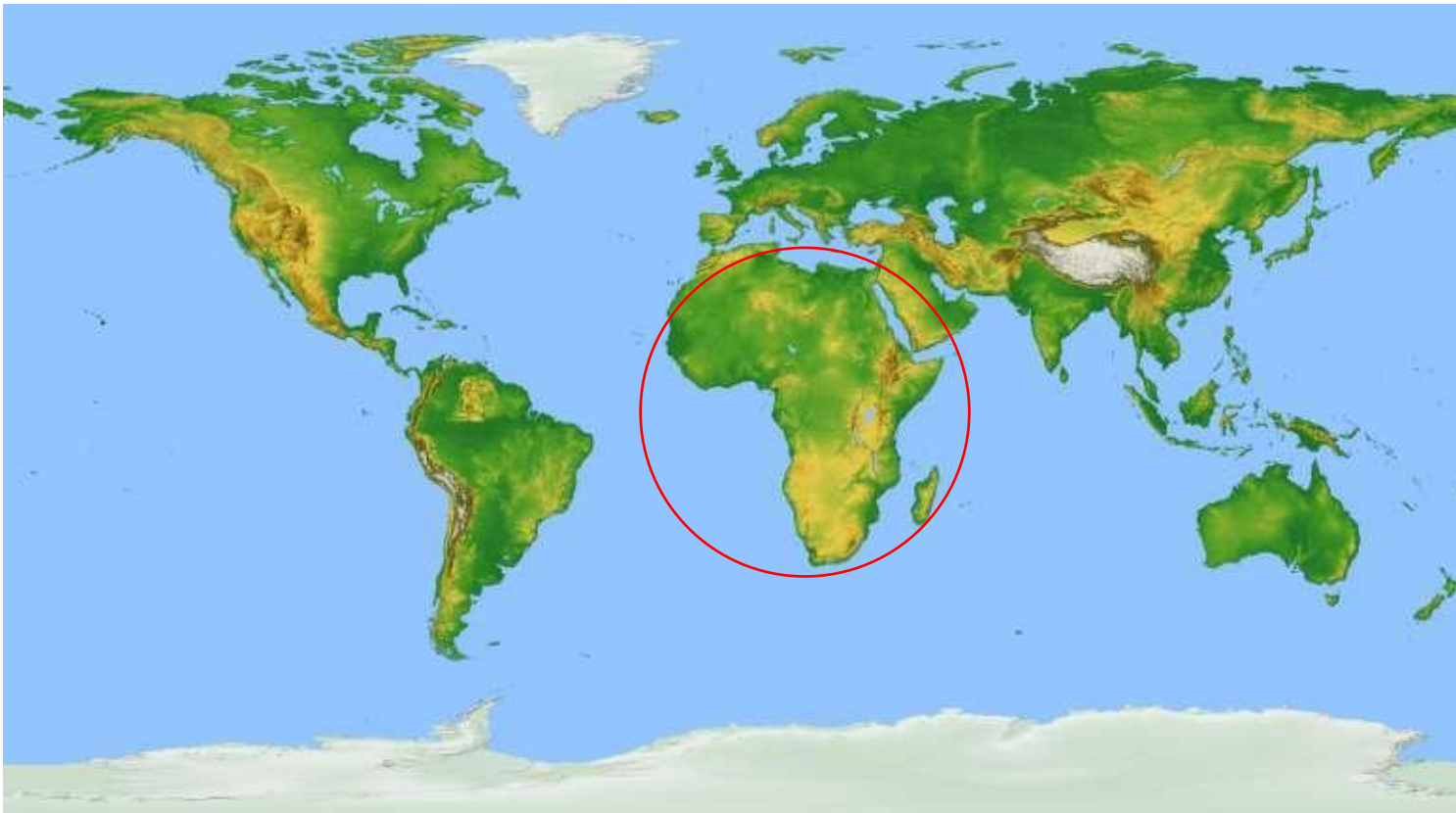
4) Определите, какие моря и океаны омывают материк?



Для ответа используй карту атласа:
«Африка. Физическая карта». Ответ
запиши в тетрадь



5) Как расположен материк относительно других материков?



!!! Подсказка

Ответ должен содержать следующие слова: «Африка расположена западнее, южнее» и т.д

- Южный мыс Африки Игольный
- Соотнести крайние точки и стороны горизонта
- Какой картой необходимо пользоваться, чтобы определить климатический пояс
- Какие океаны омывают Африку
- Пересекает ли нулевой меридиан, экватор, южный тропик, северный полюс Африку