

Закончите предложения



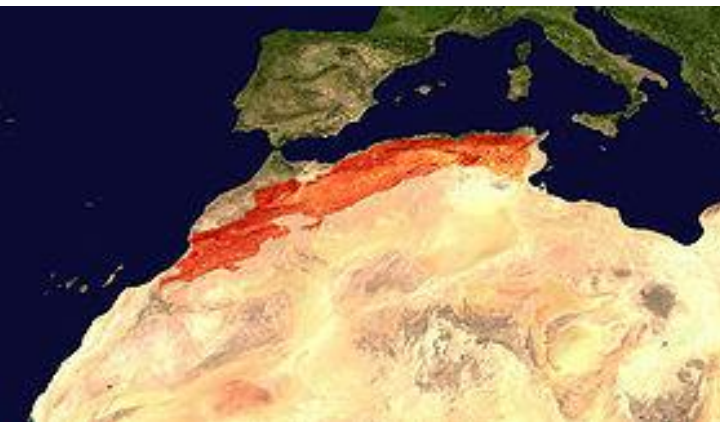
1. Африка посередине пересекается
2. Нулевой меридиан пересекает Африку с ...
3. Африку омывают океаны. Их по количеству ...
4. С севера материк омывается ...
5. Восточной крайней точкой материка является ...
6. Гвинейский залив расположен на ... материка.
7. Самый большой остров у берегов Африки ...
8. На северо-востоке Африку омывает ...

Природа Африки



Рельеф материка

Большей частью — равнинный, на северо-западе расположены Атласские горы, в Сахаре — нагорья Ахаггар и Тибести. На востоке — Эфиопское нагорье, к югу от него Восточно-африканское плоскогорье, где находится вулкан Килиманджаро (5895 м) — высочайшая точка материка. На юге расположены Капские и Драконовы горы. Самая низкая точка (157 метров ниже уровня Мирового океана) расположена в Джибути, это солёное озеро Ассаль.



Атласские горы



Нагорье Ахаггар



Нагорье Тибести





Эфиопское нагорье




Восточно-Африканское плоскогорье





Драконовы горы

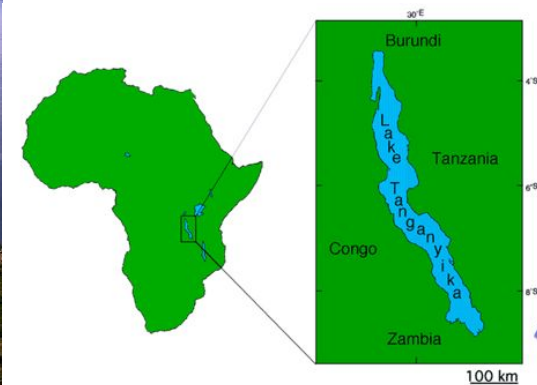

Капские горы




Внутренние воды

- В Африке расположена одна из самых протяжённых рек в мире — **Нил** (6852 км), текущая с юга на север. Другие крупнейшие реки — это **Нигер** на западе, **Конго** в центральной Африке, **Замбези**, **Лимпопо** и **Оранжевая** на юге.
- Крупнейшее озеро — **Виктория** (средняя глубина 40 м, наибольшая 80 м). Другие крупные озёра — **Ньяса** и **Танганьика**, расположенные в литосферных разломах. Одно из крупнейших солёных озёр — **озеро Чад**, расположенное на территории одноимённого государства.





Озёра Африки



Пустыни Африки


На севере расположена крупнейшая на Земле пустыня **Сахара**, на юге — пустыня **Калахари**, на юго-западе пустыня **Намиб**.



Органический мир

Вельвичия (Тумбоа)

Срок жизни вельвичии очень велик. Возраст некоторых растений был определён радиоуглеродным методом — он составил около двух тысяч лет.



Вельвичия на гербе Намибии



Крупнейшая известная Вельвичия высотой в 1,4 м и диаметром более 4 м, возраст — около 1500 лет



Домашнее задание

Параграф 22 – полностью;

контурная карта – подписать формы рельефа на материке Африка и показать месторождения полезных ископаемых.

Дополнительно: сообщения об удивительных объектах Африки (растения, животные, объекты природы и т.д.)