

**МБОУ «СУВОУ для ОсДП»,
Пермский край, г.Лысьва.
Учитель 1 кв.категории
ВАСИЛЬЕВА ОКСАНА ЕВГЕНЬЕВНА**



***САМОСТОЯТЕЛЬНАЯ РАБОТА
ПО ТЕМЕ
«ПОЛИТИЧЕСКАЯ
КАРТА МИРА»***


ЗАДАНИЕ №1.

**ОПРЕДЕЛИТЬ СТРАНЫ
ПО ИХ ОПИСАНИЮ.**

**СОБЛЮДАЙТЕ ПОСЛЕДОВАТЕЛЬНОСТЬ.
ЭТО ПОМОЖЕТ ОПРЕДЕЛИТЬ ОДИН ИЗ
ПРИЗНАКОВ ДЕЛЕНИЯ СТРАН В МИРЕ.**

А.

- ОДНА ИЗ КРУПНЕЙШИХ ПО ТЕРРИТОРИИ И ЧИСЛЕННОСТИ НАСЕЛЕНИЯ СТРАН МИРА;
- ИМЕЕТ ВЫХОД К ТРЁМ МОРЯМ ОДНОГО ОКЕАНА;
- ПО ЕЁ ТЕРРИТОРИИ ПРОТЕКАЮТ ДВЕ ВЕЛИКИЕ РЕКИ;
- СТРАНА ЯВЛЯЕТСЯ РОДИНОЙ МНОГИХ КУЛЬТУРНЫХ РАСТЕНИЙ: РИСА, ПРОСА, СОИ, ЧАЯ;
- ДОБЫВАЮТ УГОЛЬ, РУДЫ ЖЕЛЕЗА И МНОГИХ ЦВЕТНЫХ МЕТАЛЛОВ.




Б.

- **МНОГОНАЦИОНАЛЬНАЯ СТРАНА ЮЖНОЙ АЗИИ;**
- **ИМЕЕТ ВЫСОКИЙ ЕСТЕСТВЕННЫЙ ПРИРОСТ НА СЕЛЕНИЯ;**
- **В СЕЛЬСКОМ ХОЗЯЙСТВЕ ПРЕОБЛАДАЕТ ПРОДУКЦИЯ РАСТЕНИЕВОДСТВА, ХОТЯ ПОГОЛОВЬЕ ДОМАШНЕГО СКОТА ОЧЕНЬ МНОГОЧИСЛЕННО;**
- **СКОТ ИСПОЛЬЗУЕТСЯ ПРЕИМУЩЕСТВЕННО В КАЧЕСТВЕ ТЯГЛОВОЙ РАБОЧЕЙ СИЛЫ.**




В.

- **РАСПОЛОЖЕНА В ЗАПАДНОМ ПОЛУШАРИИ;**
- **ОСНОВНАЯ ЧАСТЬ ТЕРРИТОРИИ РАВНИННАЯ, НАИБОЛЕЕ ВЫСОКИЕ ГОРЫ РАСПОЛОЖЕНЫ НА ЗАПАДЕ СТРАНЫ;**
- **ПО ДОБЫЧЕ НЕФТИ, ПРИРОДНОГО ГАЗА, УГЛЯ И ВЫПЛАВКЕ СТАЛИ ЭТА СТРАНА ВХОДИТ В ПЯТЕРКУ МИРОВЫХ ЛИДЕРОВ;**
- **ВЫСОКИЙ УРОВЕНЬ РАЗВИТИЯ ВСЕХ ОТРАСЛЕЙ ХОЗЯЙСТВА ОПРЕДЕЛЯЕТ ПОЛОЖЕНИЕ СТРАНЫ В ГРУППЕ МИРОВЫХ ЛИДЕРОВ ПО ПОКАЗАТЕЛЮ ВВП НА ДУШУ НАСЕЛЕНИЯ.**




Г.

- **ТЕРРИТОРИЯ ЭТОЙ СТРАНЫ РАСПОЛОЖЕНА В СЕВЕРНОМ И ЮЖНОМ ПОЛУШАРИЯХ НА ОСТРОВАХ САМОГО КРУПНОГО НА ЗЕМЛЕ АРХИПЕЛАГА;**
- **ПРЕОБЛАДАЮЩЕЙ РЕЛИГИЕЙ ЯВЛЯЕТСЯ ИСЛАМ;**
- **РАЗВИВАЕТСЯ МЕЖДУНАРОДНЫЙ ТУРИЗМ. ТУРИСТОВ СО ВСЕГО МИРА СЮДА ПРИВЛЕКАЮТ НЕ ТОЛЬКО ПРЕКРАСНЫЕ ПЛЯЖИ С БЕЛОСНЕЖНЫМ ПЕСКОМ, НО И ГРОЗНЫЕ ВУЛКАНЫ, И НЕПРОХОДИМЫЕ ДЖУНГЛИ, НАСЕЛЁННЫЕ ЭКЗОТИЧЕСКИМИ ЖИВОТНЫМИ И ПТИЦАМИ.**



Д.

- ГОСУДАРСТВО В ЮЖНОЙ АЗИИ;
- НАЗВАНИЕ В ПЕРЕВОДЕ ОБОЗНАЧАЕТ «ЗЕМЛЯ ЧИСТЫХ»;
- БОЛЬШАЯ ЧАСТЬ ТЕРРИТОРИИ ПРЕДСТАВЛЯЕТ СОБОЙ НАГОРЬЯ И ГОРНЫЕ РАЙОНЫ. НА СЕВЕРЕ ВОЗВЫШАЮТСЯ ХРЕБТЫ ГИМАЛАЕВ И ГИНДУКУША;
- В КАЧЕСТВЕ СУВЕРЕННОЙ ПОЛИТИЧЕСКОЙ ОРГАНИЗАЦИИ ВОЗНИКЛО В 1947 ГОДУ В РЕЗУЛЬТАТЕ РАЗДЕЛА ТЕРРИТОРИИ БРИТАНСКОЙ ИНДИИ;
- ОМЫВАЕТСЯ ВОДАМИ АРАВИЙСКОГО МОРЯ НА ЮГЕ.




Е.

- **РАСПОЛОЖЕНА В ЗАПАДНОМ ПОЛУШАРИИ;**
- **ЭТО ГОСУДАРСТВО ОБЛАДАЕТ ОЧЕНЬ КРУПНЫМИ ЗЕМЕЛЬНЫМИ, ЛЕСНЫМИ И МИНЕРАЛЬНЫМИ РЕСУРСАМИ. СТРАНА РАСПОЛОЖЕНА ЗА ПРЕДЕЛАМИ УМЕРЕННОГО КЛИМАТИЧЕСКОГО ПОЯСА. ПРАКТИЧЕСКИ ВСЕ ОБРАБАТЫВАЕМЫЕ ЗЕМЛИ И ПРОМЫШЛЕННЫЕ ЦЕНТРЫ НАХОДЯТСЯ В ЕЕ ВОСТОЧНОЙ ЧАСТИ.**




Ж.

- **РАСПОЛОЖЕНА НА ЗАПАДЕ МАТЕРИКА. ИМЕЕТ ВЫХОД К АТЛАНТИЧЕСКОМУ ОКЕАНУ;**
- **ВЕДУЩИЙ ПРОИЗВОДИТЕЛЬ НЕФТИ НА МАТЕРИКЕ. СТРАНА ВХОДИТ В СОСТАВ ОПЕК;**
- **ХАРАКТЕРЕН ВЫСОКИЙ ЕСТЕСТВЕННЫЙ ПРИРОСТ НАСЕЛЕНИЯ;**
- **НА ТЕРРИТОРИИ СТРАНЫ НАХОДИТСЯ ОДНА ИЗ ДЕСЯТИ КРУПНЕЙШИХ ГОРОДСКИХ АГЛОМЕРАЦИЙ МИРА, НО БОЛЕЕ ПОЛОВИНЫ НАСЕЛЕНИЯ СТРАНЫ ЯВЛЯЮТСЯ СЕЛЬСКИМИ ЖИТЕЛЯМИ.**




3.

- НЕБОЛЬШОЕ, ОТНОСИТЕЛЬНО МОЛОДОЕ ГОСУДАРСТВО В ЮЖНОЙ АЗИИ;
- НА ЗАПАДЕ, СЕВЕРЕ И ВОСТОКЕ ГРАНИЧИТ СО СТРАНОЙ, ВХОДЯЩЕЙ В ЧИСЛО ЛИДЕРОВ ПО ЧИСЛЕННОСТИ НАСЕЛЕНИЯ;
- ОМЫВАЕТСЯ ВОДАМИ БЕНГАЛЬСКОГО ЗАЛИВА.



И.

- ПРЕЗИДЕНТСКО-ПАРЛАМЕНТСКАЯ РЕСПУБЛИКА С ФЕДЕРАТИВНЫМ УСТРОЙСТВОМ;
- РАСПОЛОЖЕНА В СЕВЕРНОЙ И СЕВЕРО-ВОСТОЧНОЙ ЧАСТИ МАТЕРИКА ЕВРАЗИЯ;
- НАХОДИТСЯ В ДВУХ ЧАСТЯХ СВЕТА;
- ЕЕ ПЕРЕСЕКАЕТ СЕВЕРНЫЙ ПОЛЯРНЫЙ КРУГ;
- ОМЫВАЕТСЯ ТРЕМЯ ОКЕАНАМИ.



ЗАДАНИЕ №2.

ЗАПОЛНИТЕ СХЕМУ

?

?

?



ЗАДАНИЕ №3.

**ПОДБЕРИТЕ ПАРУ
ПО ПРИНЦИПУ
«СТРАНА-СТОЛИЦА»**

1	
2	
3	
4	
5	

А	АМСТЕРДАМ
Б	БРАЗИЛИА
В	БЕРН
Г	КАНБЕРРА
Д	МАДРИД