

**Муниципальное бюджетное общеобразовательное учреждение
Средняя образовательная школа № 16
село Молдаванское
Муниципального образования Крымский район**

**Географическая грамотность
учащихся
МБОУ «Средняя школа №16»
села Молдаванского**

Автор: Гуршумов Эдуард,
ученик 6 «б» класса
МБОУ «Средняя школа №16»
Руководитель: Гырнец Любовь Петровна,
учитель географии МБОУ «Средняя школа
№16»

2018 г.

Актуальность работы В этом году наша школа впервые стала площадкой для проведения международной образовательной акции географический диктант. И я тоже решил составить анкету и узнать, хорошо ли учащиеся нашей школы знают известные географические факты.

Цель работы:

- Определить уровень географической грамотности учащихся МБОУ «Средняя школа №16» и жителей села Молдаванского



Задачи:

- 1. С помощью анкетирования выявить уровень географической грамотности;**
- 2. Полученные результаты представить в виде диаграмм;**
- 3. Сделать вывод об уровне географической грамотности.**

Объект исследования:

- учащиеся 5-10 классов МБОУ «Средняя школа №16».**

Предмет исследования:

- уровень географических знаний.**

Гипотеза:

- географическая грамотность учащихся нашей школы на достаточном уровне.**



Вопросы, заданные учащимся

- Назовите самое глубокое озеро в мире.
- Назовите самый большой в мире океан.
- Сколько существует частей света?
- Назовите самую высокую горную вершину мира.
- Какая горная цепь разделяет Европу и Азию?
- Какой материк пересечен всеми меридианами?
- На каком материке находится пустыня Сахара?
- На каком материке обитают кенгуру?



Результаты опроса

*Всего было опрошено -
145 учащихся*



Самое глубокое озеро в мире?

5а 5б 6а 6б 7а 8а 9а 10

100

100

100

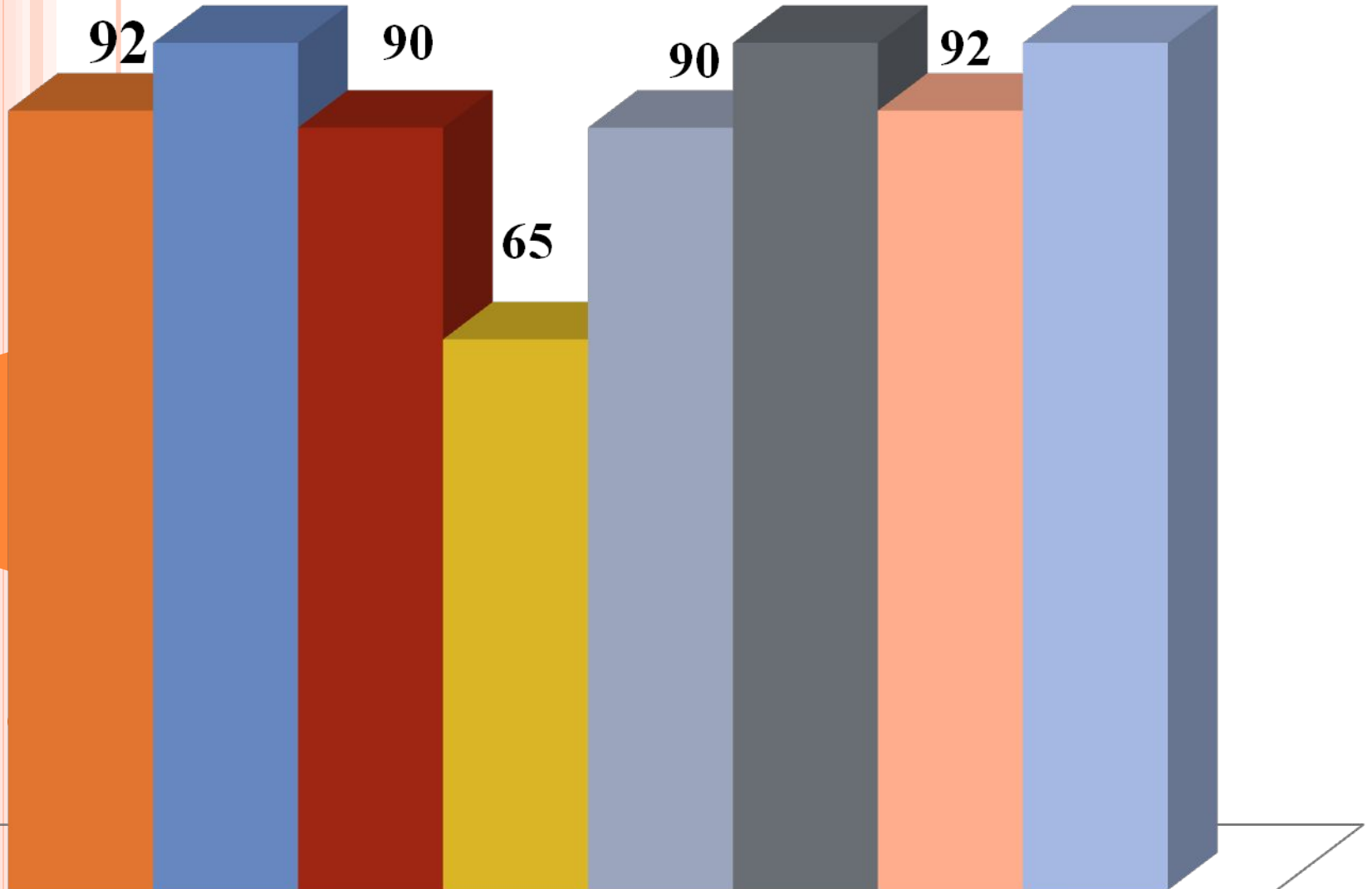
92

90

90

92

65



Назовите самый большой океан?

■ 5а ■ 5б ■ 6а ■ 7а ■ 8а ■ 9а ■ 9б ■ 10

100

94

85

80

80

85

84

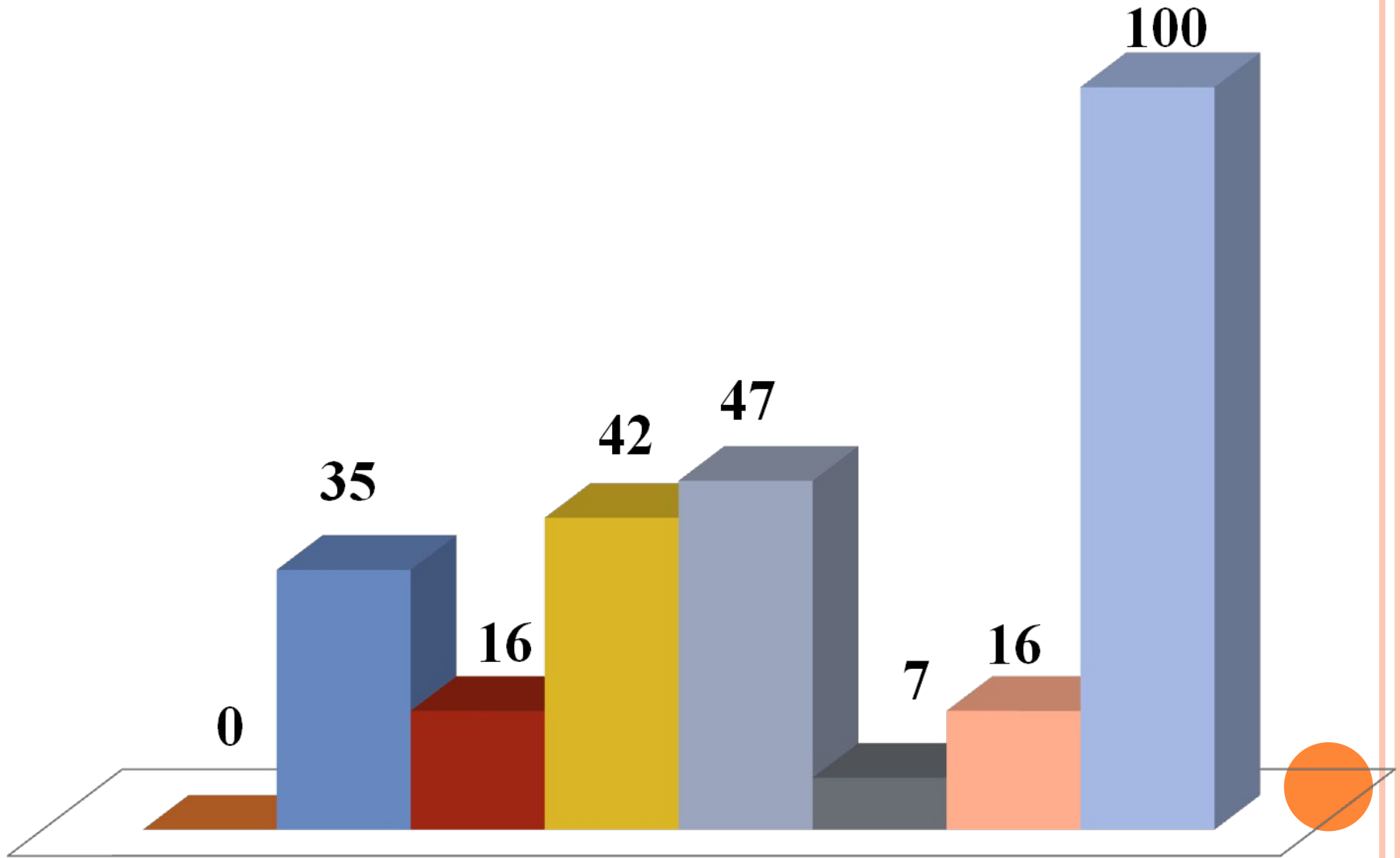
75

100



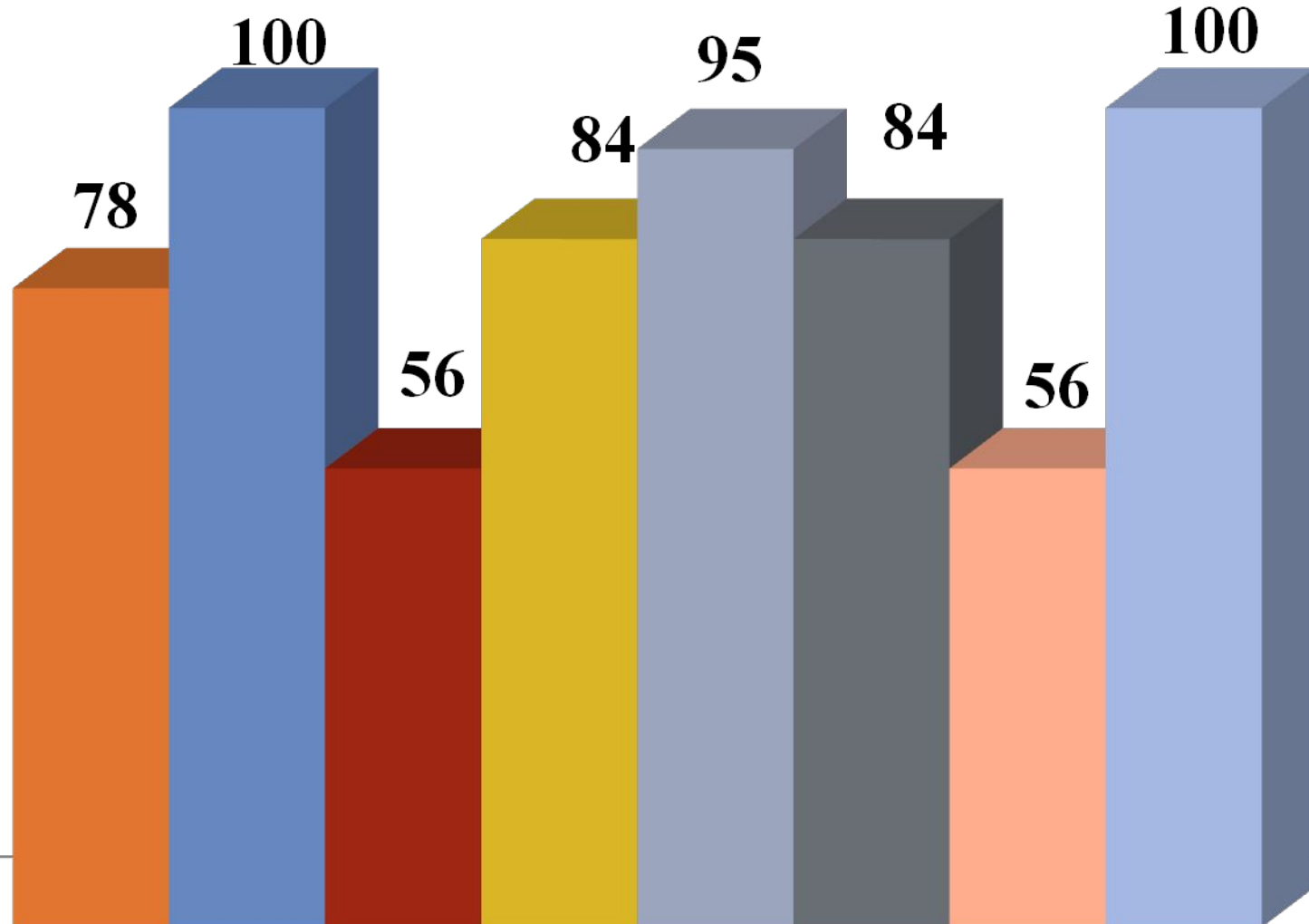
Сколько существует частей света?

■ 5а ■ 5б ■ 6а ■ 7а ■ 8а ■ 9а ■ 9б ■ 10



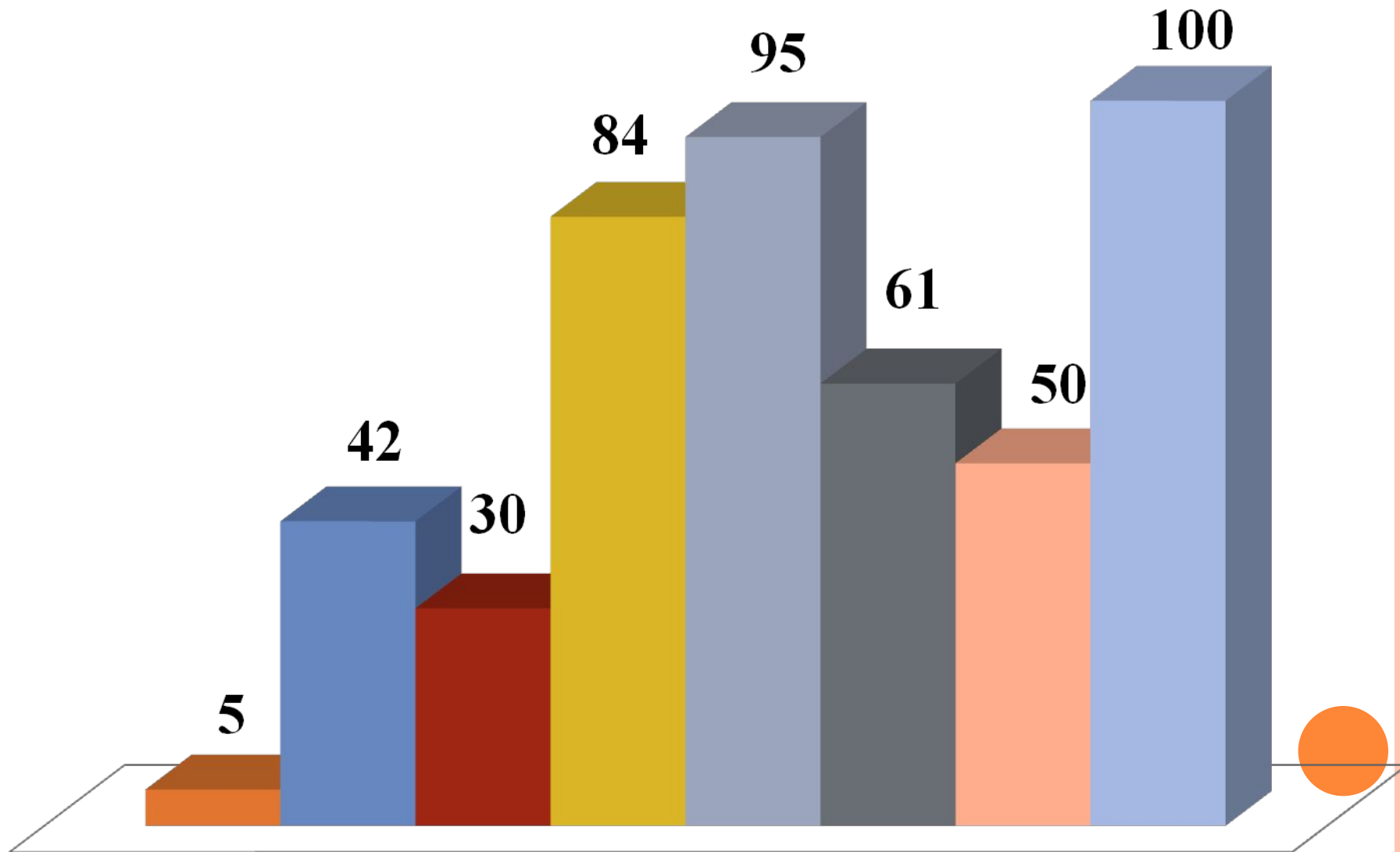
Назовите самую высокую горную вершину мира?

■ 5а ■ 5б ■ 6а ■ 7а ■ 8а ■ 9а ■ 9б ■ 10



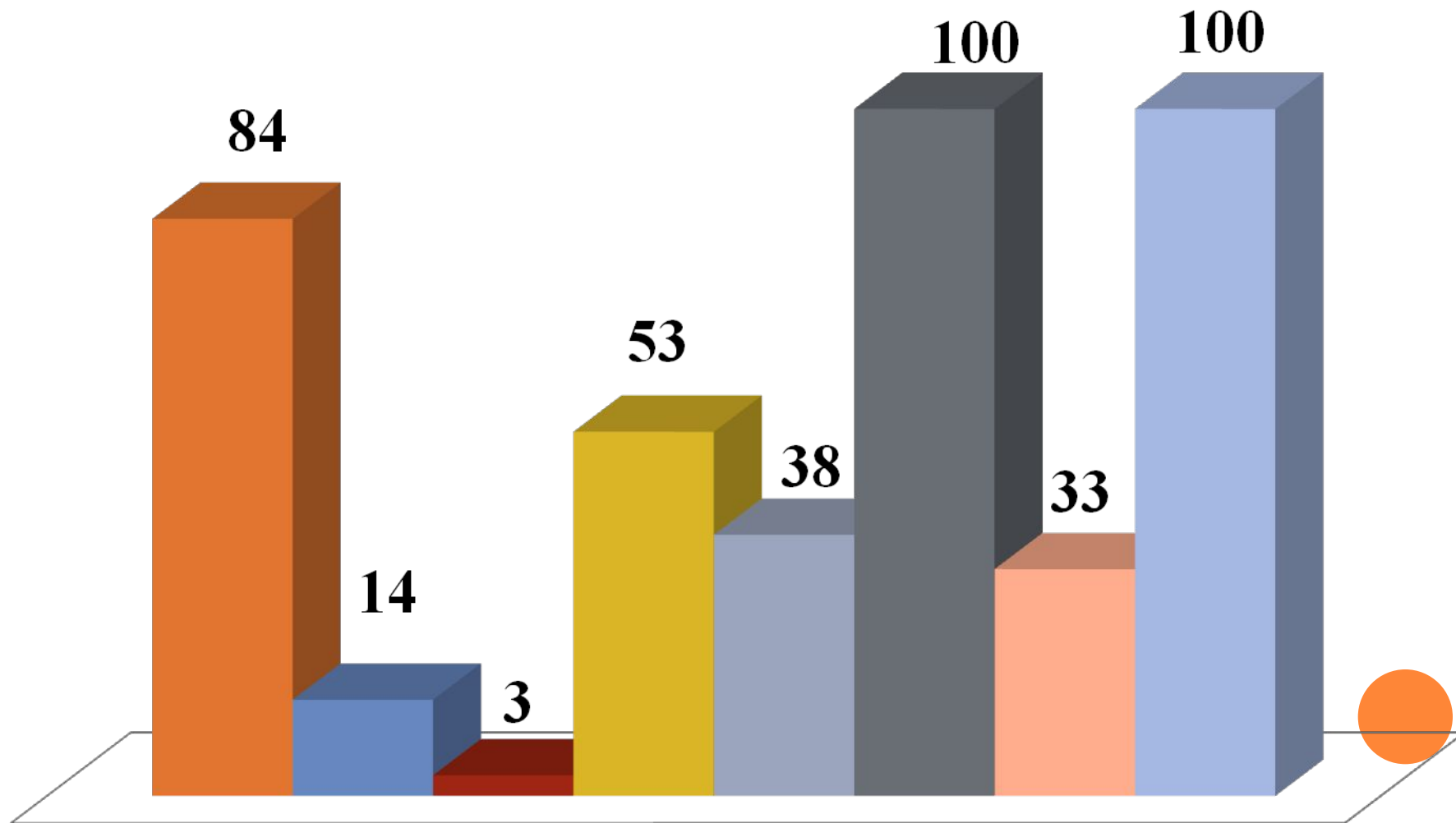
Какая горная цепь разделяет Европу и Азию?

5а 5б 6а 7а 8а 9а 9б 10



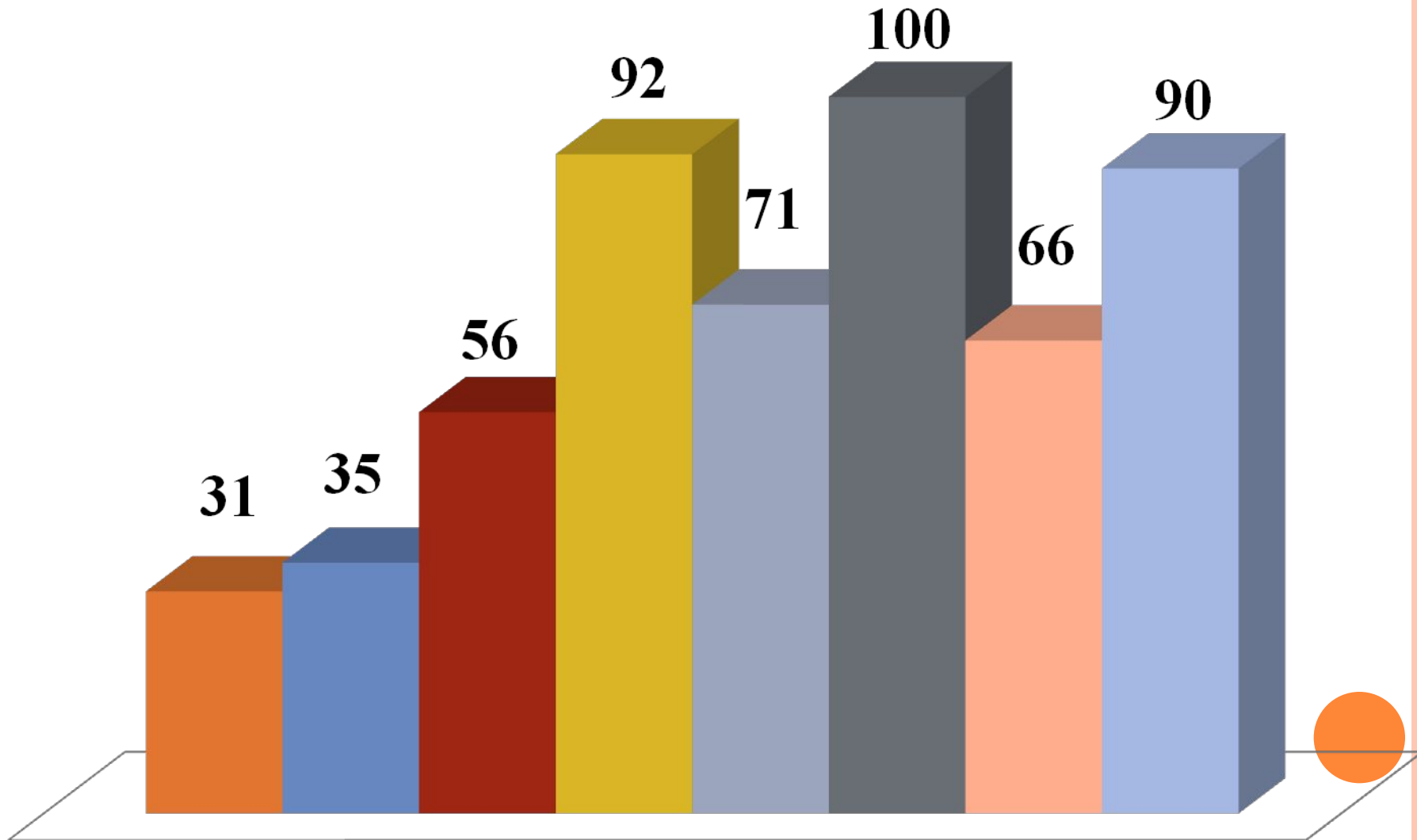
Какой материк пересечен всеми меридианами?

5а 5б 6а 7а 8а 9а 9б 10



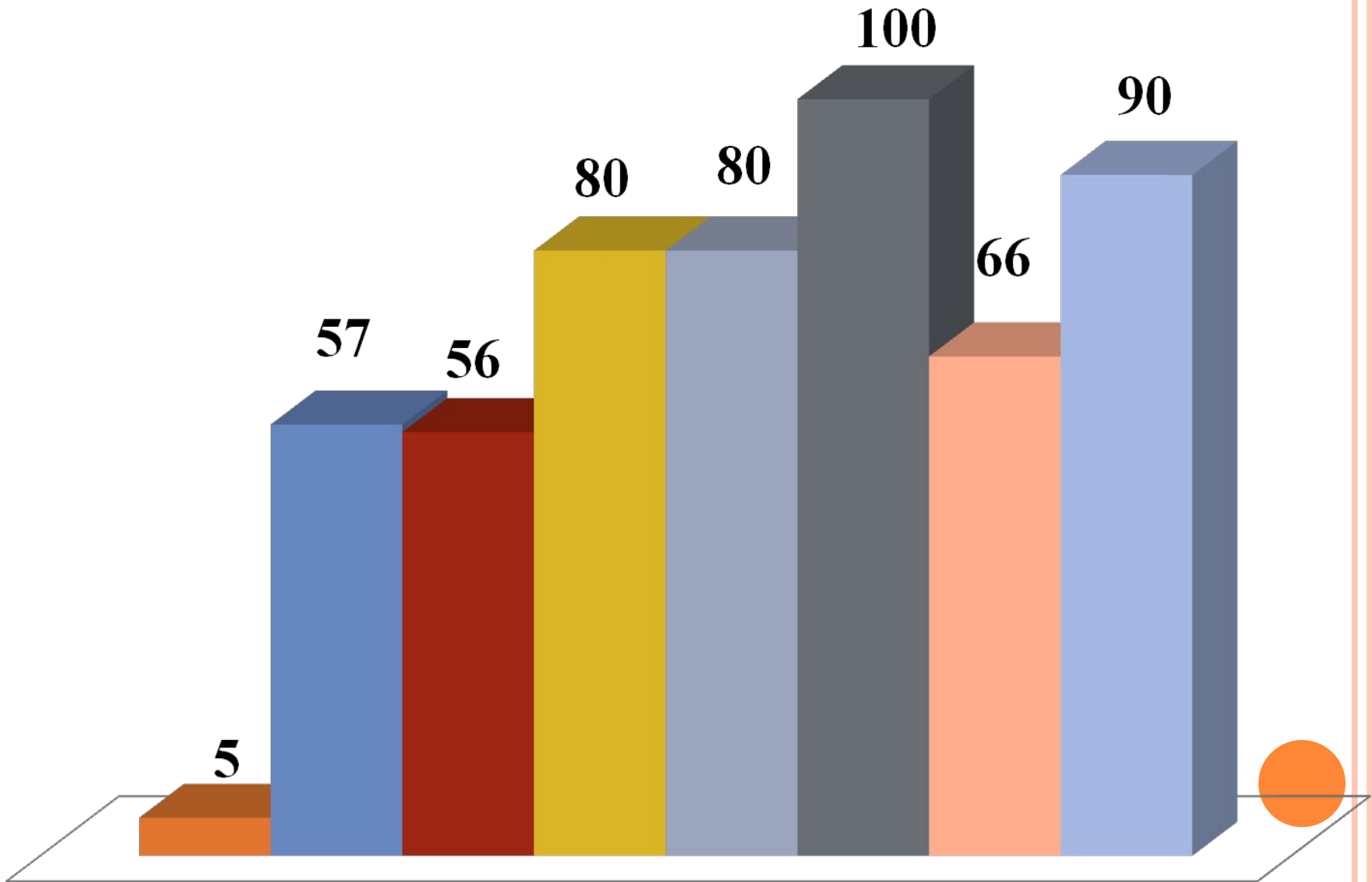
На каком материке находится пустыня Сахара?

■ 5а ■ 5б ■ 6а ■ 7а ■ 8а ■ 9а ■ 9б ■ 10



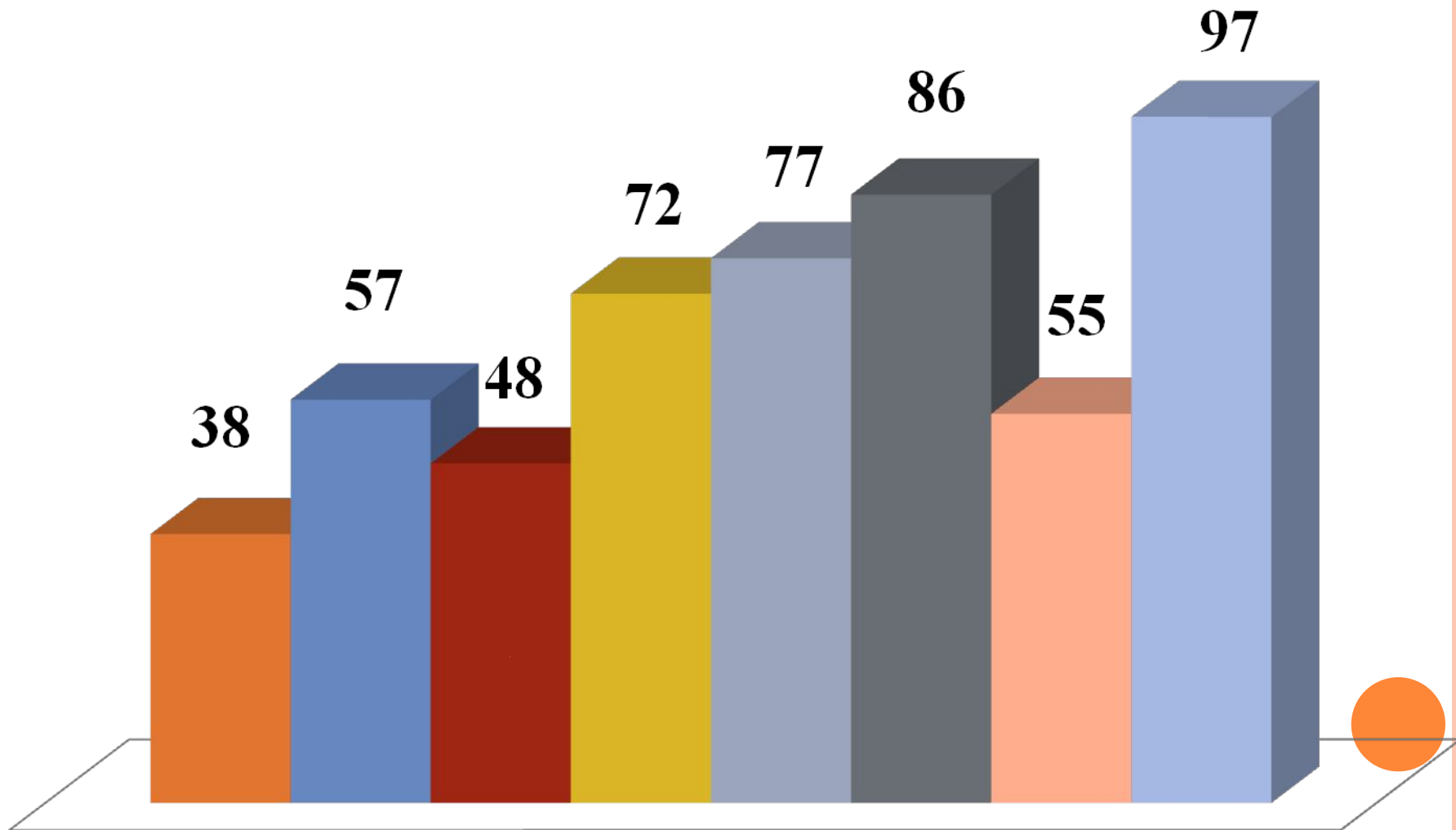
На каком материке обитает кенгуру?

■ 5а ■ 5б ■ 6а ■ 7а ■ 8а ■ 9а ■ 9б ■ 10



Рейтинг классов по географической грамотности

■ 5а ■ 5б ■ 6а ■ 7а ■ 8а ■ 9а ■ 9б ■ 10



Географическая грамотность жителей села Молдаванского

100

100

62

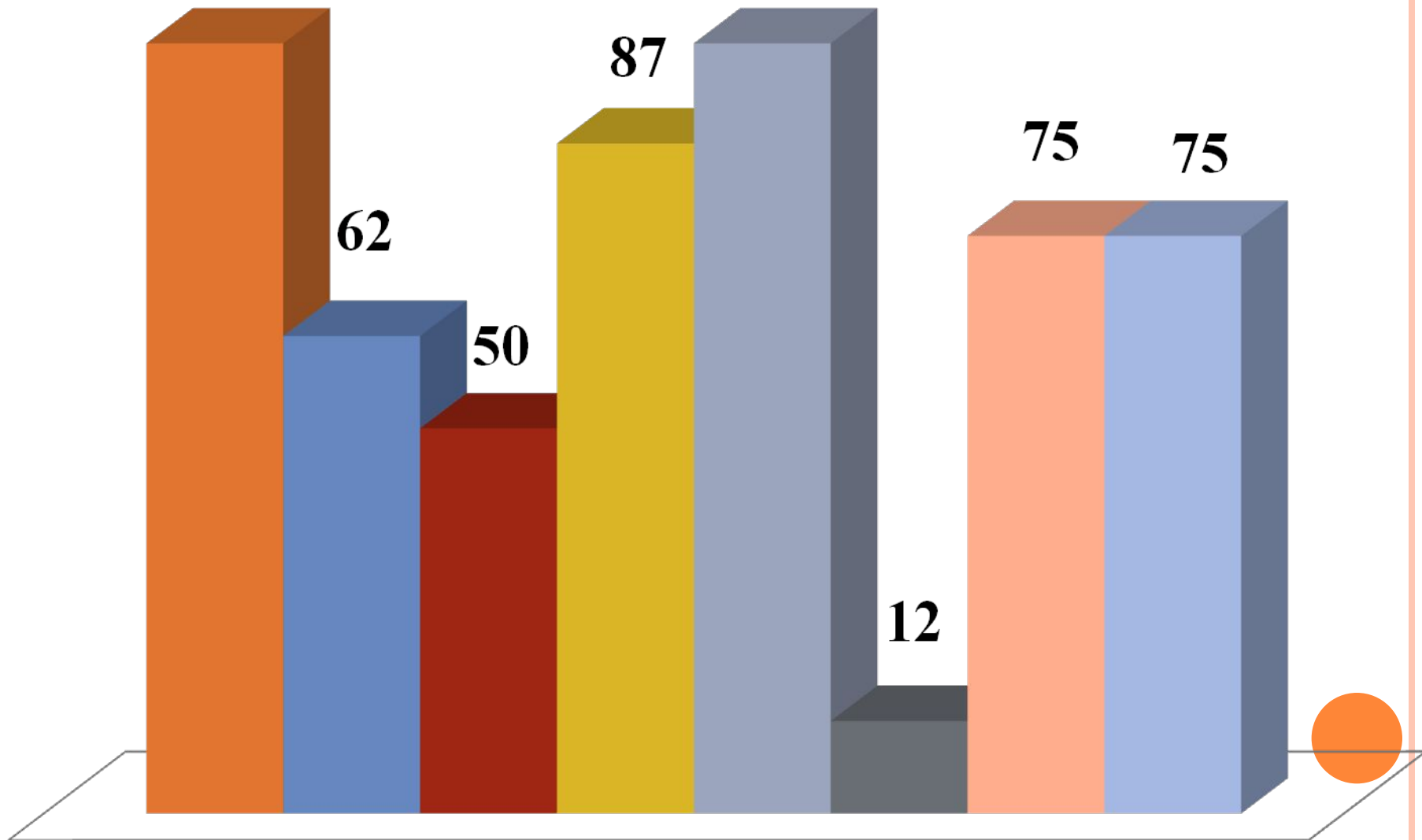
50

87

12

75

75



Заключение.

Учащиеся 7-10 классов нашей школы обладают достаточными знаниями общеизвестных географических фактов, 5-6 классы недавно начали изучать географию и некоторые вопросы вызывают у них затруднения.

Жители села знают географию на достаточном уровне. Самыми сложными оказались вопросы Сколько существует частей света?, какой материк пересекают все меридианы?



Спасибо за внимание!

