



# МИРОВОЙ ОКЕАН

Олимпиада по  
океанологии.  
Школьный этап

# Тесты

- **1 Море без берегов:**  
а) Фиджи б) Карибское в) Саргассово г) Аравийское
- **2 Море внутри Турции:**  
а) Эгейское б) Турецкое в) Гранитное г) Мраморное
- **3 Другое название Тихого океана:**  
а) Великий б) Могучий в) Большой г) Огромный
- **4 Открыватель Берингова пролива:**  
а) Чириков б) Дежнев в) Беринг г) Поярков
- **5 Через какие острова проходит граница Индийского и Тихого океанов:**  
а) Филиппины б) Ява в) Суматра г) Мадагаскар

# Тесты

- **6 Через какие острова проходит граница Северного ледовитого и Атлантического океанов**  
а) Исландия б) Ирландия в) Гренландия г) Баффинова Земля
- **7 Доказал, что Сахалин-это остров**  
а) Невельской б) Крузенштерн в) Лазарев г) Лисянский
- **8 Шельф-это**  
а) котловина б) материковая отмель в) ложе океана г)склон
- **9 Самый широкий пролив**  
а) Магелланов б) Берингов в) Малаккский г) Дрейка
- **10 Залив на юге Сахалина**  
а) Лаперуза б) Анива в) Шелехова г) Петра Великого

# Тесты

- **11 Море Северного ледовитого океана**  
а) Северное б) Беренгово в) Баренцево г) Охотское
- **12 Какой канал сокращает путь из Средиземного моря в моря Индийского океана**  
а) Египетский б) Суэцкий в) Арабский г) Аденский
- **13 Этот океан русские называли Теплым морем**  
а) Индийский б) Тихий в) Атлантический г) Южный
- **14 В древности этот пролив называли Геркулесовы Столбы**  
а) Босфор б) Дарданеллы в) Керченский г) Гибралтарский
- **15 Море названо в честь афинского царя**  
а) Эгейское б) Адриатическое в) Ионическое г) Суружское

# Тесты

- **16 Самое маленькое море по площади**  
а) Азовское б) Мраморное в) Белое г) Желтое
- **17 На приливы и отливы влияют**  
а) Луна б) Солнце в) вращение Земли г) все вышеперечисленные факторы
- **18 Узкий длинный залив с высокими скалистыми берегами**  
а) лагуна б) губа в) фьорд г) атолл
- **19 Залив в котором наблюдаются самые высокие приливы**  
а) Фанди б) Мэн в) Ла-Плата г) Шелехова
- **20 Древний океан, разделял Гондвану и Лавразию**  
а) Атлас б) Тетис в) Триас г) Атлант

# Задания

- **1 Расположите моря с севера на юг**

- а) Баренцево б) Ионическое в) Азовское г) Черное
- д) Космонавтов е) Белое ж) Лигурийское
- з) Арафурское и) Тирренское к) Красное

- **2 Перечислите моря в порядке увеличения солености:**


- а) Черное б) Балтийское в) Азовское г) Красное
- д) Карибское

- **3 Найдите соответствие океанов- впадин**

- |                             |                        |
|-----------------------------|------------------------|
| а) Атлантический            | а) Зондский желоб      |
| б) Северный ледовитый океан | б) Марианский желоб    |
| в) Индийский океан          | в) Впадина Пуэрто-Рико |
| г) Тихий океан              | г) Гренландское море   |


## Задания

**4 Определите  
мореплавателей  
по портрету:  
а**



## Задания

**4 Определите  
мореплавателей  
по портрету:  
б**






## Задания

**4 Определите  
мореплавателей  
по портрету:  
В**




## Задания

**4 Определите  
мореплавателей  
по портрету:  
Г**




## Задания

**4 Определите  
мореплавателей  
по портрету:  
А**



## Задания

**4 Определите  
мореплавателей  
по портрету:  
е**



## Задания

- **5 Разделите моря на окраинные, внутренние, межостровные:**

а) Балтийское б) Сулавеси в) Карское  
г) Азовское д) Яванское е) Тиморское  
ж) Банда з) Белое и) Аравийское

- **6 Найдите соответствия океан- море**

а) Тихий	а) Аравийское б) Фиджи
б) Атлантический	в) Балтийское г) Японское
в) Индийский	д) Баффина е) Сулу
г) Северный ледовитый	ж) Тиморское з) Карибское
	и) Бофорта к) Северное
	л) Красное м) Чукотское

## Задания

- **7 Найдите соответствия океан-залив**

- |                          |                                                                                        |
|--------------------------|----------------------------------------------------------------------------------------|
| а) Тихий                 | а) Бенгальский б) Финский                                                              |
| б) Атлантический         | в) Обская губа г) Мексиканский                                                         |
| в) Индийский             | д) Персидский е) Бискайский                                                            |
| г) Северный<br>ледовитый | ж) Гудзонов з) Сиамский и)<br>Аденский к)<br>Калифорнийский л) Аляска м)<br>Енисейский |

- **8 В своей книге «Хождение за три моря» Афанасий Никитин называет эти моря**

- а) Хвалынское б) Индийское в) Стамбульское

**Назовите современные названия этих морей**

- **9 Назовите проливы, через которые проходит Северный морской путь**

# Вопросы

- 1 Назовите факторы, влияющие на соленость различных частей Мирового океана
- 2 Каспийское море-это озеро, приведите аргументы в пользу моря
- 3 Почему в Черном море жизнь сосредоточена в верхнем 200 метровом слое?