

Природа Северной Америки 7 класс

(Урок - практикум)

Учитель географии ГОУ СОШ №166
Ковалевская Е.В

Цели и задачи урока:

- **Цель:** Обобщить полученные знания о природе материка

Учебные задачи:

- Закрепить навыки работы с географической картой;
- Расширить знания о природных особенностях Северной Америки.

Практические задачи:

- Применить умения и навыки на практике;
- Правильно оформить результаты работы.

Воспитательные задачи:

- Умения строить отношения при групповой работе;
- Уважительно относиться к мнению окружающих.

Проверка домашнего

задания

- 1. Объясни!

Аляска, овцебык, гризли, секвойя, Ниагара, торнадо, Колорадо, Эри, скунс, эскимос, Долина смерти.

- 2. Узнай! Природную зону по ее краткому описанию:

- 1) Почвы подзолистые, хвойные породы деревьев; обитают медведь гризли, лось, волк.

- 2) Почвы мерзлотные, мхи, камнеломка, морошка; обитают овцебык, лемминг, северный олень.

- 3) Почвы бурые-лесные, климат умеренный, растут клены, березы, тюльпановое дерево; обитают россомаха, куница, рысь

Покажи



- Гудзонов залив
- Горы Кордильеры
- Река Колорадо
- Великие американские озера
- Полуостров Аляска
- Карибское море
- Великие равнины
- Полуостров Калифорния
- Мексиканский залив
- Река Юкон
- Берингов пролив
- Река Колумбия
- Большое Соленое озеро
- Река Ниагара
- Ниагарский водопад
- Река Миссисипи
- Город Вашингтон
- Гора Мак-Кинли
- Алеутские острова
- Море Бофорта
- Канадский арктический архипелаг
- Саргассово море

Блиц - опрос

- 1. 720 м
- 2. 5971 км
- 3. 1492 год
- 4. 6194 м
- 5. – 86 м
- 6. 24,4 млн. км²

А. Высота горы Мак-Кинли

Б. Средняя высота материка над уровнем моря

В. Наименьшая высота над уровнем моря (Долина смерти)

Г. Площадь материка Северная Америка

Д. Длина реки Миссисипи

Е. Х. Колумб достиг островов вблизи Северной Америки



Ответы: 1 Б; 2 Д; 3 Е; 4 А; 5 В; 6 Г

МИРОВЫЕ РЕКОРДЫ МАТЕРИКА

1. Какова её длина?



565 км



МИРОВЫЕ РЕКОРДЫ МАТЕРИКА

2. Где расположено?


В системе Великих озер, на
границе США и Канады



МИРОВЫЕ РЕКОРДЫ МАТЕРИКА

3. На какой реке образовался?

На реке Колорадо



МИРОВЫЕ РЕКОРДЫ МАТЕРИКА

4. Какова его высота?

Максимальная **высота** его
струи составляет 150 м



МИРОВЫЕ РЕКОРДЫ МАТЕРИКА

5. В каком штате расположен?

Диснейленд Парк в
Калифорнии, США



ПРАКТИКУМ «ЛИТОСФЕРА»

1. Найди соответствие между формами рельефа и их характеристикой;
2. Нанеси на контурную карту основные формы рельефа материка и связанные с ними полезные ископаемые;
3. Определи протяженность Аппалачей, их высочайшую вершину и возраст гор.

ПРАКТИКУМ «АТМОСФЕРА»

1. Дополни текст.
2. Заполни таблицу;
3. Обозначь на контурной карте самые холодные, теплые, влажные и сухие районы в Северной Америке.

ПРАКТИКУМ «ГИДРОСФЕРА»

1. Распредели реки Северной Америке по принадлежности к бассейнам океанов;
2. Дай характеристику реке Миссисипи;
3. Нанеси на контурную карту крупные водные объекты материка.



«БИОСФЕРА»

1. **Выполни тест;**
2. **Найди ошибки в тексте;**
3. **Нанеси на контурную карту границы и названия природных зон Северной Америки.**



Спасибо за внимание!

ВЫ

МОЛОДЦЫ!

