




Что лишнее в ряду? Почему?

- Алтай
- Саяны
- Гималаи
- Кавказ


ОТГАДАЙТЕ ЗАГАДКУ

К торжественному крику
Прибавь согласный звук,
Чтоб протянулись горы
С севера на юг.

**ТЕМА: «РЕКИ
ЕВРОПЕЙСКОЙ ЧАСТИ
РОССИИ»**



ЧТО ТАКОЕ ИСТОК?



ЧТО ТАКОЕ УСТЬЕ?

УСТЬЕ



ВОПРОСЫ НА ЗАСЫПКУ

- Найдите на карте самую большую реку европейской части России и покажите её от истока до устья.
- Покажите на карте ее притоки, прочитайте их название.

Реки европейской части России

ВОЛГА



УРАЛ



ДОН



ПЕЧОРА




Правый приток Волги - Ока



Левый приток Волги - Кама



г. Нижний Новгород – на Волге



г. Самара – на Волге



Плотина на реке Волга



Объясни поговорку

Река Ока – Волги правая рука.

Опишите Волгу по плану

- Исток;
- Местность, по которой протекает;
- Притоки;
- Устье;
- Использование человеком;
- Крупные города