

**«Наша Земля прекрасна
В каких-то местах опасна,
Где-то пустыни сухие.
Где-то леса густые...»**

ФИЗИЧЕСКАЯ КАРТА МИРА

МАСШТАБ
1:25 000 000
в 1 сантиметре 250 километров
© 2000 Роскартограф

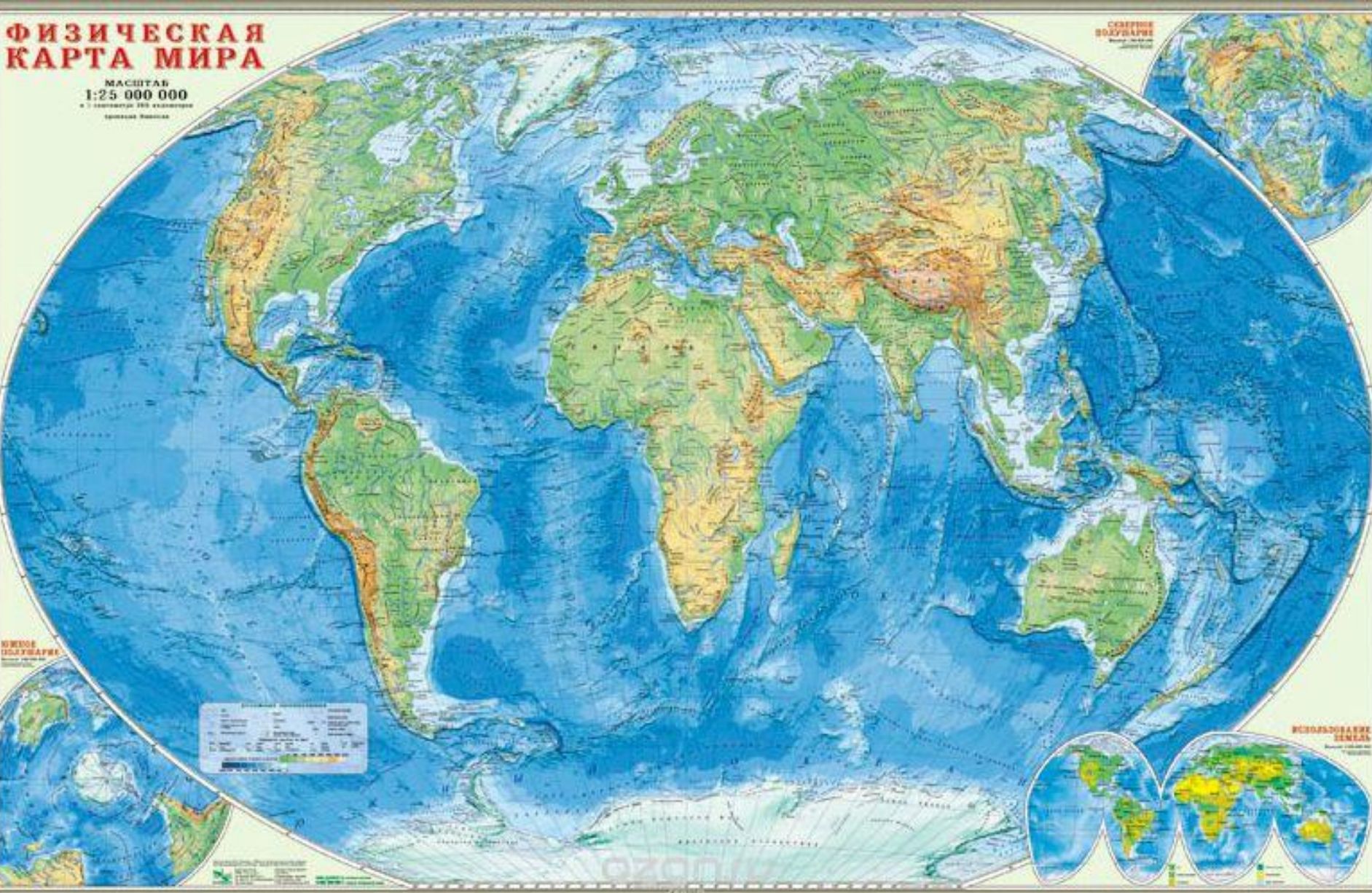
СРЕДНЕЕ
ВОЗДУШНОЕ
Давление 1000 гПа

ЮЖНОЕ
ПОЛУШАРИЕ
Южная Америка

ВОСТОЧНОЕ
ПОЛУШАРИЕ
Австралия

Символ	Обозначение
—	Границы государств
—	Границы субъектов федерации
—	Границы областей
—	Границы районов
—	Границы городов
—	Границы населенных пунктов
—	Границы сельских населенных пунктов
—	Границы поселков
—	Границы деревень
—	Границы сел
—	Границы хуторов
—	Границы станиц
—	Границы казачьих станиц
—	Границы военных округов
—	Границы военных округов
—	Границы военных округов

Символы растительности





Выполнить задания в рабочем листе:

1. Определить названия материков, используя их контуры:
 - 1-
 - 2-
 - 3-
 - 4-
 - 5-
 - 6-
- 7- Распределить материки в порядке убывания их площади

- 8. Какой материк самый большой по площади?
- 9. На каком материке расположено самое глубокое озеро в мире? Назовите озеро
- 10. На каком материке протекает самая полноводная река? Назовите реку.
- 11. На каком материке расположены самые высокие горы. Название горной системы
- 12. На каком материке больше всего эндемиков?
- 13. На каком материке самая большая пустыня?
- 14. На каком материке расположены пять Великих озер: Гурон, Онтарио, Мичиган, Эйр, Верхнее?

Ответы:

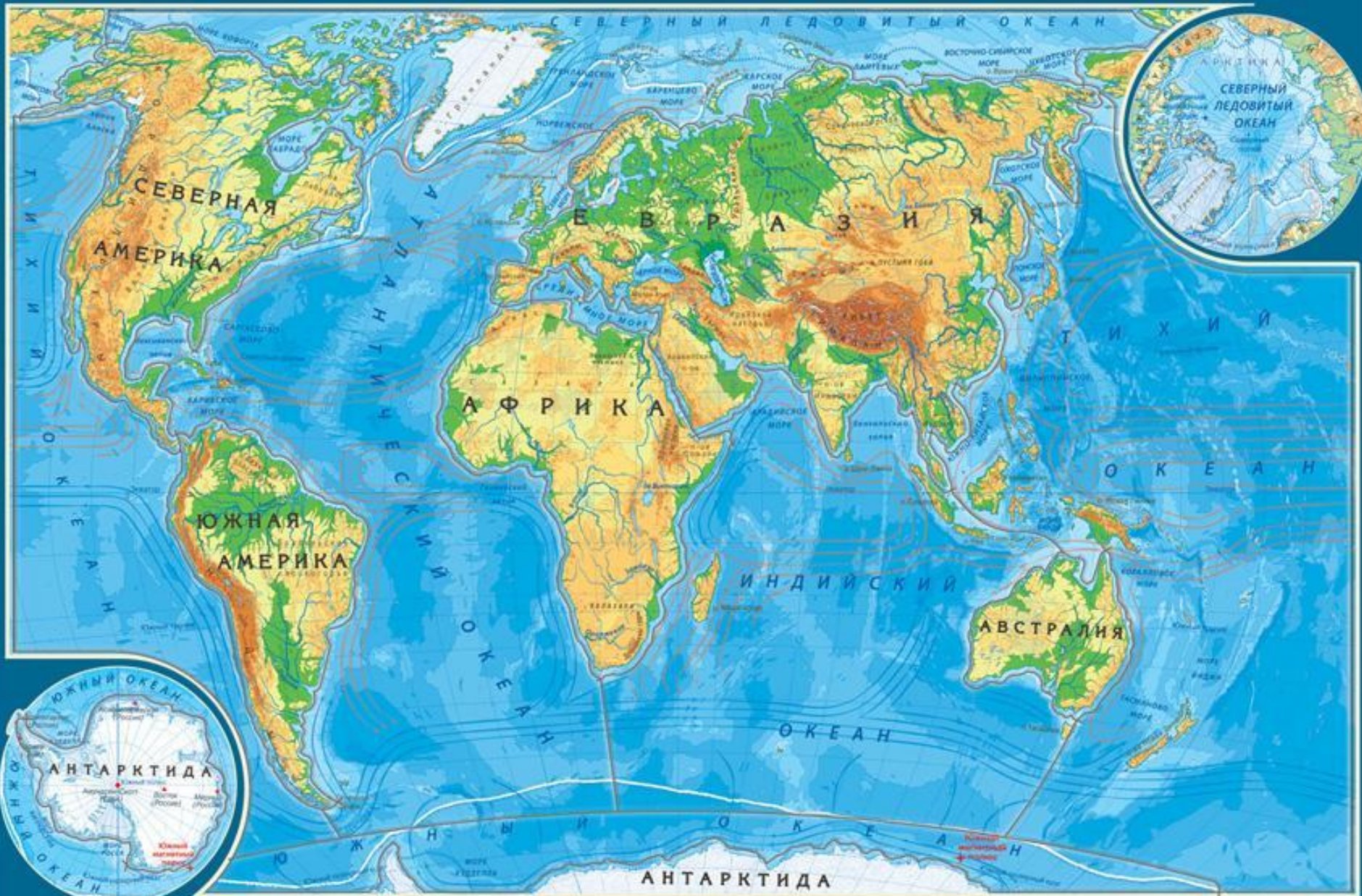
- 1-Северная Америка
- 2-Евразия
- 3-Австралия
- 4-Южная Америка
- 5-Африка
- 6-Антарктида
- 7-Евразия, Африка, Северная Америка, Южная Америка, Антарктида, Австралия
- 8-Евразия
- 9-Евразия, Байкал
- 10-Южная Америка, Амазонка
- 11-Евразия, Гималаи
- 12-Австралия
- 13-Африка
- 14-Северная Америка

Оценки

- 0 ошибок – оценка «5»
- 1-4 ошибки – оценка «4»
- 5-7 ошибок – оценка «3»
- Более 7 ошибок – оценка «2»

По описанию определите о каком материке идет речь:

- 1. Это второй по величине материк, в рельефе которого преобладают равнины. Самая высокая точка – гора Килиманджаро. Это самый жаркий материк
- 2. На востоке этого материка протянулись горы Анды. Это самый влажный материк на Земле. На материке протекает множество рек, самая длинная из них Амазонка
- 3. Это самый маленький материк. Он самый сухой. Животный и растительный мир очень своеобразен. Наиболее известны животные: утконос, ехидна, кенгуру, медведь коала



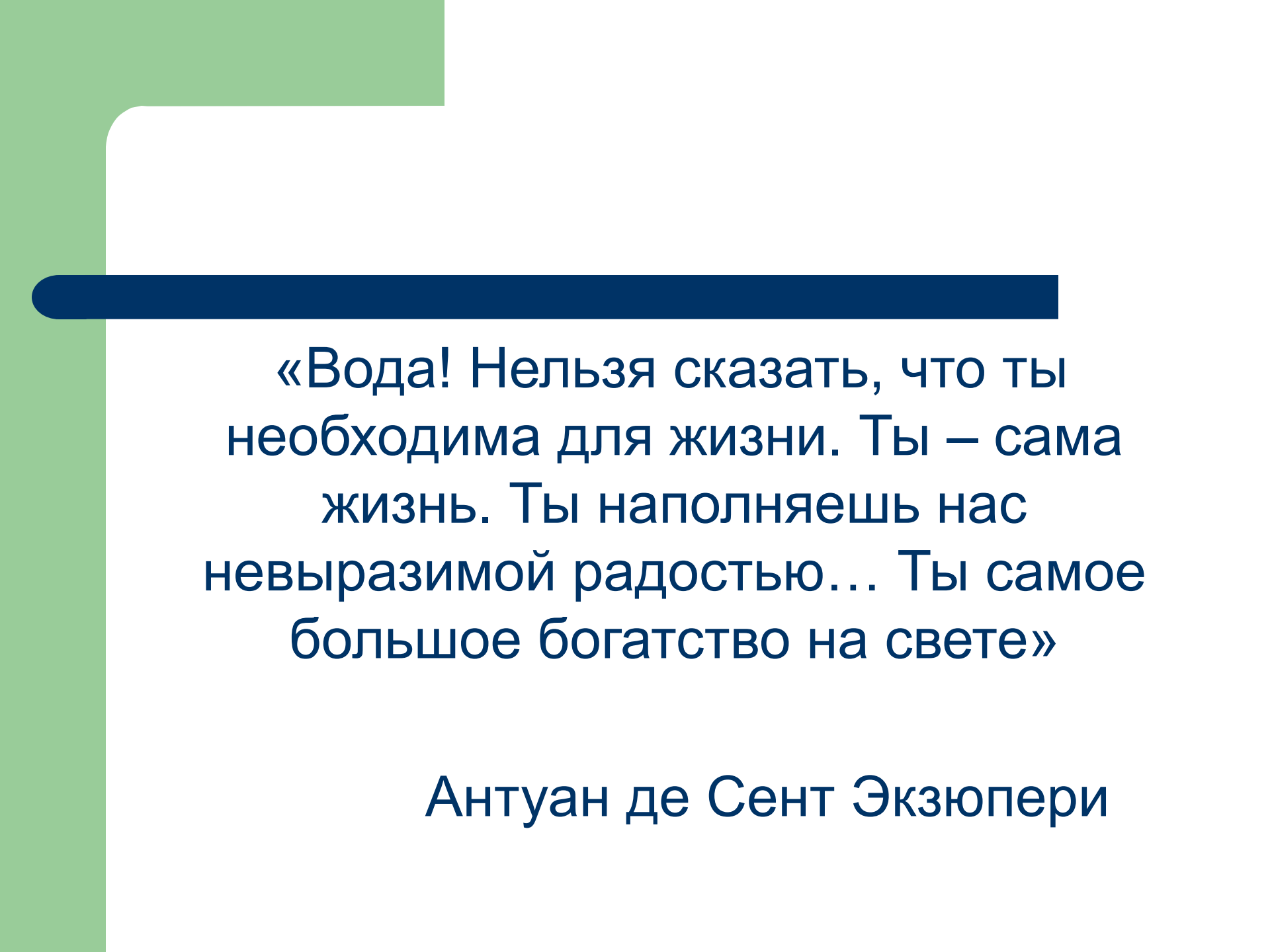
Выполнить задание:

- 1. Найти соответствие между материком и характеристикой:
- 1. Самый большой материк а)Антарктида
- 2. Самый жаркий материк б)Африка
- 3. Самый маленький материк в)Австралия
- 4. Самый холодный материк г)Евразия
- 1-г
- 2-б
- 3-в
- 4-а

Составьте пару материк - горные системы и вершины

- 1.Евразия а)Анды
- 2.Северная Америка б)Кордильеры
- 3.Южная Америка в)Гималаи
- 4.Африка г)Килиманджаро
- 1-в
- 2-б
- 3-а
- 4-г





«Вода! Нельзя сказать, что ты необходима для жизни. Ты – сама жизнь. Ты наполняешь нас невыразимой радостью... Ты самое большое богатство на свете»

Антуан де Сент Экзюпери

Тема урока:

«Вода на Земле»



Тихий океан



Атлантический океан



Индийский океан




Северный Ледовитый океан





Органический мир Тихого океана





Органический мир Атлантического океана





Органический мир Индийского океана





Органический мир Северного – Ледовитого океана



Смотрю я вдаль, душа моя с тобою.

Где меж равнин, лесов, высоких скал. Играя на ветру под звук прибоя, раскинулся наш батюшка- ...

















Домашнее задание:

Параграф 23, вопросы и задания.

Подготовить информацию о Байкале и
качестве питьевой воде

- 
- 
- Спасибо за работу!