


An aerial photograph of a desert oasis. In the foreground, there is a small, white, domed building with a flat roof and a small arched entrance. To its left is a circular stone well. The ground is sandy and dotted with small green plants. In the middle ground, a dense cluster of tall palm trees stands in a line. The background shows rolling sand dunes under a clear blue sky.

# **ОБОБЩАЮЩИЙ УРОК ПО ТЕМЕ «АФРИКА»**

**Автор: Ляпунова В.Г.,  
учитель географии  
МКОУ Кузнецовской СОШ**

**2016**

# Цель урока:

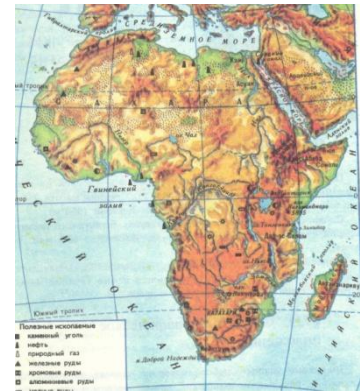


- **Обобщить , систематизировать и оценить знания и умения по теме «Африка»;**
- **Развивать логическое мышление, память и речь;**
- **Воспитывать культуру труда**

# 1. Тест

**1. Какой пролив отделяет Африку от Европы:**

- а) Мозамбикский;*
- б) Гибралтарский;*
- в) Баб-эль-Мандебский?*



**2. Большую часть поверхности Африки занимают:**

- а) низкие горы;*
- б) высокие горы;*
- в) равнины*

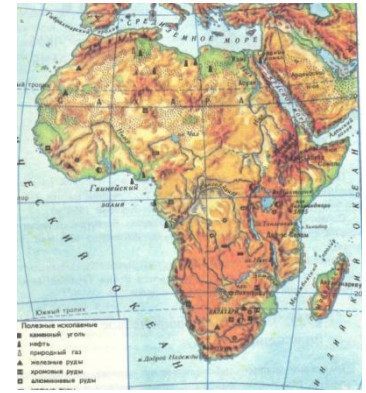
# 1. Тест

**3. Наиболее молодыми на материке являются горы:**

- а) Капские;*
- б) Драконовы;*
- в) Атласские*

**4. Больше всего влаги получает климатический пояс:**

- а) экваториальный;*
- б) субэкваториальный;*
- в) тропический*
- в) субтропический*





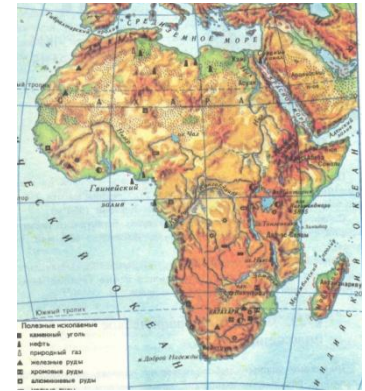
# 1. Тест

**5. На какой из рек расположен водопад Виктория:**

- а) Конго;*
- б) Замбези;*
- в) Нигер;*
- в) Нил?*

**6. Самым большим по площади озером в Африке является:**

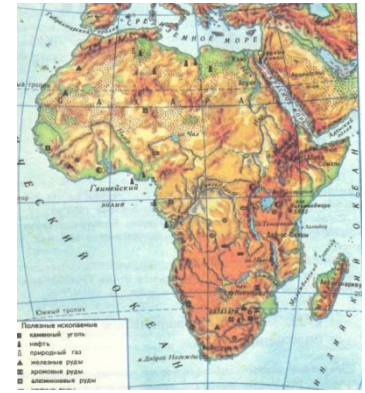
- а) Чад;*
- б) Виктория;*
- в) Ньяса;*
- в) Танганьика*



# 1. Тест

**7. Самую большую площадь в Африке занимает природная зона:**

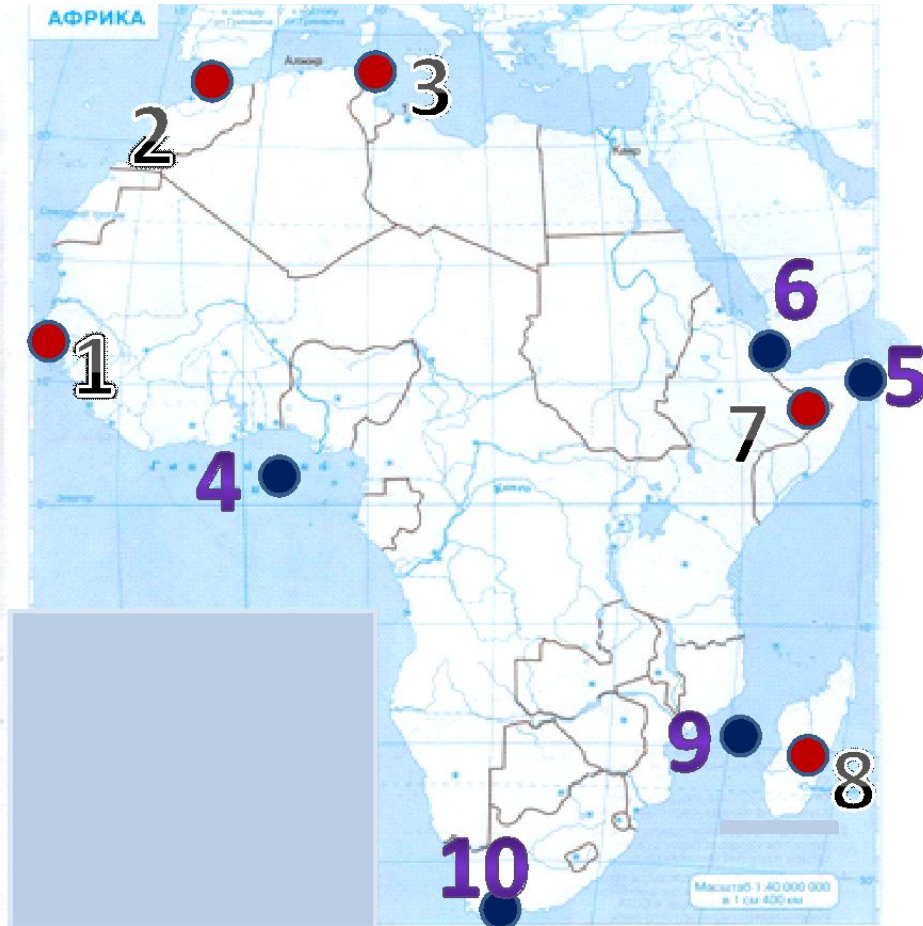
- а) влажных экваториальных лесов;*
- б) пустынь и полупустынь;*
- в) саванн и редколесий*



**8. К какой расе относится коренное население Северной Африки:**

- а) европеоидной;*
- б) негроидной;*
- в) монголоидной?*

## 2. Вспомним географическое положение Африки



### 3. Установите соответствие


1



2



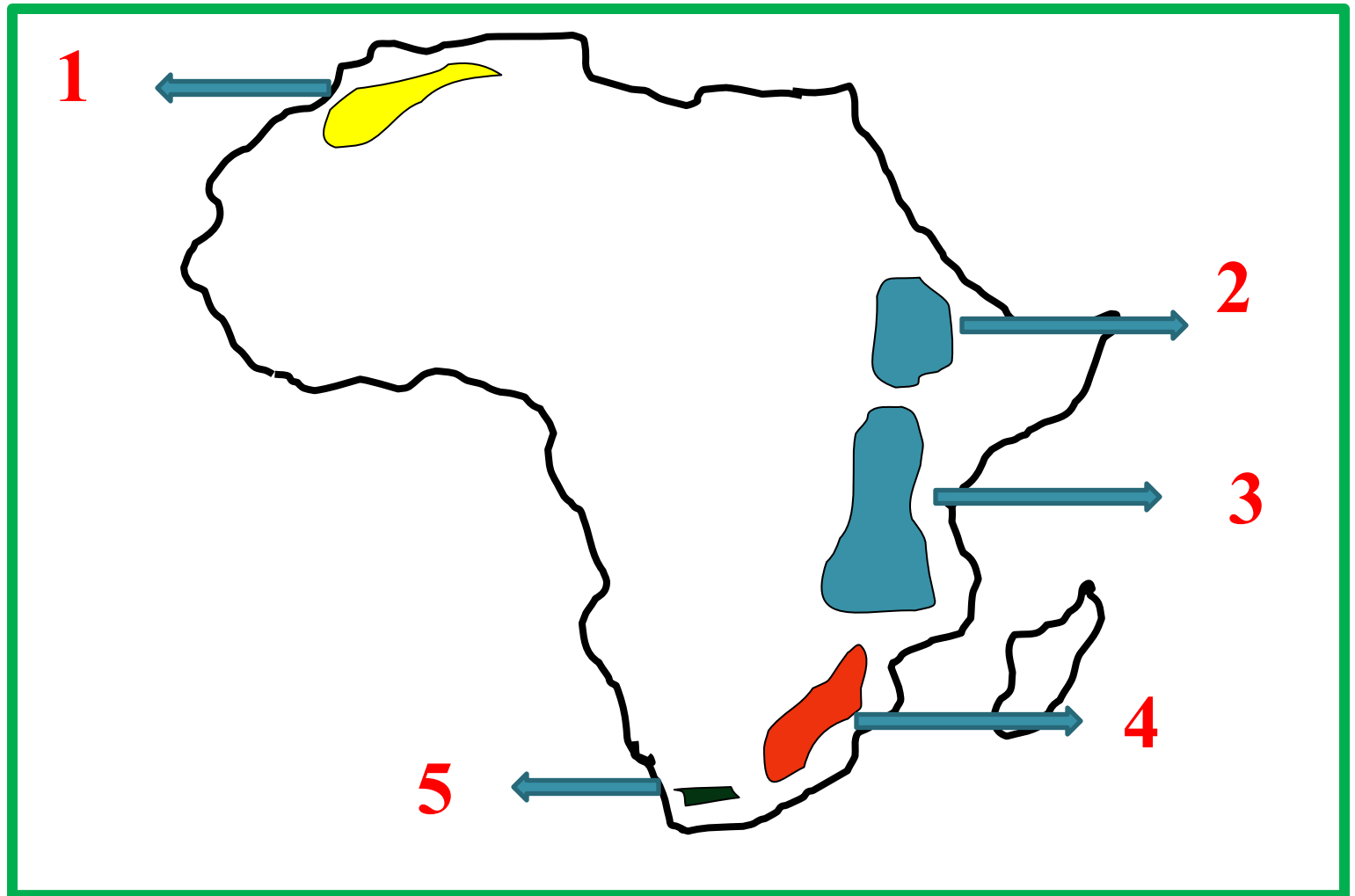
3



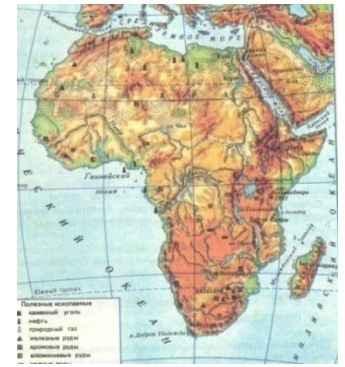
<b>Исследователь</b>	<b>Дата</b>	<b>Вклад в изучение Африки</b>
1. Васко да Гама	XV – XVI в.	Исследование р. Замбези, открытие впад. Виктория
2. Давид Ливингстон	XIX в.	Изучение Центральной и Восточной Африки
3. Василий Юнкер	Конец XIX в.	Открытие морского пути в Индию



## 4. Какие формы рельефа обозначены цифрами?

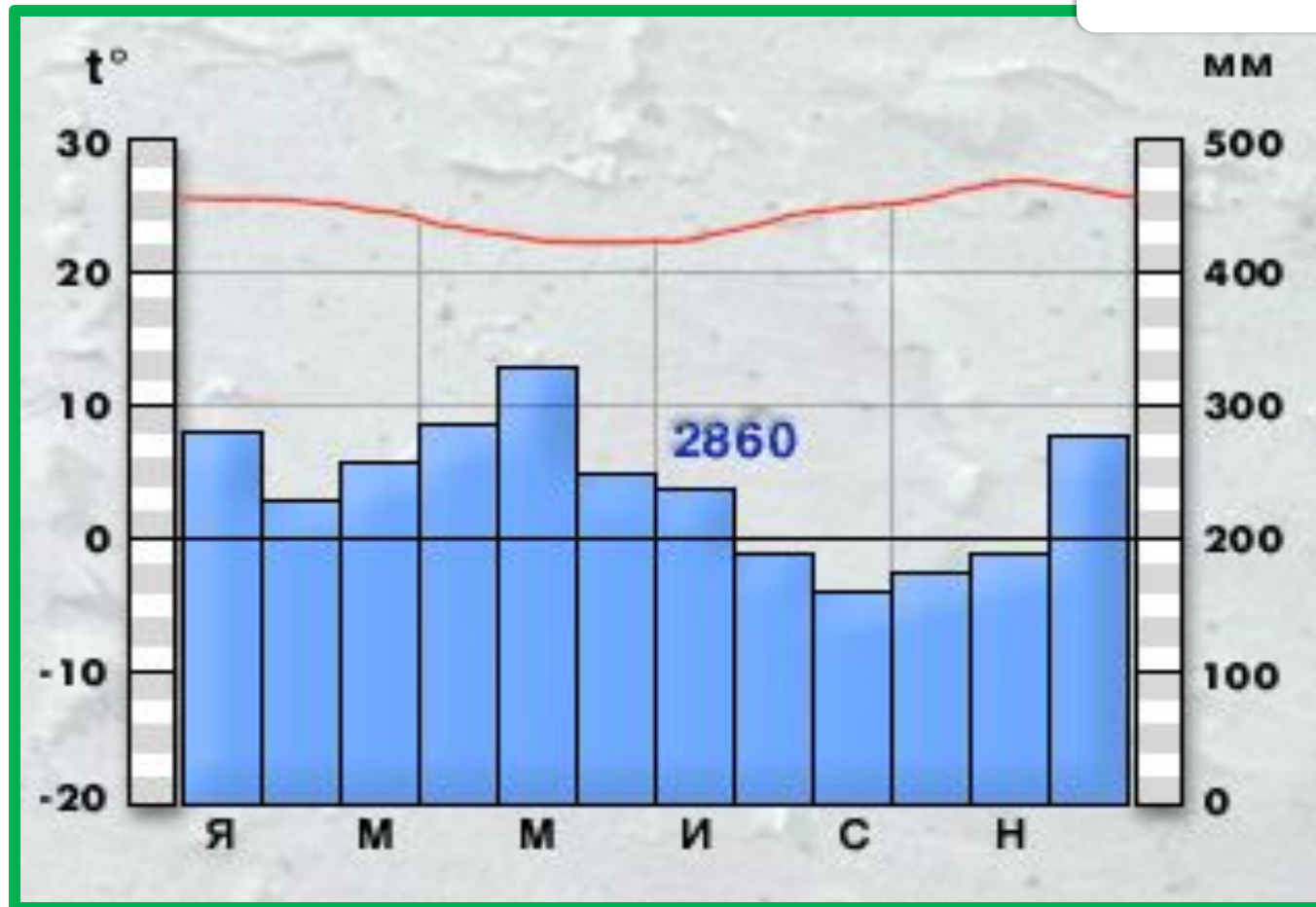
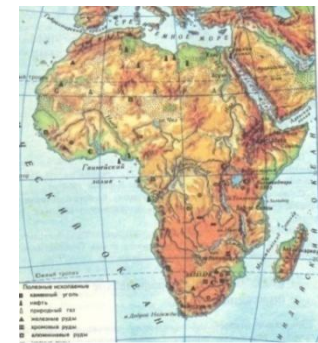


## 5. Найдите ошибки в тексте

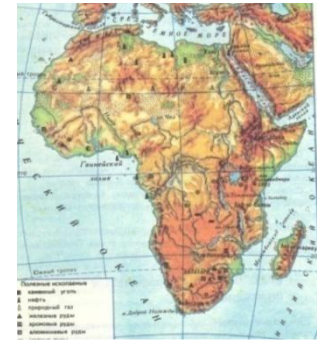


*Большая часть южной Африки находится севернее  $30^{\circ}$  с.ш.. На востоке Мозамбикский пролив отделяет от южной Африки самый крупный на земном шаре остров Мадагаскар. На юге Африки расположены относящиеся к новой складчатости Драконовы горы. В пустыне Калахари в январе температура опускается ниже  $-5^{\circ}\text{C}$ .*

# 6. Определите тип климата



# 7. Вставьте пропущенные слова



*Африка – самый \_\_\_\_\_  
материк Земли.*




*Самая длинная река Африки - \_\_\_\_\_,  
а самая полноводная река на  
материке - \_\_\_\_\_.*

*Река Нигер относится к бассейну  
\_\_\_\_\_ океана.*

*На реке \_\_\_\_\_ расположен  
водопад \_\_\_\_\_.*





# 8. В какой природной зоне они живут?

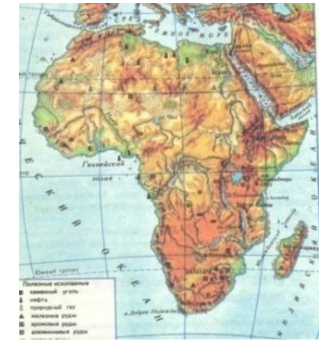




8.



# 9. Что такое? Кто такой?



- *Намиб*
- *Гондвана*
- *окапи*
- *Сомали*
- *Танганьика*
- *зулус*
- *сейба*
- *Ахаггар*

- *Нигер*
- *оазис*
- *Мадагаскар*
- *вельвичия*
- *Ливингстон*
- *гепард*
- *пигмей*
- *Чад*



*Благодарю за внимание !*

