




# Проверка домашнего задания



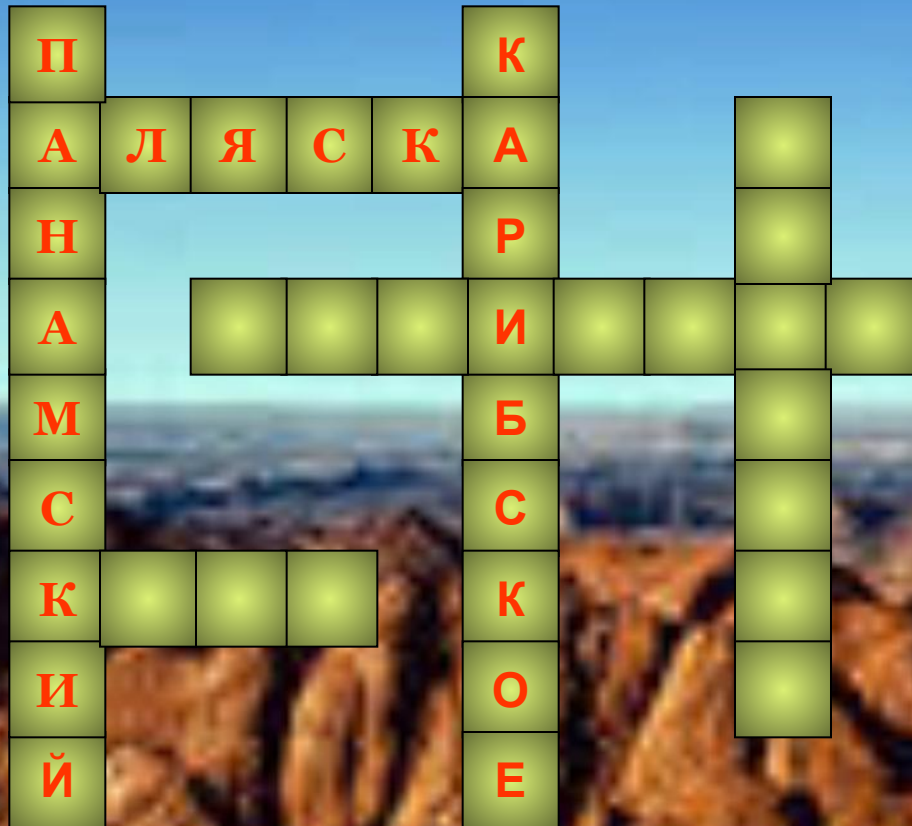
**Канал, соединяющий  
Тихий и Атлантический  
океаны**




Море между  
Северной и Южной  
Америкой



**Полуостров на северо-  
западе континента**



**Полуостров на юго-  
востоке материка**



**Пролив, отделяющий  
Северную Америку от  
Евразии**



**Остров из группы  
Больших Антильских  
островов**

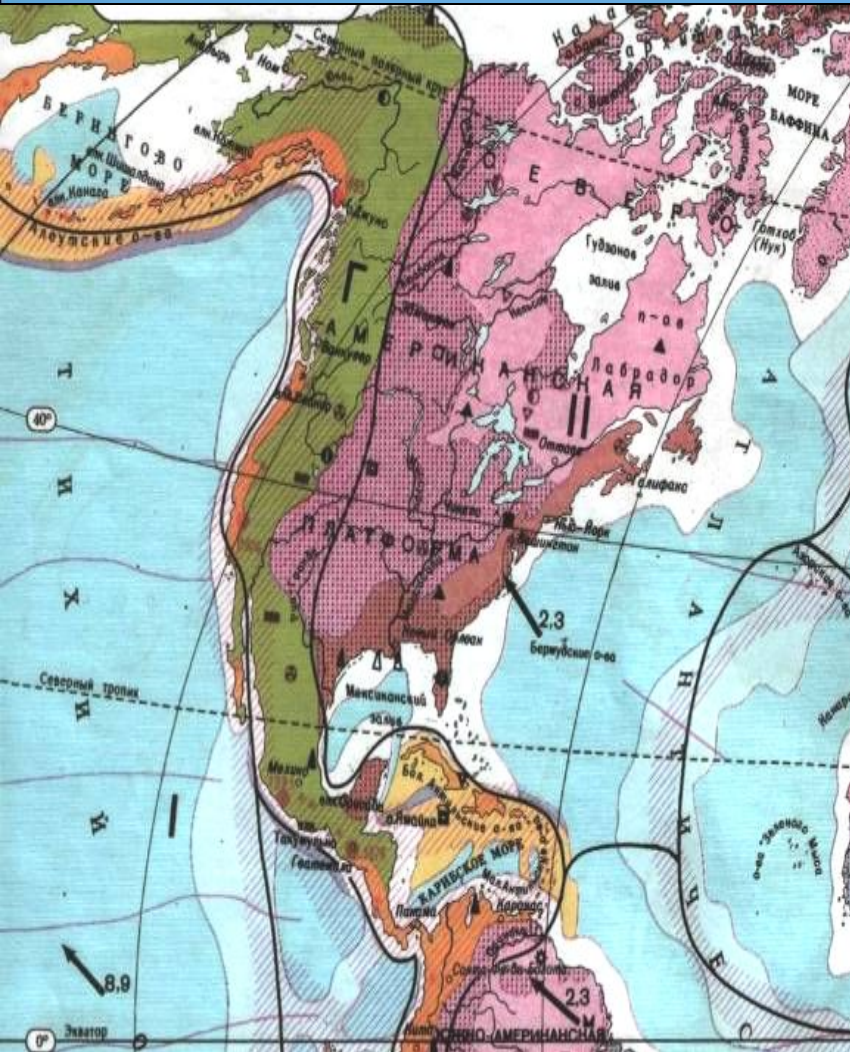
П К  
А Л Я С К А Ф  
Н Р Л  
А Б Е Р И Н Г О В  
М Б Р  
С С И  
К У Б А К Д  
И О А  
Й Е

The background of the slide is an aerial photograph of a rugged, brown, rocky landscape. The terrain is characterized by numerous sharp ridges and deep, dark shadows in the valleys, suggesting a high level of erosion. The color of the rocks is a rich, reddish-brown. The sky above is a clear, bright blue, with a thin layer of white clouds visible on the horizon. The overall scene is one of a vast, desolate, and geologically complex environment.

**Рельеф и полезные  
ископаемые Северной  
Америки**



# Тектоническое строение Северной Америки



По строению поверхности материк подразделяют на три части:

- Северная и центральная части заняты равнинами
- на юго-востоке расположены горы Аппалачи
- на западе протянулись горные сооружения Кордильер.

**Равнинный  
центр**

**Высокогорный  
запад**

**Низкогорный  
восток**



# *Образование некоторых форм рельефа Северной Америки*

*К*

*Цен*

*р*

*А*



# Гранд-Каньон





**Аляскинский хребет**

**Береговой хребет Канады**

**Береговой хребет США**

**Каскадные горы**

**Сьерра-Невада**

**Скалистые горы**

**Большой бассейн**

**Мексиканское нагорье**

- ЗАДАНИЯ**
1. Обозначьте границы всех государств на материке Северная Америка, подпишите их столицы.
  2. Штриховкой выделите развитые и развивающиеся страны.
  3. С помощью условных знаков нанесите месторождения полезных ископаемых в США и Канаде, покажите спе-

**Западная Сьерра-Мадре**

**Восточная Сьерра-Мадре**



**Аляскинский хребет**

**Береговой хребет Канады**

**Береговой хребет США**

**Каскадные горы**

**Сьерра - Невада**

**Западная Сьерра-Мадре**

**Восточная Сьерра-Мадре**

**Скалистые горы**

**Большой бассейн**

**Мексиканское нагорье**

- ЗАДАНИЯ**
1. Обозначьте границы всех государств на материке Северная Америка, подпишите их столицы.
  2. Штриховкой выделите развитые и развивающиеся страны.
  3. С помощью условных знаков нанесите месторождения полезных ископаемых в США и Канаде, покажите спе-

## **Аппалачи**

**Вдоль западного побережья  
Северной Америки протянулись  
горы Аппалачи с самой высокой  
горой –Мак-Кинли. Особенности  
этих гор обусловлены возрастом –  
это старые горы, имеющие пологие,  
заросшие растительностью  
вершины. Главное богатство гор –  
железная руда и каменный уголь.  
Горы сильно изменены  
хозяйственной деятельностью  
человека.**

## Аппалачи

Вдоль **западного побережья** Северной Америки протянулись горы Аппалачи с самой высокой горой – **Мак-Кинли**. Особенности этих гор обусловлены возрастом – это старые горы, имеющие пологие, заросшие растительностью вершины. Главное богатство гор – железная руда и каменный уголь. Горы сильно изменены хозяйственной деятельностью человека.



# Центральные равнины

Центральные равнины находятся к востоку от Великих равнин. Высотой они превосходят все другие равнины Северной Америки. Условия для сельского хозяйства здесь хуже, чем на Великих равнинах, поверхность испещрена оврагами.

# Центральные равнины

Центральные равнины находятся к востоку от Великих равнин.

Высотой они превосходят все другие равнины Северной Америки. Условия для сельского хозяйства здесь хуже, чем на Великих равнинах, поверхность испещрена оврагами.

# Домашнее задание

- **Параграф 52**
- **Доделать таблицу**
- **Составить маршрут путешествия по кордильерам и описание объектов, которые предлагаете показать**