

*Итоговый урок по
географии
9 класс*

*Учитель географии
МОУ «Макарьевская СОШ» г. Свирск
Пронина Н.А.*

Федеральные округа России



Определите федеральные округа по карте



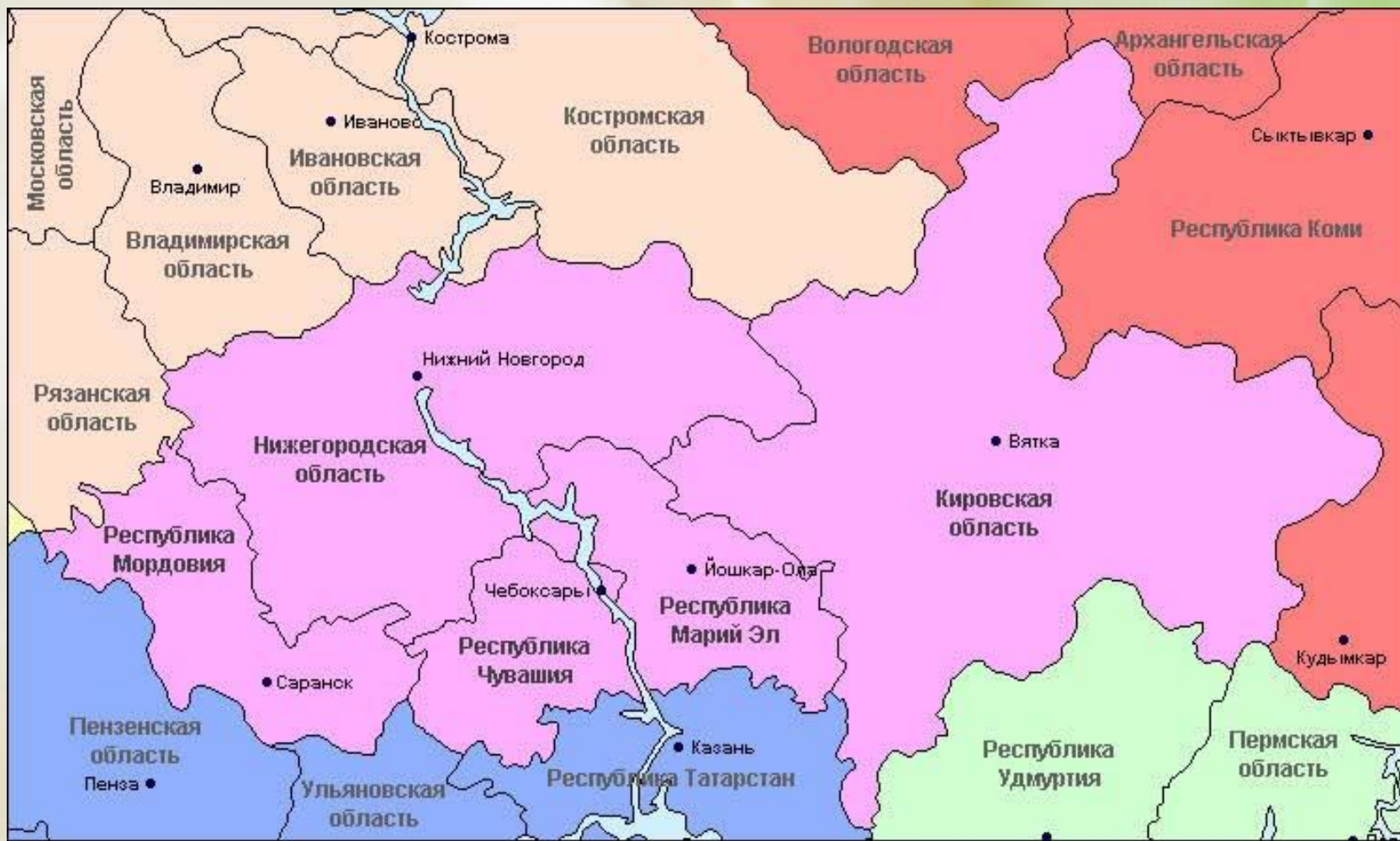
Определите экономические районы РФ



Определите экономический район по карте



Определите экономический район по карте



Определите экономический район по карте



Соотнесите субъект и экономический район

А) Центральный

Б) Волго – Вятский

В) Центрально – Чернозёмный



1



2



3

Определите субъект по карте

А) Удмуртская республика

Б) Республика Хакасия

В) Республика Тыва



1



2



3

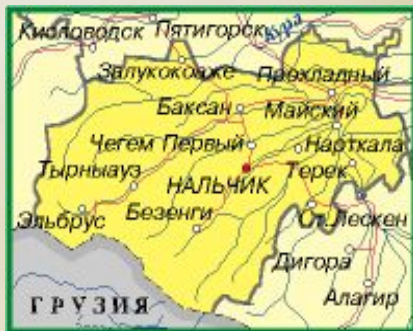
Определите субъект РФ и совместите его с экономическим районом



1) Северо – Кавказский район



2) Восточно – Сибирский район



3) Поволжский район

А)	Б)	В)
... район	... район	... район

А)

Б)

В)

***Расположите города от
самого северного к южному:***

- а) Оренбург***
- б) Мурманск***
- в) Москва***
- г) Вологда***

Установите соотвествие между субъектами и столицами:

- 1) Республика Мордовия**
- 2) Республика Марий – Эл**
- 3) Республика Чувашия**
- 4) Республика Алтай**
- 5) Республика Карелия**

- А) Чебоксары**
- Б) Петрозаводск**
- В) Горно - Алтайск**
- Г) Саранск**
- Г) Йошкар - Ола**

***Из перечисленных городов
назовите города - миллионеры:***

Элиста

Челябинск

Владимир

Самара

Ярославль

Казань

Волгоград

Новосибирск

Уфа


Что объединяет эти географические объекты:

- а) Усть - Балыкское***
- б) Бованенковское***
- в) Уренгойское***

Что объединяет эти географические объекты:

- а) Кислогубская***
- б) Сургутская***
- в) Рефтинская***

Определите крупные районы по выращиванию



1. Пшеницы и чяя



2. Сои



3. Фруктов



4. Овец



5. Оленей

* Республика Саха


* Краснодарский край

* Республика Бурятия

* Приморский край

* Республика Дагестан

Определите крупные центры по производству



1. Коломна 2. Тольятти 3. Рязань 4. Ярославль 5. Самара

Определите по описанию экономический район

Машиностроение — основная отрасль промышленности района. В свое время здесь получили развитие автомобилестроение, станкостроение, приборостроение, электротехника, электроника, авиастроение. Черная металлургия представлена предприятием полного цикла в Туле. Один из крупных речных портов может принимать грузы, идущие через систему каналов из 5 морей.

Определите по описанию экономический район

Район хорошо обеспечен водными ресурсами, но беден полезными ископаемыми. Можно выделить только ресурсы фосфоритов, а также залежи торфа на севере.

Выделяются три ведущие отрасли: транспортное машиностроение (судостроение и автостроение), электротехника и приборостроение.

Определите по описанию экономический район

*В районе находится крупнейший
железорудный бассейн в стране.*

*В районе возделывают сахарную свеклу
(1-е место в стране), подсолнечник (3-е
место), зерновые, картофель, овощи,
плодовые и ягодные культуры.*



О каком крупном городе идёт речь:

Это один из древнейших городов Центральной России, крупный железнодорожный узел, центр машиностроения и химической промышленности. Известен крупным танковым сражением Второй Мировой войны.



О каком крупном городе идёт речь:

Один из крупных центров машиностроения, в том числе оборонного. Город известен автомобильной промышленностью, заводами по производству самолётов, дизелей, телевизоров. Главная судостроительная база – завод «Красное Сормово».