

ГОРЬКИЙ ЧУЖОЕ ПОПЫТКА
СВЯТЫЙ АМЕРИКА



**СЕВЕРНАЯ
АМЕРИКА**

**Старый Свет
или Новый
Свет?**

**ЮЖНАЯ
АМЕРИКА**



**S=24250 кв.
км.
16% - суши
планеты**

**Общая длина
береговой
линии – 75,5
тыс. км.**

КРАЙНИЕ ТОЧКИ МАТЕРИКА:

С. - м. Мерчисон (на полуострове Бутия)

Ю. – м. Марьято (на полуострове Асуэро)

З. – м. Принца Уэльского (на полуострове Сьюард)

В. – м. Сент – Чарльз (на полуострове Лабрадор)



**Определите
координату крайних
точек Северной
Америки**



ПРОВЕРЯЕМ

С. - м. Мерчисон $71^{\circ}50'$ с.ш.

Ю. – м. Марьято $71^{\circ}12'$ с.ш.

З. – м. Принца Уэльского 168° з.д.

В. – м. Сент – Чарльз $55^{\circ}40'$ з.д.

В КАКИХ КЛИМАТИЧЕСКИХ ПОЯСАХ РАСПОЛОЖЕНА СЕВЕРНАЯ АМЕРИКА?

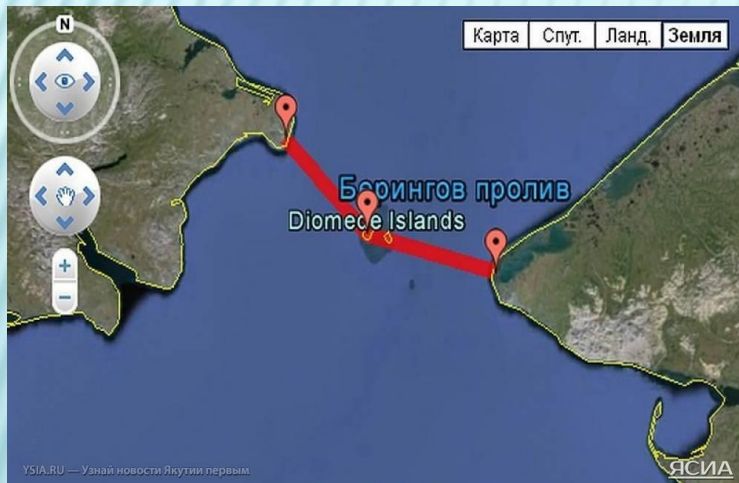




КАКИЕ ОКЕАНЫ
И МОРЯ
ОМЫВАЮТ
ПОБЕРЕЖЬЯ
СЕВЕРНОЙ
АМЕРИКИ?

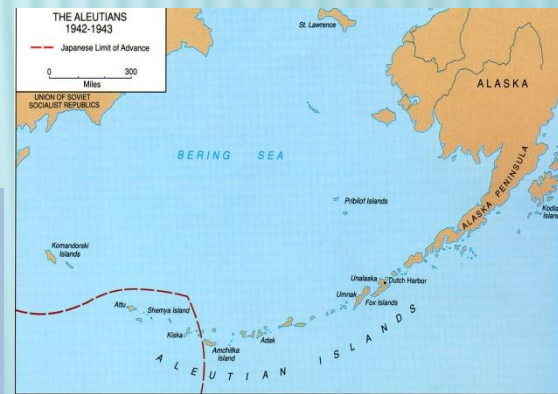

НАЙДИТЕ НА КАРТЕ

1. Беренгов Пролив.
2. Панамский перешеек



**Какие материки являются соседями
Северной Америки?**


КАКИЕ ОСТРОВА ПРИНАДЛЕЖАТ СЕВЕРНОЙ АМЕРИКЕ?



КАКИЕ ОСТРОВА ПРИНАДЛЕЖАТ СЕВЕРНОЙ АМЕРИКЕ?



о. Гренландия



о-ва. Канадского
Арктического
архипелага



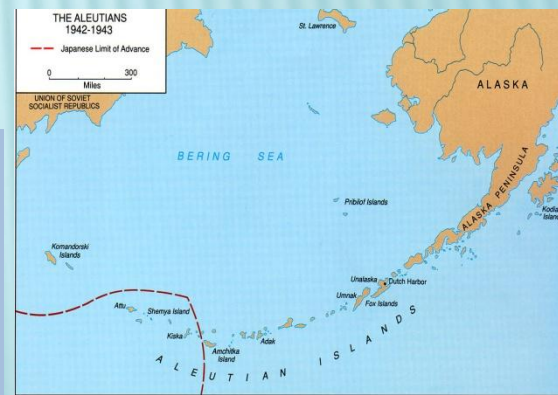
о. Ньюфаундленд



о-ва. Большие и
Малые
Антильские

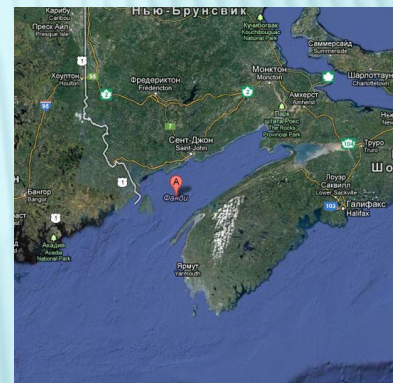


о-ва. Багамские



о-ва. Алеутские

КАКИЕ ЗАЛИВЫ РАСПОЛОЖИЛИСЬ НА ПОБЕРЕЖЬЕ СЕВЕРНОЙ АМЕРИКИ?



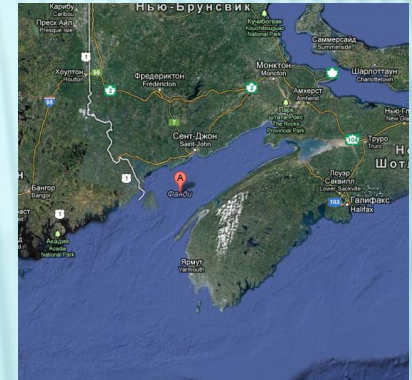
КАКИЕ ЗАЛИВЫ РАСПОЛОЖИЛИСЬ НА ПОБЕРЕЖЬЕ СЕВЕРНОЙ АМЕРИКИ?



Гудзонов залив



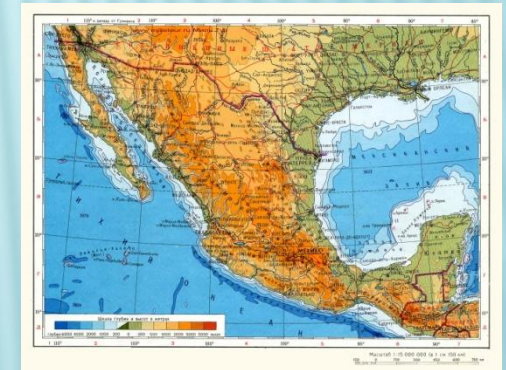
залив Святого
Лаврентия



залив Фанди



Калифорнийский
залив



Мексиканский
Залив

УЗНАЛ...
ЗАПОМНИЛ....
ПОНРАВИЛОСЬ...
ПОКАЗАЛОСЬ ТРУДНЫМ...



ДОМАШНЕЕ ЗАДАНИЕ

§ 43 – учить, нанести на контурную карту географические объекты изученные на уроке (заливы, проливы, моря).