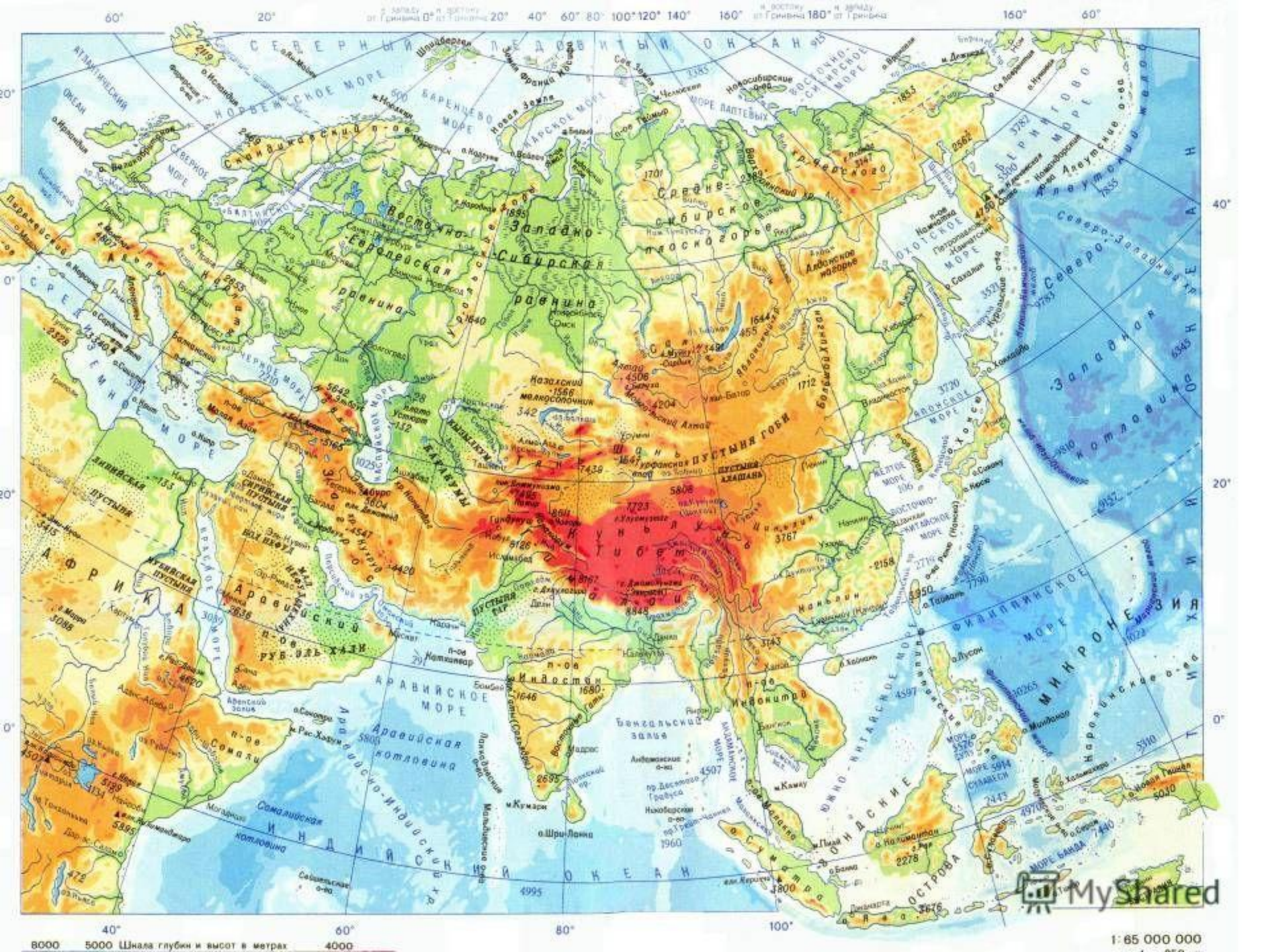


Евразия

УЧИТЕЛЬ ДОРОНИНА Р.В





РЕКОРДЫ ЕВРАЗИИ

Самое глубокое озеро	
Самое большое по площади озеро	
Наивысшая точка (гора)	
Самое низкое по уровню место	
Самый большой полуостров	
Самая населённая страна	
Самая большая по площади страна	

Рекорды Евразии.



ИГРА «ЧЕТВЕРТЫЙ ЛИШНИЙ»

Каспийское, Желтое, Азовское, Красное

Индостан, Индокитай, Сахалин, Скандинавский

Обь, Енисей, Лена, Инд

Фудзияма, Ключевская Сопка, Килиманджаро, Везувий

Альпы, Карпаты, Анды, Пиренеи

ИГРА «ЧЕТВЕРТЫЙ ЛИШНИЙ»

, Желтое, Азовское, Красное

Индостан, Индокитай, Скандинавский

Обь, Енисей, Лена,

Фудзияма, Ключевская Сопка, Везувий

Альпы, Карпаты, Пиренеи

ДОПИШИТЕ ПРЕДЛОЖЕНИЯ

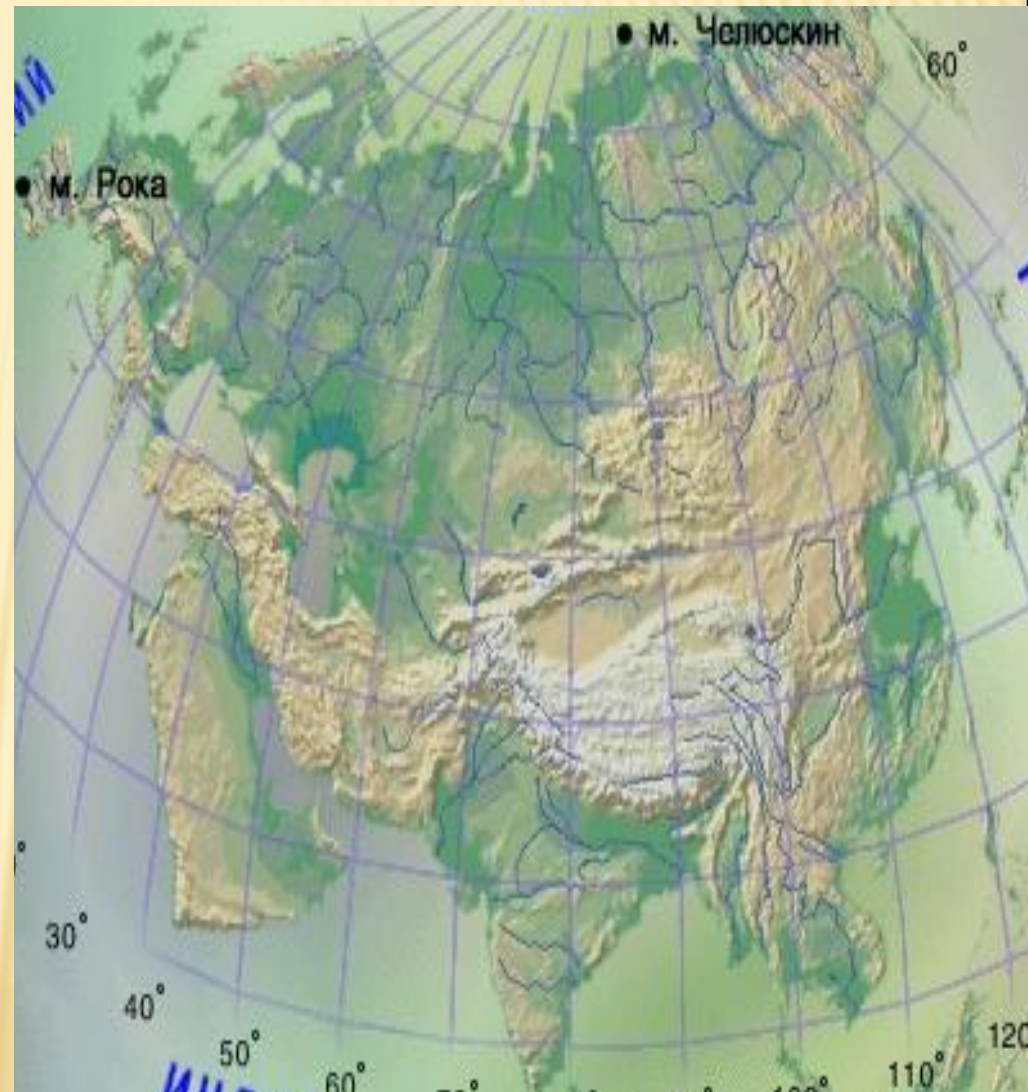
- 1. Дикие слоны живут на полуострове..... И острове.....
- 2. может не пить и не есть долгое время.(верблюд)
- 3. Продолжительный период низких температур, многолетняя мерзлота, болота – признак
- 4. Река Волга впадает в И относится к бассейну
- 5. На Японских островах находится вулкан

ПРОВЕРКА ДОПИШИТЕ ПРЕДЛОЖЕНИЯ:

1. Дикие слоны живут на полуострове **Индостан** и острове **Мадагаскар**.
2. **Верблюд** может не пить и не есть долгое время.
3. Продолжительный период низких температур, многолетняя мерзлота, болота – признак **тундры**.
4. Река Волга впадает в **Каспийское море** и относится к **бессточному** бассейну
5. На Японских островах находится вулкан **Фудзияма**.

«НЕМАЯ КАРТА»

- 1. Уральские горы
- 2. р. Обь
- 3. г. Альпы
- 4. Пиренейский п-ов
- 5. о. Великобритания
- 6. оз. Байкал
- 7. Красное море
- 8. о. Сахалин
- 9. пролив Ла-Манш
- 10. пустыня Тар



Задание 8 Определи страну по описанию:

- Государство Западной Европы.
- Соседями этого государства являются: на востоке – Франция, на западе – Португалия.
- Государство дало миру великого путешественника и первооткрывателя – Христофора Колумба.
- Омывается на юге Средиземным морем.
- Это -



Задание 9. Определи страну по описанию:

- Это островное государство Восточной Азии. До XVII века было закрытым государством.
- Население однонационально по составу.
- Государство бедное по набору и количеству полезных ископаемых, но развито в промышленном отношении, автомобили, роботы, аудиотехника, бытовые приборы.
- Страна дала миру искусство составления букетов, выращивания и обрезки карликовых растений, одежду кимоно.
- Это -



Задание 10. Определи страну по описанию:

- Островное государство, отделяющееся от материка Евразия проливом Ла-Манш.
- До VIII века эта страна была великой колониальной державой, ей принадлежали: Австралия, новая Зеландия, Индия, ЮАР, Ангола.
- Язык этой страны считается языком межнационального общения.
- Это -



ЧТО ОБОЗНАЧАЮТ ЭТИ ЦИФРЫ?

□ 8848


□ 54,2

□ - 405

ЗАДАНИЕ 12. ГДЕ НАХОДЯТСЯ ЭТИ ДОСТОПРИМЕЧАТЕЛЬНОСТИ?



Бен - Бен



Великая Китайская стена



Колизей



Рейстаг



Пизанская башня




Эйфелева башня

ЗАДАНИЕ 12. ГДЕ НАХОДЯТСЯ ЭТИ ДОСТОПРИМЕЧАТЕЛЬНОСТИ?



Англия



Китай



Италия



Германия



Испания



Франция

A satellite-style map of the Eurasian continent, showing its vast expanse from Europe in the west to Asia in the east. The map is overlaid with text in Russian. The text is centered and reads: "Чем Евразия не похожа на другие материки?".

**Чем
Евразия
не похожа
на другие материки?**

Евразия – самый большой и самый населенный материк на планете.

Он омывается всеми океанами.

Этот материк вмещает в себя 2 части света: Европу и Азию.

Здесь представлены все климатические пояса Земли.

В Евразии находятся самая высокая и самая низкая точки планеты.

Задание 6. Перетащите названия государств на карту

Великобритания

Индия

Россия

Китай

Монголия

Саудовская
Аравия

Япония

Испания

Казахстан

Индонезия




Площадь Евразии.



Джомолунгма



Джомолунгма



Гималаи

MyShared