

Тема урока: Регионы Южной



Презентацию подготовила учитель географии высшей категории МОУ гимназии № 10 Кировского района г. Волгограда

Расстрыгина Лариса Григорьевна

§41



Регионы Южной Америки



Вспомните

1. Что такое регион?
2. Какие признаки территорий можно положить в основу регионального деления?
3. Что изображено на политической карте?
4. Что такое страна?

Вы узнаете

1. На какие регионы делится Южная Америка.
2. Какие страны входят в состав каждого региона.
3. Каковы особенности природы каждого из регионов.

Как вы думаете

1. Какие группы государств по особенностям географического положения можно выделить в Южной Америке?
2. Почему среди объектов Всемирного наследия в Андийских странах преобладают культурно-исторические, а в восточной части материка - природные объекты?

Вдп. Кайетур в
Гайане



Вальпараисо



Регионы Южной Америки

Все страны Южной Америки делятся на две большие группы:



Андийские страны

Венесуэла

Эквадор

Колумбия

Боливия

Перу

Чили

Страны равнинного востока

Бразилия

Аргентина

Суринам

Гайана

Французская Гвиана



Уругвай

Парагвай


Практическая работа



1. На контурной карте проведите границу регионов Южной Америки.
2. Обозначьте регионы в различной цветовой гамме.
3. Обозначить страны регионов и их столицы.
4. Штриховкой отметьте страны не имеющие выхода к морю (океану).



Сантьяго



Андийские страны

Проанализируйте текст учебника на стр. **105-106** и выпишите общие черты характерные для природы, населения и хозяйства Андийских стран, позволяющие объединить их в один регион.

Найденные черты сходства запишите в тетрадь.

Черты сходства Андийских стран:

- 1.
- 2.
- 3.



Коренное население Южной Америки: аймара, кечуа, бора.

1. Проанализируйте данные учебника (стр. 107, 111) показывающие численность коренного населения в регионах и странах Южной Америки. Сравните данные и попытайтесь объяснить причины неодинакового количества коренных жителей материка в разных странах и регионах
2. Сравните жилища и одежду коренных жителей Андийского региона (фото 1-3) и индейцев Амазонии (фото 4-5).



Боливия

В Андах



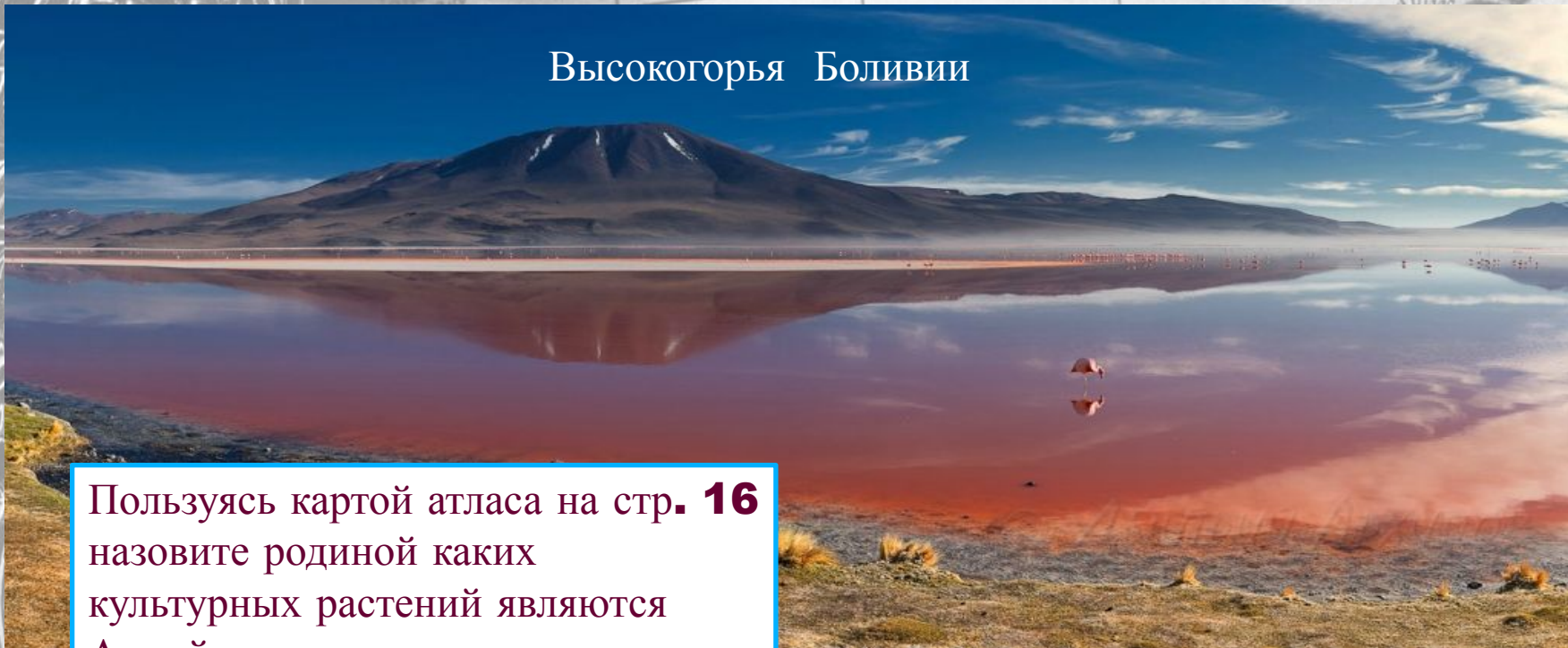
Ла-пас – самая высокогорная столица мира



Вулкан Сахама, Боливия



Высокогорья Боливии



Пользуясь картой атласа на стр. **16** назовите родиной каких культурных растений являются Андийские страны.



Перу



Мачу-Пикчу



Лима



Население

высокогорий





Чили


«Медный пояс» - это...

Задание: пользуясь картой атласа на стр. **40** назовите занятия населения Чили и Перу. Выделите черты сходства.



Сантьяго

Вальпараисо. Чили



Сантьяго





какие страны

равнинного востока


Бразилия

вай

- 1.** Назовите самую большую страну региона
- 2.** Почему официальными языками равнинного востока Южной Америки являются испанский, английский, голландский, португальский



Бразилия



Заповедный лес в Центральной Амазонии



В отличие от Андских стран на востоке материка нет значительных памятников древности, зато очень много природных объектов, включённых в список Всемирного наследия.



Бразильское плоскогорье




Крупнейшие города Бразилии



Рио-де-Жанейро



Сан-Паулу




Бразилиа



Праздники

Карнавал в Рио -де -Жанейро



Самба



Достопримечательности



Рио – де -Жанейро





Аргентина

Буэнос-Айрес



- Метис
- Креол
- Ранчо
- Гаучо
- Танго



Поработаем с текстом учебника На стр .110-112 найдите значения этих слов.



Практическая работа



5. Отметьте города с численностью населения:
- от **5** до **10** млн. чел.
 - более **10** млн. чел.

6. Условным знаком обозначьте страну в которой хотели бы побывать.

Повторим главное

1. Какие природные районы выделяют в Южной Америке?
2. Какие признаки положены в основу регионального деления Южной Америки?
3. Столица какой страны самая высокогорная в мире?
4. Какая отрасль промышленности для большинства андийских стран является самой главной?



Домашнее задание

1. Пользуясь текстом **§ 41** подготовьте рассказ об одной из стран Южной Америки, которую вы хотели бы посетить.
2. Ответьте на вопросы **1- 4** из рубрики «А теперь более сложные вопросы»
3. Повторите материал **§35 -40**

Творческое задание (для желающих) Нарисуйте образ одного из районов Южной Америки,