





Эй, товарищ, не ленись!
Отвечать поторопись!



”



The background of the slide is a map of the African continent, colored in a reddish-brown hue. In the upper left corner, there is a compass rose with a circular center and several radiating lines representing cardinal and intercardinal directions. The text is overlaid on the map.

Тема урока: Африка. Географическое положение и история исследования.

Практическая работа «Определение географических координат крайних точек

карте

Африки; обозначение и надписывание на контурной


названий изучаемых в теме географических объектов»

Цель: 1.Изучить особенности физико-географического положения Африки и

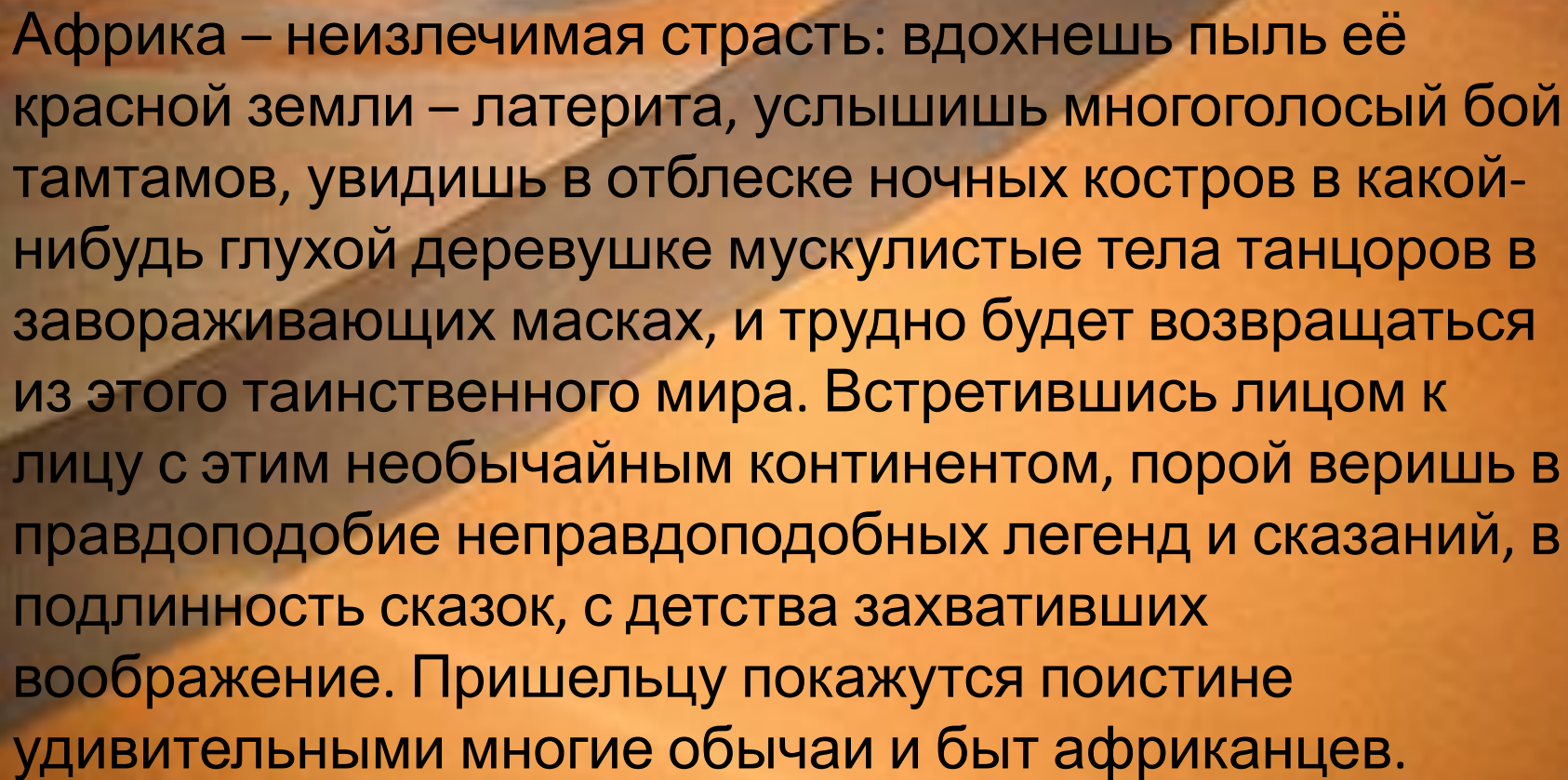
их влияние на природу материка, научиться давать характеристику ФГП материка.

2.Познакомиться с историей исследования Африки.

3.Продолжить формирование навыков работы с картой.



Сердце Африки пенья полно и
пыланья,
И я верю, что, если мы видим порой
Сны, которым найти не умеем
названья,
Это ветер приносит их, Африка, твой!
Б. Пиляцкий.

A photograph of a vast desert landscape with rolling sand dunes under a clear sky. The dunes are a warm, golden-brown color, and the sky is a pale, clear blue. The perspective is from a low angle, looking across the dunes towards the horizon.

Африка – неизлечимая страсть: вдохнешь пыль её
красной земли – латерита, услышишь многоголосый бой
тамтамов, увидишь в отблеске ночных костров в какой-
нибудь глухой деревушке мускулистые тела танцоров в
загораживающих масках, и трудно будет возвращаться
из этого таинственного мира. Встретившись лицом к
лицу с этим необычайным континентом, порой веришь в
правдоподобие неправдоподобных легенд и сказаний, в
подлинность сказок, с детства захвативших
воображение. Пришельцу покажутся поистине
удивительными многие обычаи и быт африканцев.

Владимир Корочанцев

A leopard is perched on a light-colored rock in the foreground, looking towards the right. The background is a vast, open savanna landscape under a clear blue sky. A large herd of wildebeest is grazing in the distance.

ТОПОТОМ,

ШЁПОТОМ

серафимы.

послушай,

Евразии

грушей.

Гумилёв.

Оглушённая рёвом и

Облеченная в пламя и дымы,
О тебе, моя Африка,

В небесах говорят


Про деяния свои и фантазии,
Про звериную душу

Ты на дереве древнем

Исполинской висящая

Н.С.

План описания географического положения материка.

1. Определите, как расположен материк относительно экватора, тропиков (полярных кругов) и нулевого меридиана.
 2. Найдите крайние точки материка, определите их координаты и протяжённость материка в градусах и километрах с севера на юг и с запада на восток.
 3. В каких климатических поясах расположен материк?
 4. Определите, какие океаны и моря омывают материк?
 5. Как расположен материк относительно других материков?
- 

Практическая работа «Определение географических координат крайних точек Африки; обозначение и надписывание на контурной карте названий изучаемых в теме географических объектов»

- Найдите крайнюю северную точку Африки – мыс Бен-Секка. Определите её координаты и отметьте точку на контурной карте.
- Определите и запишите координаты крайней южной точки Африки – мыса Игольного, отметьте её на контурной карте.
- Какой вывод можно сделать о положении Африки относительно экватора, тропиков и полярных кругов?
- Найдите крайние точки – западную и восточную. Мыс Альмади – это крайняя западная точка Африки. Определите её координаты и нанесите на контурную карту.
- Найдите крайнюю восточную точку Африки – мыс Рас-Хафун, определите её координаты, отметьте точку на контурной карте.
- Какой вывод можно сделать о положении Африки относительно нулевого меридиана?

**1. Северная – мыс
Рас-Энгела**

Географические координаты
37 гр. с.ш. и 10 гр. в.д.

**2. Южная – мыс
Игольный**

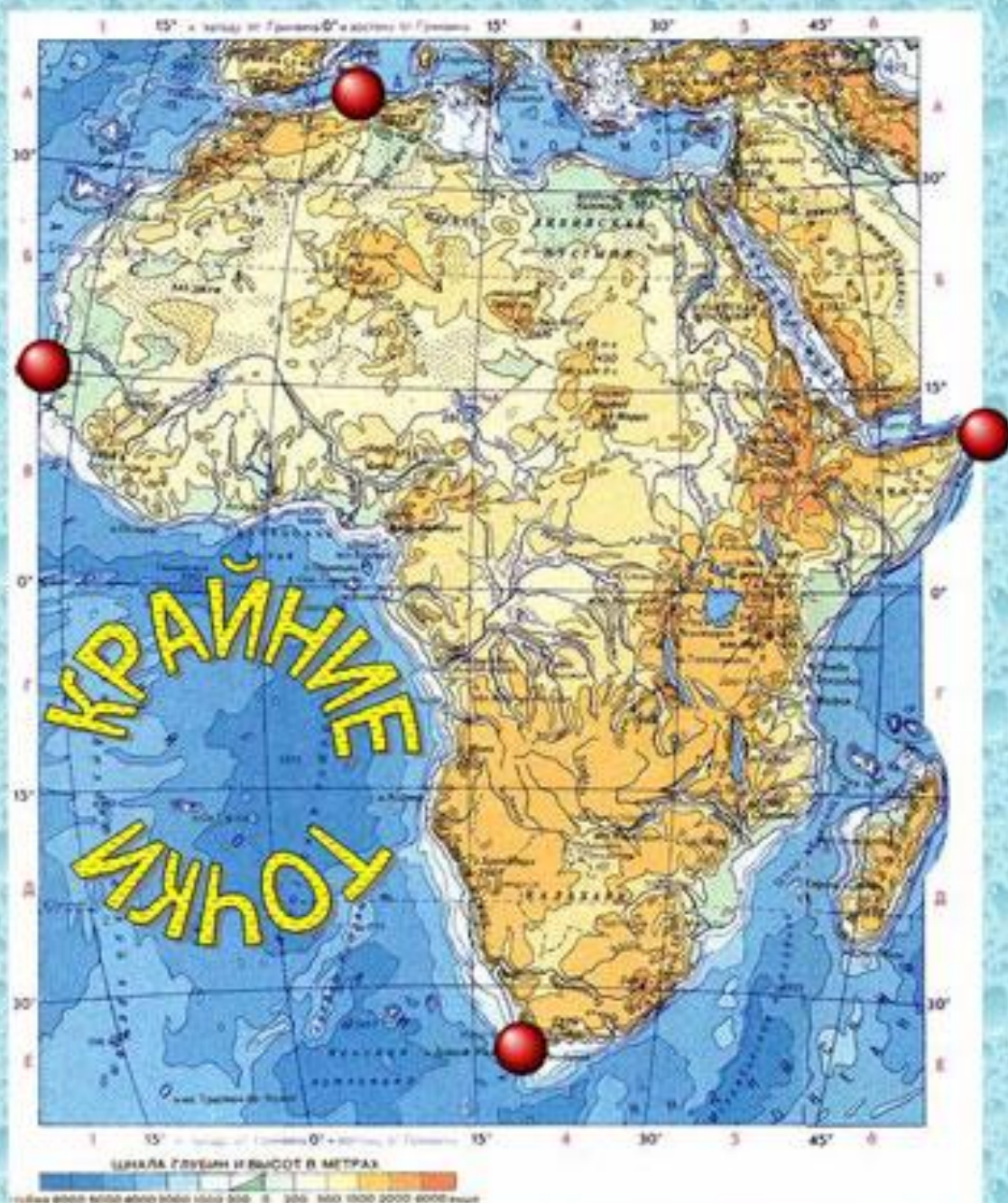
Географические координаты
36 гр. ю.ш. и 20 гр. в.д.

**3. Западная – мыс
Альмади**

Географические координаты
15 гр. с.ш и 16 гр. з.д.

**4. Восточная – мыс
Рас-Хафун**

Географические координаты
12 гр. с.ш и 52 гр. в.д.



Номенклатура

Проливы: Гибралтарский, Мозамбикский, Баб-эль-Мандебский

Мысы: Бен-Секка, Альмади, Рас-Хафун, Игольный

Канал Суэцкий

Полуостров Сомали

Острова: Мадагаскар, Канарские

Заливы: Гвинейский, Аденский

Моря: Красное, Средиземное

Океаны: Индийский, Атлантический.



Игра «Закончи предложение»

Устно продолжить незаконченную фразу.

Африка посередине пересекается ...

Северная точка материка – мыс ...

Южная точка ...

Восточная крайняя точка ...

Западная крайняя точка ...

Африку омывают океаны ...

С севера материк омывает...

Гвинейский залив расположен с ...

Самый большой остров у берегов Африки...

Полуостров, на котором расположена самая восточная точка материка...

Африка располагается в полушариях...

Нулевой меридиан пересекает Африку на...

Водопад Виктория открыл и назвал...

Африка по площади занимает...

Открыл путь в Индию вокруг Африки...

Африку с запада омывает...

- Я чувствовал себя в процессе учения ...
- Свою работу на уроке я оцениваю ...
- Мне этот материал нужен для ...
- Я ухожу с ... настроением!

Итак, друзья, пришла
пора

проститься.

И я хочу вам пожелать:

Всегда с охотою учиться,

Всегда с охотою

трудиться.

И никогда не вныивать.