

ВПР
Задание № 1
(часть 2)

Коваленко Н.А.,
учитель географии
МБОУ СОШ № 191

С каким из названных Вами материков связаны открытия путешественников и исследователей, изображённых на портретах? Укажите название материка

Генри Мортон

Абу Абдаллах Ибн Баттута

Самый известный из арабских путешественников.


В 14 веке он объехал и исследовал почти все страны Азии и Северной Африки, пересек Сахару.

Подробно описал города и страны, представил сведения о полезных ископаемых.



Стэнли

В XIX веке совершил путешествие в Африку, исследовал озера Танганьика и Виктория, реку Конго, открыл реку Каира



О каких из названных Вами материков связаны открытия путешественников и исследователей, изображённых на портретах? Укажите название



- ка
с 164
втору
А
п
При

С каким из названных Вами океанов связаны открытия путешественников и исследователей, изображённых на портретах? Укажите название океана

• Марко Поло

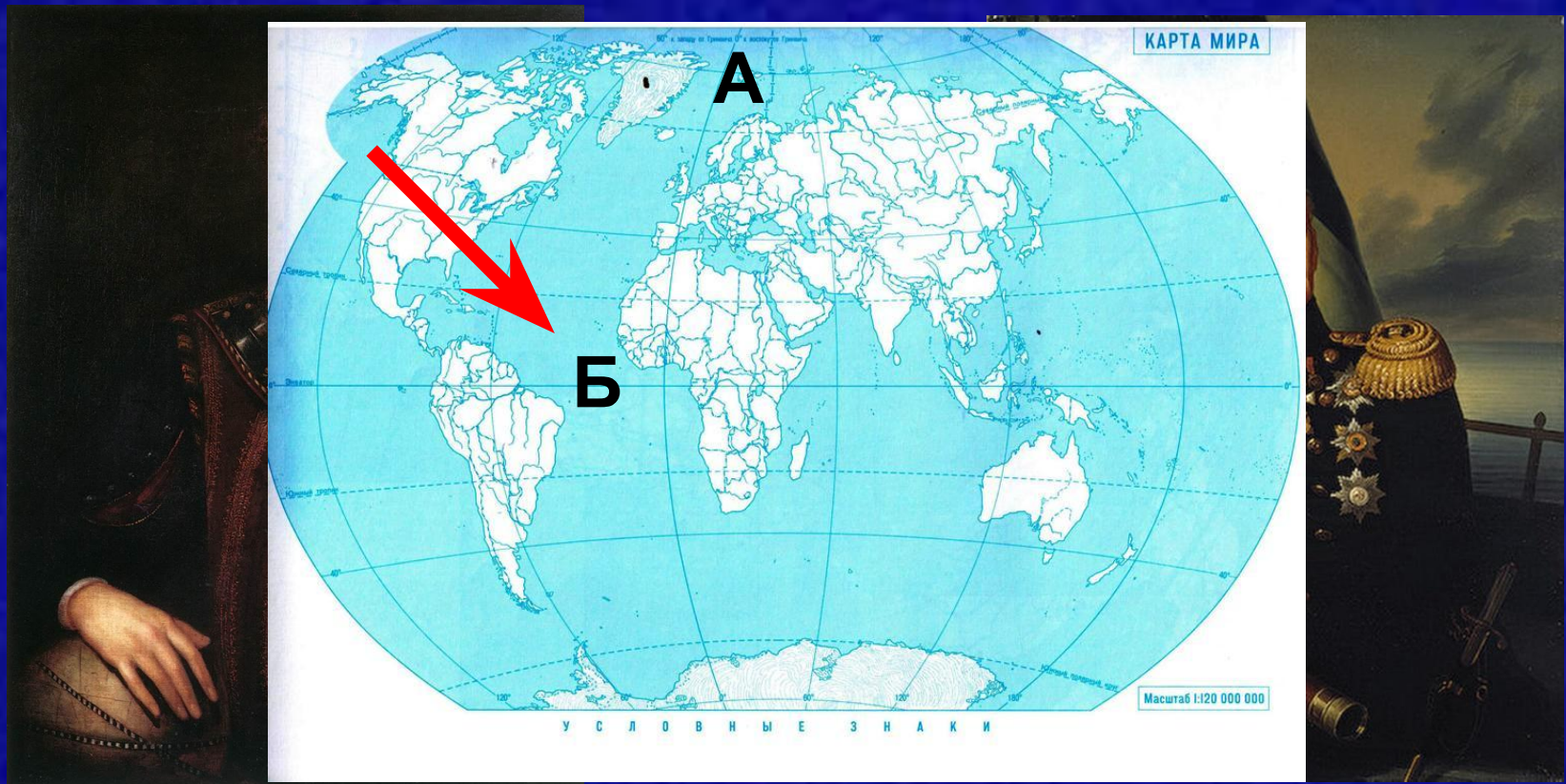
Васко да Гама



С каким из названных Вами океанов связаны открытия путешественников и исследователей, изображённых на портретах? Укажите название океана

• Фрэнсис Дрейк

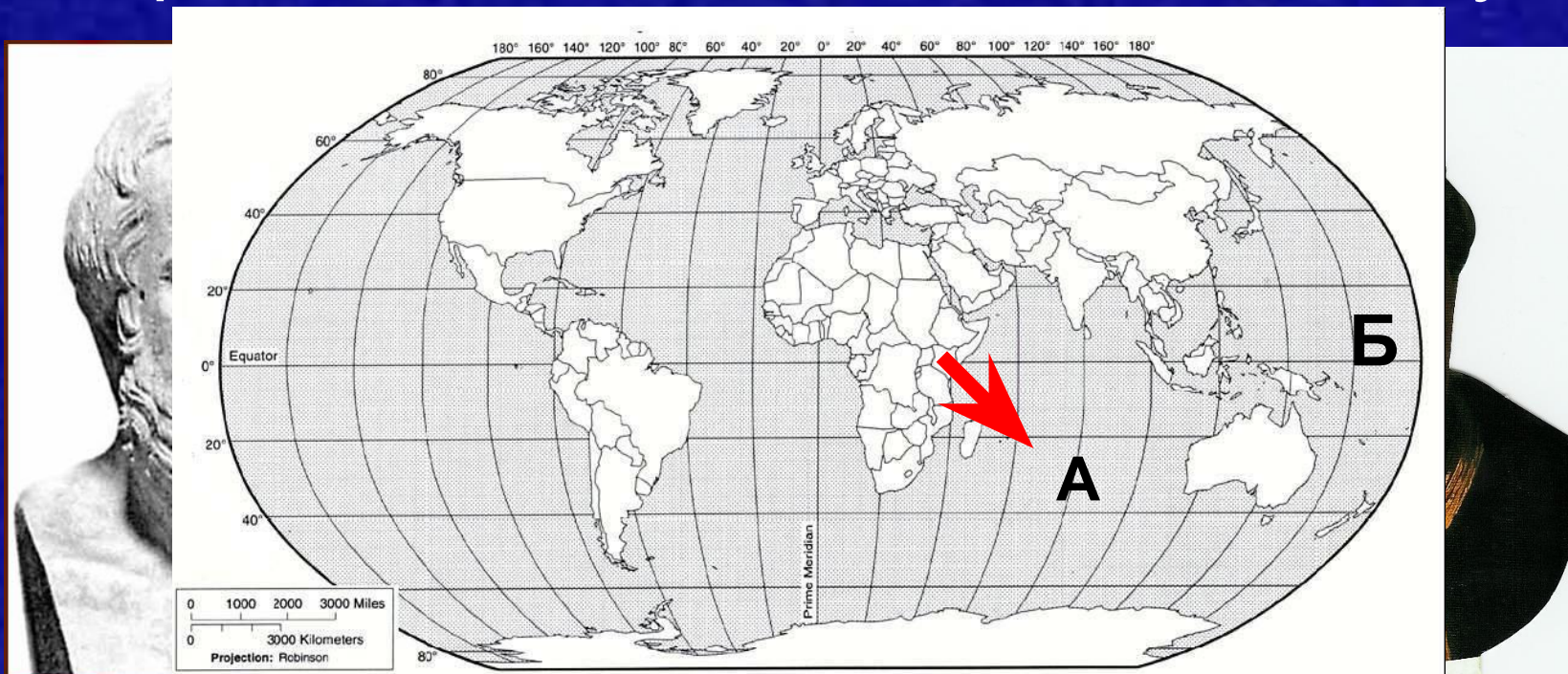
Крузенштерн



С каким из названных Вами океанов связаны открытия путешественников и исследователей, изображённых на портретах? Укажите название океана

• Геродот

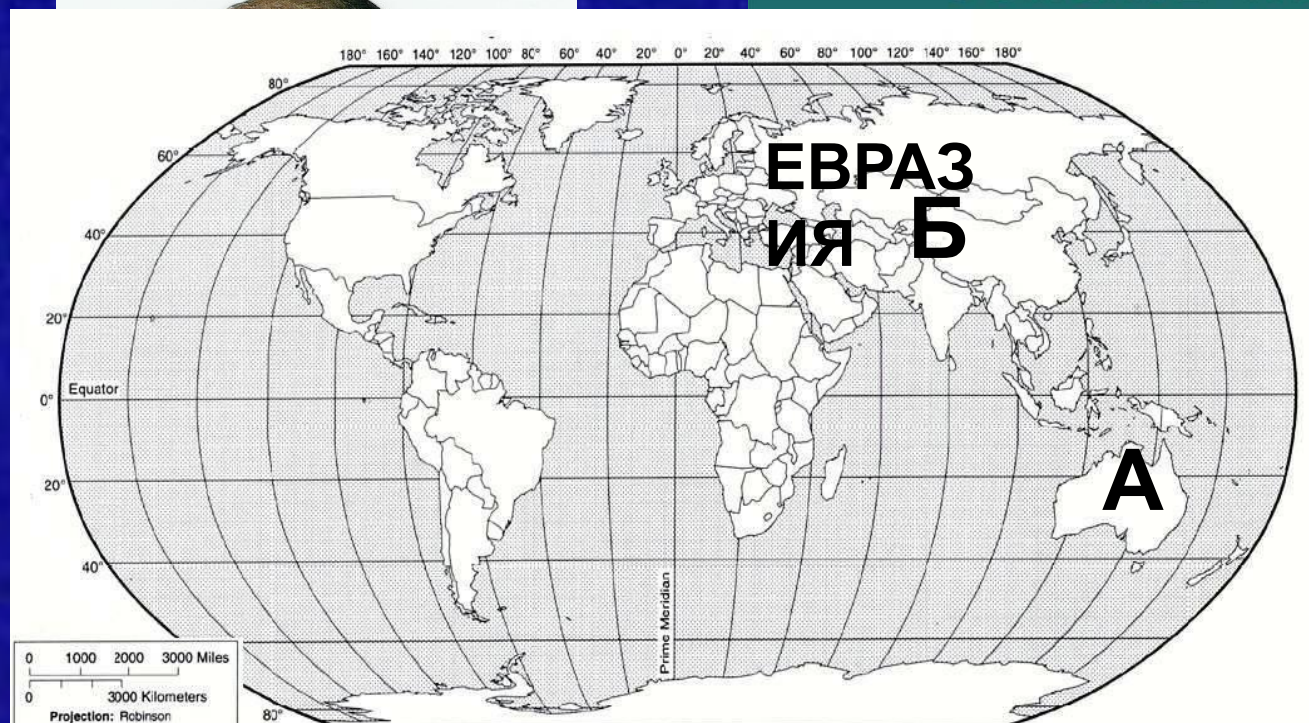
Джеймс Кук



С каким из названных Вами материков связаны открытия путешественника и исследователя П.П. Семёнова-Тян-Шанского, изображённого на портрете? Укажите название материка

- Джеймс Кук

Пётр Петрович
Семёнов-Тян-Шанский

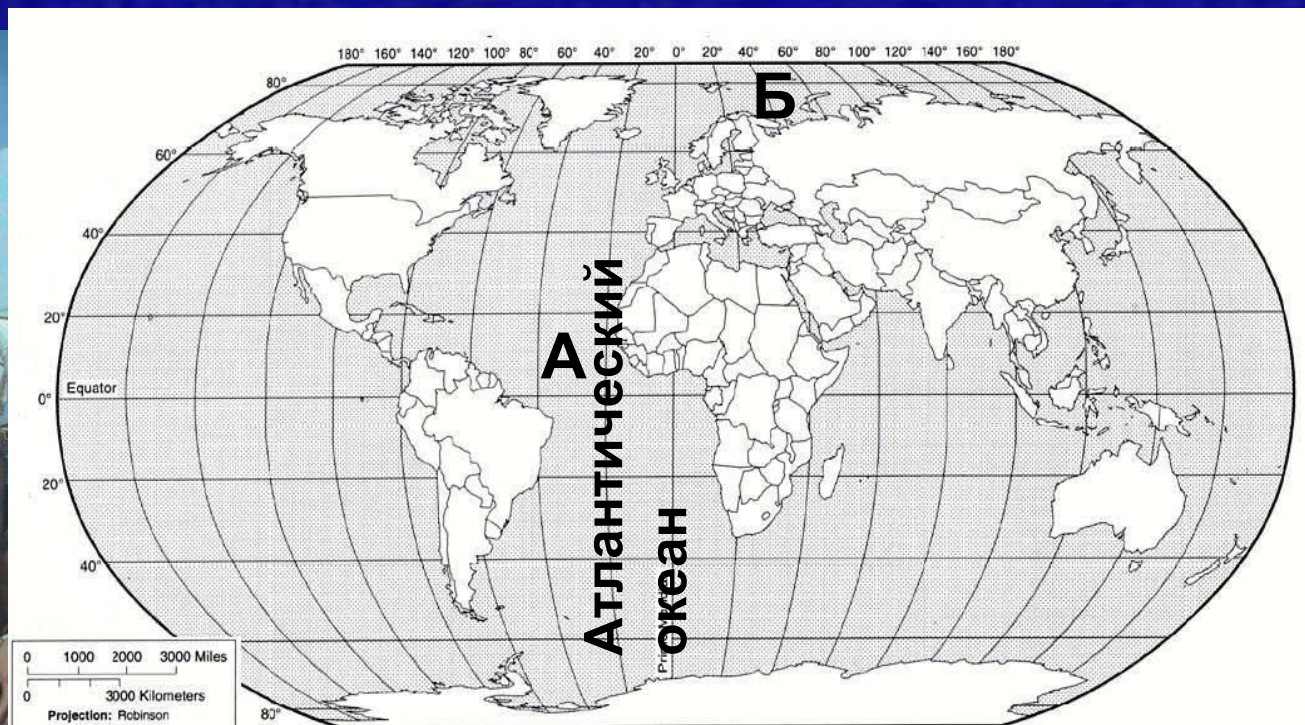


914)

Описал горы
Тянь-Шань,
озеро Иссык-Куль,
реку Сырдарья

С каким из названных Вами океанов связаны открытия путешественника и исследователя Христофора Колумба, изображённого на портрете?
Укажите название океана

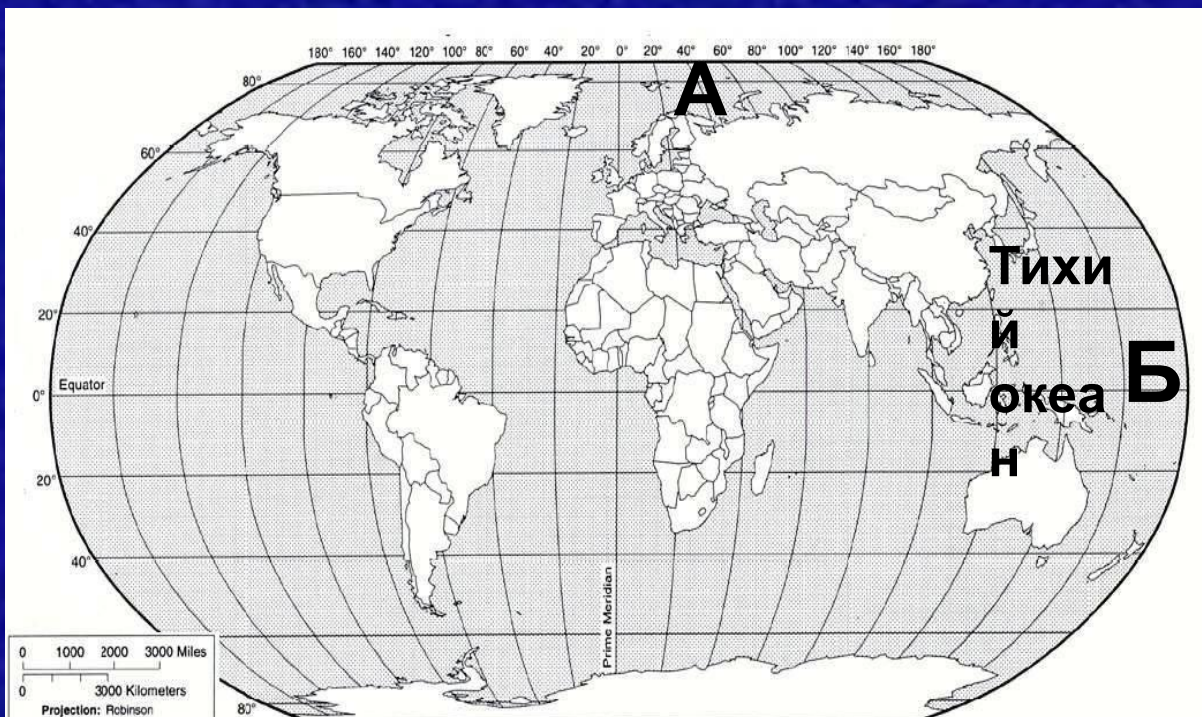
- Христофор Колумб Виллем Баренц



С каким из названных Вами океанов связаны открытия путешественника и исследователя Ф. Магеллана, изображённого на портрете?
Укажите название океана

• И.Д. Папанин

Фернан



Части Света



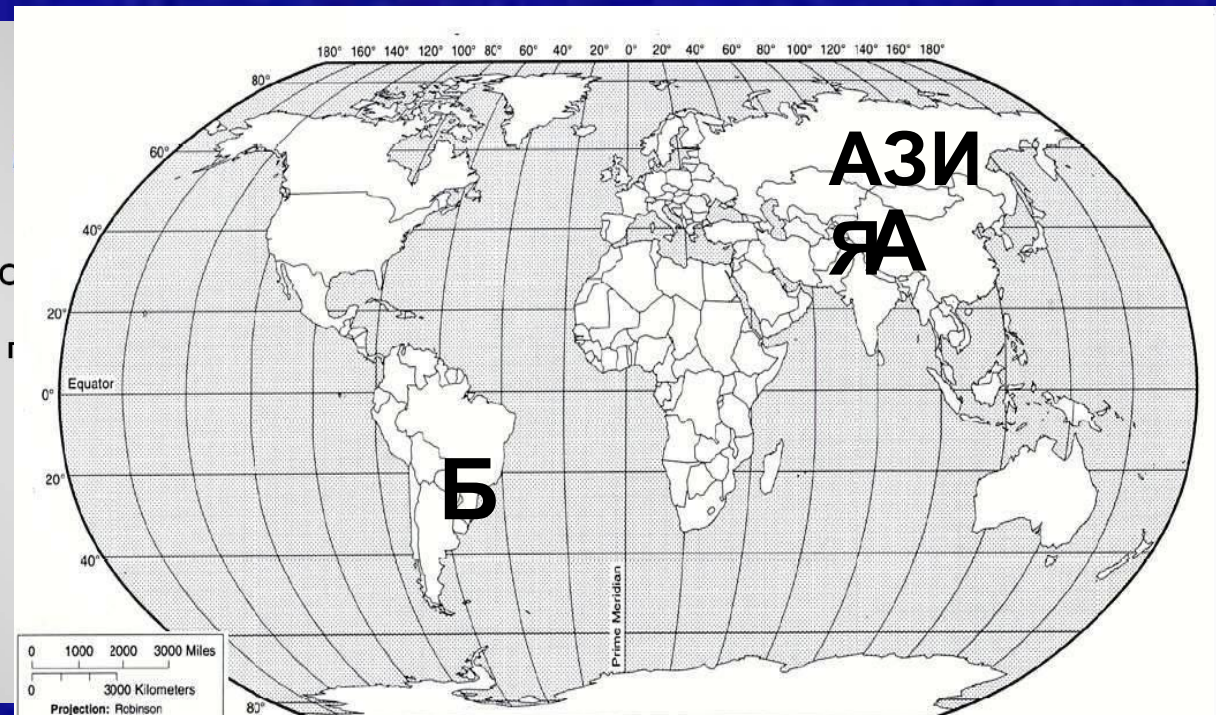
С каким из названных Вами частей света связаны открытия путешественника и исследователя Н.М. Пржевальского, изображённого на портрете?

Укажите название материка

- Н.М. Пржевальский
- Х. Колумб



1839-1888



Информация

- <https://yandex.ru/> - фон презентации, картинки
- Учебник «География. Планета Земля 5-6 класс» А. А. Лобжанидзе, Просвещение
- География 6 класс. 10 вариантов итоговых работ для подготовки к ВПР: учебное пособие / Н. Е. Бургасов, С. В. Банников. - Москва: Издательство «Интеллект – Центр» 2018. – 128 с.