

ФИЗИКО-ГЕОГРАФИЧЕСКОЕ ПОЛОЖЕНИЕ ЕВРАЗИИ



Содержание

1. Размеры материка

2. Граница между Европой и Азией

**3. Положение относительно
основных линий**


4. Крайние точки и протяженность

5. Климатические пояса.


**6. Океаны, моря, заливы, проливы, острова,
полуострова.**

Размеры материка


Какова площадь поверхности Земли?




Какова площадь поверхности суши?



Какова площадь материка Евразия?



Какие материки могут поместиться на территории Евразии вместе взятые?

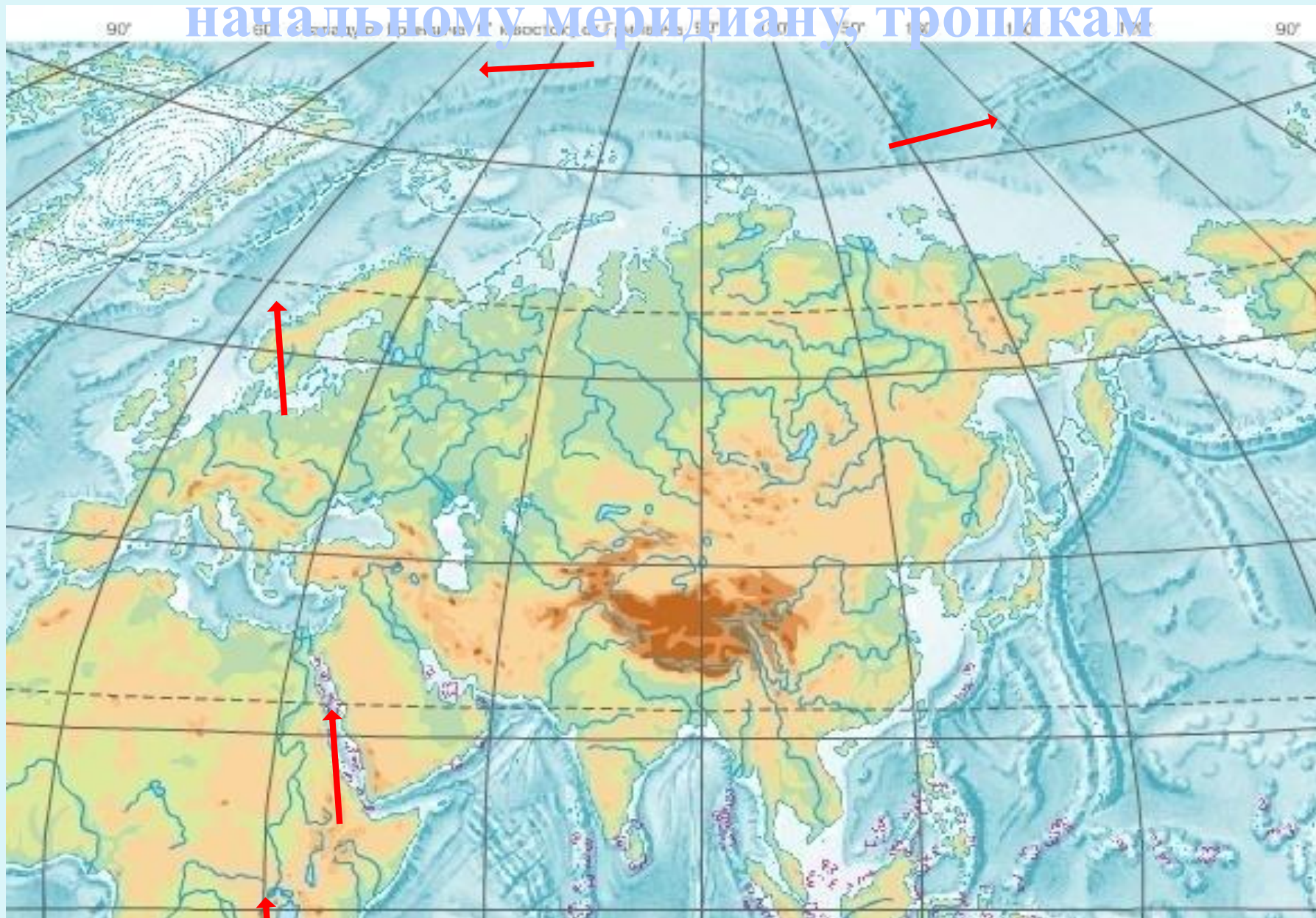


Граница между Европой и Азией



Уральские горы- р.Эмба – северное побережье Каспийского моря – Кумо-Манычская впадина – Азовское море - Керченский пролив – Черное море – пролив Босфор – Мраморное море – пролив Дарданеллы – Средиземное море – Гибралтарский пролив

Расположение по отношению к экватору, начальному меридиану, тропикам



Крайние точки

мыс Челюскин

77°43' с. ш.
107° в.д.




мыс Дежнева

66° с. ш.
169°40' з. д



мыс Рока

39° с. ш.
9°30' з. д



Найдите на карте крайние точки материка,
определите их координаты

Крайние островные точки



Южный остров (Кокосовые острова) $12^{\circ}4'$ ю. ш.
Остров Ратманова (острова Диомиды) $169^{\circ}0'$ з. д.
Мыс Флигели (архипелаг Земля Франца-Иосифа), $81^{\circ}51'$ с. ш.
скала Моншик (Азорские острова) $31^{\circ}16'$ з. д.

Протяженность Евразии

Рассчитайте протяженность Евразии с севера на юг по 105 °в.д.

77°с.
ш.

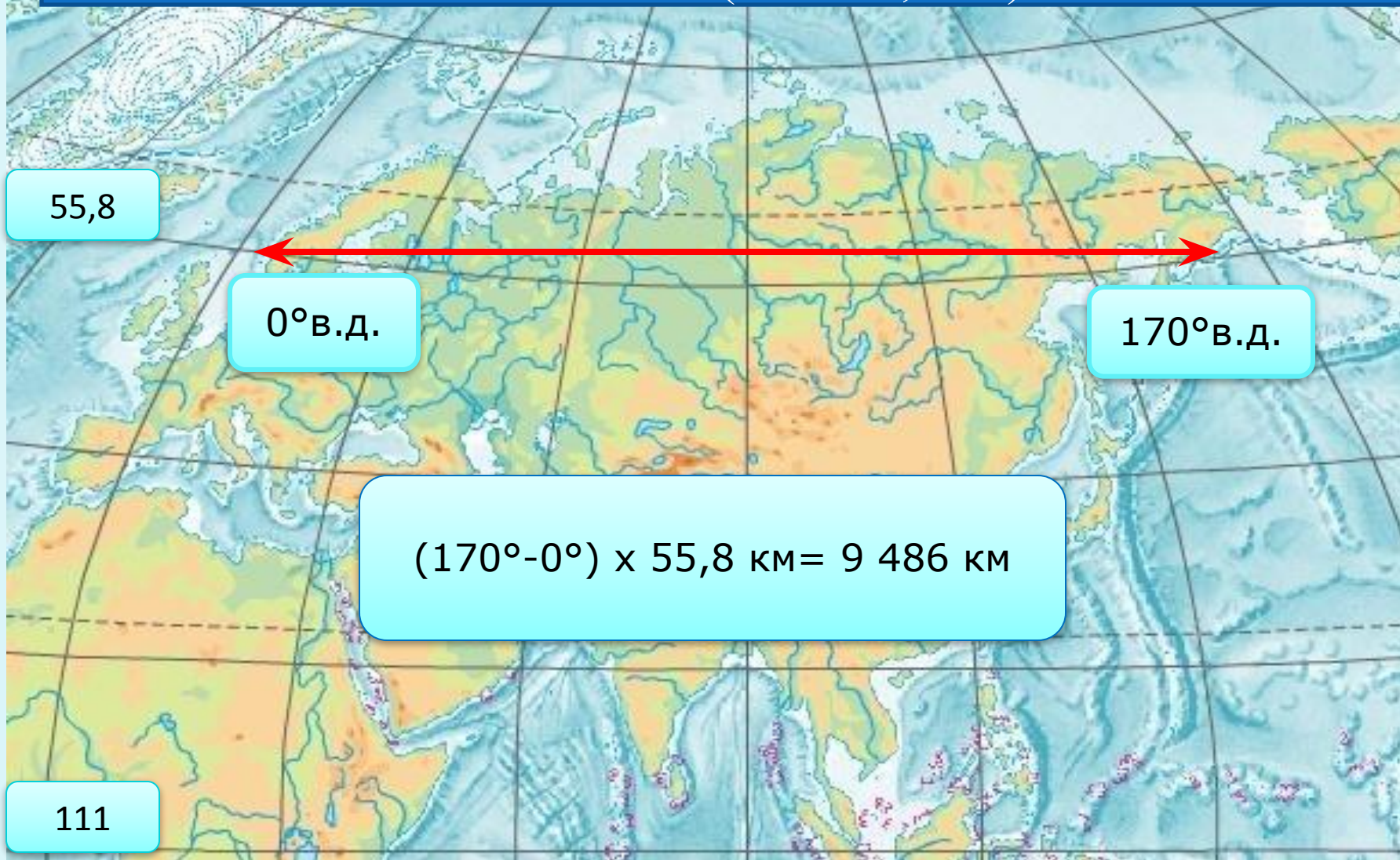
$$(77^{\circ}-1^{\circ}) \times 111 \text{ км} = 8\,436 \text{ км}$$

1°с.ш



Протяженность Евразии

Рассчитайте протяженность Евразии с запада на восток по 60° с.ш. ($1^\circ - 55,8$ км).



Климатические пояса Евразии



Береговая линия



полуостров, море

44 км

Сравнение ФГП Евразии и Северной Америки

Заполните таблицу

Черты сравнения

В каких полушариях
расположены

В каких климатических
поясах расположены

Какие океаны омывают

Как расположен
относительно других
материков

Евразия

Северная
Америка

Исследователи центральной Азии



П.П.Семенов-Тян-Шанский



Н.М.Пржевальский

Береговая линия

Отметьте на контурной карте следующие объекты

Моря

1 Баренцево

2 Берингово

3 Средиземное

4 Аравийское

5 Японское

Полуострова

6 Таймыр

7 Кольский

8 Скандинавский

9 Пиренейский

10 Индостан

11 Индокитай

12 Камчатка

Заливы, проливы

13 Бенгальский

14 Берингов

15 Гибралтарский

Острова

16 Новая Земля

17 Новосибирские

18 Шри-Ланка

19 Филиппинские

20 Большие Зондские

Домашнее задание

- 1) Параграф 59
- 2) На контурной карте нанести береговую линию Евразии

Литература

1. Душина И.В., Летягин А.А. Контурная карта с заданиями. Материки, океаны, народы и страны – М.: АСТ-Пресс школа, 2009
2. http://www.samfact.com/system/files/u2/Eurasia_Big.jpg - карта Евразии
3. http://www.chas-daily.com/win/2005/01/15/n012_portugal_lisbon- мыс Рока
4. http://www.maritim.com.ua/images/admin/ports/mys_dezhneva_2.jpg - мыс Дежнева
5. <http://photofile.ru/photo/phoenix11/2070306/large/33509793.jpg> - мыс Пиай
6. http://www.geo.ru/files/photo/album_image_9585.jpg?r=775139265 – мыс Челюскин
7. <http://ru.wikipedia.org/wiki/%D0%95%D0%B2%D1%80%D0%B0%D0%B7%D0%B8%D1%8F> – крайние точки
8. <http://img.meta.kz/2008-11/110793.jpg> - Кокосовые острова
9. <http://upload.wikimedia.org/wikipedia/commons/thumb/0/0e/BeringSt-close-VE.jpg/800px-BeringSt> - острова Диомиды
0. http://www.egoist-generation.ru/news/2003/pole/00624_small.jpg - мыс Флигели
1. http://www.avialine.com/img/photoreports/photoreport_337_5961.jpg - Азорские острова
2. http://geo.metodist.ru/index.php?option=com_content&task=view&id=35&Itemid=93 – примерный перечень географических объектов (номенклатура)
3. http://bookz.ru/authors/anatolii-pashalov/udivitel_329/pic_6.jpg - Мраморное море