

Д”



Ц

древности

Тема урока:
«Путешественники древности»



Цели урока:

- учебник с. 40 «Вы узнаете»




Финикийцы



Финикийцы жили на восточном побережье Средиземного моря, где создали ряд торговых городов-государств, из которых наиболее известны Тир и Сидон.

Название «финикийцы» моряки этих городов получили потому, что, отправляясь в дальнее морское плавание, в качестве путевого запаса брали с собой сушеные финики. Это название было перенесено затем на весь народ






Раковина
моллюска

Стеклянные
бусины

Финикийские корабли



Финикийский военный корабль

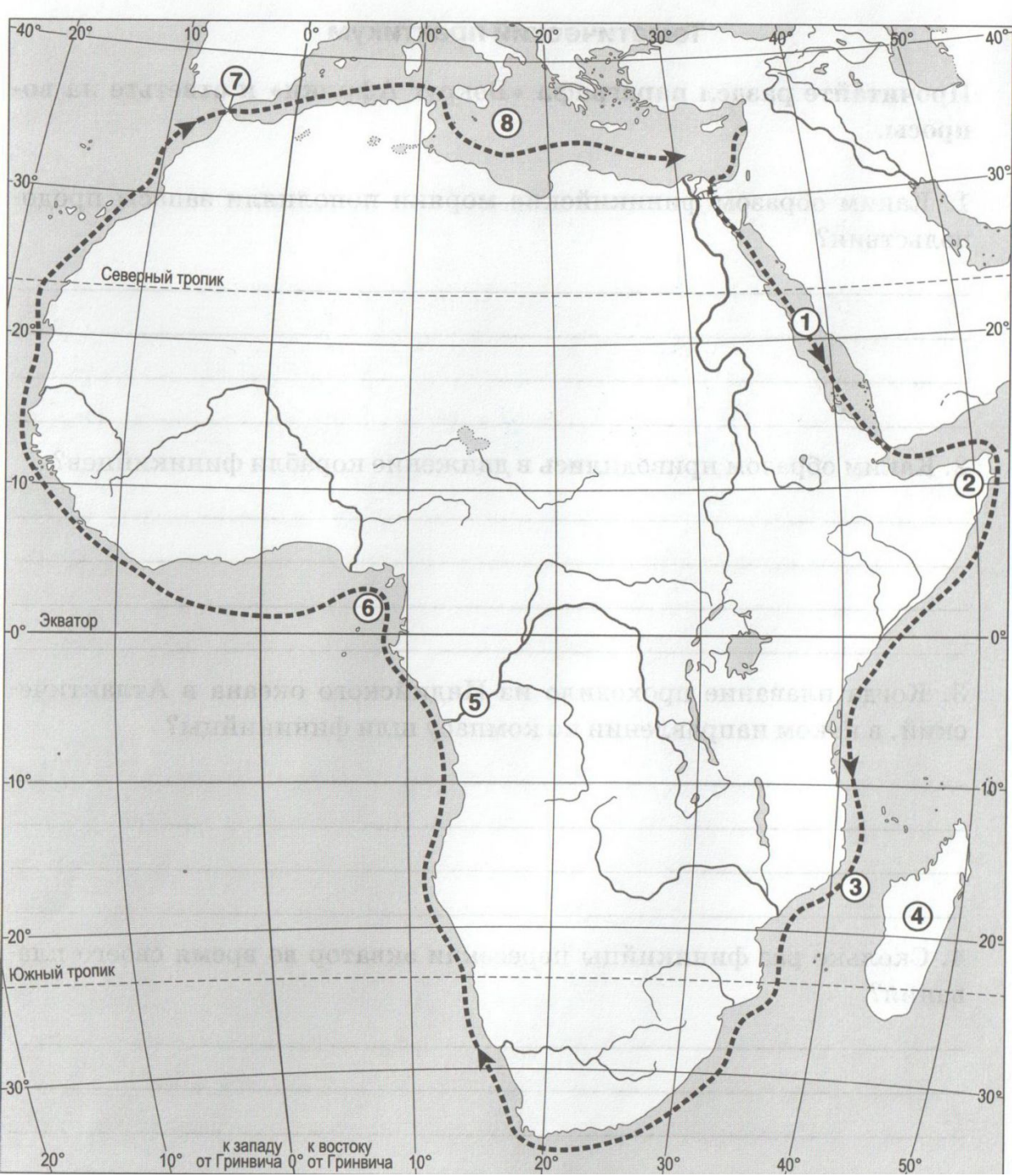
Финикийские корабли



Финикийский торговый корабль



Египетский фараон Нехо II поручил финикийцам узнать, велика ли страна Ливия (Африка)



Проследите по карте маршрут путешествия финикийцев вокруг Африки, назовите географические объекты, через которые он проходил

Плавание Пифея



Древнегреческий
купец,
путешественник,
географ,
происходивший из
колонии Массалия
(современный
Марсель)

Плавание Пифея (IV век до н. э.)



1. Родоначальником географии как науки считают

Эратосфена

а

Пифагора

б

Геродота

в

ВЫХОД

Следующий вопрос

2. Народ, совершивший первое путешествие
вокруг Ливии (Африки), - это

греки

а

финикийцы

б

египтяне

в

ВЫХОД

Следующий вопрос

3. Мореплавателъ Пифей в IV веке н.э.
совершил плавание по маршруту

Средиземное море - Атлантический океан

а

Средиземное море - Северное море

б

Средиземное море - Гибралтарский
пролив

в

ВЫХОД

Следующий вопрос

4. Назовите географические объекты,
связанные с плаванием Пифея.

Средиземное море

а

Британские острова

б

Индийский океан

в

Северное море

г

ВЫХОД

Следующий вопрос

5. Расставьте путешествия в порядке от самого раннего к самому позднему.

путешествие финикийцев

а

путешествие Пифея


б

путешествие Геродота

в

ВЫХОД

«Ладонь успеха»



Домашнее задание

§ 8

