

Тема: Москва и Московский столичный регион

цель: сформировать представление о Москве – как многофункциональном городе-миллионнике и о Московской агломерации. Значение и проблемы Москвы.

План:

1. Географическое положение.
2. Почему Москва стала столицей государства?
3. Достопримечательности Москвы-Кремль.
4. Планировка Москвы и ее границы.
5. Промышленность Москвы.
6. Проблемы Москвы.

1. Географическое положение.

Московская область – расположена в центральной части Европейской России (см. атлас).

Граничит ли она с какими либо зарубежными странами?

Омывается ли морями?

С какими областями граничит?

По своим размерам область невелика. Её площадь - 46 тыс. кв. км (с Москвой 47 тыс. кв. км), что составляет всего 0,3 % территории России.

Расположена на р. Москве и ее притоках р. Яузе, р. Неглинкой.

Река Москва-левый приток Оки (*раньше была связана с Волгой через протоки и волоки*).

Москва – порт 5 морей (какие?), соединяется с Волгой каналом имени Москвы.

Крупнейший транспортный узел, по радиусам расходятся 11 железных дорог, автомагистралей, авиалиний.



Когда появилось первое летописное упоминание о Москве?

Факторы:

- 1. ГП- особенно транспортно-географическое.**
- 2. Центральное положение Москвы по отношению Владимиру, Рязани, Твери, Ростову, Киеву, Новгороду.**
- 3. Центральное положение по отношению к протокам переселенцев-славян, уходивших с юга, северо-запада и востока в более безопасный район междуречья Оки и Волги. Здесь развивались ремесла, торговля, т.к. территория была мало пригодна для сельского хозяйства.**
- 4. Москва стала центром Русской православной церкви, что резко усилило воздействие на многие русские земли.**

История Москвы.

3. Достопримечательности Москвы- Кремль.

Сердце Москвы – Кремль. Это уникальный исторический архитектурный памятник всемирного культурного наследия.

Кремль- резиденция главы Российского государства.

КРЕМЛЬ

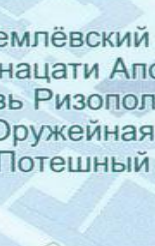
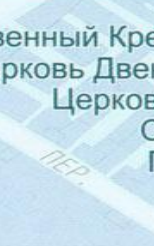
МАНЕЖНАЯ ПЛ.

Угловая арсенальная башня

Могила неизвестного солдата

Александровский сад

Средняя арсенальная башня



- 1 Государственный Кремлёвский дворец
- 2 Церковь Двенадцати Апостолов
- 3 Церковь Ризоположения
- 4 Оружейная палата
- 5 Потешный дворец
- 6 Сенат

Никольская башня

КРАСНАЯ ПЛ.

Сенатская башня

Мавзолей

Спасская башня

Царская башня

Набатная башня

ВАСИЛЬЕВСКИЙ СПУСК

Константино-Еленинская башня

Кутафья башня

Троицкая башня

Комендантская башня

Оружейная башня

ТРОИЦКАЯ УЛ. СЕНАТСКАЯ ПЛ.



ИВАНОВСКАЯ ПЛ.
Колокольня - Иван Великий

Царь-Колокол

Архангельский собор

СОБОРНАЯ ПЛ.

Петровская Беклемишевская башня

Тайнинская башня Безымянные башни

- 7 Успенский собор
- 8 Теремной дворец
- 9 Грановитая палата
- 10 Благовещенский собор
- 11 Большой Кремлёвский Дворец
- 12 Верхоспасский собор с теремными церквями

БОЛ. МОСКВОРЕЦКИЙ МОСТ

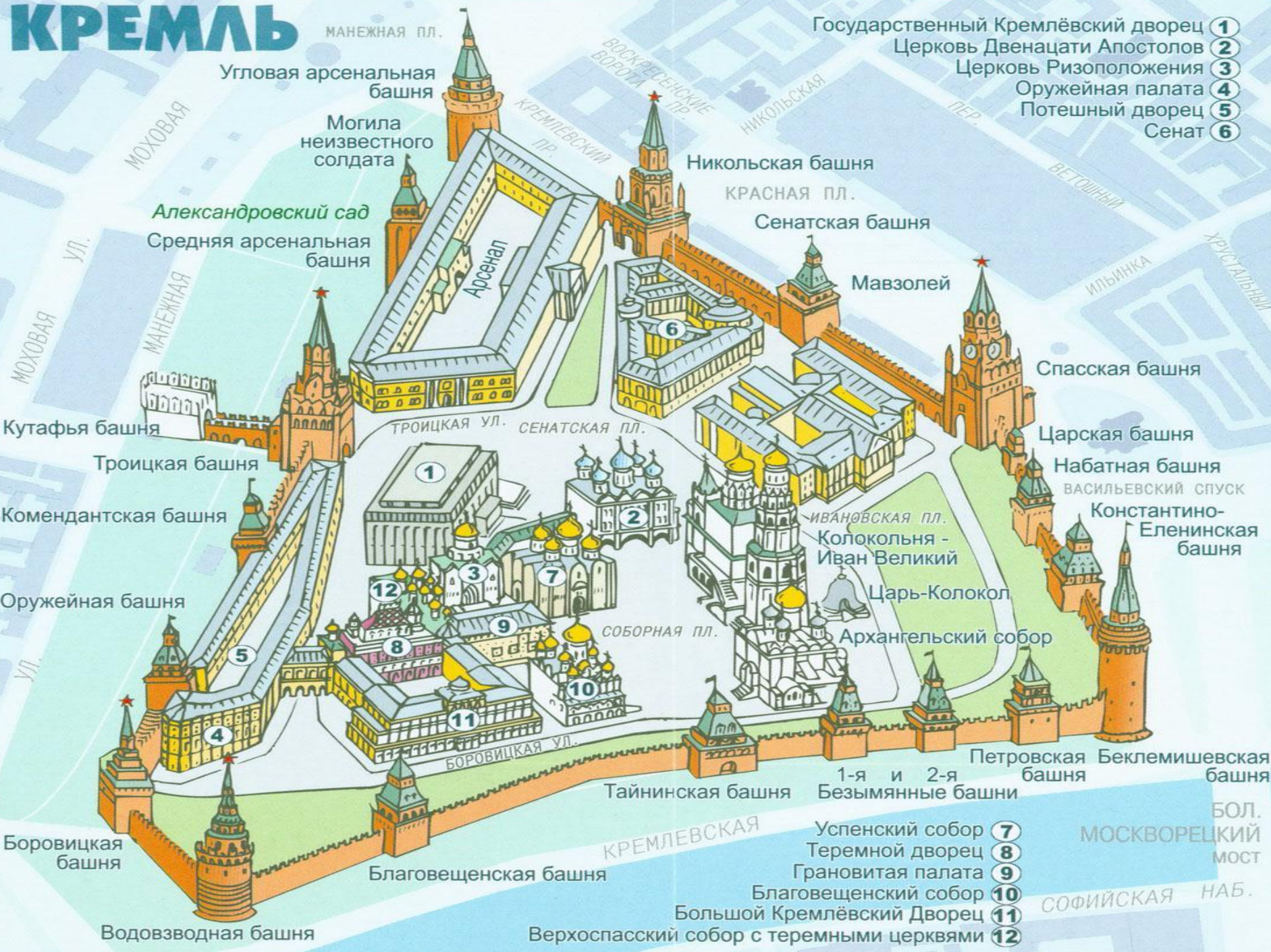
СОФИЙСКАЯ НАБ.

Боровицкая башня

Благовещенская башня

Водовзводная башня

КРЕМЛЕВСКАЯ



4. Планировка Москвы и ее границы.

Имеет радикально-кольцевую планировку *(для каких городов характерна такая планировка?)*

В центре- Кремль, Китай-город, Белый город. От Кремля расходятся лучами древнейшие улицы, они соединяли соседние города, теперь пересекают Бульварное и Садовое кольцо.

Увеличилась в 5 раз.

Границей стала кольцевая автомагистраль, протяженность которой 107 км. – МКАД.

5. Промышленность Москвы.

Москва-крупнейший промышленный узел страны.
Одновременно является научным, торговым и
финансовым центром.

Преобладание отраслей непромышленной
сферы: науки, культуры, рекламного дела,
банковской деятельности, туризм).

- 1. Какая отрасль преобладала?*
- 2. Какая отрасль в настоящее время является ведущей?*

(см. рис. 79 «Г», рис. 80)

6. Проблемы Москвы.

1. Транспортные пробки.
2. Центр Москвы – заповедная зона, требует реставрации.
3. увеличился поток мигрантов-беженцев, вынужденных переселенцев и жителей стран СНГ, которые приезжают в Москву в поисках работы. Криминогенная обстановка.
4. Сократилось число постоянных жителей, причина- резкое снижение рождаемости и рост смертности.
5. Загрязнение воздуха и воды (металлургические и предприятия хим. пром-и, автомобильный).
6. Нехватка воды, которая поступает по каналу Волга-Москва.

Д/З п.39, 40

сделать сообщение об одном из городов
ЦР.