

**Приёмы развития  
познавательной  
активности на уроках  
географии в 5-6 классах**



# **«Буква» или «Географическая азбука»**

**А**

**Амазонская низменность**

**Амазонка**

**Анды**

**Антарктида**

**Австралия**

**Аравийское море**

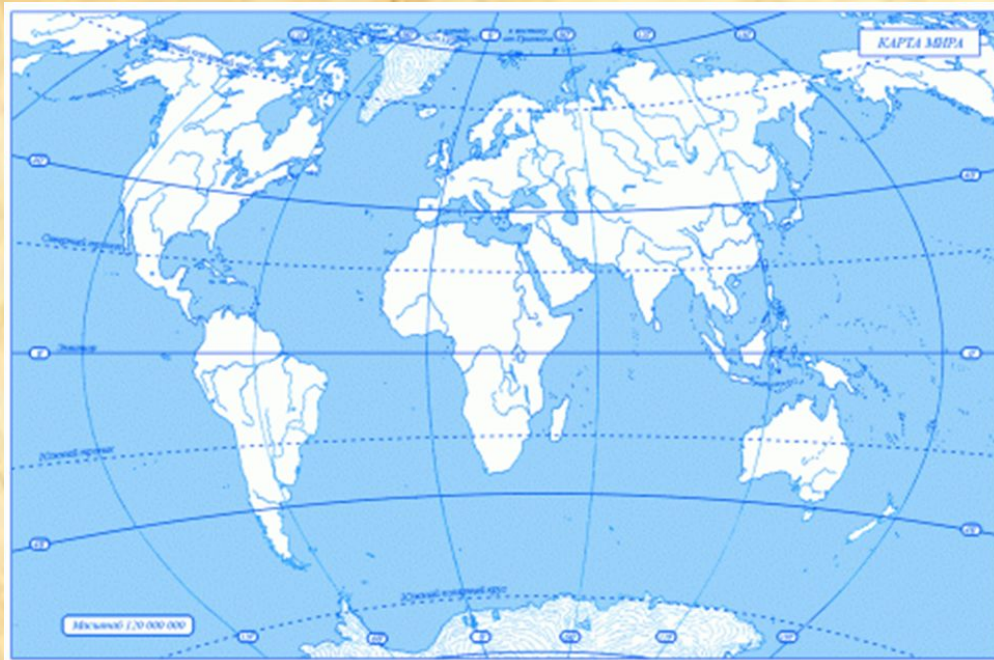
**Аравийский полуостров**

**Атлас**

**Африка**

# «Географические

ы»



**Альпы**

**Сахара**

**Кордильеры**

**Байкал**

**Волга**

**Нил**

**Тибет**

**Эйр-Норт**

# «Узнай объект по контуру»



**1**

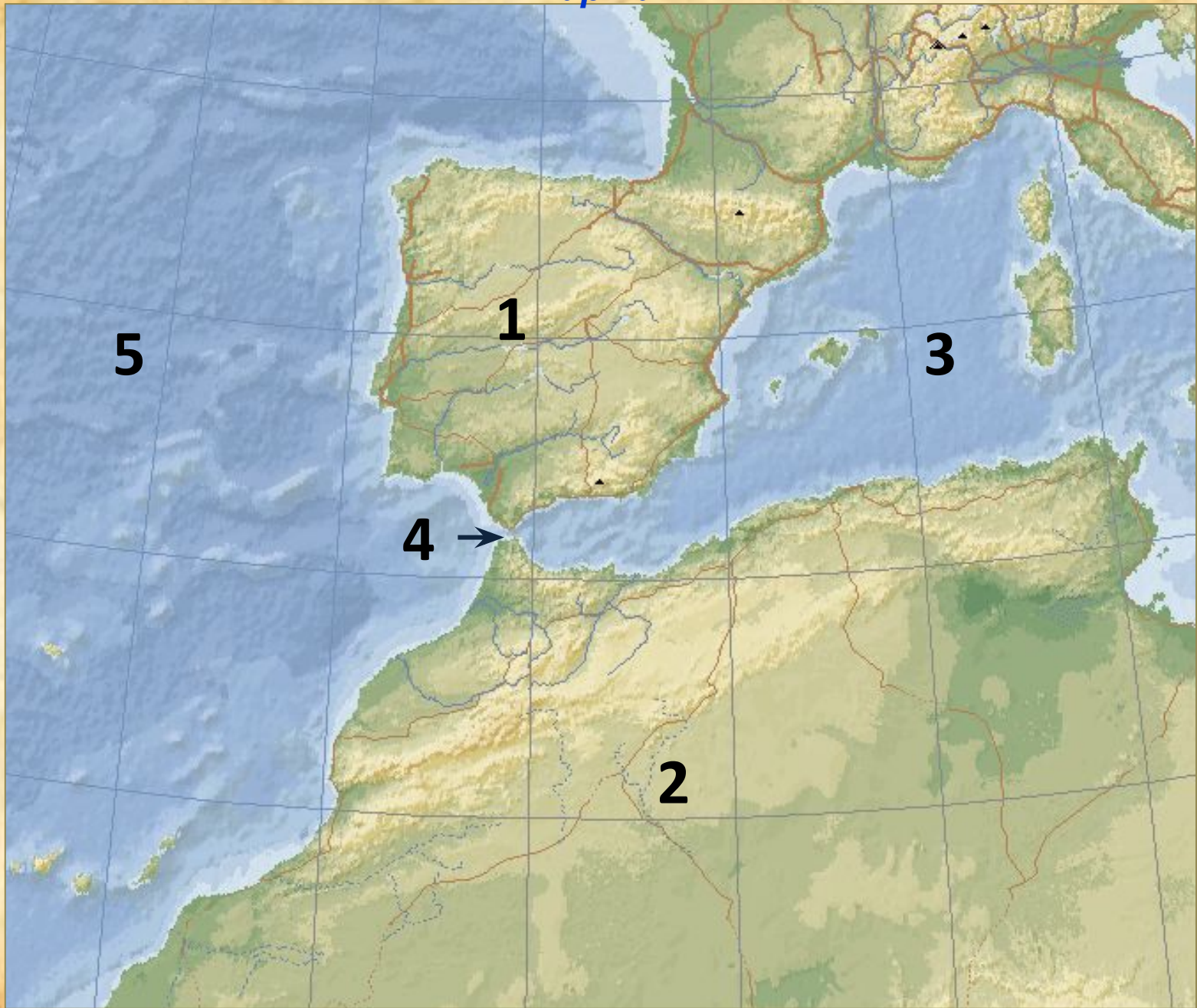


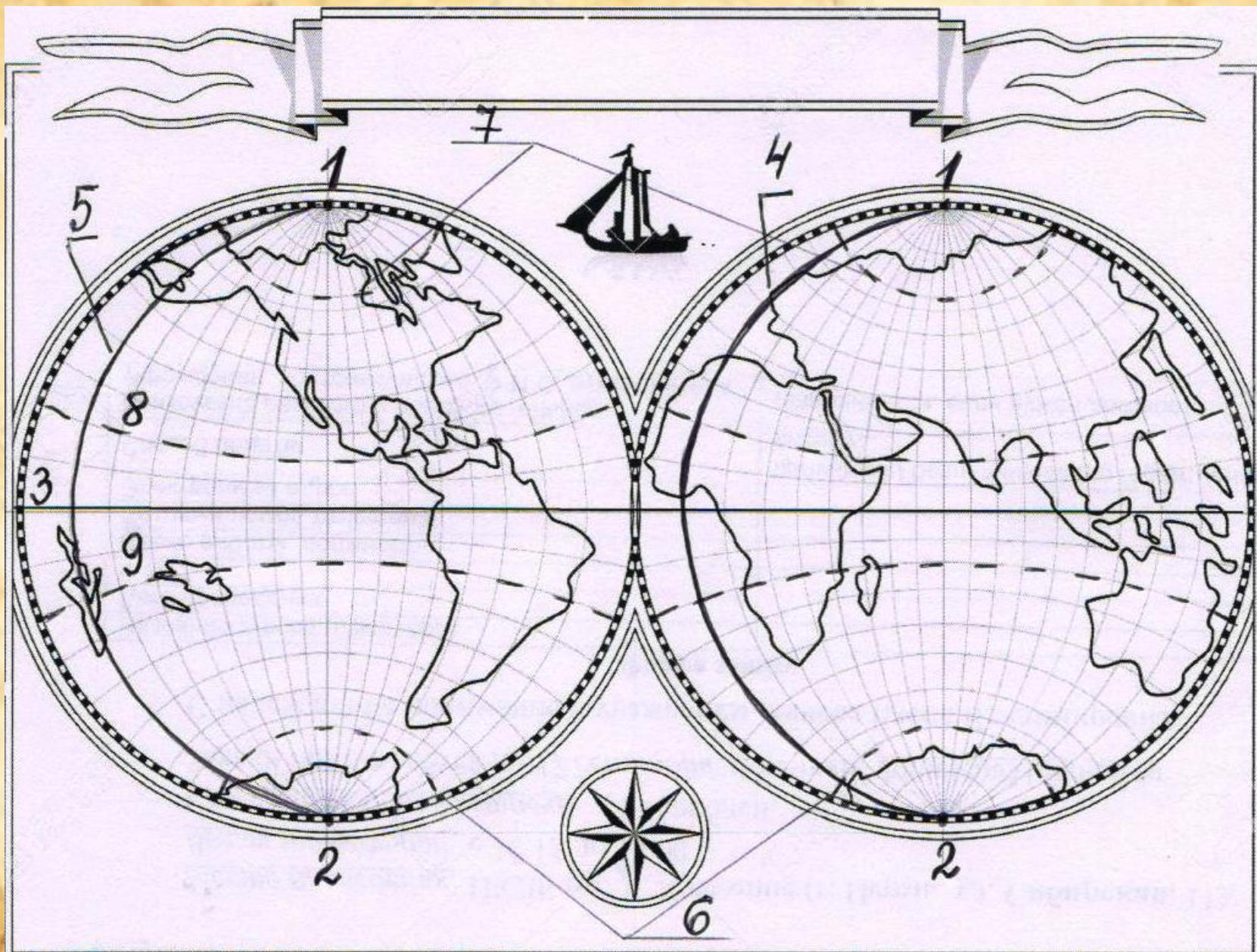
**2**



**3**

*«Немая  
карта»*





## «Географический текст с ошибками»

Материк Антарктида расположен в Южном полушарии. Он омывается водами Тихого, Атлантического и Северного Ледовитого океанов. Ближайшие к Антарктиде материки – Австралия, Мадагаскар и Африка. На материке расположена линия Южный полюс.

## ***«Ранжированный ряд»***

Используя карту, выстройте данные названия гор от самых низких до самых высоких:

Гималаи, Альпы, Кавказ, Анды, Уральские.



## «ЧТО ЭТО?»

Объясните термины и покажите на карте.

Антарктида – это...

Тасмания – это...

Индийский – это..

Экватор

Северный полюс

Нулевой меридиан

## **«Установить соответствие»**

1 Аравийское

2 Аравийский

3 Скандинавский

4 Великобритания

5 Магелланов

6 Бенгальский

7 Огненная Земля

8 Мексиканский

А) пролив

Б) остров

В) полуостров

Г) море

Д) залив

## **«Правильно ли?»**

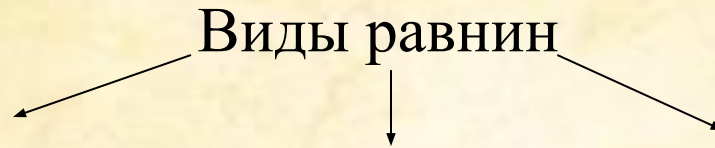
Индийский океан расположен в Западном и Восточном полушариях.

Африка расположена в Западном и Восточном полушариях.

Северная Америка расположена в Западном полушарии.

Южная Америка расположена в Восточном полушарии.

**Составьте схему, пользуясь  
рисунком 132 в учебнике**



***Пользуясь физической картой России  
подберите примеры видов равнин.***

Валдайская, Среднесибирское, Колымская,  
Западно-Сибирская, Среднерусская, Смоленско-  
Московская...

## «Гонка за лидером»

Географические координаты	Название вулкана	Высота вулкана (в м)	Материк
55 <sup>0</sup> с.ш. 160 <sup>0</sup> в.д.			
24 <sup>0</sup> ю.ш. 68 <sup>0</sup> з.д.			
41 <sup>0</sup> с.ш. 15 <sup>0</sup> в.д.			
19 <sup>0</sup> с.ш. 98 <sup>0</sup> з.д.			
32 <sup>0</sup> ю.ш. 71 <sup>0</sup> з.д.			
79 <sup>0</sup> ю.ш. 169 <sup>0</sup> в.д.			
4 <sup>0</sup> с.ш. 9 <sup>0</sup> в.д.			
35 <sup>0</sup> с.ш. 138 <sup>0</sup> в.д.			

## «Шифровка»

Определите, какие города соответствуют данным координатам, а потом определите зашифрованное слово.

1. 59 с.ш. 11 в.д.

Осло

2. 35 с.ш. 51 в.д.

Тегеран

3. 13 ю.ш. 76 з.д.

Лима

4. 52 с.ш. 105 в.д.

Иркутск

5. 52 с.ш. 113 в.д.

Чита

6. 42 с.ш. 78 з.д.

Нью-Йорк

7. 46 с.ш. 75 з.д.

Оттава

# «Филвор»

Найти названия рек

О	Я	Х	У	З	Э	Д
А	М	Д	А	Н	Х	У
К	А	Г	А	Н	Г	Н
М	З	О	Н	К	А	А
У	С	К	О	Н	И	Й
Н	И	Л	Н	Л	Г	Е
П	И	М	Г	О	К	Р

# «Фотовопр ОСЫ»





