

Сұрақ жауап

1. “Сельвас” “пампа” ұғымдарын түсіндіріңдер табиғат ерекшеліктерін атаңдар

2. “лянос”, “кампос”, ұғымдарын түсіндіріп, табиғат ерекшеліктерін атаңдар.

3. Ылғалды экваторлық ормандарында қандай жануарлар, өсімдіктер тараған? жануарлар, өсімдіктер тараған?

4. Ауыспалы ылғалды экваторлық ормандарында қандай жануарлар, өсімдіктер тараған?



5. Анд тауының биіктік белдеуі қалай таралған?



Сұрақ-жауап.

1.Саванналар мен сирек ормандарда қандай жануарлар,өсімдіктер тараған?

2. Субтропиктік дала зонасы қай жазықты алып жатыр?

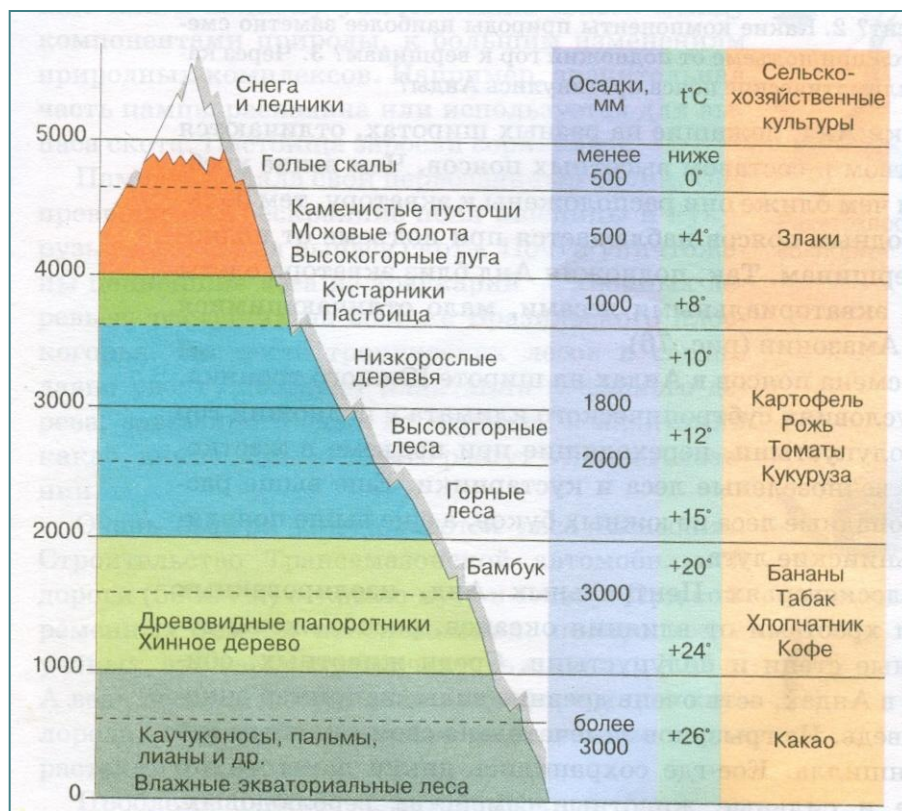
3.Пуна белдеуі неден тұрады?

4.Анд тауының биіктік белдеуінде қандай шөл ораналасқан?

5.Батыс Кордильера жотасында кактус пен опунциядан тұратын қандай белдеу орналасқан?



Анд тауының биіктік белдеуі.





Сабақтың тақырыбы

Сабақтың жоспары

I. Ұйымдастыру кезеңі

II. Үй тапсырмасын тексеру.

1. Сұрақ-жауап.

2. Қорытындылау

III. Жаңа сабақ

1. Әңгіме-дәріс.

2. Кестемен жұмыс

3. Қорытындылау

IV. Жаңа сабақты бекіту.

1. Сұрақ-жауап.

V. Қорытындылау
бағалау.

VI. Үйге тапсырма
беру.



Сабақтың мақсаты:

Білімділік: Оқушыларға Оңтүстік

Американың халқы, халқының орналасуы және елдері жөнінде түсінік беру. Дамыту:

Өз бетінше ізденіспен шығармашылық тұрғыда жұмыс істеуге дағдыландыру. Өз

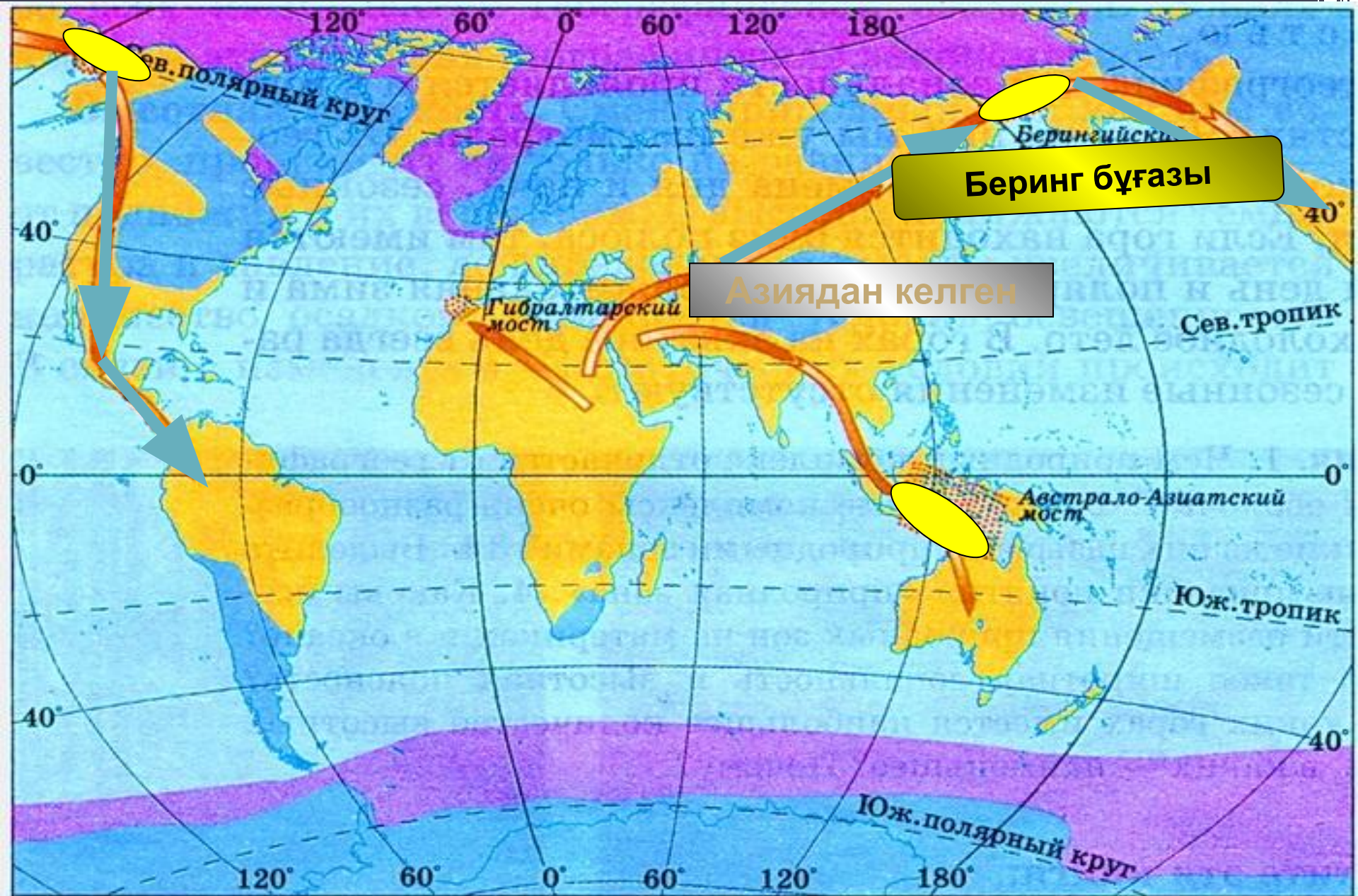
ойларын еркін де сауатты, нақты жеткізу

қабілетін арттыру. Тәрбиелік: Жан-

жақтылыққа, ізденімпаздыққа баулу, тыңдай

және сөйлей білу мәдениетін арттыру.





Беринг бұғазы

Азиядан келген

Материковые льды
 Морские льды

Предполагаемые пути
 расселения человека

«Сухопутные мосты»
 Масштаб 1:350 000

Оңтүстік Америкаға қоныстанған



Үндістер Оңтүстік
Америкаға бұдан 20мың
жыл бұрын Солтүстік
Америкадан келген

Еуропалықтардың үндістерді табиғаты нашар жерлерге ығы



Ұлттық ерекшеліктерін сақтап қалған ежелгі инктердің ұрпақтары қазіргі кезде Амазонияның ну ормандарымен Анд тауларының биік бөліктерінде тұрады. Еуропаның жергілікті үндістермен некелерінен тараған ұрпақтар-метистер қазіргі кезде Оңтүстік Американың Анд елдерінің негізгі халқын құрайды. XVIғ-дан бастап Африкадан 300ж бойы материктегі кеніштермен плантацияларда жұмыс істету үшін миллиондаған құл-негрлер әкелінді.

Европалықтардың Оңтүстік Американың байырғы халқын қырып жойуы



Америго Веспуччи




XVI ғасың басында жаңа ашылған жерлерге байлық іздеген испан және португал басқыншылары ағыла бастады. Олардың шапқыншылық әрекеті нәтижесінде Оңтүстік Американың жоғары дамыған Инктер мемлекеті жойылып, жергілікті халқы аяусыз қырғынға ұшыратылып, байлықтары тоналды.


Халқының қазіргі құрамы



Үндістер



Негрлер





Еуропалықтар

Халқының қазіргі құрамы



Үндіс



Еуропа





Метис

Халқының қазіргі құрамы



Үндіс




Негр




Самбо


Халқының қазіргі құрамы



Негр




Еуропа



Мулат

Шипибо



Чибча





У АЙМАРА



Европалықтардың Оңтүстік Американың байырғы халқын қырып жойуы



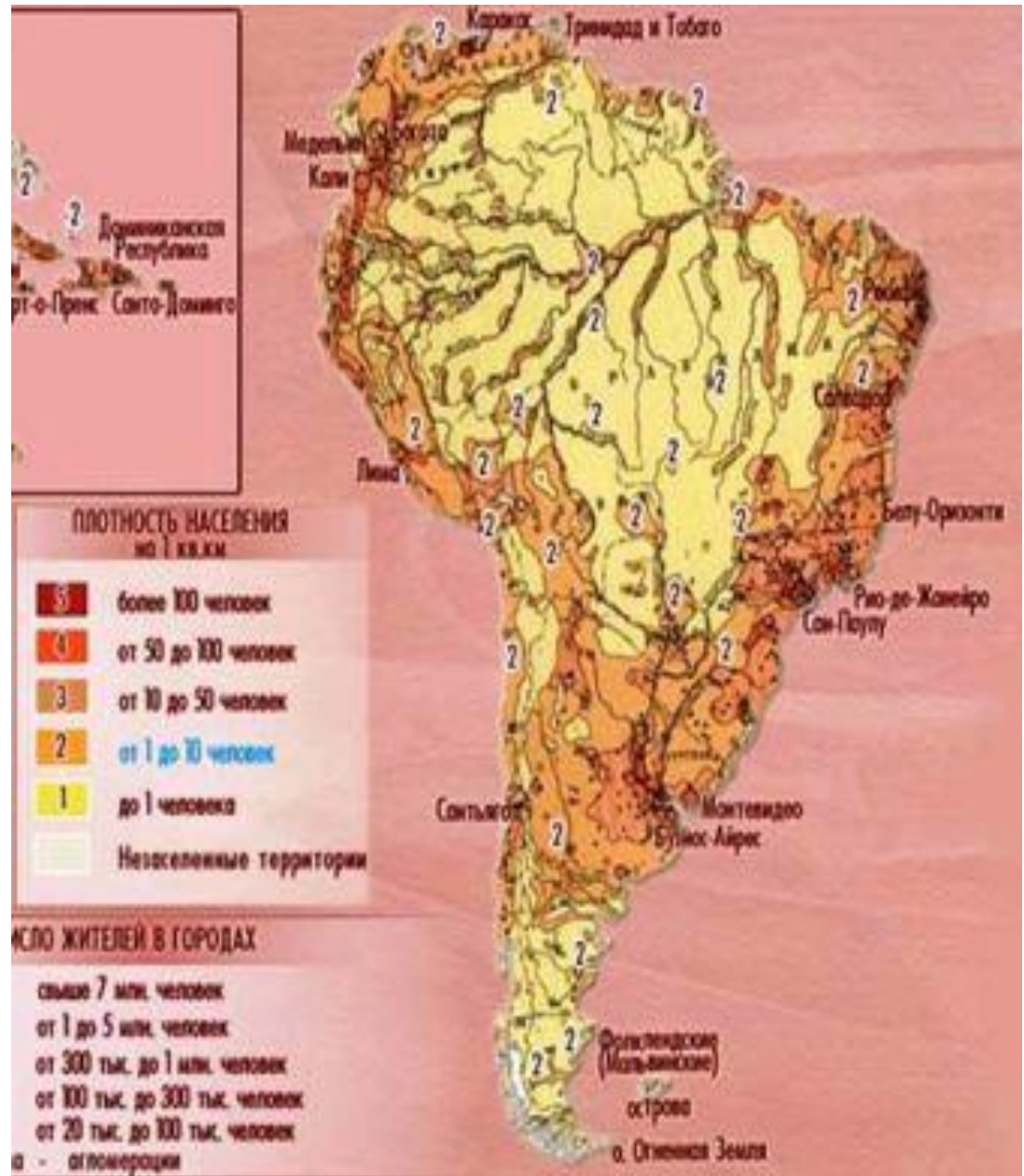
Америго Веспуччи



XVI ғасың басында жаңа ашылған жерлерге байлық іздеген испан және португал басқыншылары ағыла бастады. Олардың шапқыншылық әрекеті нәтижесінде Оңтүстік Американың жоғары дамыған Инктер мемлекеті жойылып, жергілікті халқы аяусыз қырғынға ұшыратылып, байлықтары тоналды.

Халқының орналасуы

Оңтүстік
Американың
халқы әркелкі
орналасқан



Халық тығыз орналасқан аймақтар



Бразилия қаласы



Орталық
Анд тауының, тау аралық
үстірттері



Бразилия халқының нәсілдік және ұлттық құрамы күрделі. Үндістер мен метистердің көпшілігі елдің солтүстігі мен батысында тұрады. Саны жағынан еуропалықтар басым. Сонымен қатар мулаттар мен негрлер де көп тұрады. Ел халқы жыл сайын 3 млн адамға көбейіп отырады. Халықтың басым бөлігі жағалаудағы ірі портты қалаларда шоғырланған. Мұндағы Рио-де-Жанейро, Сан-Паулу қалалары әлемдегі алып, көрікті қалалар қатарына жатады. Елде тау-кен өндірісі, қара және түсті металлургия, машина жасау жақсы дамыған. Жылына қант құрағынан алынаын этиль спиртімен жұмыс жасайтын 1 млн-нан астам автомобиль шығарылады. Халықтың негізгі бөлігі ауыл шаруашылығымен айналысады. Құрғақ саванналар мен пампада ірі қара көп өсіріледі. Плантацияларда кофе, какао, қант құрағы, соя, апельсин, банан өсіріледі, олардың кейбіреуін өндіру жөнінде дүние жүзінде алдыңғы орындарды алады

Елде тау- кен өндірісі, қара және түсті металлургия, машина жасау жақсы дамыған.Жылына қант құрағынан алынаиын этиль спиртімен жұмыс жасайтын 1 млн-нан астам автомобиль шығарылады.Халықтың негізгі бөлігі ауыл шаруашылығымен айналысады. Құрғақ саванналар мен пампада ірі қара көп өсіріледі.Плантацияларда кофе,какао, қант құрағы, соя,апельсин,банан өсіріледі, олардың кейбіреуін өндіру жөнінде дүние жүзінде алдыңғы орындарды алады.

Халықтың аз орналасқан аймақтар



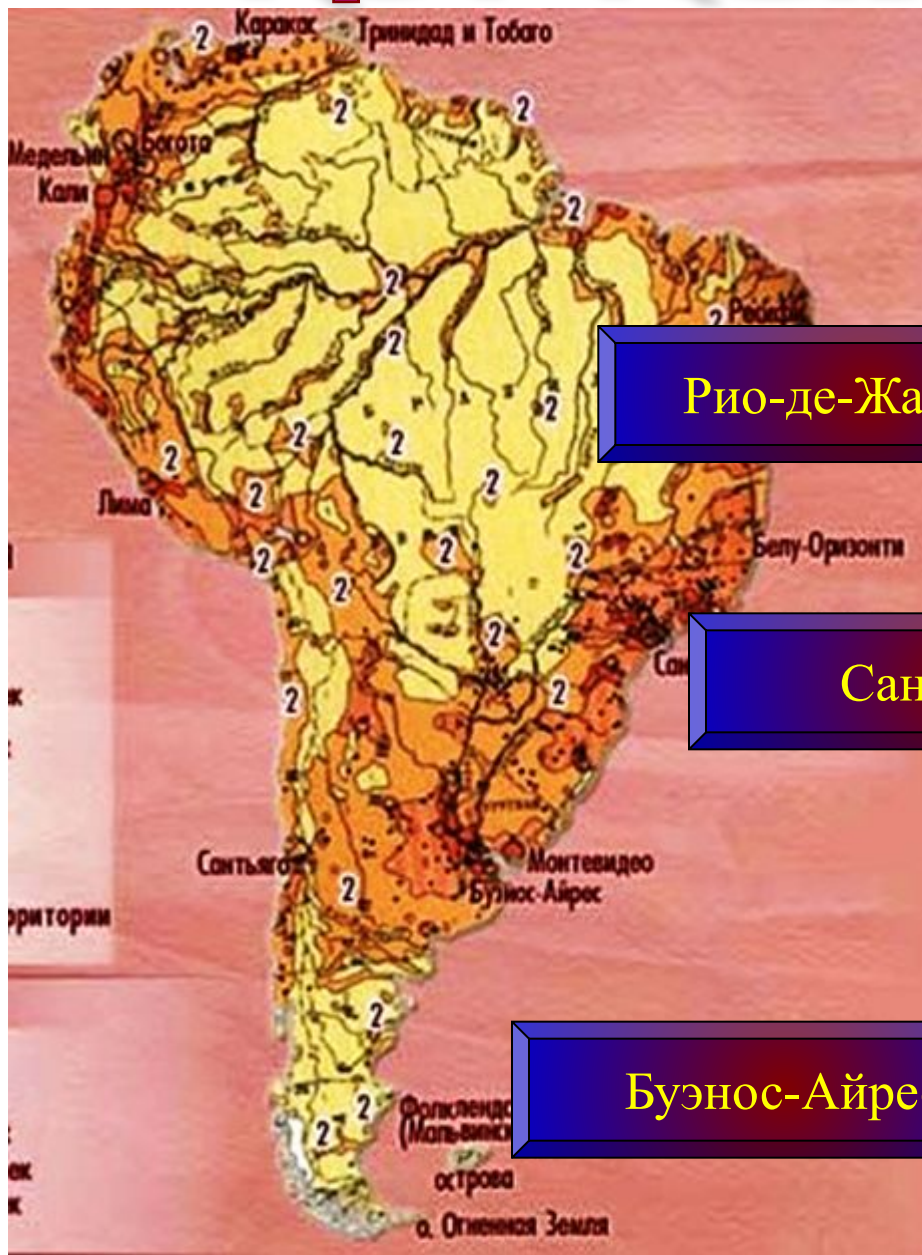
Амазонка ойпаты



Матеріктің Оңтүстік бөлігі



Ірі қалалары



Рио-де-Жанейро



Сан-Паулу



Буэнос-Айрес



Халқы

```
graph TD; A[Халқы] --> B[Байырғы]; A --> C[Келгінді]; B --> D[Үндістер]; C --> E[Еуропалықтар]; C --> F[Негрлер];
```

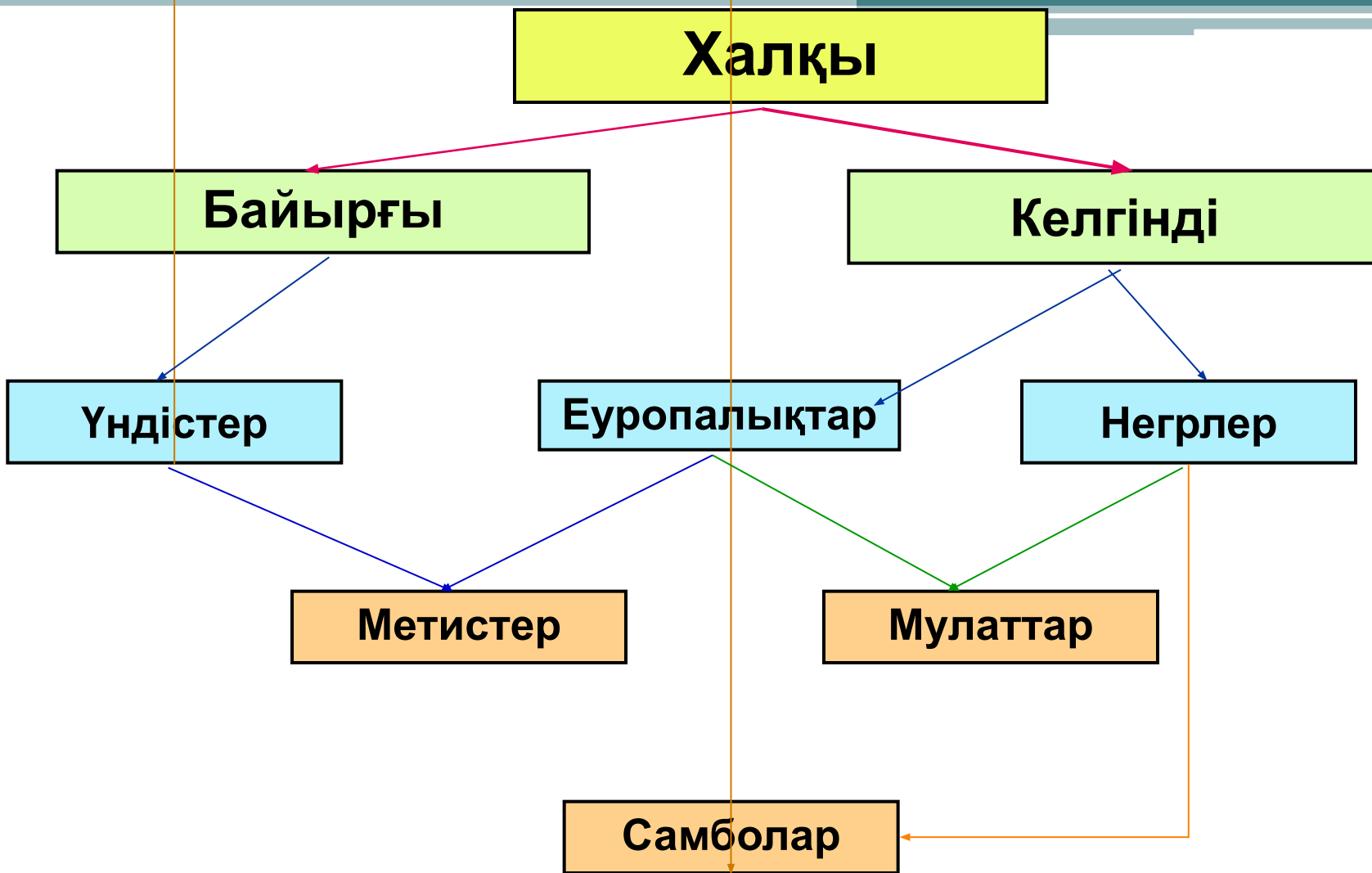
Байырғы

Келгінді

Үндістер

Еуропалықтар

Негрлер



1. 45 пайдаланып, опорный белгілері бар қағаздарды дәптерге жазу және Оңтүстік Америка туралы айтып беру.
2. Оңтүстік Американың үнді тайпалары туралы әңгіме немесе баяндама дайындау.
3. Материктің кез келген елі туралы хабарлама дайындау.

Сабақты бекіту:

1.

ұлттық құрамы қандай? Олар қалай қалыптасқан?

2. Оңтүстік Америка елдері қандай аймақтарға тотастырылады?

3. “Пама” дегеніміз не, ол қай жерге тән?

4. “Инктер өркениеті” туралы не білесіңдер?



1.

Үй жұмысы

белгілендер.

2. Оқулық мәтіні мен қосымша мәліметтерді пайдаланып, өзіңнің қалауың бойынша Венесуэла, Перу, Аргентина елдерінің біріне оқулық соңындағы жоспар бойынша сипаттама беріңдер.

Назарларыңызға рахм

