

Центральная Россия

| Страна | Площадь, тыс. км² | Население, млн. чел |
|-------------------------------|---|--------------------------------|
| Германия | 357 | 78 |
| Франция | 544 | 56 |
| Испания | 505 | 39 |
| Украина | 603 | 55 |
| Центральная Россия | 916 | 47 |

В состав Центральной России
входят три экономических района:



Центральный экономический район



Численность населения - около 20% всей РФ
Доля городского населения - 83,0%.

Центрально-Чернозёмный экономический район

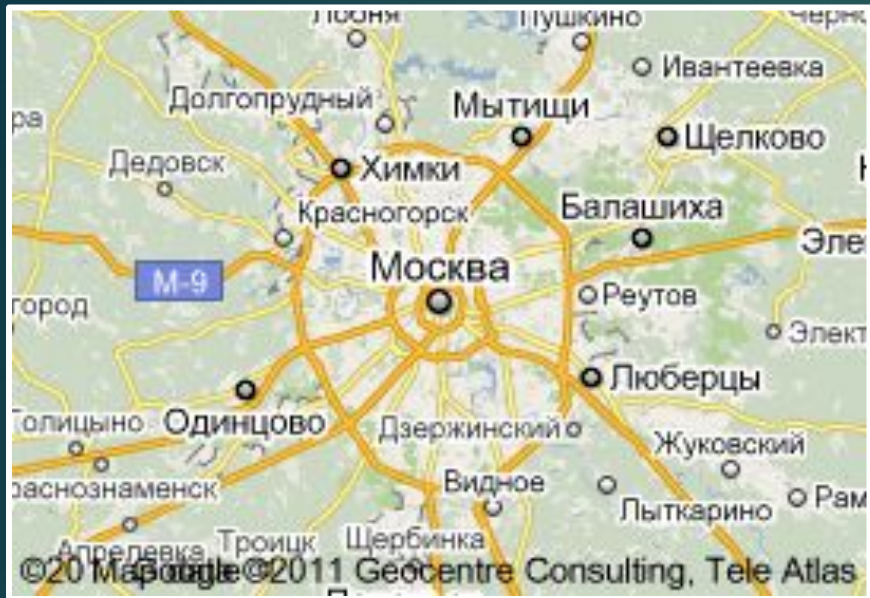


**площадь - 1%
территории РФ,
численность -
5,3% от РФ,
доля городского
населения -
61%**

Волго-Вятский экономический район

доля городского
населения - 56 %.

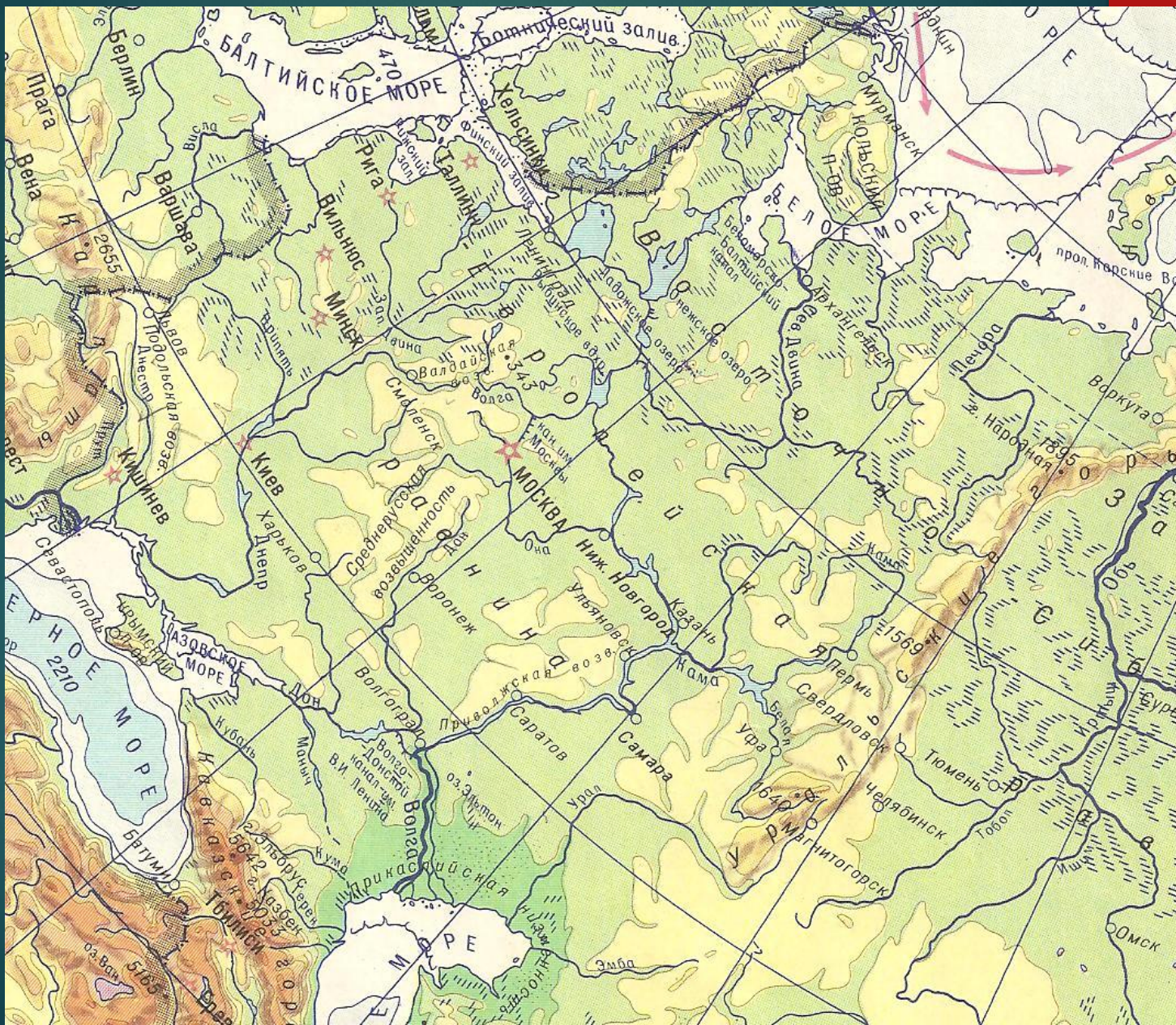




Москва – город федерального значения



Природные условия





ЭГП Центральной России:

- 1. ГП, соседние районы,
пограничные страны**
- 2. Минеральные, водные,
земельные, рекреационные
ресурсы**
- 3. Климат, крупные реки**

Какие субъекты входят в состав :

- Центрально-Черноземного района
- Волго-Вятского района
- Центрального района

СМОТРЕТЬ КАРТУ АТЛАСА

СТР. 32

**В основе Центральной России лежит
Восточно-Европейская равнина**




КАКОЙ РЕЛЬЕФ???



**КАКИЕ ПОЛЕЗНЫЕ ИСКОПАЕМЫЕ
ДОБЫВАЮТ НА РАВНИНАХ???**

- **самый густонаселенный район страны!**
- **смертность > рождаемости, ЕП отрицательный!**
- **города – миллионеры – стр. 6 атлас**
- **к югу число сельских поселений и безработицы растет**

- **машиностроение – 2/5 продукции России**
- **станки, приборы, электроника, самолеты, авто, радиоэлектроника**
- **ЗИЛ (Москва), ГАЗ (Ниж. Новгород)**
- **ЛОКОМОТИВЫ, ВАГОНЫ**
- **судостроение (Ниж. Новгород)**

- 
- **черная металлургия** –
важна для машиностроения
 - **единственный комбинат**
бездоменного производства
- ??? стр. 13 атлас

- **хим. пром-ть** – удобрения, резины, каучук, синтетич. волокна (сеть нефтепроводов)
- **кислоты, щелочи, витамины**

- **лесная пром-ть –**
Волго-Вятский район
(спички, фанера,
бумага), Центральный
район (типография)

- **легкая пром-ть** – меха, обувь, ткани, одежда
- **сильно развита** – **ТОРГОВЫЕ ПУТИ** (исторически)
- **Иваново** (город невест ?),
Дмитров, Павловский Посад,
Москва

ЗАДАНИЕ:

- **отметить на к/карте стр. 8 границы районов -Центральный, Волго-Вятский, Центрально- Черноземный (стр. 32 атлас)**
 - **сделать характеристику ЭГП по плану**
 - 1 ряд - Центральный**
 - 2 ряд - Центрально- Черноземный**
 - 3 ряд - Волго-Вятский**
- Стр. 93 план**

Характеристика ЭГП по плану:

1 ряд – Центральный,

2 ряд - Центрально- Черноземный,

3 ряд - Волго-Вятский

1. Положение района (окраинное, пограничное, центральное).
2. Соседние районы, государства.
3. Положение относительно топливно-энергетических и сырьевых баз страны.
4. Хозяйство района (отрасли промышленности)
5. Вывод об ЭГП



САМОСТОЯТЕЛЬНО:

СТР.148 УЧЕБНИК

ВОПРОСЫ № 3,4

ПИСЬМЕННО!!!

- **В какой части страны расположена Центральная Россия?**
- **С какими государствами граничит Россия?**
- **Есть у Центральной России выход к морю?**
- **В Центр. Россию входят 3 экономических района – Центральный, Волго-Вятский, Центрально-Черноземный. Какой из них по площади?**

- Какой очень важный город в плане финансов, образования, науки и т.д. расположен в Центр. России?
- Почему в более южных субъектах Центр. России доля сельского населения выше? Какая крупная река внутреннего стока протекает почти по всей Центральной России?
- Какой тип рельеф преобладает на территории Центр. России – горный или равнинный?

- Т.к. рельеф равнинный – то какие п/и добывают на равнине?
- Почти $\frac{1}{2}$ продукции машиностроения выпускается в Центр. России - велика доля производства приборов, электроники. Какой фактор учитывается здесь при размещении такого производства?
- Какие районы не входят в состав Центральной России?

А) Урал Б) Центрально-Чернозёмный В) Волго-Вятский Г) Дальний Восток

- Развита ли транспортная сеть на территории Центральной России? Перечислите основные виды транспорта?
- Богата ли Центральная Россия п/и??? (нет, сырье и топливо привозное)

Рефлексия:



1. Какой район не входит в состав Центральной России?
А) Центральный Б) Центрально-Чернозёмный
В) Волго-Вятский Г) Северный
2. Связи с окраинами Центральной России осуществлялись в 11-16 веках
А) по рекам Б) по грунтовым дорогам В) по морям
3. Центральная Россия имеет положение
А) периферийное Б) столичное В) приграничное
4. Соседними странами, имеющими границу с Центральной Россией, являются:
А) Украина Б) Беларусь В) Молдавия Г) Литва
5. Транспортная сеть Центральной России представлена:
А) автомобильными дорогами Б) железными дорогами
В) трубопроводами Г) всеми видами транспорта
6. Центральная Россия
А) богата природными ресурсами Б) не богата природными ресурсами
7. В Центральной России есть крупное месторождение
А) каменного угля Б) торфа В) фосфоритов Г) железной руды
8. Развитию экономики Центральной России благоприятствуют
А) природные условия Б) полезные ископаемые В) ЭГП

Правильные ответы:

| 1 | 2 | 3 | 4 | 5 | 6 | 7 | 8 |
|---|---|----|----|---|---|---|----|
| Г | А | БВ | АБ | Г | Б | Г | АБ |