
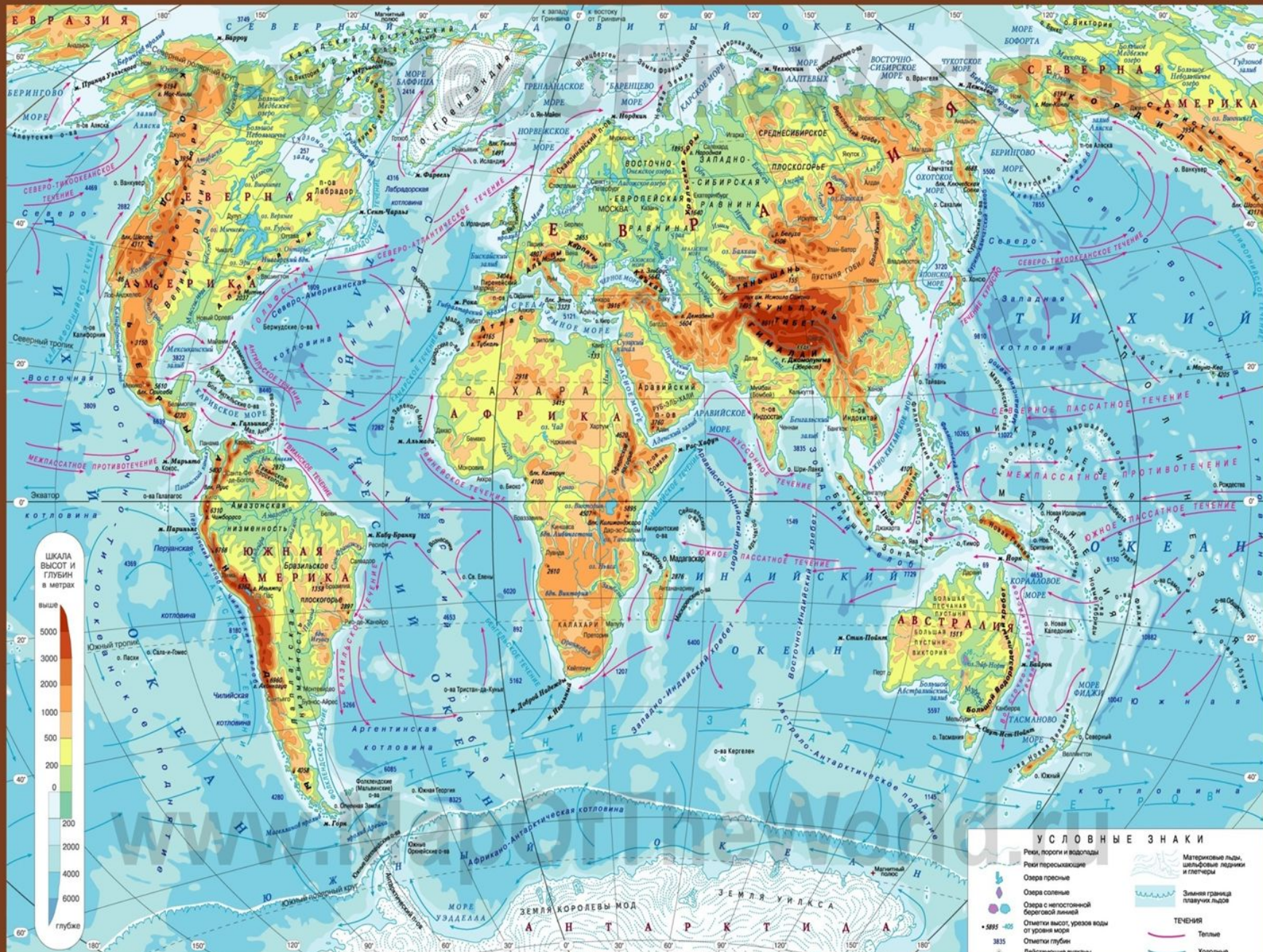


# Домашнее задание


1. Параграф 7
2. Рабочая тетрадь стр  
19-21



**УСЛОВНЫЕ ЗНАКИ**

Реки, пороги и водопады	Материковые льды, шельфовые ледники и глетчеры
Реки пересыхающие	Зона пресные
Озера пресные	Зона с непостоянной береговой линией
Озера соленые	Зона границ плавающих льдов
Озера с непостоянной береговой линией	<b>ТЕЧЕНИЯ</b>
Острова	Теплые
Действующие вулканы	Холодные

1 вариант	2 вариант
1. Скандинавский п-в	1. Евразия
2. Чёрное море	2. Индийский океан
3. Южная Америка	3. п-в Индостан
4. Тихий океан	4. Средиземное море
5. О-в Новая Гвинея	5. Гвинейский залив
6. Река Конго	6. о-в Гренландия
7. П-в Аравийский	7. о-в Новая Зеландия
8. Северная Америка	8. Красное море
9. Бенгальский залив	9. Пролив Дрейка
10. О-в Мадагаскар	10. Австралия



# **По следам путешественников каменного века**

# Вспомните

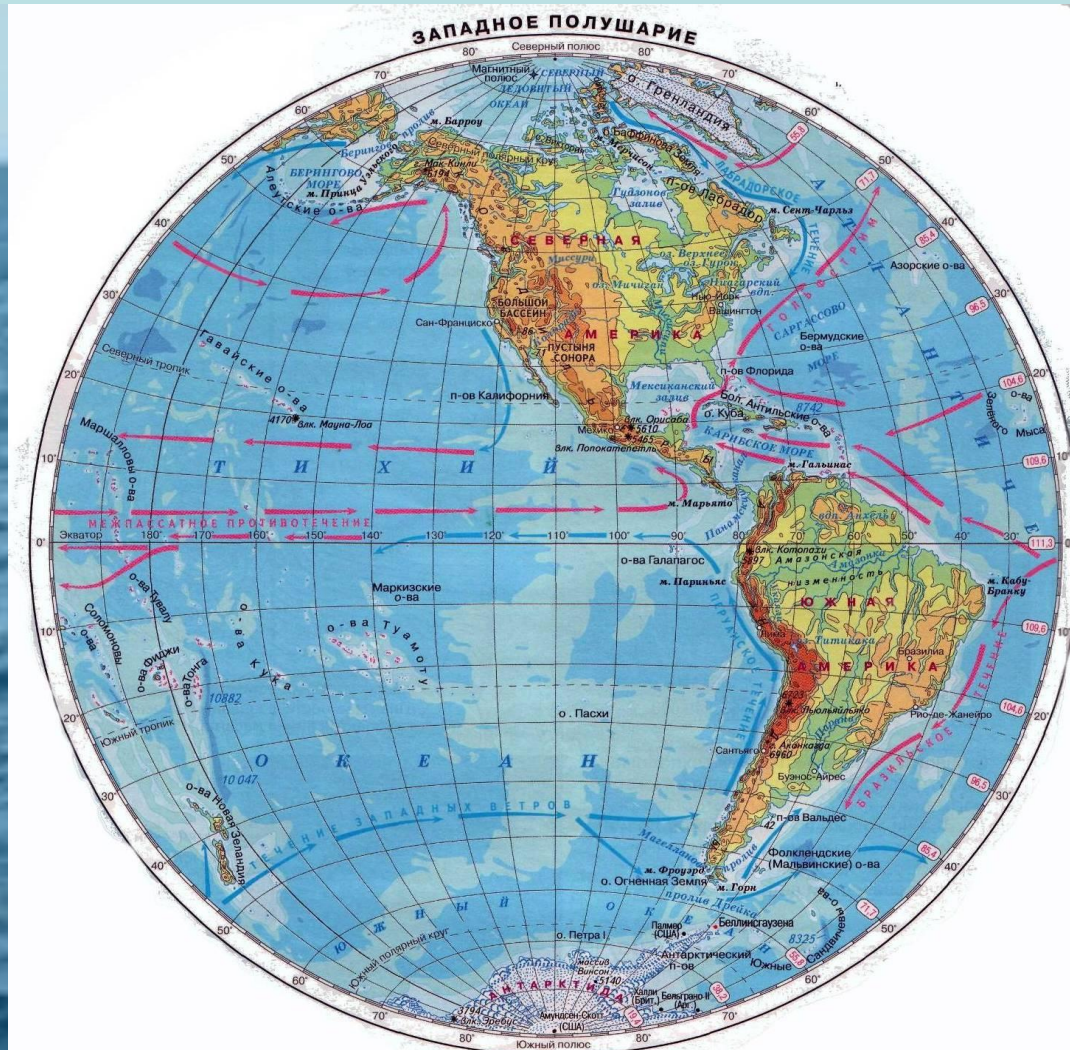
- Как люди путешествуют?
- Какие трудности могут встать перед любым путешественником?

# Как вы думаете

- **О чём могли говорить путешественники в древности у карты перед дальним плаванием?**

*Что там, за горизонтом? Какие люди живут за высокими горами? Есть ли за морями другие страны? Есть ли край Земли, и если есть, то где он находится? Эти вопросы всегда будоражили воображение людей.*


# Острова Тихого океана заселены людьми. Откуда они там взялись?



# Заселение Океании







**«Узелковая» карта  
полинезийцев**



**Океанийцы были искусными мореходами и судостроителями. Ориентируясь по звездам и нехитрой «узелковой» карте, они совершали плавания за тысячи километров от родных островов. Их лодки с двойным балансиrom до сих пор используются на островах.**



**Тур Хейердал**  
(1914 — 2002)  
знаменитый  
норвежский  
путешественник и  
учёный-  
антрополог.  
выдвинул гипотезу  
о том, что Океанию  
могли заселить  
выходцы из Южной  
Америки.

- В Перу из бальзового тропического дерева и других природных материалов был построен плот паэ-паэ, который они называли «**Кон-Тики**».




Цветок бальзового дерева



Самое легкое дерево в мире



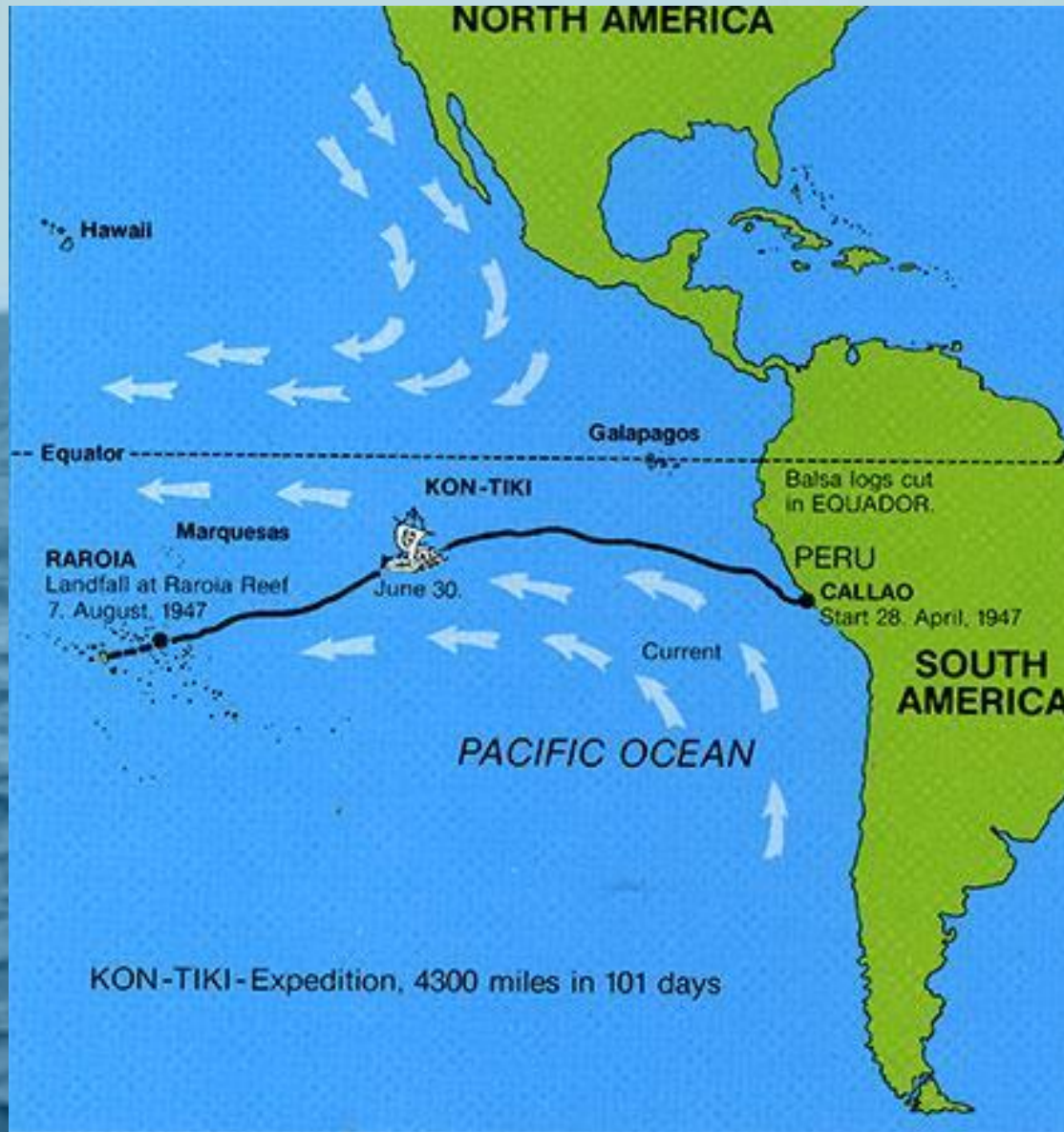


Плот получил название Кон-Тики, в честь имени **бога солнца древних ИНКОВ**. В те времена люди поклонялись этому богу и вырезали его голову в разных статуях. Изображение одной из этих статуй стало появилось на парусе этого судна. Легенда гласит, что замученный народ в конце концов прогнал Кон-Тики на запад и он уплыл со своими людьми за Тихий Океан. А среди полинезийцев же ходили легенды о великом Тики, который приплыл со своими людьми с востока. По стопам этого древнего бога и решил поплыть Тур Хейердал со своей командой.



Судно было собрано без единого гвоздя и все части его были связаны верёвками. Точно так же сооружали свои плоты древние жители этих мест - инки. Мачта и руль судна были сделаны из мангрового дерева.

# Маршрут Кон-Тики



**7 августа 1947 года**, по прошествии 101 дня мореплавания, «Кон-Тики», преодолевший в Тихом океане 4300 морских миль (8000 км), прибило к рифам **атолла Рароиа островов Туамоту**.

Тур Хейердал и его команда доказала пересечения Тихого океана южноамериканскими индейцами.









- в Плот Кон-Тики хранится сейчас в одноимённом музее, Осло.

# ПРОВЕРОЧНЫЙ ТЕСТ

**1. Выберите правильное утверждение, характеризующее население островов Тихого океана.**

**А) коренные жители островов Тихого океана являются потомками переселенцев из Европы;**

**Б) предки людей, живущих на островах Тихого океана, приплыли из Южной Америки;**

**В) жители островов Тихого океана являются потомками переселенцев из Азии.**

## **2. Какой из океанов пересекла экспедиция Тура Хейердала?**

- а) Атлантический**
- б) Индийский**
- в) Тихий**

### **3. Плавательное средство экспедиции Тура Хейердала называется**

- а) корабль**
- б) лодка**
- в) плот**

## **4. Тур Хейердал решил пересечь океан, для того чтобы**

- а) отдохнуть на другом побережье океана**
- б) доказать, что древние люди могли пересекать океан**
- в) проложить морской торговый путь**

**5. Плавательное средство экспедиции  
Тура Хейердала во время его  
плавания по Тихому океану называлось**

- а) «Ра»**
- б) «Кон-Тики»**
- в) «Святая Мария»**



**6. Какие современные предметы взяли с собой в путешествие Тур Хейердал и его товарищи?**

- а) кинокамеру**
- б) радиостанцию**
- в) мобильный телефон**
- г) гитару**

## Проверим свои знания

1 б

2 в

3 в

4 б

5 б

6 а,б,г

# Рефлексия

- Я уверен в своих знаниях
- Мне комфортно
- Я испытываю трудности

# Домашнее задание

- параграф 7; см стр 39 вопросы
- Рабочая тетрадь стр 19-21