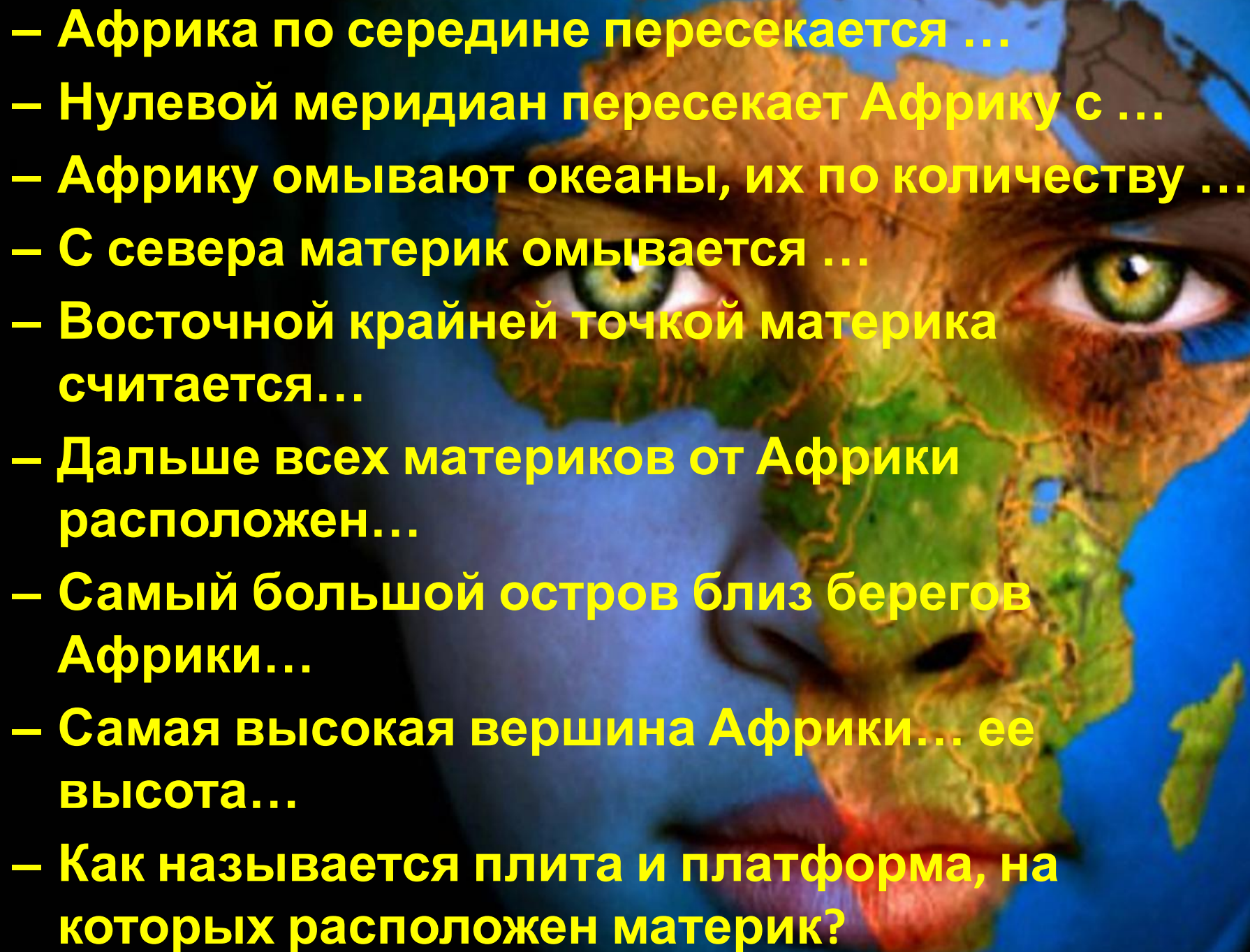




- 
- Африка по середине пересекается ...
 - Нулевой меридиан пересекает Африку с ...
 - Африку омывают океаны, их по количеству ...
 - С севера материк омывается ...
 - Восточной крайней точкой материка считается...
 - Дальше всех материков от Африки расположен...
 - Самый большой остров близ берегов Африки...
 - Самая высокая вершина Африки... ее высота...
 - Как называется плита и платформа, на которых расположен материк?

Климат Африки





**АФРИКА
САМЫЙ
ЖАРКИЙ
МАТЕРИК
ЗЕМЛИ**

Климатообразующий фактор

Какова роль фактора

**Географическая
широта**

**Чем дальше от экватора,
тем ...**

**Высота над уровнем
моря**

Чем выше, тем ...

**Господствующие
ветры**

**Пассаты с океана
приносят весь год ...**

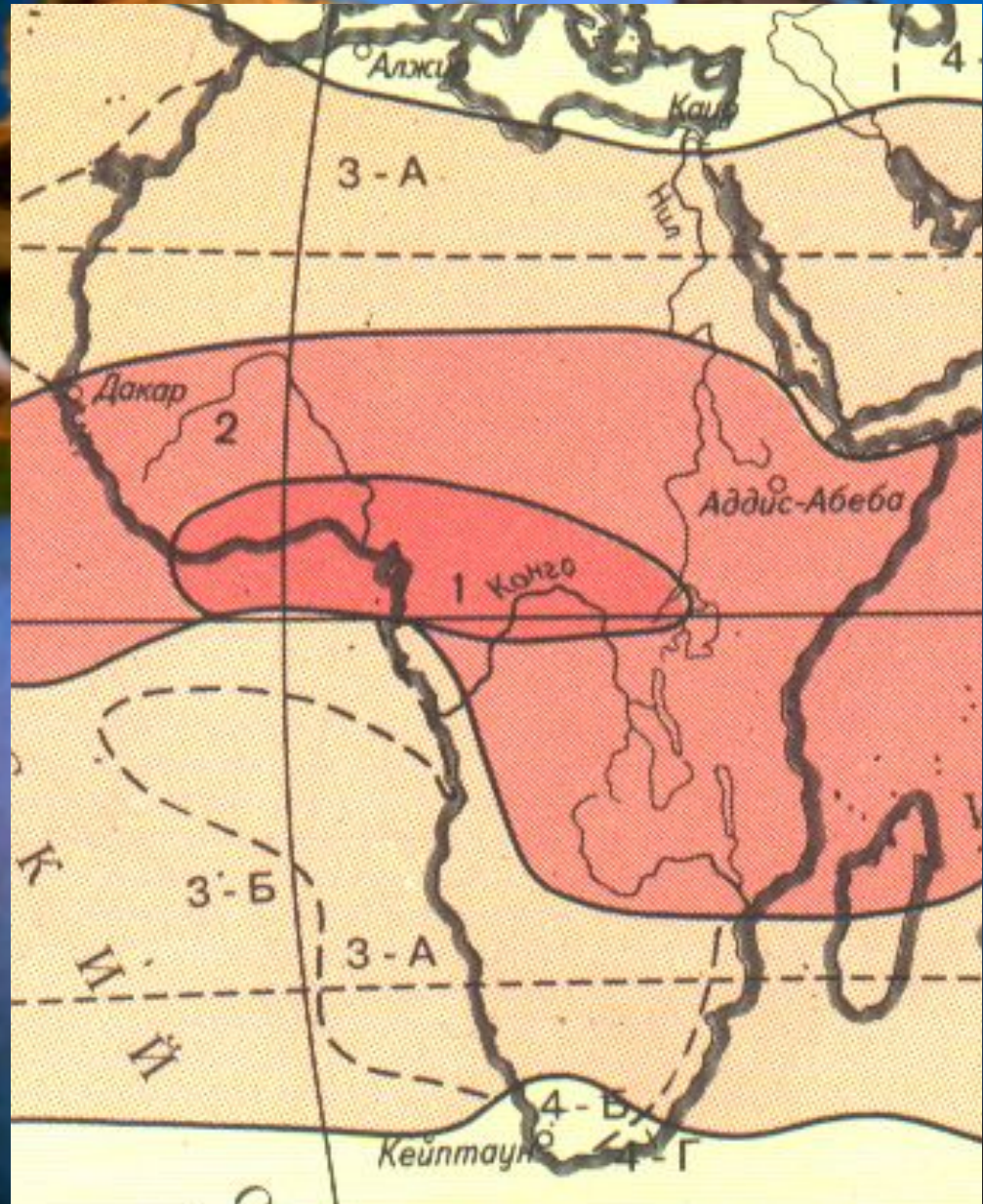
**Направление горных
хребтов**

**Осадки выпадают на
наветренных склонах**

Течения

**Если у берега проходит
теплое течение, то**

1. Экваториальный КП
2. Субэкваториальный КП
- 3А тропический КП (пустынный)
- 3Б тропический КП (влажный)
- 4Б субтропический КП (средиземноморский)
- 4Г субтропический КП (с равномерным увлажнением)



- получает больше солнечного тепла, чем любой другой материк благодаря ГП (между тропиками);
- самая высокая температура на земле $+58^{\circ}$ в Триполи;
- в зимние месяцы температура не опускается ниже $+10^{\circ}$;
- много осадков в экваториальных широтах, мало в тропических;
- большие размеры материка и сухие пассаты с Аравийского полуострова определяют более сухой климат в Северной Африке;
- приокеанская пустыня Намиб сформировалась под влиянием холодного течения.



**Климатическ
ий пояс**

**ЭКП
СЭКП
ТКП
СТКП**

**Воздушная
масса.**

**Средняя
температура**

**Средняя
температура**

**Ветры
летом**

Ветры зимой.

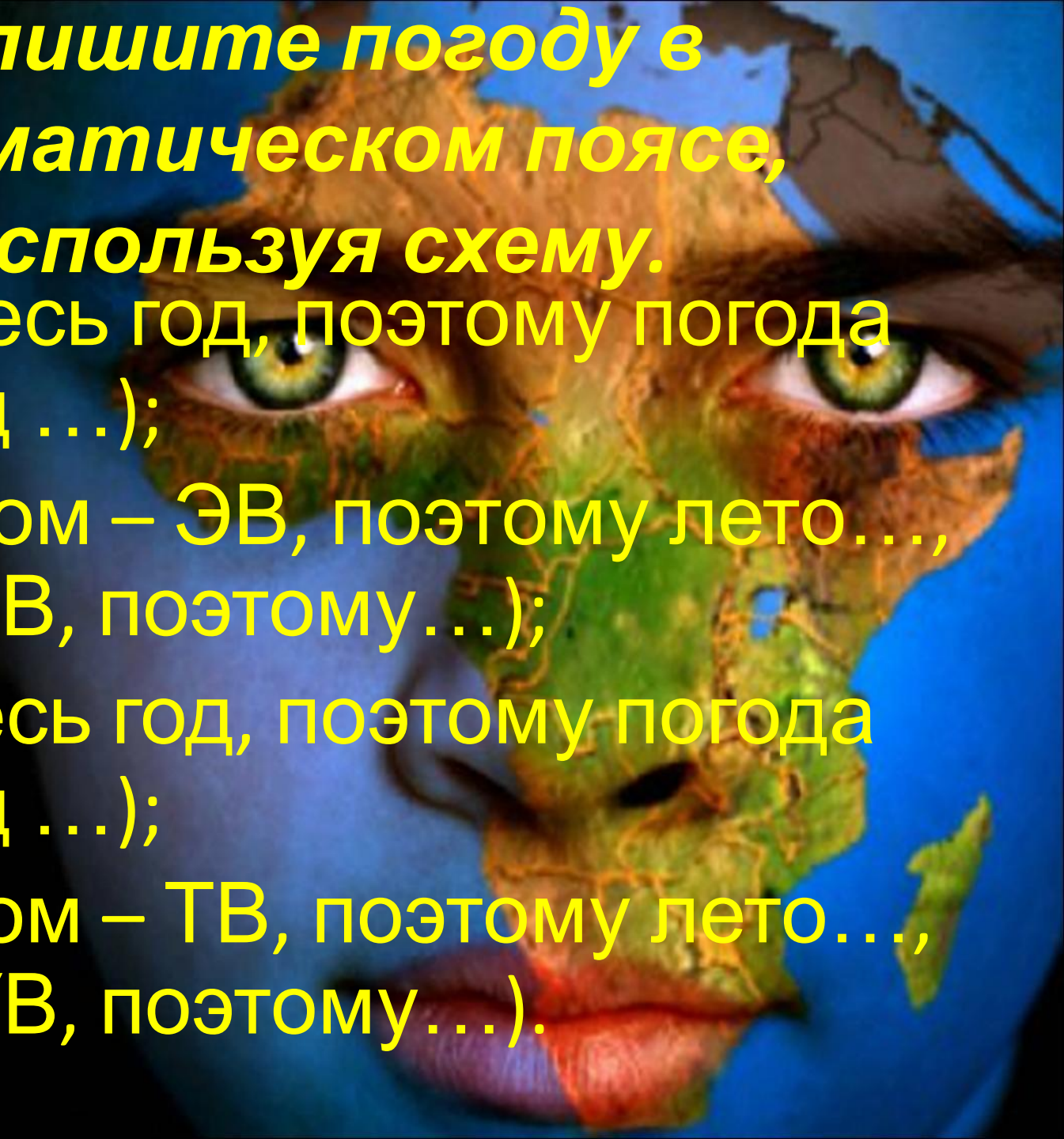
**Осадки
в мм.**

**Режим
Осадков.**

Климатический пояс	Воздушная масса	t летом	t зимой	Ветры летом	Ветры зимой	Количество осадков в мм	Режим выпадения осадков
ЭКП	Экваториальная	+24	+24	Ю-З	Ю-З	1000 – 3000	Равномерно в течение всего года
СЭКП	Летом- Экваториальная Зимой- тропическая	+24 +16	+24 +16	Ю-З	С-В	500 - 2000	Летом
ТКП	Тропическая	+32	0 - +16	С С-В	С-В Ю-В	0 1000 на Ю-В	Летом
СТКП	Летом- тропическая Зимой- умеренная	+8	+24 +16	С Ю-З	З С-З	250 – 500 500 - 1000	Зимой

**Опишите погоду в
климатическом поясе,
используя схему.**

- **Э** (ЭВ весь год, поэтому погода весь год ...);
- **СЭ** (летом – ЭВ, поэтому лето..., зимой ТВ, поэтому...);
- **Т** (ТВ весь год, поэтому погода весь год ...);
- **СТ** (летом – ТВ, поэтому лето..., зимой УВ, поэтому...).





А) экваториальный

Б)

субэкваториальный

В) тропический

Г) субтропический

Домашнее задание

- Описать климат о. Мадагаскар по типовому плану
- Отметить на к/к недостающие климатические пояса
- Опережающее задание:
 - 1 вариант: подготовить путешествие по рекам Африки;
 - 2 вариант: подготовить путешествие по озерам Африки.

