

Урок-обобщение по теме «Атмосфера»

6 класс

Воздушный бой



<u>1</u>	<u>2</u>	<u>3</u>	<u>1</u>	<u>2</u>	<u>3</u>	<u>1</u>	<u>2</u>	<u>3</u>
<u>4</u>	<u>5</u>	<u>6</u>	<u>4</u>	<u>5</u>	<u>6</u>	<u>4</u>	<u>5</u>	<u>6</u>
<u>1</u>	<u>2</u>	<u>3</u>	<u>1</u>	<u>2</u>	<u>3</u>	<u>1</u>	<u>2</u>	<u>3</u>
<u>4</u>	<u>5</u>	<u>6</u>	<u>4</u>	<u>5</u>	<u>6</u>	<u>4</u>	<u>5</u>	<u>6</u>

1

Вопрос на 1 балл



Дайте определение

ВЕТЕР



2

Вопрос на 2 балла



Для измерения каких
элементов погоды
используются следующие
приборы:

барометр, осадкомер?



3

Вопрос на 3 балла



Определите в каком направлении дует ветер

759 мм рт. ст.		753 мм рт. ст.
740 мм рт. ст.		760 мм рт. ст.
780 мм рт. ст.		729 мм рт. ст.

4

Вопрос на 1 балл



Где содержится
основная масса
атмосферного
воздуха?

5

Вопрос на 2 балла



Вспомните, что происходит, когда в теплую кухню или комнату вносят, например, хранящуюся на холоде банку или кастрюлю с квашеной капустой.

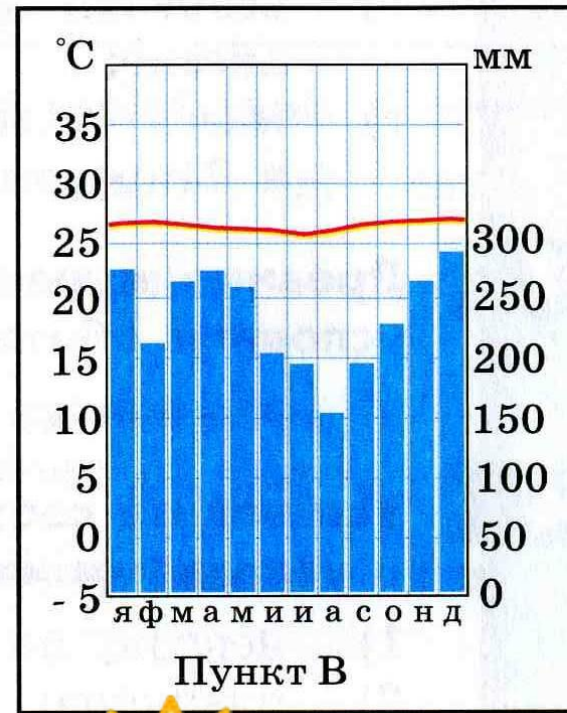
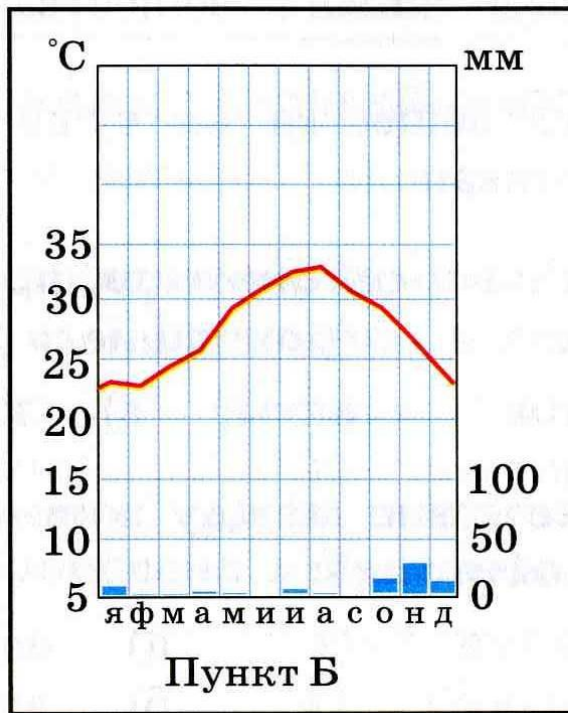
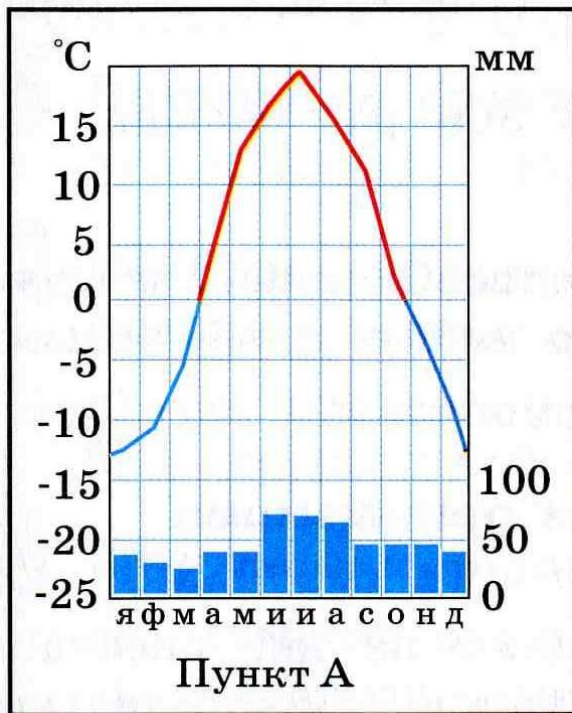
Опишите наблюдаемое явление и объясните его.

6

Вопрос на 3 балла



Проанализируйте диаграммы.



1

Вопрос на 2 балл



**Назовите
основные слои
атмосферы**



2

Вопрос на 1 балл



Дайте определение

АТМОСФЕРНЫЕ ОСАДКИ



3

Вопрос на 3 балла



Определите в каком направлении дует ветер

759 мм рт. ст.		753 мм рт. ст.
740 мм рт. ст.		760 мм рт. ст.
780 мм рт. ст.		729 мм рт. ст.

4

Вопрос на 1 балл



Дайте определения
термина
«КЛИМАТ»



5

Вопрос на 2 балла



Вычислите среднегодовую температуру воздуха по данным средних месячных температур:

я	ф	м	а	м	и	и	а	с	о	н	д
-13	-11	-5	+4	+12	+16	+20	+18	+11	+4	-4	-10



6

Вопрос на 3 балла



Определите примерную
высоту горы, если у ее
подножия температура
воздуха составила $+16^{\circ}\text{C}$,
а на вершине -8°C



1

Вопрос на 2 балла



Чем отличается
морской климат от
континентального?



2

Вопрос на 3 балла



Определите в каком направлении дует ветер

759 мм рт. ст.		753 мм рт. ст.
740 мм рт. ст.		760 мм рт. ст.
780 мм рт. ст.		729 мм рт. ст.

3

Вопрос на 1 балла



Назовите явления
погоды



4

Вопрос на 1 балл



Дайте определение

ОБЛАЧНОСТЬ



5

Вопрос на 2 балл



Что называется
насыщенным
воздухом?



6

Вопрос на 3 балла



На каких территориях
погода не меняется.
Какой тип климата
там преобладает?



1

Вопрос на 3 балла



Облака исчезают.

Как и куда?



2

Вопрос на 1 балл



Каков состав
воздуха
атмосферы?



3

Вопрос на 1 балл



Закончите предложение.

Для образования
облаков необходимо,
чтобы воздух...



4

Вопрос на 2 балла



**Докажите что все
элементы погоды
взаимосвязаны**



5

Вопрос на 3 балла



Определите в каком направлении дует ветер

760 мм рт. ст.		758 мм рт. ст.
765 мм рт. ст.		760 мм рт. ст.
720 мм рт. ст.		772 мм рт. ст.

6

Вопрос на 2 балла



**Для измерения каких
элементов погоды
используют следующие
приборы:**

термометр, флюгер?



1

Вопрос на 2 балла



Что такое
климатический
пояс?



2

Вопрос на 1 балл



**Назовите элементы
погоды?**



3

Вопрос на 1 балл



Дайте определение

АТМОСФЕРА



4

Вопрос на 3 балла



Определите в каком направлении дует ветер

729 мм рт. ст.		750 мм рт. ст.
746 мм рт. ст.		759 мм рт. ст.
761 мм рт. ст.		761 мм рт. ст.

5

Вопрос на 3 балла



- Приведите примеры того, что климат оказывает влияние на жилище человека.

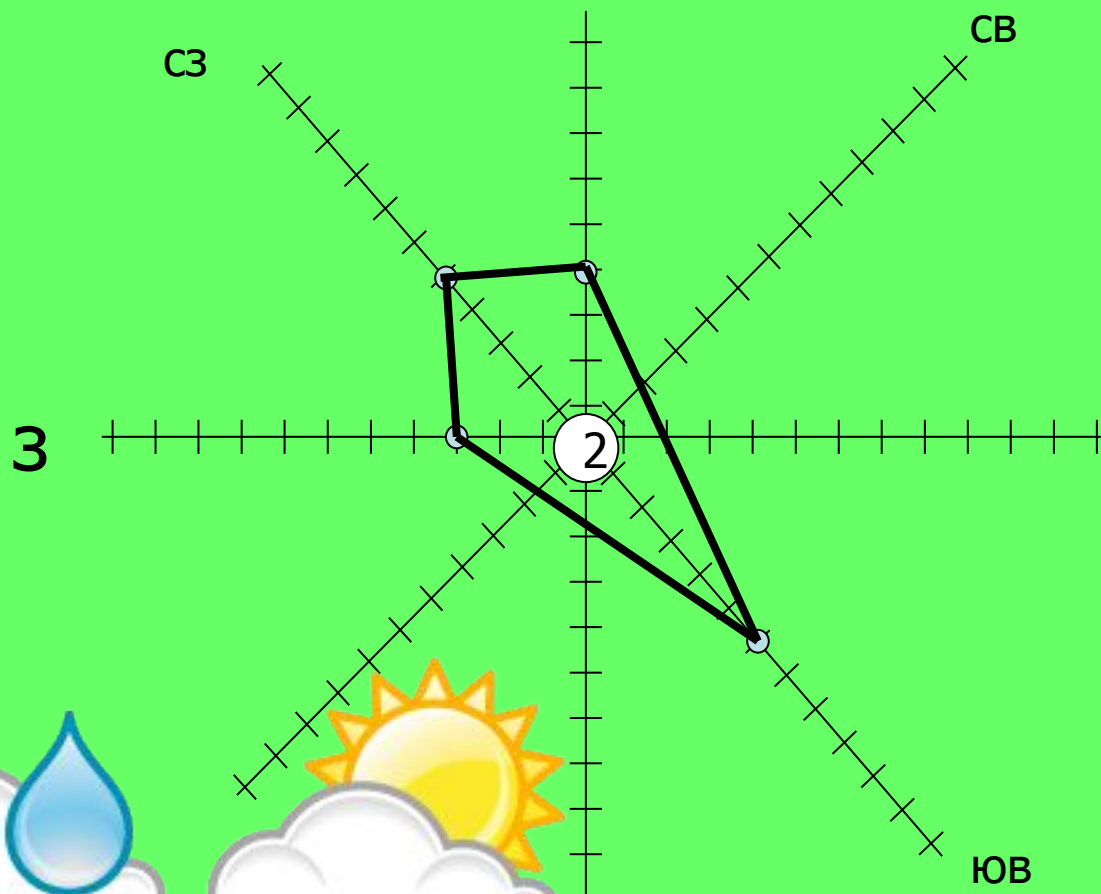


6

Вопрос на 2 балла



- Проанализируйте розу ветров



1

Вопрос на 3 балла



Определите в каком направлении дует ветер

767 мм рт. ст.		720 мм рт. ст.
760 мм рт. ст.		720 мм рт. ст.
740 мм рт. ст.		752 мм рт. ст.

2

Вопрос на 2 балла



Назовите признаки
штиля.



3

Вопрос на 3 балла



При ветрах какого
направления чаще
всего выпадают осадки
в вашей местности?



4

Вопрос на 1 балл



Как называется слой
атмосферы, где
формируется погода?



5

Вопрос на 2 балла



Перечислите
климатообразующие
факторы?



6

Вопрос на 1 балл



Дайте определение

БАРОМЕТР

