

Урок-обобщение по теме «Атмосфера»

6 класс

Воздушный бой



| | | | | | | | | |
|----------|----------|----------|----------|----------|----------|----------|----------|----------|
| <u>1</u> | <u>2</u> | <u>3</u> | <u>1</u> | <u>2</u> | <u>3</u> | <u>1</u> | <u>2</u> | <u>3</u> |
| <u>4</u> | <u>5</u> | <u>6</u> | <u>4</u> | <u>5</u> | <u>6</u> | <u>4</u> | <u>5</u> | <u>6</u> |
| <u>1</u> | <u>2</u> | <u>3</u> | <u>1</u> | <u>2</u> | <u>3</u> | <u>1</u> | <u>2</u> | <u>3</u> |
| <u>4</u> | <u>5</u> | <u>6</u> | <u>4</u> | <u>5</u> | <u>6</u> | <u>4</u> | <u>5</u> | <u>6</u> |

1

Вопрос на 1 балл



Дайте определение

ВЕТЕР



2

Вопрос на 2 балла



Для измерения каких
элементов погоды
используются следующие
приборы:

барометр, осадкомер?



3

Вопрос на 3 балла



Определите в каком направлении дует ветер

| | | |
|----------------|--|----------------|
| 759 мм рт. ст. | | 753 мм рт. ст. |
| 740 мм рт. ст. | | 760 мм рт. ст. |
| 780 мм рт. ст. | | 729 мм рт. ст. |

4

Вопрос на 1 балл



Где содержится
основная масса
атмосферного
воздуха?

5

Вопрос на 2 балла



Вспомните, что происходит, когда в теплую кухню или комнату вносят, например, хранящуюся на холоде банку или кастрюлю с квашеной капустой.

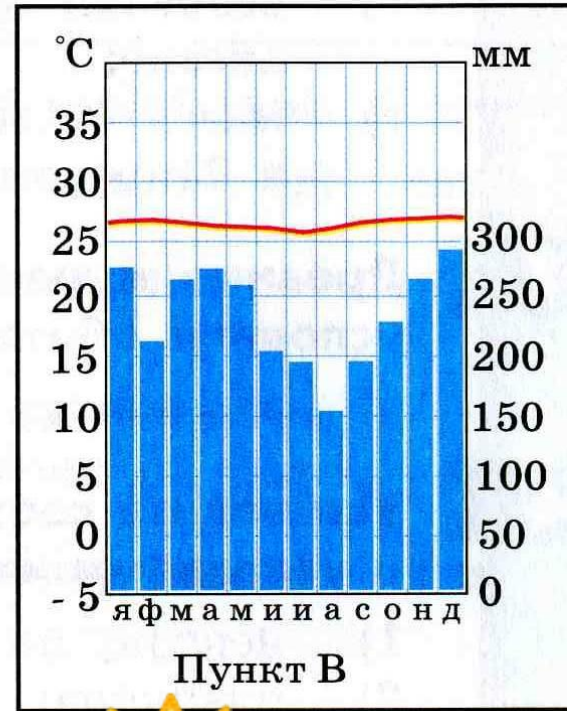
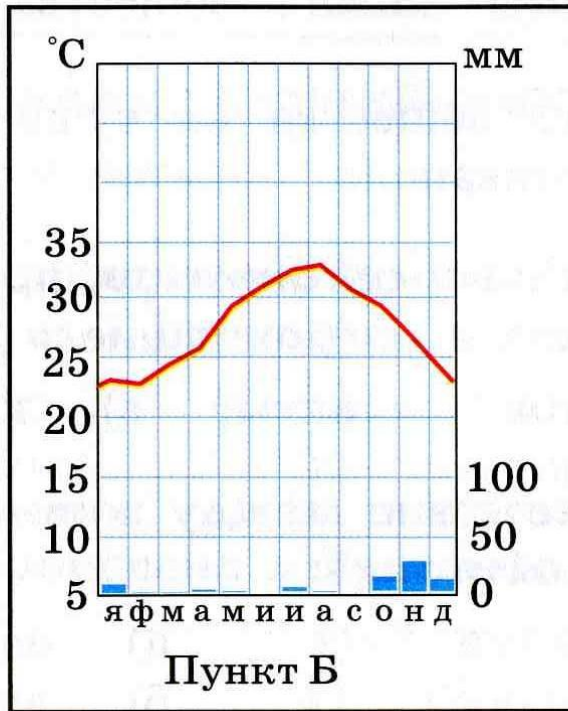
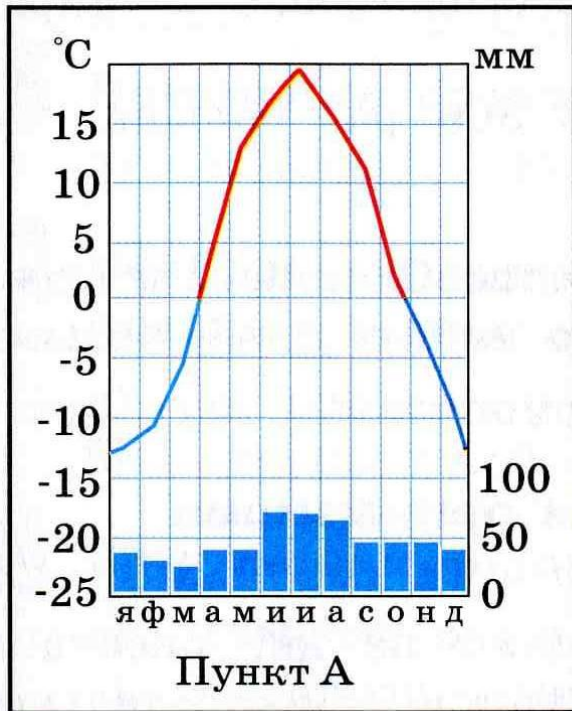
Опишите наблюдаемое явление и объясните его.

6

Вопрос на 3 балла



Проанализируйте диаграммы.



1

Вопрос на 2 балл



**Назовите
основные слои
атмосферы**



2

Вопрос на 1 балл



Дайте определение

АТМОСФЕРНЫЕ ОСАДКИ



3

Вопрос на 3 балла



Определите в каком направлении дует ветер

| | | |
|----------------|--|----------------|
| 759 мм рт. ст. | | 753 мм рт. ст. |
| 740 мм рт. ст. | | 760 мм рт. ст. |
| 780 мм рт. ст. | | 729 мм рт. ст. |

4

Вопрос на 1 балл



Дайте определения
термина
«КЛИМАТ»



5

Вопрос на 2 балла



Вычислите среднегодовую температуру воздуха по данным средних месячных температур:

| я | ф | м | а | м | и | и | а | с | о | н | д |
|-----|-----|----|----|-----|-----|-----|-----|-----|----|----|-----|
| -13 | -11 | -5 | +4 | +12 | +16 | +20 | +18 | +11 | +4 | -4 | -10 |



6

Вопрос на 3 балла



Определите примерную
высоту горы, если у ее
подножия температура
воздуха составила $+16^{\circ}\text{C}$,
а на вершине -8°C



1

Вопрос на 2 балла



Чем отличается
морской климат от
континентального?



2

Вопрос на 3 балла



Определите в каком направлении дует ветер

| | | |
|----------------|--|----------------|
| 759 мм рт. ст. | | 753 мм рт. ст. |
| 740 мм рт. ст. | | 760 мм рт. ст. |
| 780 мм рт. ст. | | 729 мм рт. ст. |

3

Вопрос на 1 балла



Назовите явления
ПОГОДЫ



4

Вопрос на 1 балл



Дайте определение

ОБЛАЧНОСТЬ



5

Вопрос на 2 балл



Что называется
насыщенным
воздухом?



6

Вопрос на 3 балла



На каких территориях
погода не меняется.
Какой тип климата
там преобладает?



1

Вопрос на 3 балла



Облака исчезают.

Как и куда?



2

Вопрос на 1 балл



Каков состав
воздуха
атмосферы?



3

Вопрос на 1 балл



Закончите предложение.

Для образования
облаков необходимо,
чтобы воздух...



4

Вопрос на 2 балла



**Докажите что все
элементы погоды
взаимосвязаны**



5

Вопрос на 3 балла



Определите в каком направлении дует ветер

| | | |
|----------------|--|----------------|
| 760 мм рт. ст. | | 758 мм рт. ст. |
| 765 мм рт. ст. | | 760 мм рт. ст. |
| 720 мм рт. ст. | | 772 мм рт. ст. |

6

Вопрос на 2 балла



**Для измерения каких
элементов погоды
используют следующие
приборы:**

термометр, флюгер?



1

Вопрос на 2 балла



Что такое
климатический
пояс?



2

Вопрос на 1 балл



**Назовите элементы
погоды?**



3

Вопрос на 1 балл



Дайте определение

АТМОСФЕРА



4

Вопрос на 3 балла



Определите в каком направлении дует ветер

| | | |
|----------------|--|----------------|
| 729 мм рт. ст. | | 750 мм рт. ст. |
| 746 мм рт. ст. | | 759 мм рт. ст. |
| 761 мм рт. ст. | | 761 мм рт. ст. |

5

Вопрос на 3 балла



- Приведите примеры того, что климат оказывает влияние на жилище человека.

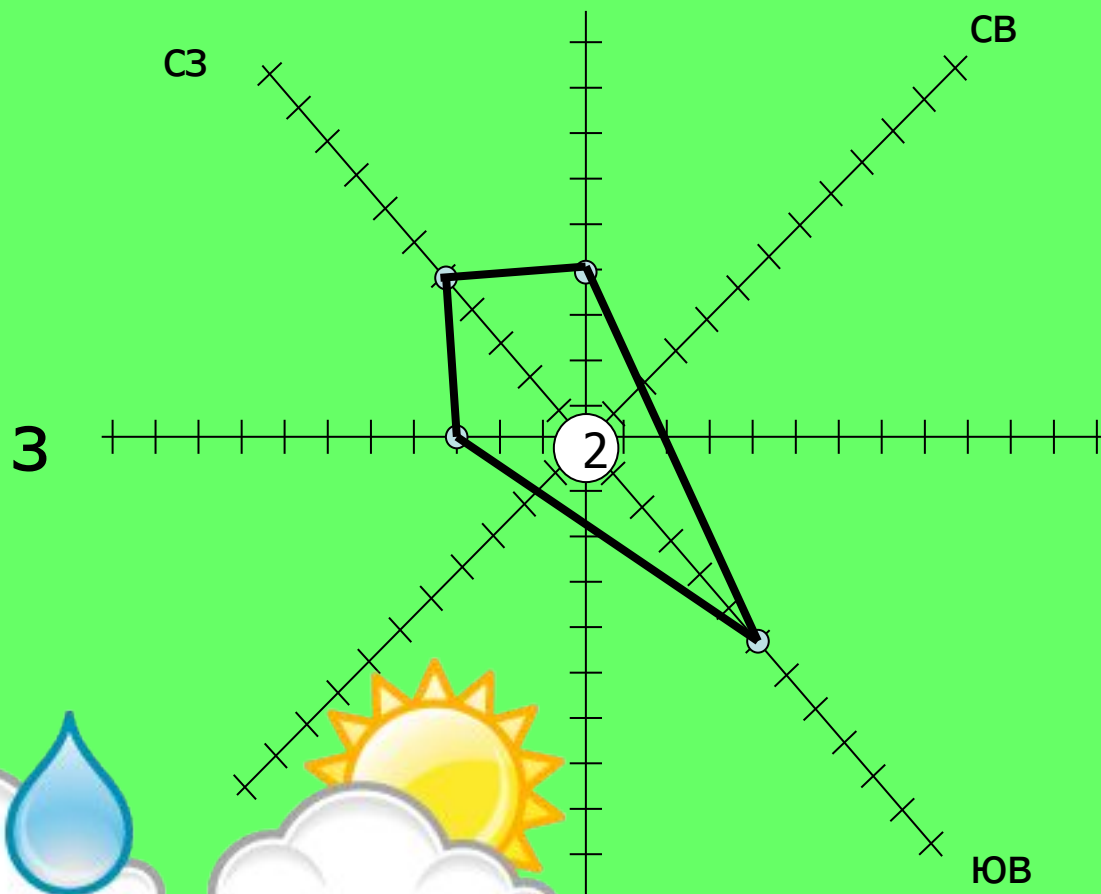


6

Вопрос на 2 балла



- Проанализируйте розу ветров



ЮВ

1

Вопрос на 3 балла



Определите в каком направлении дует ветер

| | | |
|----------------|--|----------------|
| 767 мм рт. ст. | | 720 мм рт. ст. |
| 760 мм рт. ст. | | 720 мм рт. ст. |
| 740 мм рт. ст. | | 752 мм рт. ст. |

2

Вопрос на 2 балла



Назовите признаки
штиля.



3

Вопрос на 3 балла



При ветрах какого
направления чаще
всего выпадают осадки
в вашей местности?



4

Вопрос на 1 балл



Как называется слой
атмосферы, где
формируется погода?



5

Вопрос на 2 балла



Перечислите
климатообразующие
факторы?



6

Вопрос на 1 балл



Дайте определение

БАРОМЕТР

