

Австралия.



1	2	3	4	5
6	7	8	9	10

1	2	3	4	5
6	7	8	9	10

Гео-био-лото.

Правила игры

1 команда

1	2	3	4	5
6	7	8	9	10



2 команда

1	2	3	4	5
6	7	8	9	10

ВЫХОД

Закончить игру

Вопрос № 1.

3 балла



**единственным
лекопитающим
живущих в
ралии?**



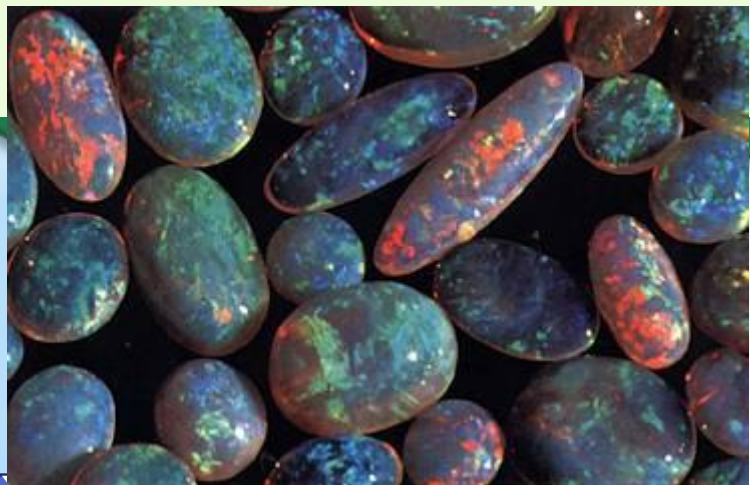
УТКОНОС (у самцов
ядовитые шпоры на задних
ногах, 1,2—1,5 см)



Вопрос № 2.

2 балла

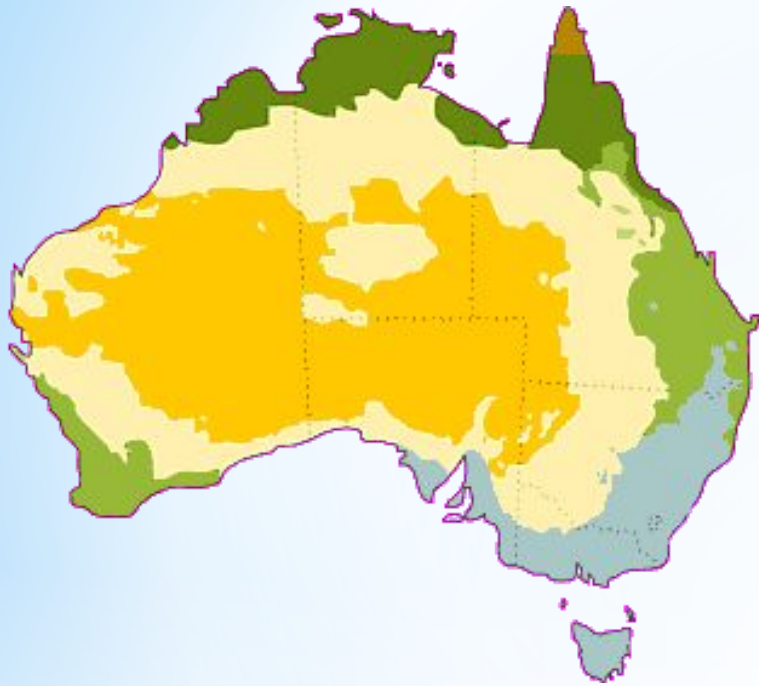
Австралия славится своими драгоценными камнями. Здесь был найден самый большой в мире сапфир весом 460 г. Но особую славу континенту принесли месторождения другого минерала, которого здесь около 90% мировых запасов. Назовите этот минерал.



Опал.

Вопрос № 3.

2 балла



Перечислите типы климата, формирующиеся на территории Австралии.

Субэкваториальный, тропический влажный, тропический пустынный, субтропический влажный, субтропический континентальный, субтропический средиземноморский.



Вопрос № 4.

2 балла

Австралию иногда называют страной «наоборот». Прокомментируйте это высказывание.

Из-за расположения континента в **Южном полушарии** декабрь-февраль это летние месяцы, а июнь-август зимние.
Чем южнее, тем холоднее.



Вопрос № 5.

2 балла

Как

ГО

АВ

МЫ

бе

у?



Страус эму , кенгуру, золотистая акация(мимоза).
По распространённому мнению кенгуру и страус эму не
могут ходить назад. Именно поэтому эти животные
изображены на гербе Австралии как символ движения
вперёд, прогресса.



ВЫХОД

Вопрос № 6.

2 балла

В 1
ф
н
н
раз
чис



ский
ть
на
и
ной
нию


Назовите этого животного-вредителя.

Кролики.



Вопрос № 7.

2 балла



**Что изображено на
государственном
флаге
Австралийского
Союза?**

- В левой верхней четверти изображён британский флаг.
- Кроме того, на флаге Австралии находится изображение шести белых звёзд: 5 звёзд в виде созвездия Южного Креста в правой части полотнища и 1 большая звезда в центре левой нижней четверти.



Вопрос № 8.

2 балла



турное
в городе
ает
громных
енных одна
о чудо
туры.

Оперный театр.



Вопрос № 9.

2 балла



птица
ине
о из
имеет
о в
ова».

Казуар .



Вопрос № 10.

2 балла



Кто здесь лишний и почему?

**Панда.
Обитает в Китае.**

ВЫХОД



2 балла

гены?



Коренное население Австралии.

Для охоты на крупных животных, например, кенгуру. Невозвращающиеся бумеранги изогнуты в меньшей степени и больше размером (до метра длиной), а бросают их почти горизонтально. При правильной броске такой бумеранг летит параллельно земле до 200 метров.



Вопрос №2

Самая низкая и самая высокая точки Австралии .

Озеро Эйр.
Гора Косцюшко.



Вопрос №3

3 балла



к
ие
чая
ОГО
кас
ОВЬ
ь е



**Тасманийский
дьявол**



Вопрос №4

Какой город является столицей
Австралийского Союза?
Назовите тип административно-
территориального устройства
государства.

**Канберра.
Федерация.**



Вопрос №5

Птица, изображённая на



Гордостью.

Лирохвост



Вопрос №6

Назовите самую многоводную речную систему Австралии. Где они берут начало? Куда впадают? Как называют периодически пересыхающие реки Австралии?

**Муррей-Дарлинг.
Большой Водораздельный хребет.
Индийский океан.
Крики.**



Вопрос №7.

2 балла

Площадь этого государства, расположенного на Северном и Южном Островах равна 269 тыс. кв. км. Острова разделены проливом, названным именем великого английского мореплавателя 18 в. совершившего 3 кругосветных плавания. На Южном острове возвышается гора высотой 3756 м., также носящая имя этого мореплавателя. Назовите мореплавателя, государство, гору, пролив, столицу страны

*Новая Зеландия, столица
Веллингтон.*

Джеймс Кук, Пролив и гора Кука



2 балла

Вопрос №8

Какие заливы и моря
не омывают
Австралию?

- 1-Тиморское море
- 2-Китайское море
- 3-Арафурское море
- 4-Саргассово море
- 5-Тасманово море
- 6-Залив
Карпентария
- 7-Персидский залив
- 8-Эгейское море
- 9-Селебское море
- 10-Коралловое
море
- 11-Большой
Австралийский
залив

**Китайское море,
Саргассово море,
Персидский залив,
Эгейское море,
Селебское море**



Вопрос №9

**Правильно укажите
координаты
МЫСОВ**

Мыс Йорк	39° ю.ш.	146° в.д.
Мыс Стип-Пойнт	28° ю.ш.	153° в.д.
Мыс Саут Ист-Пойнт	10° ю.ш.	142° в.д.
Мыс Байрон	26° ю.ш.	113° в.д.

Мыс Йорк	10° ю.ш.	142° в.д.
Мыс Стип-Пойнт	26° ю.ш.	113° в.д.
Мыс Саут Ист-Пойнт	39° ю.ш.	146° в.д.
Мыс Байрон	28° ю.ш.	153° в.д.



2 балла

Вопрос №10



Языка
оригенов
ивотного
ощий".

Коала



Спасибо за урок!

ВЫХОД