

РЕГИОНАЛЬНАЯ СТРУКТУРА АВСТРАЛИИ И ОКЕАНИИ





Австралия и Океания.

Урок - брейн-ринг




Условия игры:

- Команды приступают к обсуждению вопроса после удара в гонг.
- Время на обсуждение - 1 минута.
- Если кто-то из членов команды знает ответ на вопрос, - сообщает об этом капитану.
- Капитан принимает решение о подаче ответа или даже о досрочном ответе.
- Капитан подает сигнал (рука) - команда готова дать ответ.
- Чей капитан быстрее подал сигнал, та команда и отвечает первой.
- Капитан может ответить на вопрос сам или передать право ответа одному из игроков команды.
- Если капитан подал сигнал, а его команда не готова к ответу или если кто-то из членов команды выкрикнул ответ до того, как их капитан сигнализировал о готовности к ответу, то команда теряет право на участие в разыгрываемом гейме. Даже если был дан правильный ответ, команде, нарушившей правило, очко не присуждается.
- В каждом гейме команда имеет право ответить только один раз.
- Если ни одна команда не дала правильного ответа, очко разыгрывается в следующем гейме.
- Максимальное количество очков за ответ - 3 балла.



ЭГП. Государственный строй



1. Австралия в прошлом была колонией:

- 1) Великобритании;
- 2) Германии;
- 3) Франции;
- 4) Голландии?

Ответ: Великобритании

2. Какой остров Южной Австралии своих жителей «носит в сумке»?

Ответ: Кенгуру

3. Перечислите штаты Австралии

Ответ: Новый Южный Уэльс, Виктория, Квинсленд, Южная Австралия, Западная Австралия, Тасмания

4. Какие животные изображены на государственном гербе страны?

Ответ: Страус эму и кенгуру

5. Какие животные изображены на австралийских монетах?

Ответ: Ехидна на монете достоинством 5 центов, птица лирохвост - 10 центов, утконос - 20 центов



Вопросы из серии: История исследования

1. Одним из исследователей Австралии был:

- 1) Витус Беринг;
- 2) Джеймс Кук;
- 3) Америго Веспуччи;
- 4) Абель Тасман?

Ответ: Джеймс Кук, Абель Тасман.


2. Джеймс Кук исследовал:

- 1) Северные берега Австралии;
- 2) остров Мадагаскар;
- 3) Юго-восточные берега Австралии;
- 4) Остров Тасмания?

Ответ: Юго-восточные берега Австралии.

3. Какой город первым появился на карте Австралии?

Ответ: г. Сидней, появился как колония для преступников из Англии.



ПРИРОДНЫЕ УСЛОВИЯ И РЕСУРСЫ АВСТРАЛИИ И ОКЕАНИИ



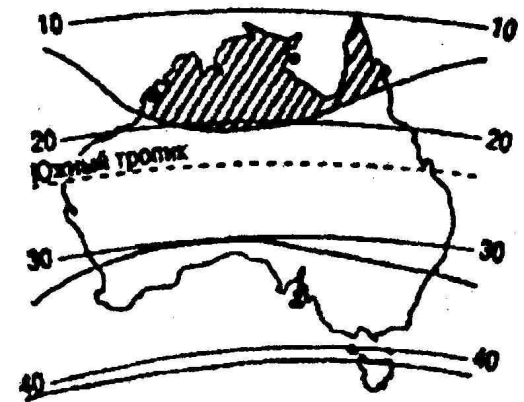
1. Если на уровне Тихого океана на восточном побережье Австралии температура воздуха равна $+ 24^{\circ}\text{C}$, то какова температура воздуха (содержащего водяные пары) на вершине горы Косцюшко?

Ответ: $+ 10,6^{\circ}\text{C}$

2. Выделенная на карте штриховкой территория Австралии находится в пределах природной зоны:

- 1) экваториальных лесов
- 2) полупустынь и пустынь
- 3) широколиственных лесов
- 4) саванны и редколесья

Ответ: саванны и редколесья



3. Выберите из списка животных - эндемиков Австралии (и близлежащих островов):


1) ехидна	4) броненосец	7) скунс	10) опоссум
2) выхухоль	5) вапити	8) вомбат	11) динго
3) горилла	6) дромадер	9) коала	12) муравьед


Ответ: 1) ехидна, 2) коала, 3) динго, 4) вомбат

Ответ: 2) красно-желтые ферраллитные; 3) бурые лесные; 5) коричневые; 7) красно-бурые

4. Назовите разновидности почв, распространенных в Австралии:

1) черноземы;	2) красно-желтые ферраллитные;	
3) бурые лесные;	4) дерново-подзолистые;	5) коричневые;
6) бурые полупустынные;		7) красно-бурые.





5. Какими природными ресурсами Австралия выгодно **отличается** от других материков? (Дайте один ответ.)

- 1) железные руды;
- 2) руды цветных металлов;
- 3) гидроэнергоресурсы;
- 4) артезианские воды;
- 5) лесные ресурсы

Ответ: 4) артезианские воды.


6. Какими ресурсами мирового значения располагает Австралия?

Ответ: 1-е место в мире по запасам урана: в бассейне реки Аллигейтер на полуострове Арнемленд (запасы -911 млн. т). 2-е место после Гвинеи по запасам бокситов - около 6 млрд. т - близ Перта на юго-западе страны и на побережье полуострова Кейп-Йорк. 3-место в мире после КНР и Бразилии по запасам железной руды (15,8 млрд. т). 4-е место в мире по запасам угля (116 млрд. т) занимает. Ресурсы нефти обнаружены на шельфе пролива Басса (около 300 млн. т), здесь же и запасы природного газа (6 690 млрд. м³). Главным районом по запасам медных, свинцово-цинковых, никелевых и титановых руд является Квинсленд. Ведущее место в мире принадлежит Австралии по запасам золота (Калгурли на юго-западе страны) и алмазов (шахта Арджайл на северозападе)

7. Почему Австралия - самый сухой материк Земли? (Докажите ответ.)

Ответ: Большая её часть лежит в тропическом поясе. На значительной части материка осадков выпадает всего от 250 до 500 мм в год, а в центральной части - менее 250 мм в год. Почти половину материка занимает зона тропических пустынь очень мало рек, до и то почти все пересыхающие. Мало озер, в солёные





8. Выберите реки, относящиеся к бассейну внутреннего стока:

- 1) Шари; 2) Раздан; 3) Каира; 4) Колорадо;
5) Унжа; 6) Дарлинг; 4) Волхов; 9) Куперс-Крик;
5) Нева; 10) Вахш

Ответ: 1) Шари; 2) Унжа; 7) Раздан; 9) Куперс-Крик; 10) Вахт

9. На какой высоте находится уровень воды озера Эйр? (Дайте полный ответ.)

Ответ: Озеро Эйр хотели совсем убрать с карты, потому что оно было безводным с 1840 года. Однако летом 1949 года наступила перемена. В Австралии привыкли к катастрофическим наводнениям, но такого обилия воды в Квинсленде никогда не видели. Все сухие русла на западных склонах приморских гор заполнились могучими потоками. Несколько месяцев лил дождь, реки пробились сквозь высокие дюны и дошли до озера Эйр. В августе 1950 года двое географов совершили разведочный полёт и увидели синее море, окруженное зеленым лугом, с миллионами чудесных цветов. Вдоль берега кишели чайки, утки, пеликаны, лебеди и др. водные птицы. Глубина озера была 4 м. Однако сильный зной вызвал бурное испарение, и озеро начало быстро высыхать. Травы, цветы, птицы исчезли, и в оставшемся ложе озера была вода, содержащая 23 % соли. Не успело озеро пересохнуть опять, как в январе 1953 года его заполнил новый рекордный ливень



Население Австралии

1. К странам «переселенческого» типа относят:

- 1) Россию; 2) Украину;
- 3) Австралию; 4) Канаду;
- 5) Израиль; 6) Аргентину

Ответ: 3) Австралия, 4) Канада, 5) Израиль

2. Наибольшая доля населения Австралии проживает:

- 1) в городах; 2) городских агломерациях;
- 3) фермах; 4) поселках городского типа?

Ответ: 1) В городах


3. В каком году и кем был принят закон, уравнивающий аборигенов во всех правах?

Ответ: В 1967 году голосами подавляющего большинства населения страны

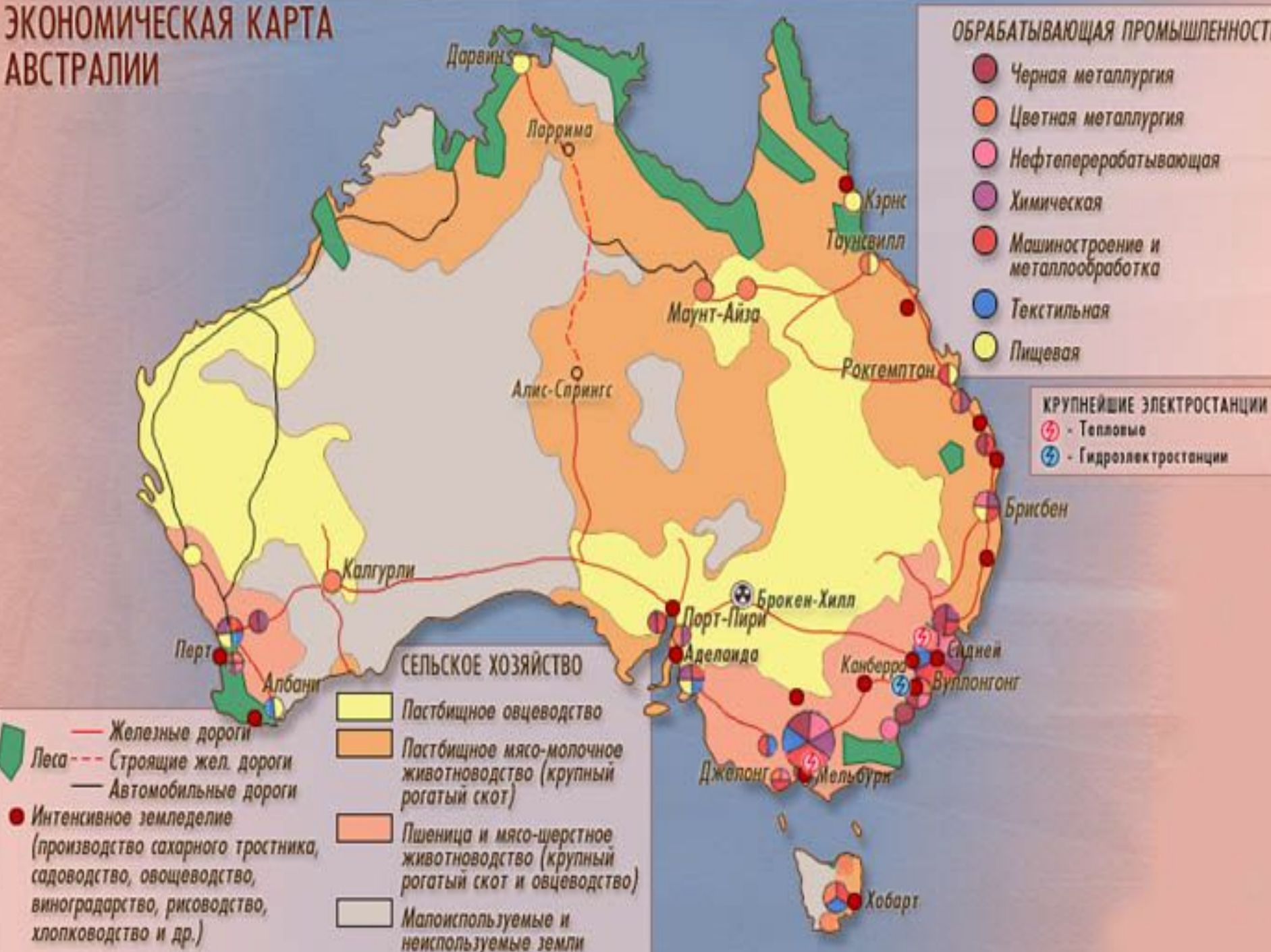
4. В какой части Австралии наиболее высока плотность населения, сосредоточены крупнейшие города, развита обрабатывающая промышленность:

- 1) северо-восток; 2) юго-восток;
- 3) северо-запад; 4) юго-запад; 5) центральные районы?

Ответ: 2) юго-восток



ЭКОНОМИЧЕСКАЯ КАРТА АВСТРАЛИИ



Экономика Австралии



1. По уровню социально-экономического развития Австралию относят к каким странам?

Ответ: В Австралии сложилась парадоксальная ситуация: с одной стороны, страна относится к наиболее развитым в экономическом отношении, с другой стороны, имеет признаки развивающихся стран: сырьевые продукты составляют главную статью ее экспорта, продукция обрабатывающей промышленности не выдерживает конкуренции с соответствующими товарами ведущих стран, а в важнейших отраслях господствует иностранный капитал. Доли страны в 2000 году в мировой экономике составляли: в ВВП - 1,1 %, в промышленности - около 1 %, в с/х - около 1 %, в экспорте - 1,1 % (оценка ИМЭМО РАН)

2. В структуре промышленности каких стран наиболее велика доля добывающей промышленности:

- 1) Австралии и Кувейта;
- 2) Германии и Мексики;
- 3) США и Японии;
- 4) Эфиопии и Афганистана?

Ответ: 1) Австралии и Кувейта

3. Какой фактор оказал влияние на размещение металлургии свинца и цинка на острове Тасмания (Австралийский союз):

- 1) сырьевой;
- 2) водный;
- 3) транспортный;
- 4) экологический?

Ответ: 1) сырьевой

4. Почему совсем недавно, в 50-е годы, говорили, что экономика Австралии «едет на овце»?

Ответ: Австралия занимает первое место в мире по экспорту шерсти





5. Крупнейшими районами овцеводства являются:
- 1) саванна и полупустынные территории Австралии;
 - 2) прерии Северной Америки;
 - 3) пустынные территории Африки;
 - 4) пампа и горы Латинской Америки

Ответ: 1) саванна и полупустынные территории Австралии

6. Какие культуры выращивают современные жители Океании (укажите четыре наиболее важных):

- 1) пшеница;
- 2) кофе;
- 3) какао-бобы;
- 4) хлопчатник;
- 5) сахарный тростник;
- 6) рис;
- 7) кокосовая пальма;
- 8) бананы;
- 9) ананасы;
- 10) кукуруза?

Ответ: 5) сахарный тростник; 7) кокосовая пальма; 8) бананы; 9) ананасы

7. Какое животное можно изобразить на гербе Австралии, поскольку оно в немалой степени определяет экономическое положение страны:

- 1) корову;
- 2) медведя коала;
- 3) кенгуру;
- 4) овцу;

Ответ: 4) Овцу.

8. Какой город в Австралии «дает молоко»?

Ответ: Корова



Внешнеэкономические связи



1. Какие страны являются основными торговыми партнерами Австралии?

Ответ: Япония, США, Страны ЕС, АСЕАН, Новая Зеландия, Тайвань, Южная Корея

2. В каких международных организациях есть членство Австралии?

Ответ: ОЭСР, АИЗЮС, АИЗЮК и АТЭС

3. Объясните, почему Австралия является одним из крупных экспортеров угля. (Доля Австралии в мировом экспорте - 2/5.)
Укажите не менее двух причин

Ответ: 1) Наличие в Австралии крупных месторождений угля. 2) Низкая себестоимость добычи угля (месторождения недалеко от побережья, удобные условия разработки, добыча открытым способом)

