

A topographic map of the world, showing continents and oceans. The map uses color to represent elevation, with green for lowlands and brown for highlands. A black rectangular box is overlaid on the map, containing the text "География 6 класс." in white. The map shows the Americas on the left, Europe and Africa in the center, and Asia and Australia on the right. The oceans are shown in dark blue, and the poles are shown in white.

**География
6 класс.**



«Части мирового океана»

Цели урока:

- ★ Сформировать понятие о Мировом океане и его основных частях.
- ★ Познакомиться с новыми терминами и понятиями.
- ★ Продолжать формировать умение работать с географической картой.



**Вода! Нельзя сказать, что
ты необходима для жизни:
ты сама жизнь.**

А. де Сент-Экзюпери

Гидросфера

```
graph TD; A[Гидросфера] --> B[Воды мирового океана]; A --> C[Воды суши]; A --> D[Воды в атмосфере]; B --> E[Тихий океан]; B --> F[Атлантический]; B --> G[Индийский]; B --> H[Северный Ледовитый]; C --> I[Ледники]; C --> J[Подземные воды]; C --> K[Поверхностные];
```

Воды
мирового
океана

Тихий океан

Атлантический

Индийский

Северный
Ледовитый

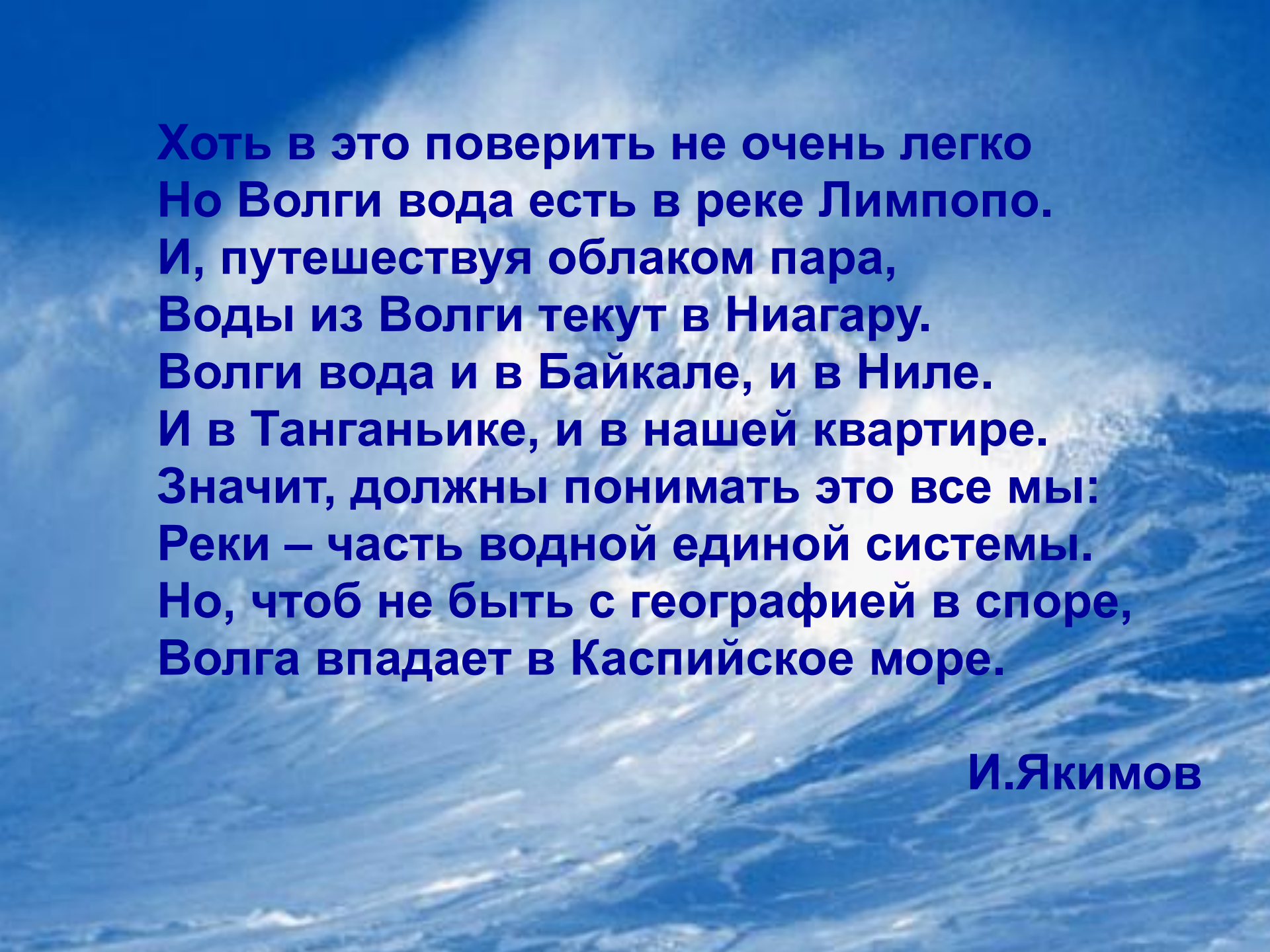
Воды суши

Ледники

Подземные
воды

Поверхностны
е

Воды в
атмосфере



**Хоть в это поверить не очень легко
Но Волги вода есть в реке Лимпопо.
И, путешествуя облаком пара,
Воды из Волги текут в Ниагару.
Волги вода и в Байкале, и в Ниле.
И в Танганьике, и в нашей квартире.
Значит, должны понимать это все мы:
Реки – часть водной единой системы.
Но, чтоб не быть с географией в споре,
Волга впадает в Каспийское море.**

И.Якимов

Перенос влаги

Перенос влаги

Осадки

Осадки

Осадки

Испарение

Океан

Подземные воды





Материки - огромные участки суши, омываемые водой.

Острова - сравнительно небольшие участки суши, омываемые водой.

Архипелаг - группа островов, лежащих недалеко друг от друга

Полуостров - участки материков и островов глубоко вдающиеся в океан

A scenic view of the ocean at sunset. The sky is a mix of orange, yellow, and red, with the sun low on the horizon. Several sailboats with dark sails are visible on the water. The text 'Узнай океан!' is overlaid in the center in a blue, outlined font.

Узнай океан!

Самый большой и самый глубокий
на земном шаре.

По площади он больше, чем вся суша,
поэтому его называют Всемирным океаном.

A photograph of a sunset over the ocean. The sun is a bright orange semi-circle on the horizon, with a gradient sky transitioning from orange to blue. The water is dark blue with some ripples. The text 'Тихий океан' is overlaid in a yellow, stylized font with a black outline. The word 'Тихий' is on the left, and 'океан' is on the right, with a small 'u' above the 'и' in 'Тихий'.

Тихий океан

Второй по величине и менее глубокий. Он омывает Америку с востока, а Евразию и Африку – с запада.

АТЛАНТИЧЕСКИЙ ОКЕАН



Он занимает третье место по площади. В основном находится в Южном полушарии.



Индийский океан

Наименьший из океанов. Большая часть его почти круглый год покрыта льдом. Находится на самом севере планеты, поэтому все берега у него южные.

СЕВЕРНЫЙ ЛЕДОВИТЫЙ ОКЕАН



Новые термины и понятия:


Море – часть океана, отделенная от него островами или полуостровами, отличающаяся от океана свойствами воды и обитателями.



Пролив – узкое водное пространство, ограниченное с двух сторон берегами материков или островов.



Залив – часть океана, моря, вдающаяся в сушу, но свободно сообщаящаяся с океаном.



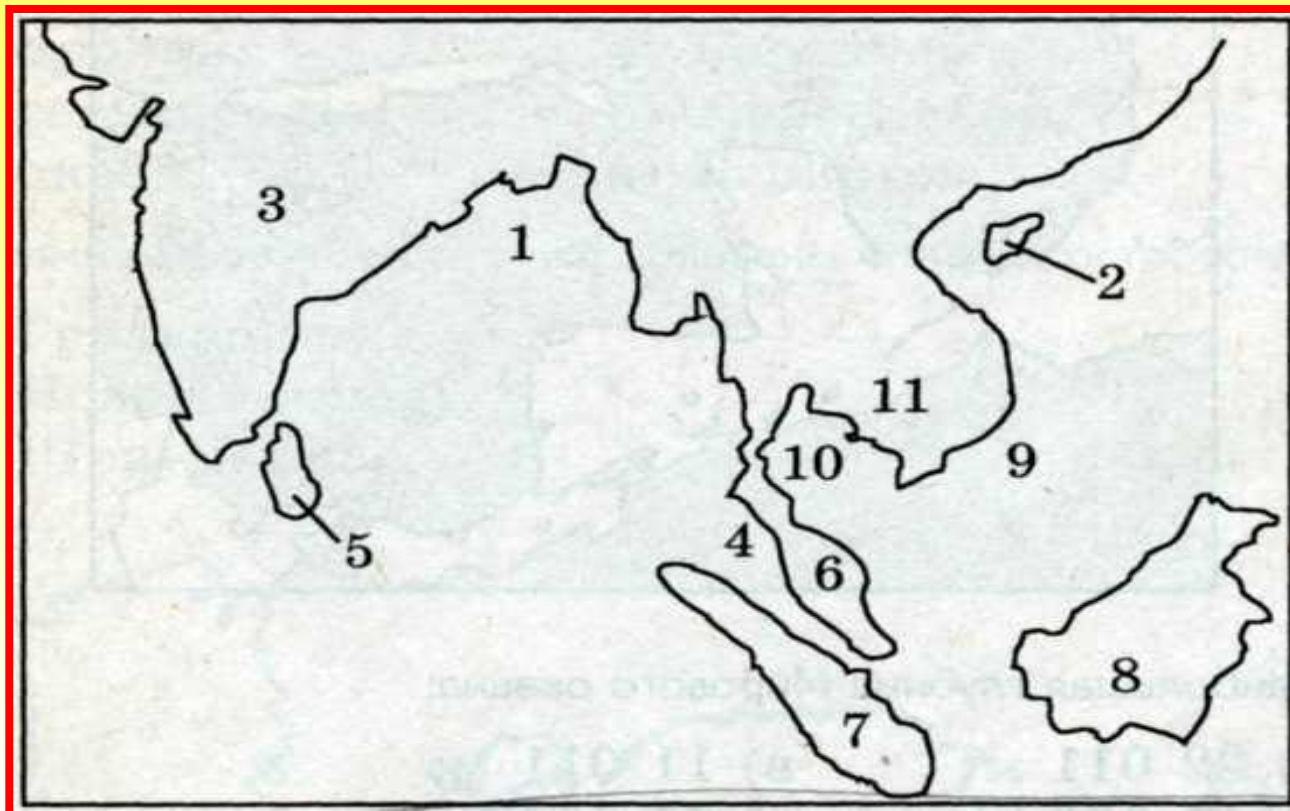
Задание: Найти на рисунке какими цифрами на карте обозначены:

а) острова **5,7,8,2.**

в) проливы **4,9.**

б) полуострова **3,11,6.**

г) заливы **1,10**



Задание на дом:

§24

на контурной карте полушарий
отметить объекты,
встречающиеся в параграфе.