



**Численность и воспроизводство населения.
Тренажёр и проверочный тест.**

**Жидовкина Галина Петровна
учитель географии МБОУ "СОШ №3"
г.Дальнереченск**



Дорогой друг!

Его первый уровень представляет собой тренажёр, с помощью которого ты можешь вспомнить форму правления и типы стран современного мира и усовершенствовать свои умения и навыки.

Второй уровень – проверочный тест по теме за который ты получишь отметку.

Надеемся, что эти занятия помогут тебе успешно совершенствовать знания по географии.

Желаем удачи!

[Перейти к тренажёру](#)

[Перейти к тесту](#)

Инструкция по работе с учебным тренажёром

1. Каждое задание имеет 4 варианта ответа. Ты должен выбрать один правильный.
2. Если ты выбрал правильный ответ, появится **«ПЛЮС»**.
3. Если ты выбрал неверный ответ, появится **«МИНУС»**.
4. Переход к следующему заданию осуществляется по кнопке внизу.

Желаю удачи!



Укажите страну с самым низким показателем естественного прироста населения:

Франция 




Алжир 

Монголия 

Мозамбик 







Укажите пару стран с самыми высокими показателями естественного прироста населения:

- Болгария и Швеция 
- Россия и Польша 
- Бразилия и Мексика 
- Германия и Великобритания 



В каких трёх из перечисленных стран ожидаемая продолжительность жизни населения наибольшая?

- Пакистан, Сирия и Колумбия** 
- Япония, Великобритания и Австрия** 
- Мьянма, Таиланд и Непал** 
- Индия, Мексика и Германия** 



Самая высокая смертность среди регионов мира наблюдается:

в Зарубежной Азии 





в Зарубежной Европе 

в Латинской Америке 

в Африке 



**Выделите страну с самым высоким показателем
естественного прироста населения**

- Италия 
- Швеция 
- Нигерия 
- Япония 



В какой из перечисленных стран показатель младенческой смертности наибольший?

Бразилия 

Эфиопия 

Турция 

Бразилия 



В каком из высказываний содержится информация о воспроизводстве населения:



Во многих странах Европы смертность на каждую тысячу жителей превышает рождаемость, в результате чего численность населения снижается?



В результате гражданской войны в Либерии были вынуждены покинуть места обитания 500 тыс. человек.



В настоящее время на долю развивающихся стран приходится 4/5 всего ежегодного прироста городских жителей в мире.




В России, в странах зарубежной Европы, Северной Америки показатель экономически активного населения превышает среднемировой -45%.




В какой из перечисленных стран доля неграмотных среди лиц старше 15 лет наименьшая?

Ливия 


Латвия 

Бразилия 


Боливия 




В каком из высказывании содержится информация о воспроизводстве населения?

 В целом по России, городское население моложе сельского.



 Главная полоса расселения, занимающая 1/3 территории России, сосредотачивает 93% населения страны.







 В конце XIX века в России на 1 тыс. жителей рождалось около 50 человек, а умирало 35 человек.



 В последние годы массовыми стали сезонные переселения горожан в сельскую местность.



В какой из перечисленных стран самая низкая рождаемость?

- Индия** 
- Кувейт** 
- Чили** 
- Австралия** 



Как ты оцениваешь свою работу на тренажёре?

Знания отличные! Перехожу к тесту!

**Было много ошибок, необходимо поработать с
правилом.**



Инструкция по работе с тестом



1. Проверочный тест состоит из 10 заданий. Каждое задание имеет 4 варианта ответа, один из которых - правильный.
2. Прежде чем нажимать переключатель, хорошо подумай, потому что, ответив, ты перейдёшь к следующему вопросу и не сможешь внести изменения в свой ответ.
3. Чтобы узнать свой результат, нажми на кнопку **«Результат»**. Ты увидишь общее число верных ответов, отметку за тест и таблицу результатов по каждому вопросу.
4. Ты можешь просмотреть свои ошибки, нажав на соответствующую кнопку. Переход от слайда к слайду в режиме просмотра ошибок важно производить по кнопкам в нижнем правом углу слайда.
5. Если хочешь повторить тест, то обнули результат (кнопка «Сброс результатов») и нажми на кнопку «Повторить тест».



Численность населения Земли в настоящее время составляет примерно:

7 млрд.чел



5 млрд.чел



4 млрд.чел



3млрд.чел



В какой из перечисленных стран численность населения наибольшая?



Бразилия



Индонезия



Япония



США



В какой из перечисленных стран осуществляется активная государственная политика, направленная на стимулирование рождаемости?

- Алжир 
- Ливия 
- Франция 
- Кения 



Для какой из перечисленных стран характерен наибольший естественный прирост населения (на 1 тыс. жителей)?



Италия



Нигерия





Польша



Канада



В каком из высказываний содержится информация о процессе воспроизводства населения?

- Численность населения — один из важных факторов развития любой страны и всего человечества. 
- В среднем в мире к экономически активному населению можно отнести около 49% всего населения. 
- Решающее воздействие на рождаемость, смертность, естественный прирост оказывают социально-экономические условия жизни людей. 
- В 1990 г. в мире было около 960 млн. неграмотных, с тех пор общее число неграмотных сократилось на 100 млн. 



Определите регион, который концентрирует более половины населения Земли:

Зарубежная Азия



Африка



Латинская Америка



Северная Америка



Выберите две страны, которые входят в десятку мировых лидеров по численности населения:

- Германия и Мексика 
- Бангладеш и Германия 
- Бразилия и Бангладеш 
- Мексика и Бразилия 



Укажите страну с самым высоким показателем естественного прироста населения:



Аргентина



Ангола







Болгария



Германия



В каких трёх из перечисленных стран ожидаемая продолжительность жизни населения наибольшая?

- Великобритания, Франция, Финляндия 
- Германия, Австрия, Бразилия 
- США, Австралия, Мексика 
- Великобритания, Индия, Венесуэла 



Укажите пару стран с самым низким показателем естественного прироста населения:

Афганистан и Малайзия 

Сирия и Иран 

Боливия и Алжир 

Бельгия и Швейцария 



Подведём итоги

Верных ответов

Отметка

1	2	3	4	5	6	7	8	9	10
<u>В</u>	<u>В</u>	<u>В</u>	<u>В</u>	<u>В</u>	<u>В</u>	<u>В</u>	<u>В</u>	<u>В</u>	<u>В</u>

Просмотр ошибок

Литература:

1. http://it-n.ru/communities.aspx?cat_no=130742&tmpl=com
Захарова Т.А., Байдакова
2. ЕГЭ-2011. Типовые экзаменационные варианты под редакцией В.В.Барабанова. М., Национальное образование, 2011

