

ГЕОГРАФИЧЕСКАЯ КАРТА



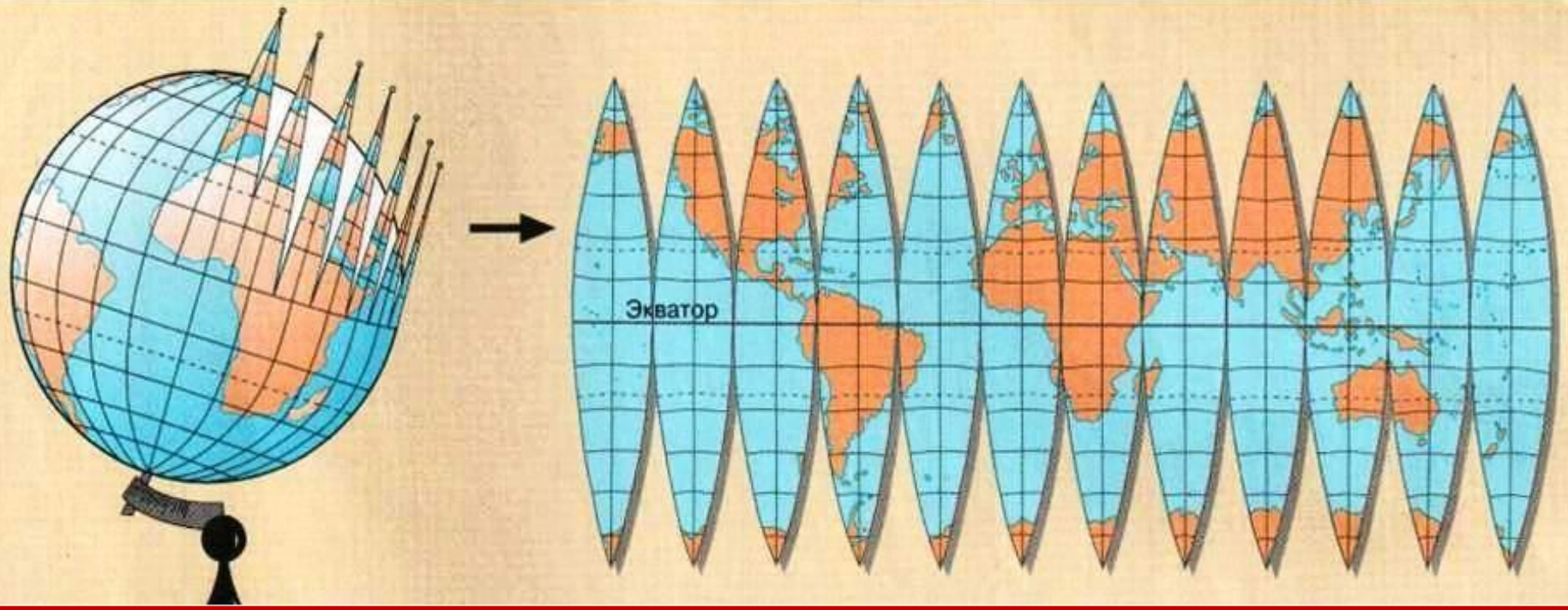


Географическая карта – это:

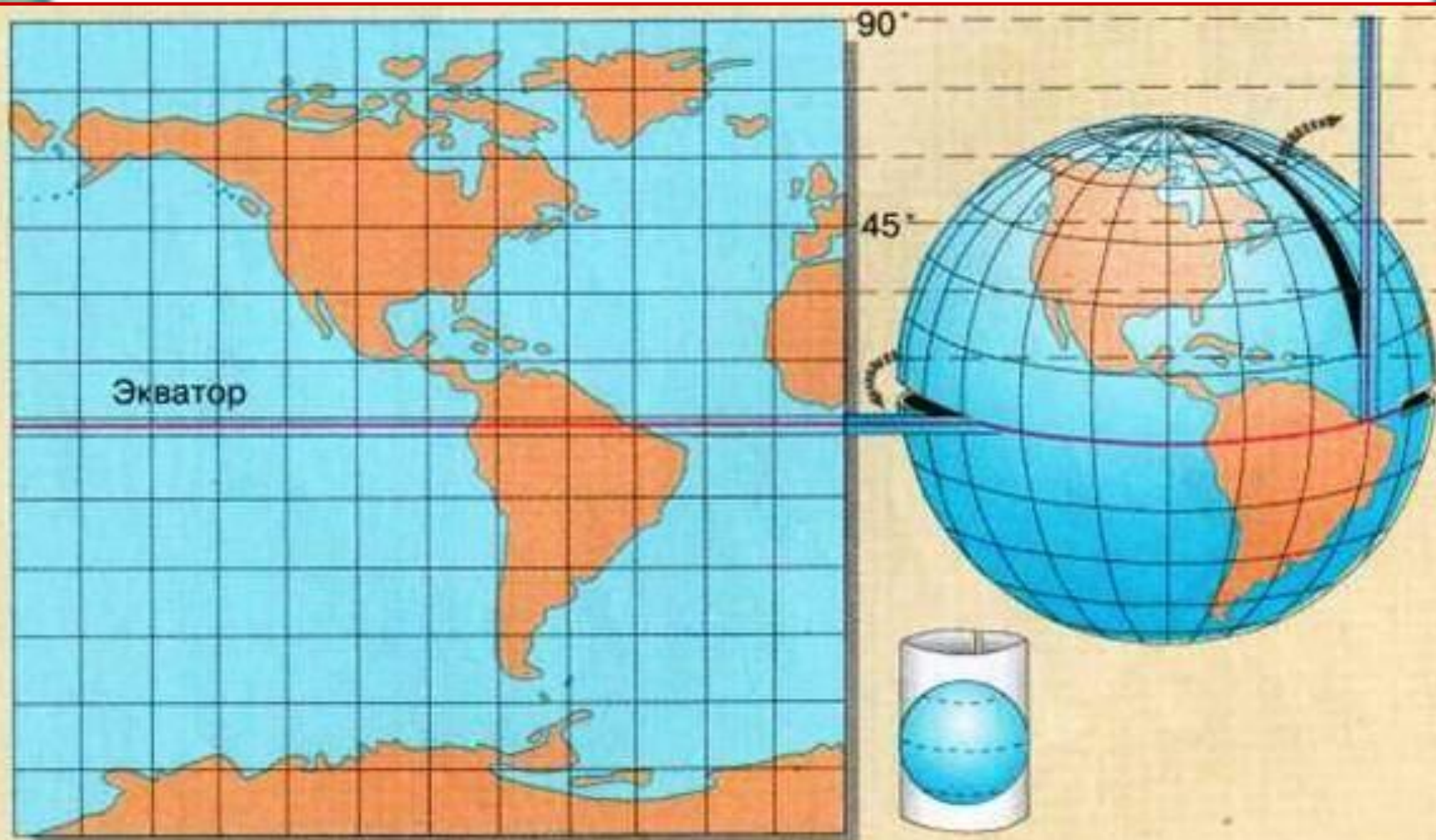
- чертеж поверхности Земли;
- на плоскости;
- в системе географических координат;
- в масштабе;
- с помощью условных знаков.



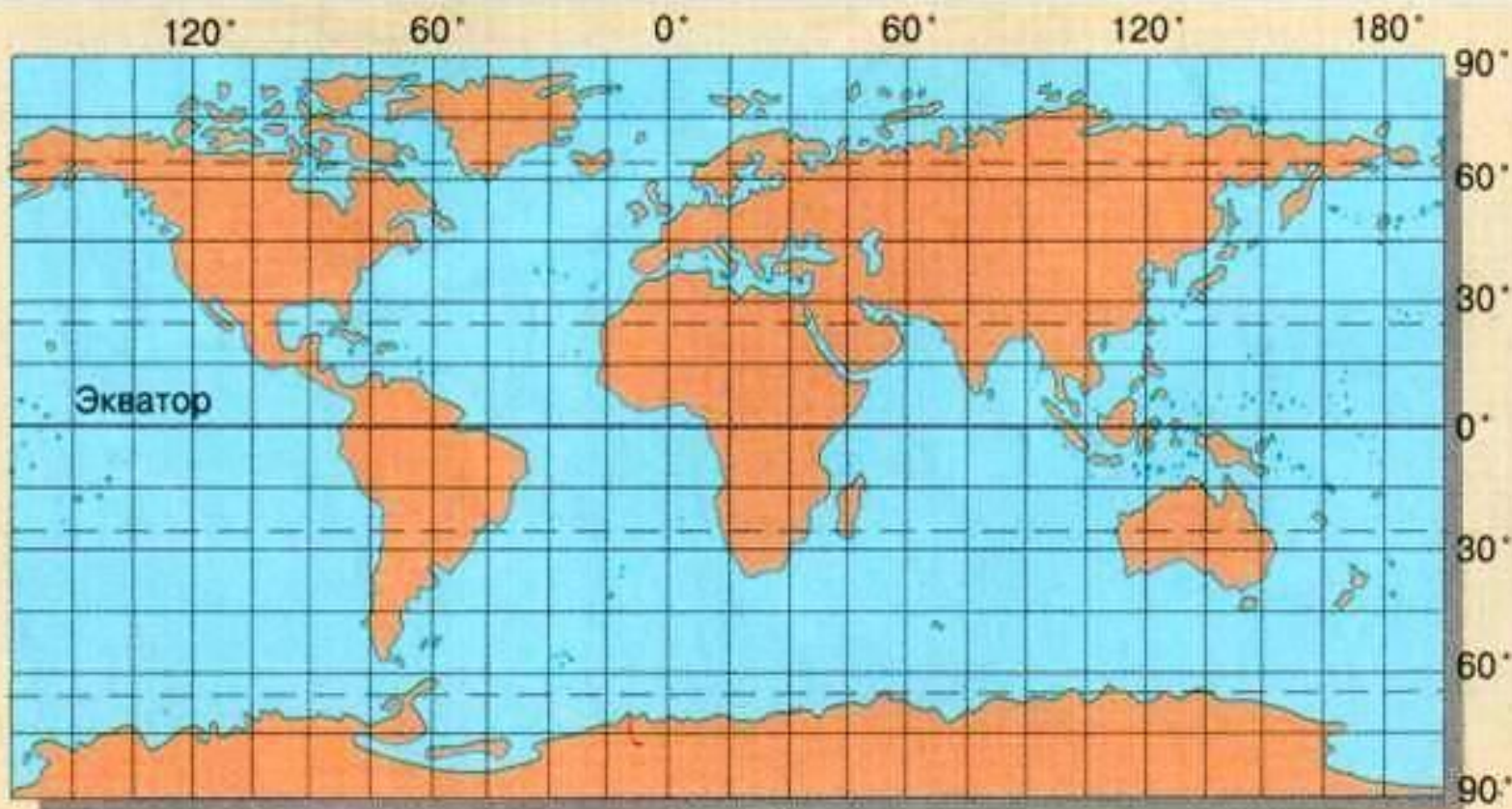
Переход от глобуса – к карте



При разворачивании в плоскость поверхности земного шара образуются разрывы. Чтобы заполнить их, производят растяжения в местах разрывов. При этом возникают искажения углов, длин, линий, площадей.



По карте полушарий измерять расстояние с помощью масштаба можно только в частях, близких к экватору и среднему меридиану, где нет больших искажений длин, так как искажения увеличиваются от экватора к полюсам.





Влияние географических карт

По масштабу

По содержанию



По охвату территории



Масштаб – это величина, показывающая насколько отрезок (расстояние) на карте меньше, чем на самой местности.

ВИДЫ МАСШТАБА



Карта Санкт-Петербурга в разных масштабах



Виды географических карт по масштабу

Крупномасштабные

- от 1 : 10 000 до 1 : 20 000

Среднемасштабные

- От 1 : 200 000 до 1 : 1 000 000

Мелкомасштабные

- Мельче 1 : 1 000 000

Карта масштаба

1 : 500 000

относится к:

- а) крупномасштабным
- б) среднемасштабным
- в) мелкомасштабным

Задания по масштабу:

1. Переведите численный масштаб – в именованный:

- а) 1 : 4 000
- б) 1 : 50 000
- в) 1 : 900 000
- г) 1 : 700
- д) 1 : 10 000 000
- е) 1 : 350 000



2. Переведите именованный масштаб – в численный:

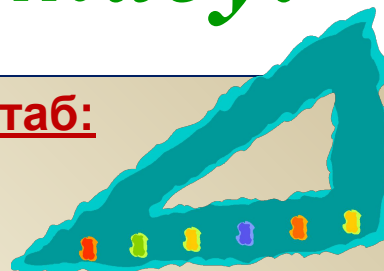
- а) в 1 см 50 м
- б) в 1 см 7 км
- в) в 1 см 600 м
- г) в 1 см 30 км
- д) в 1 см 400 км
- е) в 1 см 8 000 км



Задания по масштабу:

3. Изобразите линейным масштабом масштаб:

- в 1 см 35 км



4. Изобразите линейным масштабом расстояние в 300 м:

- а) в 1 см 100 м
- б) в 1 см 30 м



5. Начертите отрезок длиной 50 м в масштабе 1 : 1 000

6. Карта какого масштаба карта крупнее и во сколько раз?

- а) 1 : 500 000 или б) 1 : 10 000 000
- в) 1 : 300 000 или г) в 1 см 5 км
- д) в 1 см 100 км или е) в 1 см 275 км

Задания по масштабу:

7. Мальчик начертил план местности, где расстояние от дома до школы равнялось 5 см. Каков масштаб плана, если на местности это расстояние равно:

- а) 500 м
- б) 1 000 м



8. Распределите карты по мере уменьшения подробности и охвата изображаемой территории:

- а) М – 1 : 1 000 000
- б) М – 1 : 10 000
- в) М – 1 : 250 000
- г) М – 1 : 100 000



9. По плану местности в учебнике определите расстояние:

- а) от озера Синего до загона
- б) от деревянного моста до колодца с ветряным двигателем



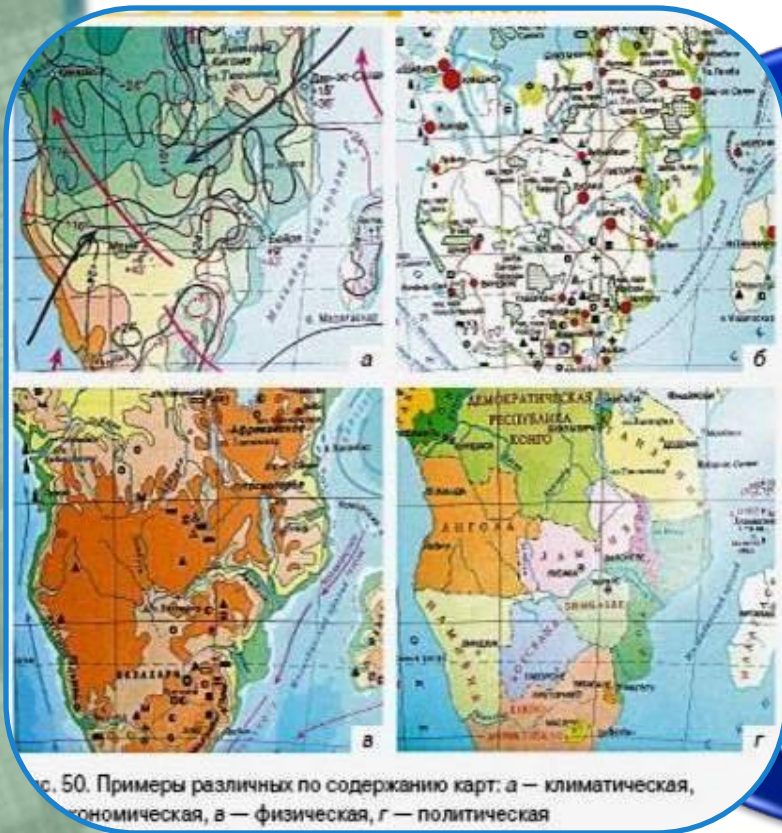
Атлас – это собрание географических карт разной тематики для единой территории района, страны, мира.

Слово **«атлас»** введено Герардом Меркатором в XVI веке в честь мифического короля Ливии Атласа, якобы изготовившего небесный глобус.

Таблица по атласу

<i>Виды географических карт атласа</i>	<i>Что изображено</i>	<i>Масштаб</i>

Виды географических карт по содержанию



Общегеографические

Тематические

рис. 50. Примеры различных по содержанию карт: а — климатическая, б — экономическая, в — физическая, г — политическая



Карта погоды