

# Евразия - самый Евразия уникальный материк Земли



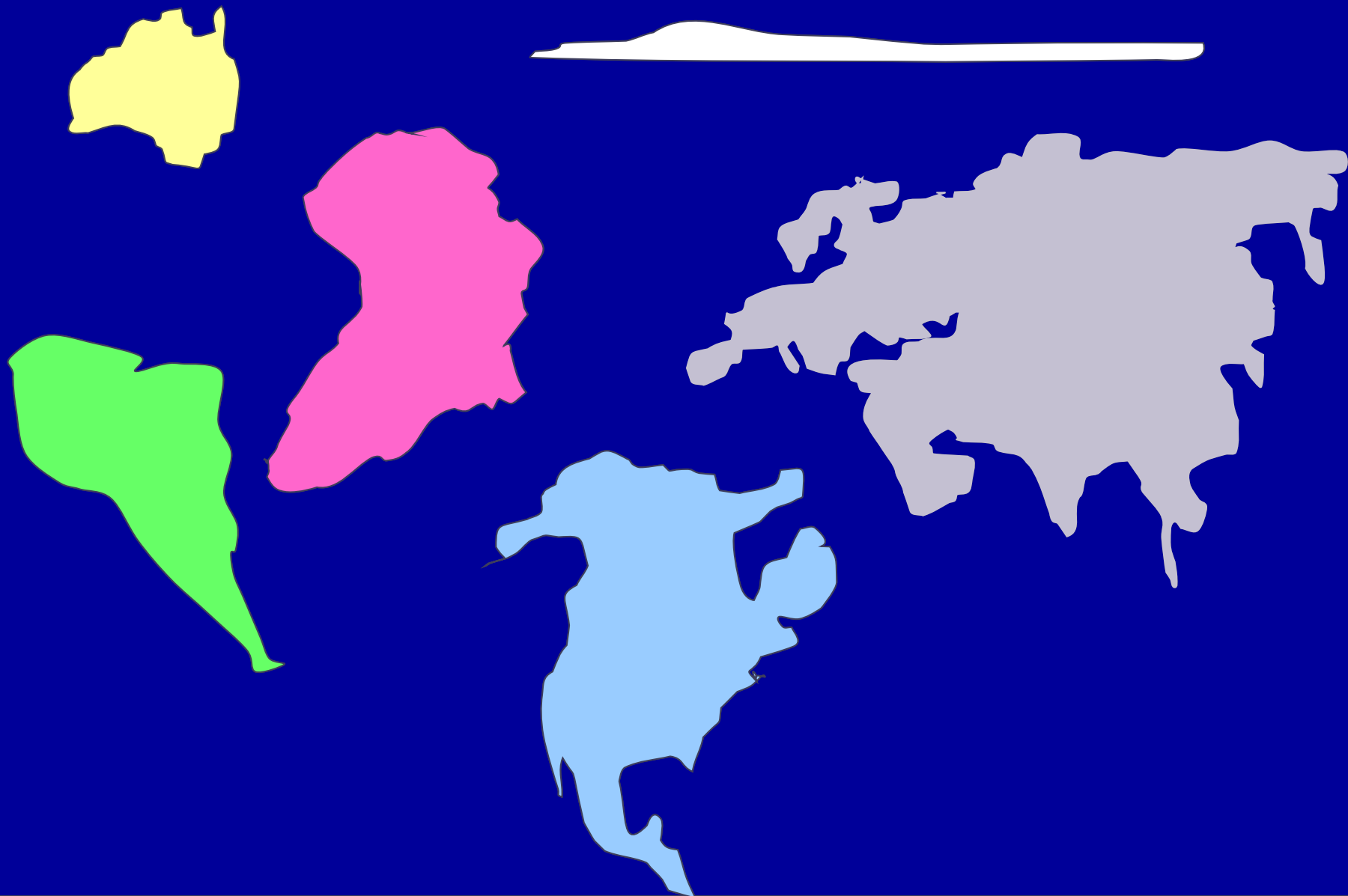
**Учитель географии МОУ «СОШ № 39» г. Рязани  
Нехаева Екатерина Александровна**

# Цели урока

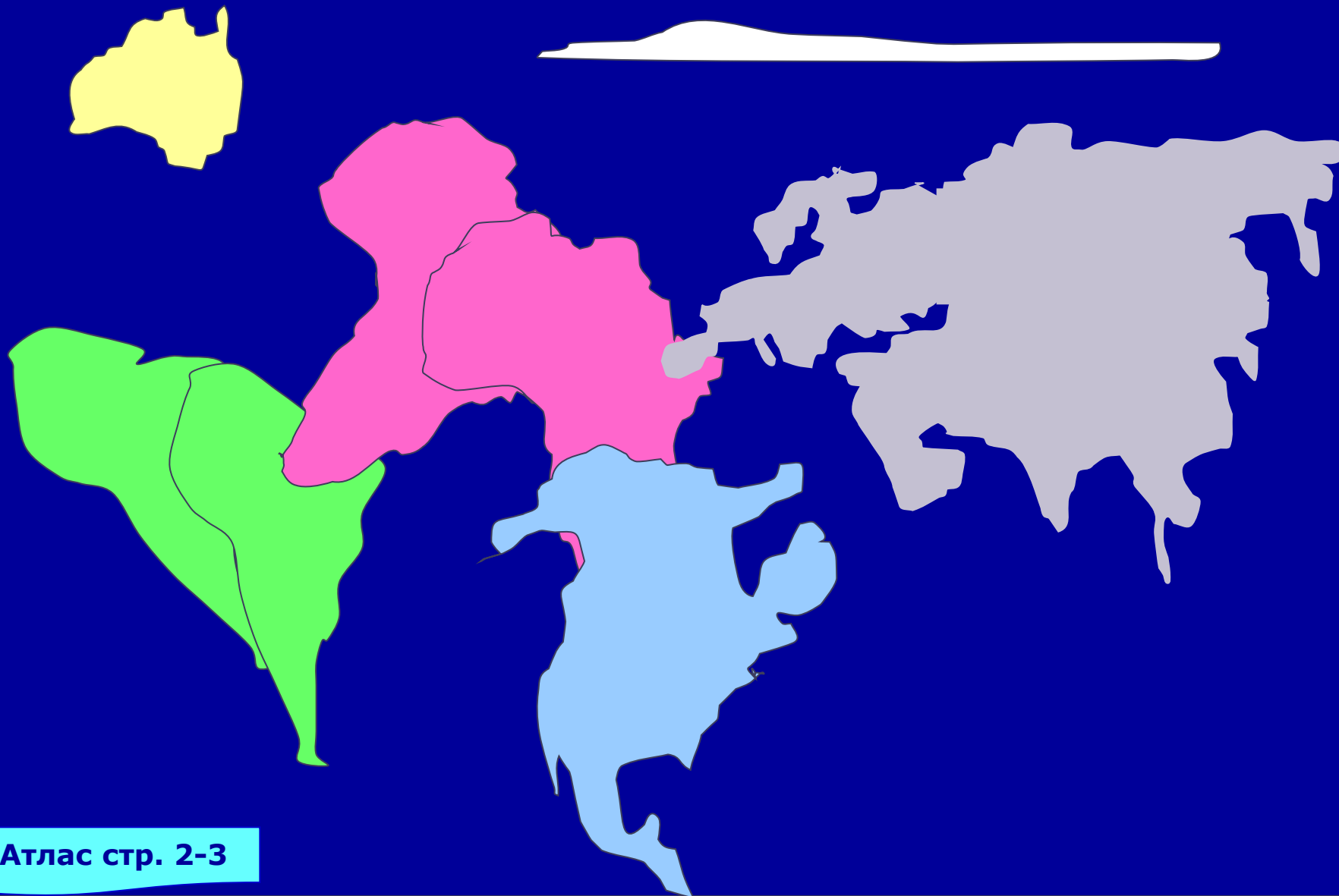
1. Отработать ранее полученные знания и умения в определении физико-географического положения материков
- 2 .Сделать вывод о том, как географическое положение будет влиять на природу Евразии
3. Выявить такие особенности материка, которые делают его неповторимым, уникальным, отличным от других материков.

1

# Модель карты Мира



# Модель карты Мира



# Модель карты Мира



к западу от Гринвича

0° к востоку от Гринвича

180°

Северный полярный круг

24,2 млн. км<sup>2</sup>

# Самый большой материк!

30,5 млн. км<sup>2</sup>

Северный тропик

Экватор

17,8

млн. км<sup>2</sup>

Южный тропик

9 млн.  
км<sup>2</sup>14 млн. км<sup>2</sup>

# Модель карты Мира

к западу от Гринвича

0° к востоку от Гринвича

180°

Расположен в

четырёх полушариях!

Северный полярный круг

Северный тропик

Экватор

Южный тропик

# Модель карты Мира

к западу от Гринвича    0°    к востоку от Гринвича    180°





Крайние восточная и западная точка,

находятся в западном

полушарии, а большая часть

материка в восточном!

1



2



# Крайние точки Евразии

3



Атлас стр.  
38-39

4



# Крайние точки Евразии



По каким признакам вы определили, что именно это изображение соответствует данной крайней точке?



**Евразия находится**

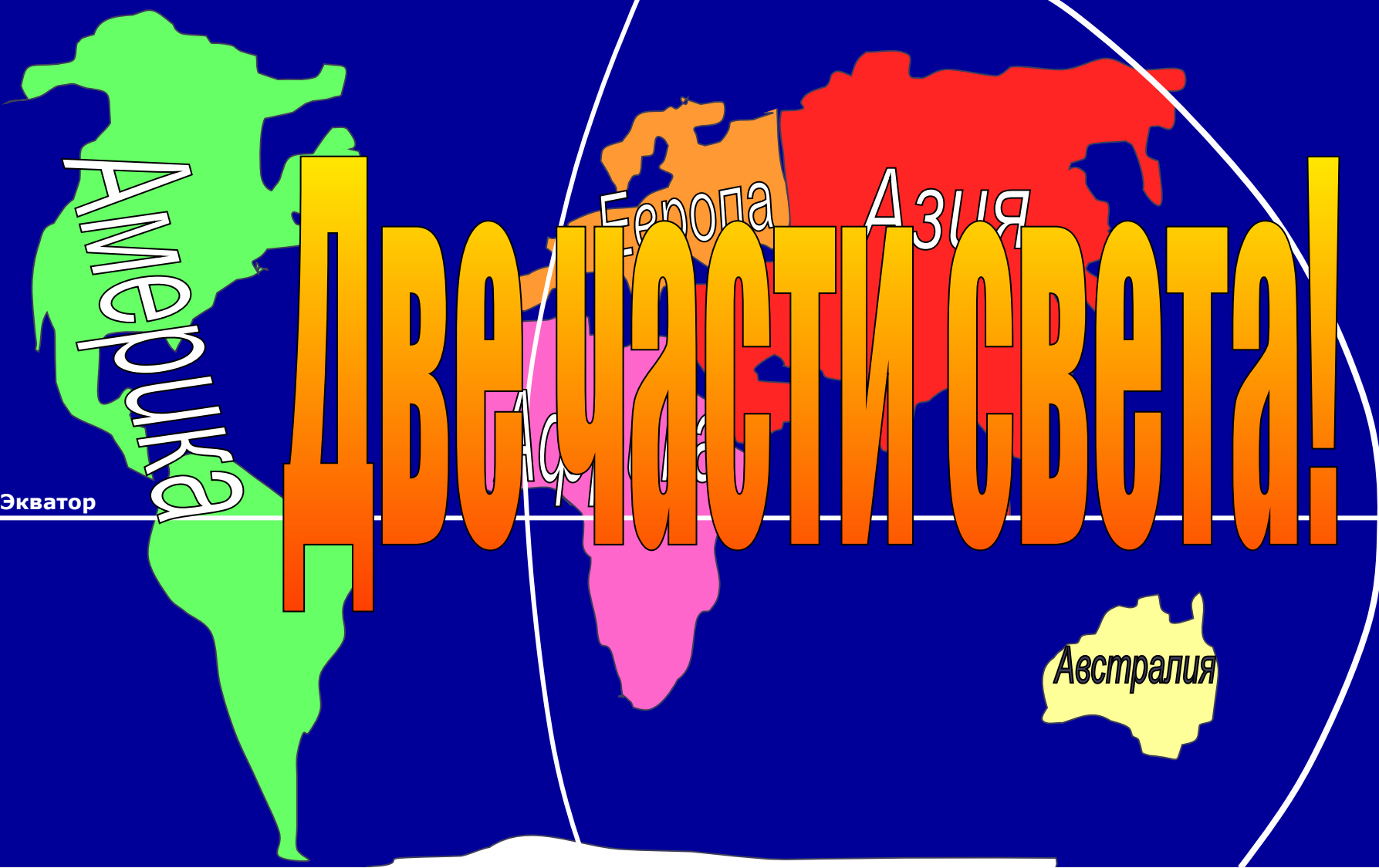
**во всех климатических**

**поясах**

**северного полушария!**

# Части света

к западу от Гринвича    0°    к востоку от Гринвича    180°



Америка

Европа

Азия

Австралия


Экватор

Две части света!

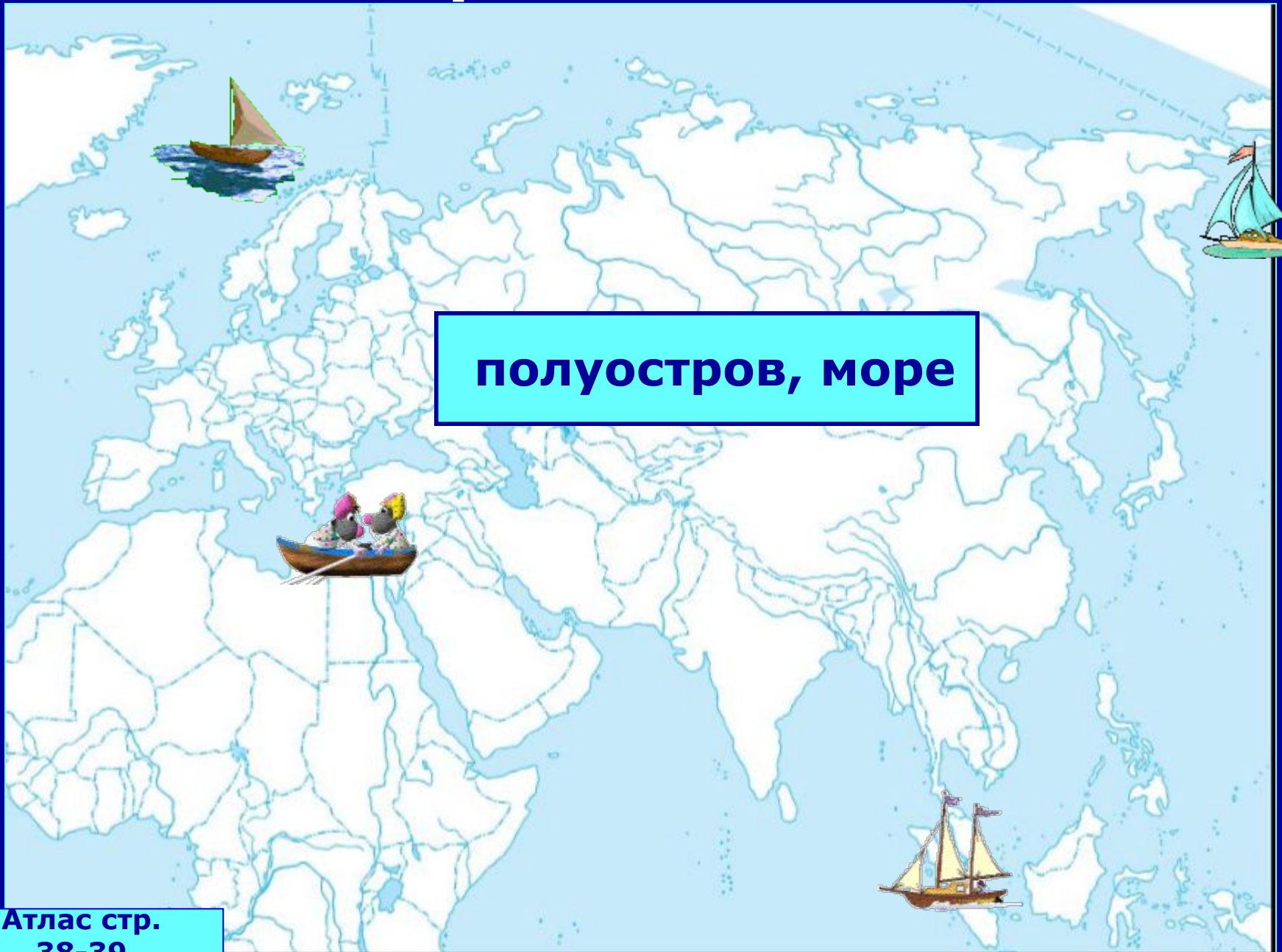
# Европа + Азия



# Самое влажное место на Земле



# Береговая линия



**полуостров, море**



# Самый, самый...



Как географическое положение влияет на природу Евразии

# Домашнее задание


**§ 59 , на контурной карте обозначить моря, острова, полуострова , течения у берегов Евразии**

## Для удовольствия

- 1. Составить буклет «Евразия - величайший массив суши»**
- 2. Разгадать кроссворд «Вокруг Евразии»**
- 3. Составить кроссворд «географические положение Евразии»**



# Кроссворд




1.			<b>В</b>							
2.			<b>О</b>							
3.			<b>К</b>							
		4.	<b>Р</b>							
			5.	<b>У</b>						
6.				<b>Г</b>						

## ВОКРУГ ЕВРАЗИИ

7.				<b>Е</b>						
			8.	<b>В</b>						
9.				<b>Р</b>						
			10	<b>А</b>						
11				<b>З</b>						
12				<b>И</b>						
		13		<b>И</b>						



# Кроссворд



	А	Р	А	В	И	Й	С	К	И	Й		
	И	Н	Д	О	С	Т	А	Н				
И	Н	Д	О	К	Й	Т	А	Й				
		К	О	Р	Е	Я						
			К	У	Р	И	Л	Ь	С	К	И	Е
Б	Е	Р	И	Н	Г	О	В					

13. Самый крупный остров у берегов Европы.

	В	Р	А	Н	Г	Е	Л	Я														
				Н	О	В	О	С	И	Б	И	Р	С	К	И	Е						
Т	А	Й	М	Ы	Р																	
				К	А	Р	С	К	О	Е												
Н	О	В	А	Я	З	Е	М	Л	Я													
С	К	А	Н	Д	И	Н	А	В	С	К	И	Й										
			В	Е	Л	И	К	О	Б	Р	И	Т	А	Н	Й	Я						



Спасибо за урок