

ЕВРАЗИЯ



Содержание урока

1. Размеры материка

2. Крайние точки


3. Протяженность Евразии

4. Граница между Европой и Азией


5. Береговая линия

Размеры материка


Какова площадь поверхности Земли?




Какова площадь поверхности суши?



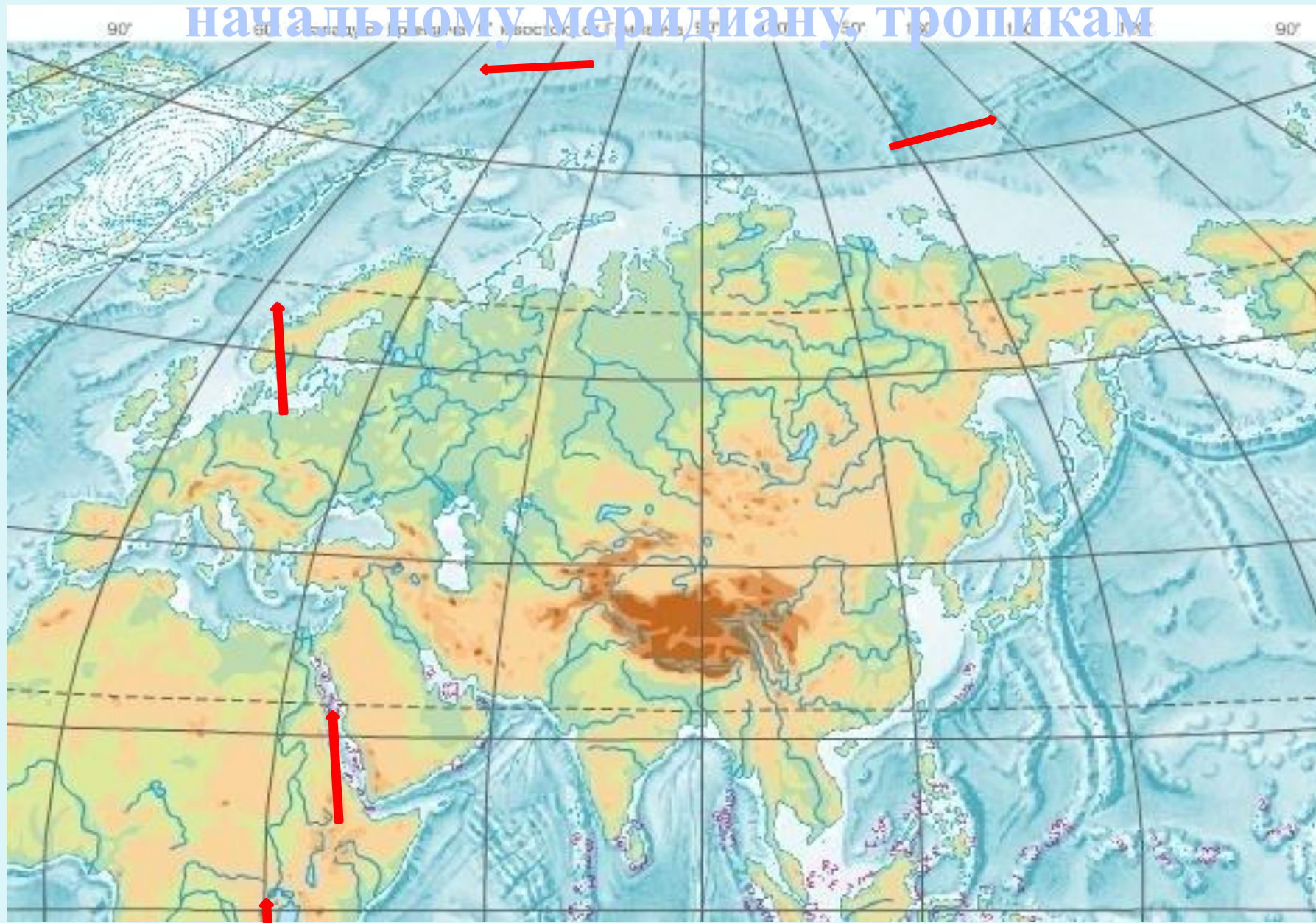
Какова площадь материка Евразия?



Какие материки могут поместиться на территории Евразии вместе взятые?



Расположение по отношению к экватору, начальному меридиану, тропикам



Крайние точки

мыс Челюскин

77°43' с. ш.




мыс Дежнева

169°40' з. д.



мыс Рока

9°30' з. д.



1°16' с. ш.

мыс Пиай



Найдите на карте крайние точки материка,
определите их координаты

Масштаб 1:63 000 000

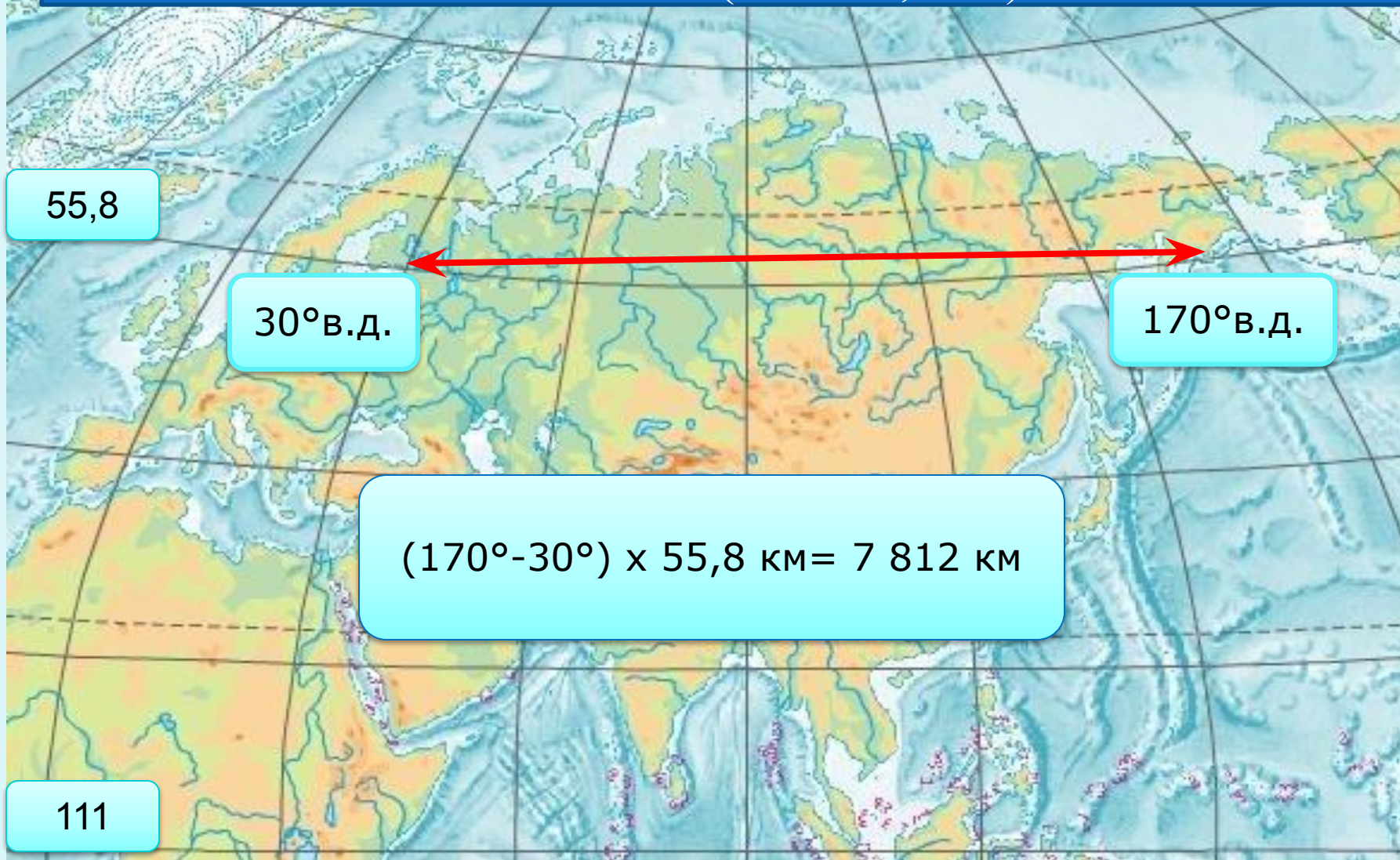
Крайние островные точки



Южный остров (Кокосовые острова) $12^{\circ}4'$ ю. ш.
Остров Ратманова (острова Диомиды) $169^{\circ}0'$ з. д.
Мыс Флигели (архипелаг Земля Франца-Иосифа), $81^{\circ}51'$ с. ш.
скала Моншик (Азорские острова) $31^{\circ}16'$ з. д.

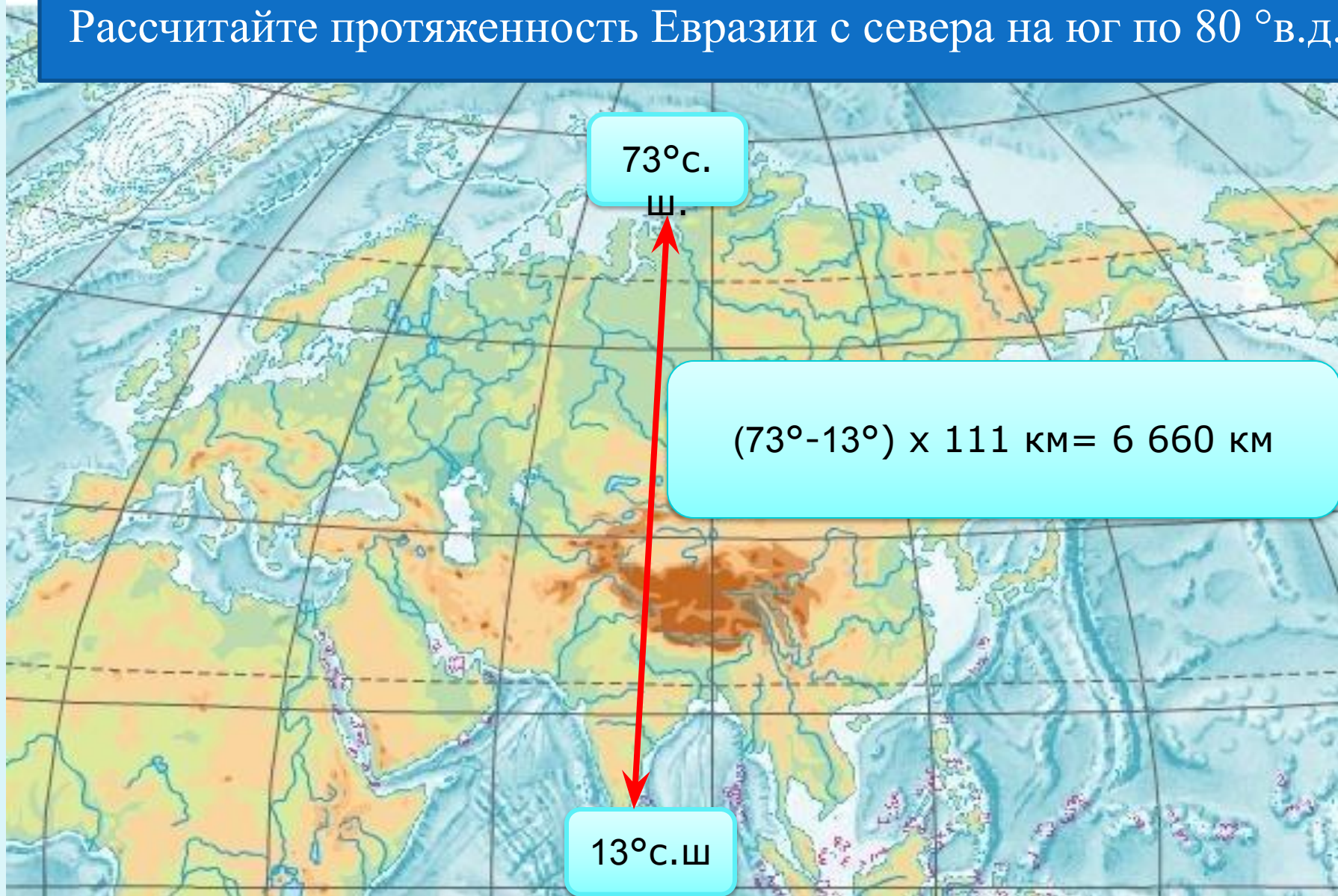
Протяженность Евразии

Рассчитайте протяженность Евразии с запада на восток по 60° с.ш. ($1^\circ - 55,8$ км).



Протяженность Евразии

Рассчитайте протяженность Евразии с севера на юг по 80° в.д.



Граница между Европой и Азией



Уральские горы- р.Эмба – северное побережье Каспийского моря – Кумо-Манычская впадина – Азовское море - Керченский пролив – Черное море – пролив Босфор – Мраморное море – пролив Дарданеллы – Средиземное море – Гибралтарский пролив

Береговая линия



полуостров, море

44 км

Сравнение ФГП Евразии и Северной Америки

Заполните таблицу

Черты сравнения

Как расположены по отношению к экватору, тропикам, нулевому меридиану

В каких климатических поясах расположены

Какие океаны омывают

Как расположен относительно других материков

Евразия

Северная Америка

Береговая линия

Отметьте на контурной карте цифрами следующие объекты

Моря

1 Баренцево

2 Балтийское

3 Северное

4 Аравийское

5 Японское

Полуострова

6 Таймыр

7 Кольский

8 Скандинавский

9 Чукотский

10 Индостан

11 Индокитай

12 Корея

Заливы, проливы

13 Финский

14 Босфор

15 Малаккский

Острова

16 Новая Земля

17 Новосибирские

18 Шри-Ланка

19 Филиппинские

20 Большие Зондские

Литература

1. Душина И.В., Летягин А.А. Контурная карта с заданиями. Материки, океаны, народы и страны – М.: АСТ-Пресс школа, 2009
2. http://www.samfact.com/system/files/u2/Eurasia_Big.jpg - карта Евразии
3. http://www.chas-daily.com/win/2005/01/15/n012_portugal_lisbon- мыс Рока
4. http://www.maritim.com.ua/images/admin/ports/mys_dezhneva_2.jpg - мыс Дежнева
5. <http://photofile.ru/photo/phoenix11/2070306/large/33509793.jpg> - мыс Пиай
6. http://www.geo.ru/files/photo/album_image_9585.jpg?r=775139265 – мыс Челюскин
7. <http://ru.wikipedia.org/wiki/%D0%95%D0%B2%D1%80%D0%B0%D0%B7%D0%B8%D1%8F> – крайние точки
8. <http://img.meta.kz/2008-11/110793.jpg> - Кокосовые острова
9. <http://upload.wikimedia.org/wikipedia/commons/thumb/0/0e/BeringSt-close-VE.jpg/800px-BeringSt> - острова Диомиды
0. http://www.egoist-generation.ru/news/2003/pole/00624_small.jpg - мыс Флигели
1. http://www.avialine.com/img/photoreports/photoreport_337_5961.jpg - Азорские острова
2. http://geo.metodist.ru/index.php?option=com_content&task=view&id=35&Itemid=93 – примерный перечень географических объектов (номенклатура)
3. http://bookz.ru/authors/anatolii-pashalov/udivitel_329/pic_6.jpg - Мраморное море