



ФОТОАЛЬБОМ
ЕВРАЗИЯ


AMSTAL





































ФИЗИКО-ГЕОГРАФИЧЕСКОЕ ПОЛОЖЕНИЕ ЕВРАЗИИ



*Бойкова М.А. учитель географии МОУ «Есеновичская
СОШ»*

Цель урока:

*- сформировать представления
об особенностях
географического положения
материка Евразия.*

Содержание урока

1. Размеры материка

2. Крайние точки

3. Протяженность материка

4. Береговая линия


5. Исследовательская работа «Сравнение географического положения материков Евразия и Северная Америка»




Размеры материка

Размеры материка


Какова площадь поверхности Земли?




Какова площадь поверхности суши?



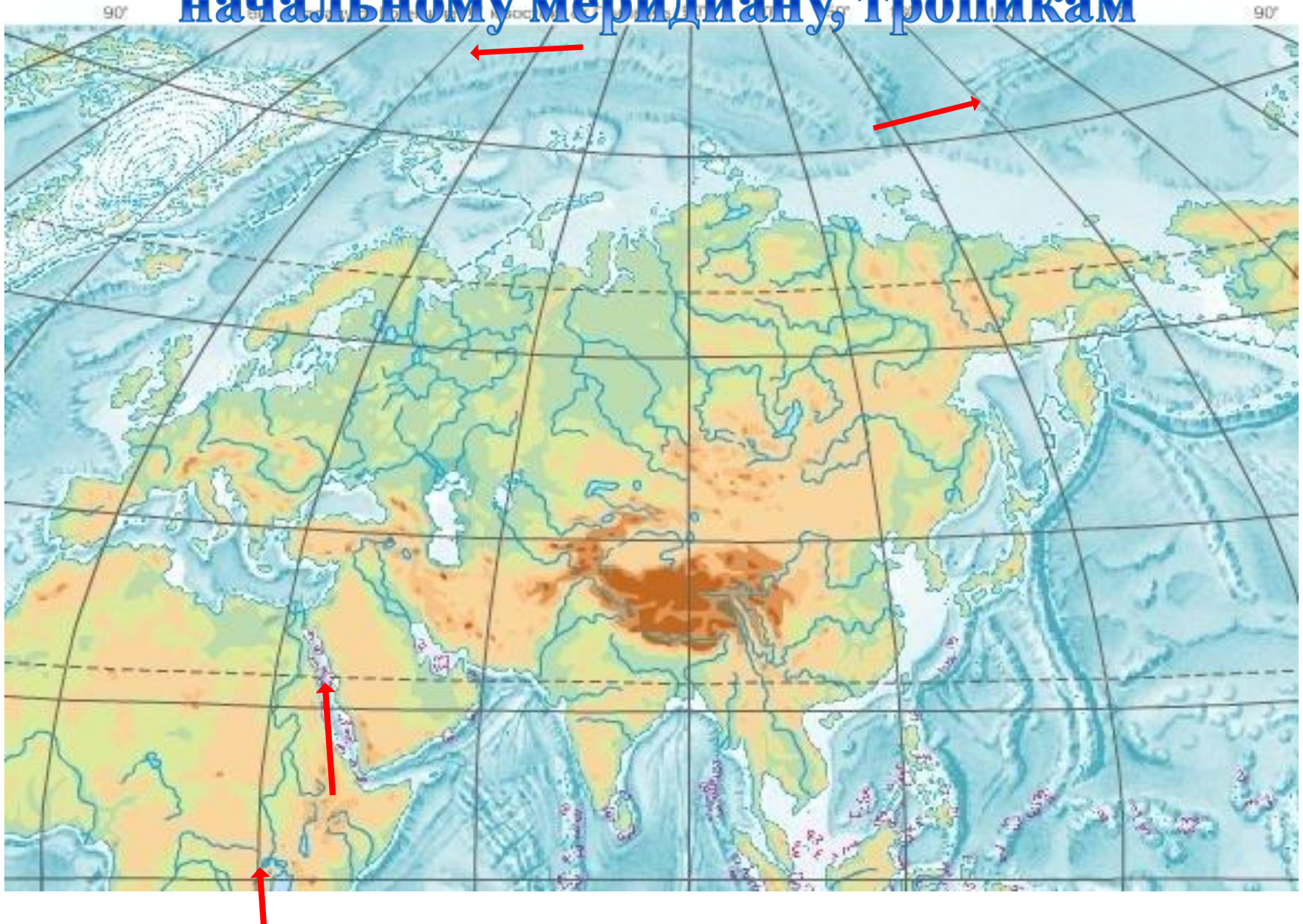
Какова площадь материка Евразия?



Какие материки могут поместиться на территории Евразии вместе взятые?



Расположение по отношению к экватору, начальному меридиану, тропикам



Крайние точки

мыс Челюскин

77°43' с. ш.




мыс Дежнева

169°40' з. д



мыс Рока

9°30' з. д

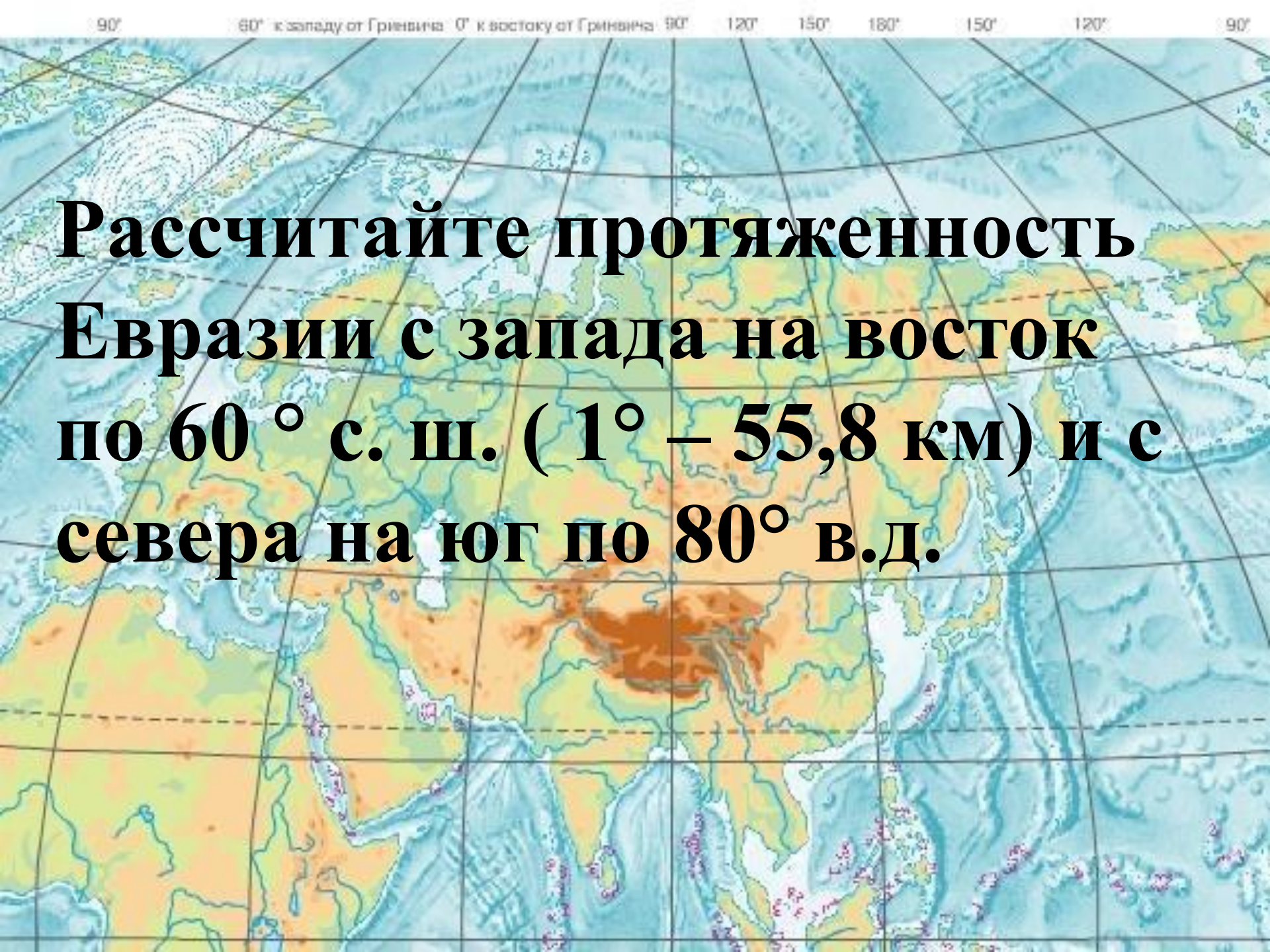


1°16' с. ш.

мыс Пиай



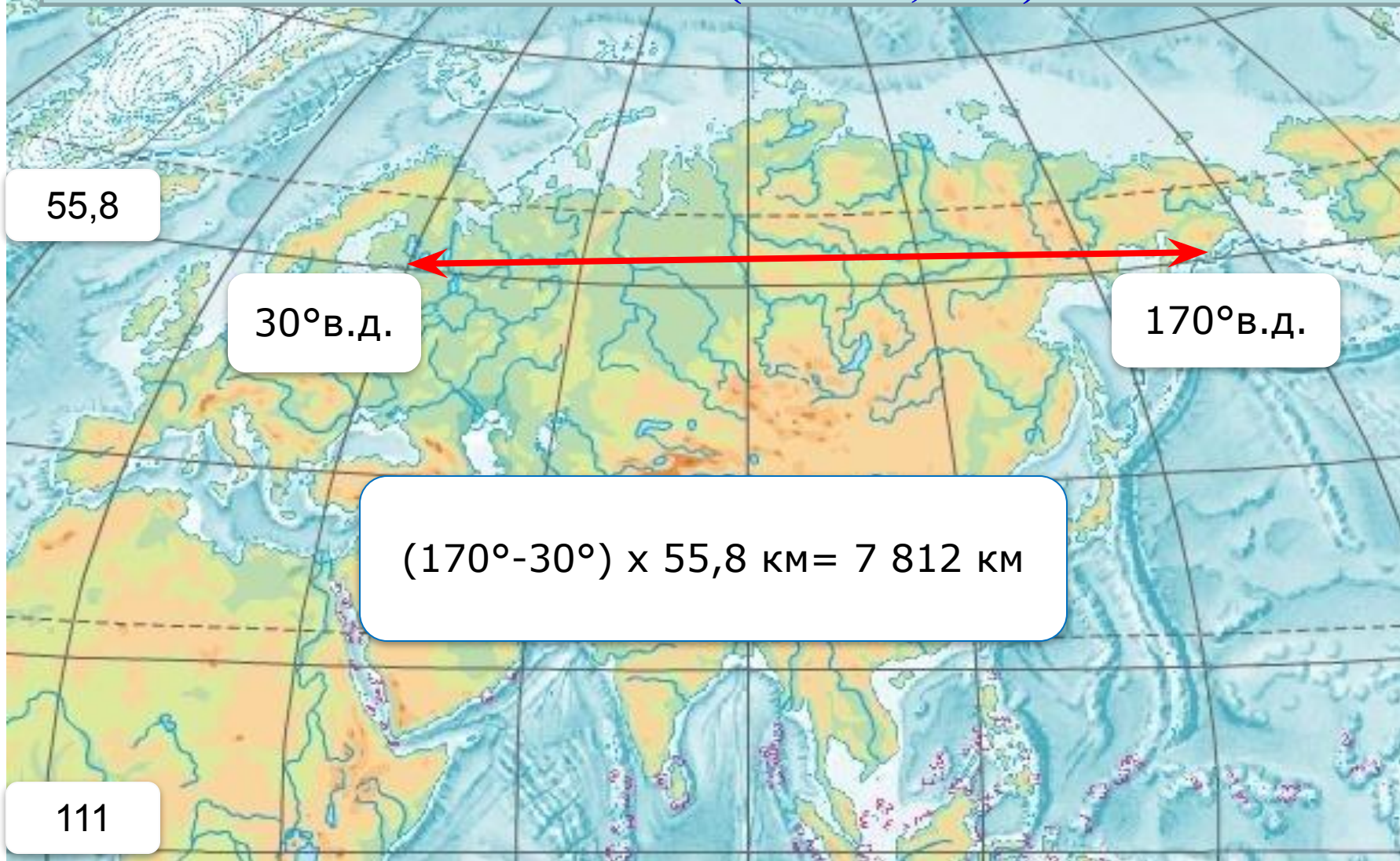
Найдите на карте крайние точки материка, определите их координаты



**Рассчитайте протяженность
Евразии с запада на восток
по 60° с. ш. (1° – 55,8 км) и с
севера на юг по 80° в.д.**

Протяженность Евразии

Рассчитайте протяженность Евразии с запада на восток по 60° с. ш. ($1^\circ - 55,8$ км).



55,8

30° в.д.

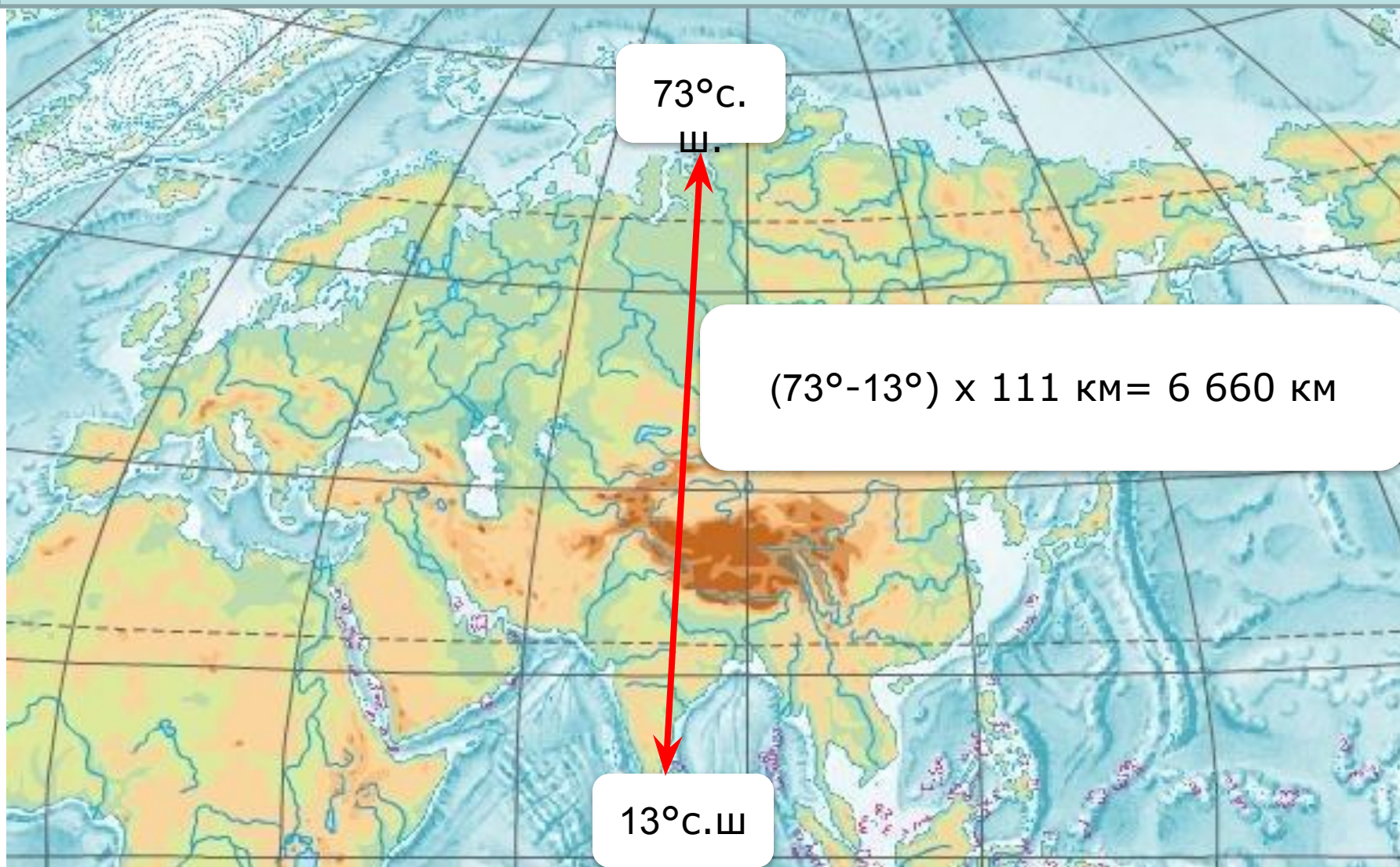
170° в.д.

$$(170^\circ - 30^\circ) \times 55,8 \text{ км} = 7\,812 \text{ км}$$

111

Протяженность Евразии

Рассчитайте протяженность Евразии с севера на юг по 80° в.д.



Береговая линия



полуостров, море

**Перечисляют крупные острова,
полуострова,
заливы, проливы всех океанов**

Домашнее задание.

§ 59

Работа в контурных картах.

Отметьте на контурной карте цифрами следующие объекты

Моря

1

Баренцево

2

Балтийское

3

Северное

4

Аравийское

5

Японское

Полуострова

6

Таймыр

7

Кольский

8

Скандинавский

9

Чукотский

10

Индостан

11

Индокитай

12

Корея

Заливы, проливы

13

Финский

14

Босфор

15

Малаккский

Острова

16

Новая Земля

17

Новосибирские

18

Шри-Ланка

19

Филиппинские

20

Большие
Зондские

**Исследовательская работа
«Сравнение географического
положения материков
Евразия и Северная Америка»**



Цель работы: выявить сходства и различия физико – географического положения материков Евразия и Северной Америки.

- Задачи:**
1. Сравнить положение материков по отношению к экватору, тропикам, нулевому меридиану.
 2. Определить, в каких климатических поясах расположены материки.
 3. Определить какие океаны омывают материк Евразия и материк Северная Америка.
 4. Изучить, как расположены относительно других материков.

Гипотеза: Материк Евразия отличается от материка Северной Америки так как имеет большую протяженность с севера на юг и с запада на восток.

Сравнение ФГП Евразии и Северной Америки

Черты сравнения

Как расположены по отношению к экватору, тропикам, нулевому меридиану

В каких климатических поясах расположены

Какие океаны омывают

Как расположен относительно других материков

Евразия

Северная Америка

A scenic landscape featuring a wide river in the foreground, a lush green field in the middle ground, and a range of mountains in the background under a clear blue sky. The text is overlaid in the center of the image.

*«Евразия –
величайший массив
суши».*



Вывод:

1. Евразия занимает 1/3 всей суши.

*2. Площадь Евразии составляет
54 млн. кв. км.*

*3. Вместе с островами Евразия
расположена во всех четырёх
полушариях.*

Интересные факты

- *Самый большой остров у берегов Евразии Великобритании.*
- *Самый большой полуостров - Аравийский.*
- *Самое большое по площади море - Средиземное.*
- *Самое мелкое море - Азовское.*
- *Самый большой залив - Бенгальский,*
- *«Цветные моря» - Черное, Красное, Желтое, Белое.*

Спасибо

за работу на уроке!!!

