

Географические координаты

6 класс

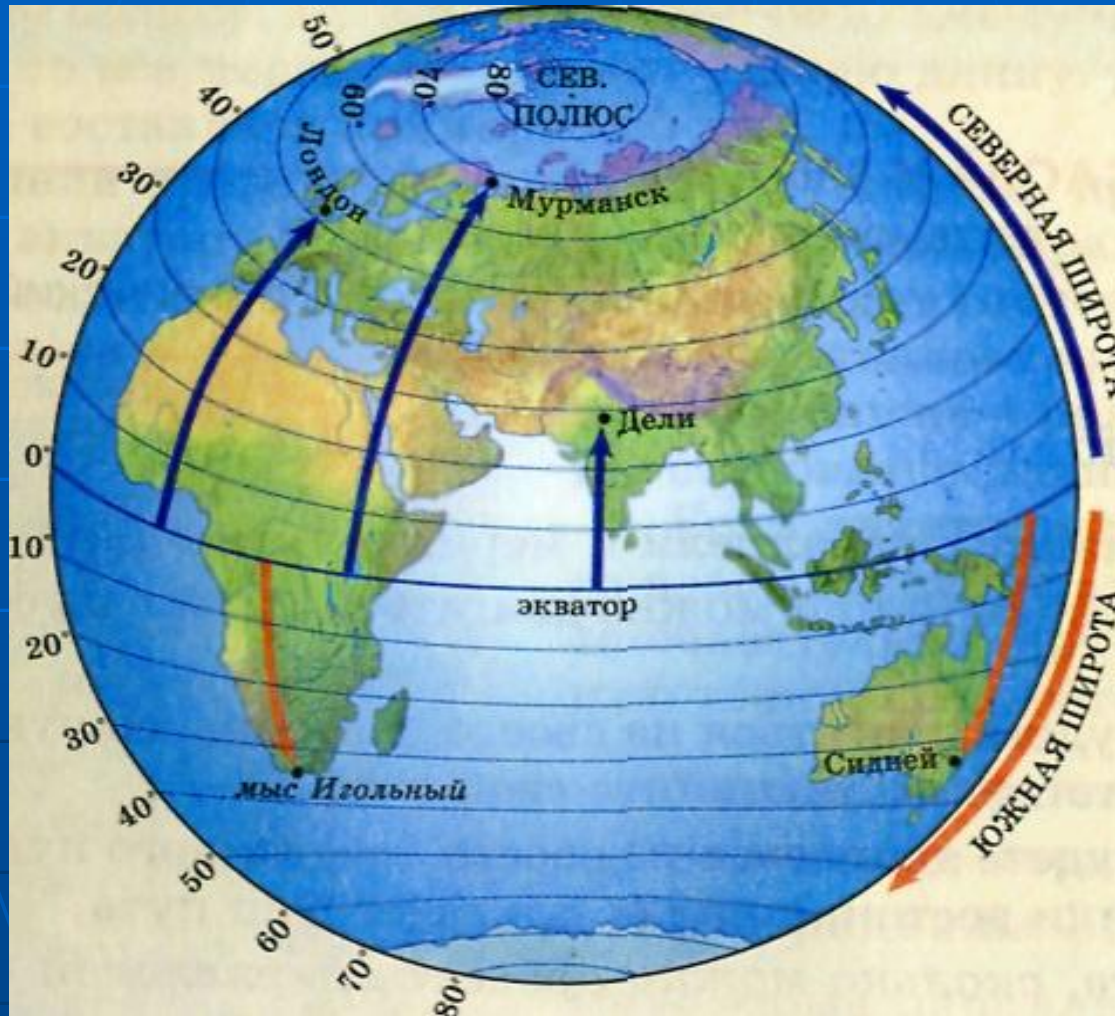
Учитель географии
МОУ СОШ №118
Королева Ю.Г.

Вопросы для повторения

- Параллели это...
- Меридианы это...
- Градусная сеть это...
- Гринвичский меридиан это...

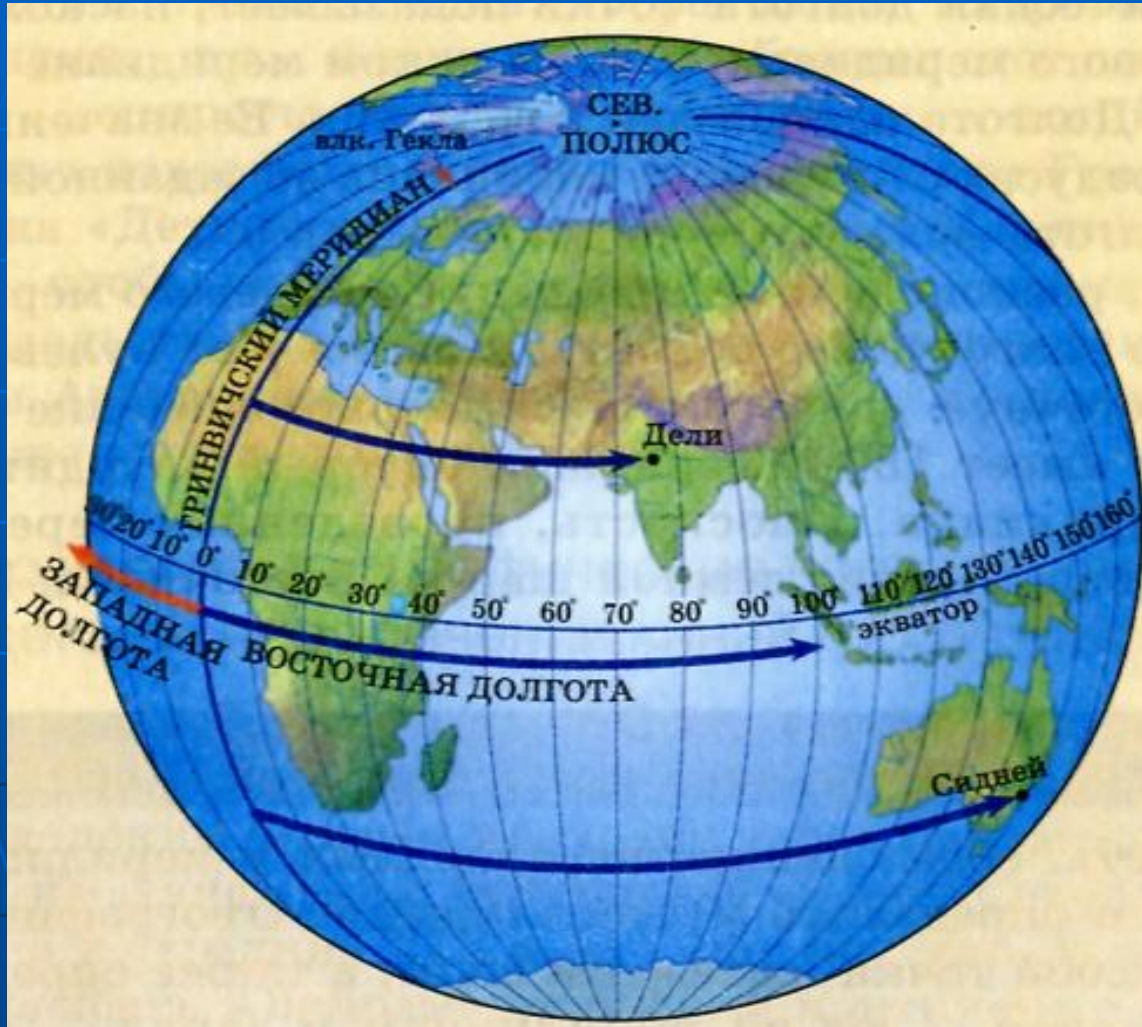
- Из какой точки Земли можно двигать только на север?
- Из какой точки Земли можно двигать только на юг?
- Сколько меридианов и параллелей можно провести через город Челябинск?
- Можно ли сравнить градусную сеть с сетью автодорог?

Географическая широта



- Географическая широта точки показывает, насколько она удалена от экватора, т. е. на какой параллели она находится
- Широта измеряется в градусах. Ее значение равно расстоянию в градусах от экватора до заданной точки.
- Широта экватора равна 0° .

Географическая долгота




- Географическая долгота точки показывает, насколько она удалена от нулевого меридиана. Т. е. на каком меридиане она находится.
- Долгота измеряется в градусах. Ее значение равно расстоянию в градусах от нулевого меридиана до заданной точки по параллели.
- Долгота нулевого меридиана равна 0° .

Какие населенные пункты имеют следующие координаты?

48° с. ш.

2° в. д.

- а) Лондон;
- б) Париж;
- в) Нью-Йорк;
- г) Дели.



Какие населенные пункты имеют следующие координаты?

37° с. ш.

122° з. д.

- а) Мехико;
- б) Вашингтон;
- в) Сан-Франциско;
- г) Пекин.




Какие населенные пункты имеют следующие координаты?

34° ю. ш.

151° в. д.

- а) Сидней;
- б) Кейптаун;
- в) Сантьяго;
- г) Каир.



Какие населенные пункты имеют следующие координаты?

16° ю. ш.

47° з. д.

- а) Рио-де-Жанейро;
- б) Токио;
- в) Тегеран;
- г) Бразилиа.



Какие координаты имеет следующий географический объект?

остров Мадагаскар:

- а) 0° ш.; 115° в. д.;
- б) 5° ю. ш.; 140° в. д.;
- в) 20° ю. ш.; 45° в. д.;



Какие координаты имеет следующий географический объект?

река Амазонка:

- а) 30° ю. ш.; 60° з. д.;
- б) 4° ю. ш.; 60° з. д.;
- в) 30° с. ш.; 90° з. д.



Какие координаты имеет следующий географический объект?

Панамский канал:

- а) 9° с. ш.; 80° з. д.;
- б) 30° с. ш.; 33° в. д.;
- в) 19° с. ш.; 70° з. д.;



Какие координаты имеет следующий географический объект?

горы Гималаи:

- а) 43° с. ш.; 43° в. д.
- б) 30° с. ш.; 80° в. д.
- в) 55° с. ш.; 59° в. д.



Домашнее задание

§ 7, повторить **НОВЫЕ ПОНЯТИЯ**