The background features a vintage-style map of Europe with a compass rose in the upper left corner. The compass rose shows cardinal and ordinal directions (N, NE, E, SE, S, SW, W, NW) and degree markings. The map includes labels for 'CAPE SPAIN' and 'AFRICA'.

Урок 3.  
Географический  
рисунок расселения  
и хозяйства  
зарубежной Европы.



# Заполните пропуски.

1. ЭГП стран зарубежной Европы определяется двумя главными чертами: \_\_\_\_\_ и \_\_\_\_\_.
2. На территории зарубежной Европы расположено \_\_\_\_ суверенных государств.
3. Здесь расположено \_\_\_\_ монархий и \_\_\_\_ федераций.
4. В северной части Европы располагаются \_\_\_\_\_ и \_\_\_\_\_ полезные ископаемые, а в южной части в основном только \_\_\_\_\_.
5. Во многих странах западной Европы наблюдается \_\_\_\_\_ показатель естественного прироста населения.
6. Происходящая «демографическая революция» приводит к резкому \_\_\_\_\_ числа мигрантов.
7. В Европе насчитывается более \_\_\_\_\_ иностранных рабочих.

8. Иностранные рабочие работают в таких отраслях, как \_\_\_\_\_, \_\_\_\_\_, \_\_\_\_\_, .....
9. На территории Европы проживают \_\_\_\_\_ народа, большинство из которых относятся к \_\_\_\_\_ языковой семье.
10. Господствующая религия народов Европы: \_\_\_\_\_.
11. Возрастает численность приверженцев \_\_\_\_\_.
12. Уровень урбанизации составляет \_\_\_\_\_.
13. Самые крупные городские агломерации – \_\_\_\_\_, \_\_\_\_\_, \_\_\_\_\_.
14. В настоящее время набирает темпы отток населения в пригороды, этот процесс называется \_\_\_\_\_.

# Хозяйство региона.

- Экономическую мощь региона определяют 4 страны: ФРГ, Франция, Великобритания, Италия.



# Промышленность.

1. **МАШИНОСТРОЕНИЕ** – ведущая отрасль промышленности Европы, особенно автомобильная.



Франция



ФРГ



ФРГ



Италия



Швеция

енность.


мира —

рти.

в



**Крупнейший узел  
нефтехимии Европы в  
Роттердаме.**



### 3. ТЭК


- Добыча нефти и газа осуществляется в Северном море.
- Сжиженный газ из Алжира поставляется в танкерах.

- Россия  
морю.

- Добыча

- В элек

- На ре



дам и по

е 80)

**ГЭС «Железные ворота»,  
Дунай.**

# 4. Metallurgy

## Black



**Самый большой  
металлургический комбинат  
Европы**

**Франция, Италия, Бельгия,  
Люксембург, Польша, Чехия**

## Color

- Важнейшие отрасли – алюминевая и медная.
- Производство алюминия расположено в странах, располагающих запасами бокситов и в странах, где много электроэнергии.



## 5. Лесная промышленность.

- Главный «лесной цех» региона – Швеция и Финляндия.



# Группы и виды рубок

в соответствии с российским лесным законодательством в 2008 г.

## Заготовка древесины

### Сплошные рубки

**Сплошные рубки**  
с предварительным лесовосстановлением

**Сплошные рубки**  
с последующим лесовосстановлением

### Выборочные и постепенные рубки

**Добровольно-выборочные рубки** - равномерные по площади выборочные рубки интенсивностью до 40%

**Группово-выборочные рубки** - рубка деревьев группами, площадь которых составляет до 0,5 га

**Равномерно-постепенные рубки** - вырубка всего древостоя несколькими приемами равномерно-выборочных рубок

**Группово-постепенные (котловинные) рубки** - вырубка всего древостоя несколькими приемами группово-выборочных рубок

**Чересполосные постепенные рубки** - вырубка древостоя за два-четыре приема чередующимися узкими полосами

**Длительно-постепенные рубки** - двухприемные рубки в разновозрастных древостоях с интенсивностью первого приема до 70% и проведением второго приема через 30-40 лет

**Рубка единичных деревьев** - выборочная рубка без отвода лесосеки

## Уход за лесами

### Уход без заготовки древесины

**Осветления** - уход за молодняками в возрасте обычно до 10 лет

**Прочистки** - уход за молодняками в возрасте обычно от 10 до 20 лет

**Уход за подростом** (для улучшения влияния на почву и древостой)

**Обрезка сучьев** на растущих деревьях (для улучшения качества древесины)

**Химический уход** (регулирование состава с помощью арборицидов)

**Прореживания** - уход за насаждениями в возрасте обычно от 20 до 30-60 лет

**Проходные рубки** - уход за насаждениями в возрасте обычно более 30-60 лет

**Рубки обновления** - уход за насаждениями старших классов возраста (приспевающих и старше)

**Рубки переформирования** уход за насаждениями старших классов возраста (средневозрастных и старше)

**Реконструкция малоценных насаждений** (установленные Правилами ухода требования противоречат Лесному кодексу)

**Формирование ландшафта** - рубки с целью формирования лесопарковых ландшафтов

**Уход за опушками** - рубки с целью формирования устойчивых опушек

### Уход с одновременной заготовкой древесины

## Прочие мероприятия, связанные с рубками

### Санитарные рубки и уборка поврежденной древесины

**Выборочные санитарные рубки** - рубка поврежденных древостоев интенсивностью до 70%

**Сплошные санитарные рубки** - сплошные рубки в погибающих или погибающих насаждениях

### Рубки, связанные со строительством и эксплуатацией различных объектов

**Расчистка участков** под создание лесной или лесоперерабатывающей инфраструктуры

**Расчистка участков** для объектов, не связанных с лесной или лесоперерабатывающей инфраструктурой

**Рубки деревьев** для обеспечения условий эксплуатации и безопасности линейных объектов без предоставления лесных участков

**Расчистка участков** для создания лесных плантаций

Заготовка древесины или расчистка участков в лесах, деятельность в которых не регулируется лесным законодательством, или в лесах с неясным статусом



ЩОСТІ



СЯ К

І В

К И

Лыжи  
Австрия

Чехия



**Рыболовство**  
**Норвегия, Дания, Исландия**  
**Португалия**

•Ита  
•Рво  
оли

ского рад,  
ь.

# 8. Транспорт.



транспортно  
дианально

Ва  
рш  
ава



пе

Бо



Ж

Д

Б



Platner  
Paol



# Задание

- Стр.217, задание 7

## Задание 7.

Пользуясь текстом и рисунками учебника, картами атласа и таблицами 23—28 в «Приложениях», конкретизируйте характеристику одной из отраслей промышленности зарубежной Европы (по выбору). Укажите главные районы и крупнейшие центры или главные бассейны, определите их распределение по странам. По рисункам 25—29 установите, откуда в зарубежную Европу поступают нефть, природный газ, уголь, железная руда, сталь.

# Домашнее задание

- Учебник, стр.183-197
- Задание в тетради